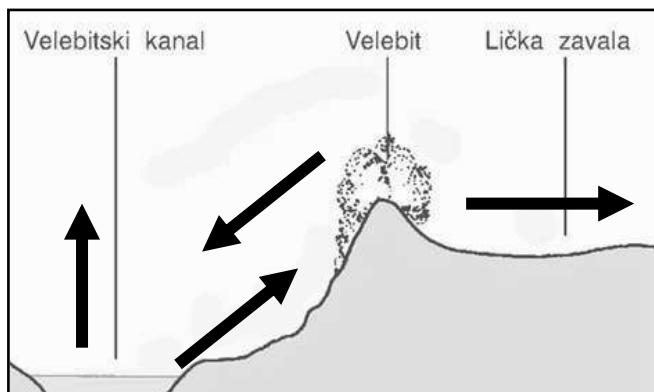


**ŽUPANIJSKO NATJECANJE UČENIKA IZ GEOGRAFIJE 2007. GODINE  
8. RAZRED**

**Zaporka** \_\_\_\_\_ **Bodovi** \_\_\_\_\_

- 2
1. Viteška igra na otoku Korčuli zove se \_\_\_\_\_, a viteška igra u gradu Sinju \_\_\_\_\_.
- 2
2. Vrsta turizma koja se temelji na putovanju i boravku na moru, uz korištenje raznih vrsta plovila (uglavnom jedrilica), naziva se \_\_\_\_\_ turizam.
- 2
3. Naziv procesa kojim se gospodarski razvoj i naseljenost stanovništva premješta na obalu, u Hrvatskoj je to na obalu Jadranskog mora, je \_\_\_\_\_.
- 2
4. Hrvatska jadranska luka kojom se koristi i Bosna i Hercegovina nalazi se u mjestu \_\_\_\_\_, na prostoru \_\_\_\_\_ županije.
- 2
5. Iz kojeg smjera na otvorenom moru puše maestral? \_\_\_\_\_
- 2
6. Na kojem se jadranskom otoku nalazi Dundo, zaštićena šuma hrasta crnike?  
\_\_\_\_\_
- 2
7. Koje se more u europskom dijelu Sredozemlja (između Gibraltara i Bospora) proteže najsjevernije u unutrašnjost Europe? \_\_\_\_\_
- 2
8. Koja vrsta drveća u gorskoj Hrvatskoj je najviše oštećena zbog djelovanja kiselih kiša?  
\_\_\_\_\_
- 2
9. Zbog transgresije se površina Jadranskog mora \_\_\_\_\_ (na liniju upišite *PODIGLA* ili *SPUSTILA*) za približno \_\_\_\_\_ metara.
- 2
10. Na prostoru Dalmatinske \_\_\_\_\_ (na liniju upišite uobičajeni naziv za dalmatinsko zaleđe) zastupljeno je \_\_\_\_\_ stočarstvo.
- 2
11. U Virovitičko-podravskoj županiji preklapaju se utjecaji dviju makroregija. To su \_\_\_\_\_ i \_\_\_\_\_ makroregija.
- 2
12. Tradicionalna tehnika gradnje prikazana na fotografiji naziva se \_\_\_\_\_.
- 2
13. Na priloženoj skici zaokruži strelicu koja pokazuje smjer puhanja bure.



3

14. Zaokružite slova ispred područja u Hrvatskoj koja su danas značajna za razvoj marikulture.

- a) Plitvička jezera  
b) Linski kanal  
c) Ribnjak Gračanica  
d) Malostonski zaljev  
e) Brijuni

3

15. Među navodima o hrvatskim makroregionalnim središtima zaokružite slova ispred onih tvrdnji koje su ispravne.

- a) Zagreb ima više stanovnika od ostala tri makroregionalna središta zajedno.  
b) U makroregionalnim središtima živi više od polovice stanovništva Hrvatske.  
c) Sva četiri makroregionalna središta su smještena pored rijeka.  
d) U gorskoj Hrvatskoj nema makroregionalnih središta.

2

16. Kad u Gradu Zagrebu roditelji za prvorodeno dijete dobivaju 6000 kuna to je:

- a) antinatalitetna politika  
b) depopulacija  
c) pronatalitetna politika  
d) demografska tranzicija

3

17. Zaokružite slova ispred naselja (pristaništa) koja se ne nalaze na rijeci Savi.

- a) Slavonski Šamac  
b) Jasenovac  
c) Županja  
d) Donji Miholjac  
e) Požega  
f) Slatina

3

18. Među navedenim županijama zaokružite slova ispred onih koje graniče s Bosnom i Hercegovinom.

- a) Ličko-senjska  
b) Primorsko-goranska  
c) Sisačko-moslavačka  
d) Virovitičko-podravska  
e) Zadarska  
f) Zagrebačka

2

19. Zaokružite slova ispred tradicionalnih jela primorske Hrvatske.

- a) čobanac  
b) štrukli  
c) brudet  
d) buzara

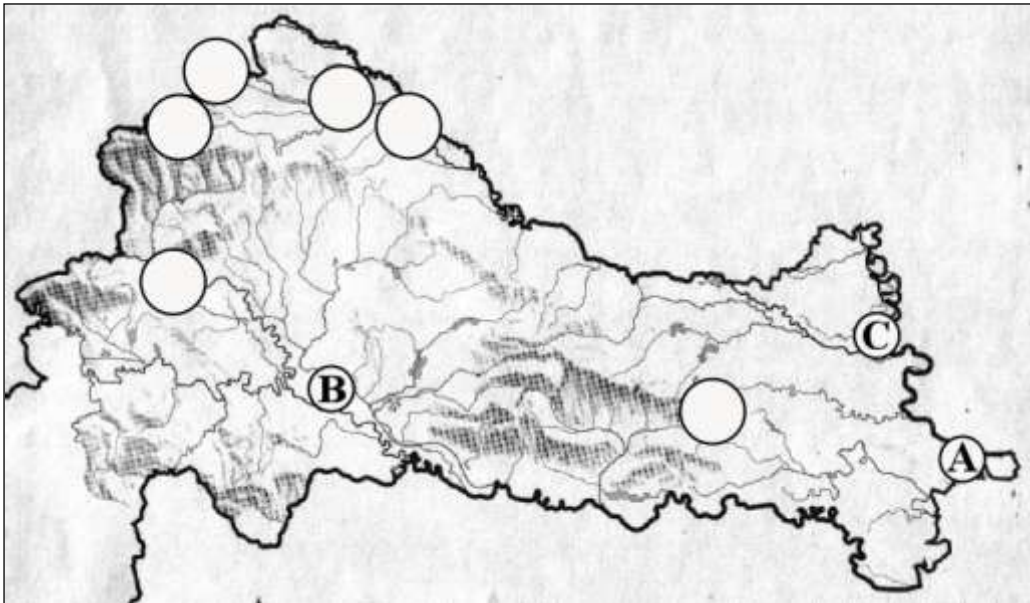
3

20. Na karti svijeta kontinente na koje su se iseljavali Hrvati obilježite zadanim slovima.

- Slovom A obilježite kontinent na kome živi najviše iseljenih Hrvata.
- Slovom B obilježite kontinent s najmanjim brojem iseljenih Hrvata.
- Slovom C obilježite kontinent na čijem se južnom dijelu smjestila iseljenička zajednica koja broji oko 10 000 članova.



SLJEDEĆE ZADATKE RIJEŠITE NA KARTI NIZINSKE HRVATSKE



3

21. Na gornjoj karti su slovima obilježeni neki položi i lesne zaravni nizinske Hrvatske.

Upišite njihova imena na donje linije.

A \_\_\_\_\_

B \_\_\_\_\_

C \_\_\_\_\_

3

22. Brojeve ispred naziva jezera nizinske Hrvatske upišite u pripadajuće krugove na gornjoj karti.

1 - Dubravsko jezero

2 - Borovik

3 - Trakošćansko jezero

SLJEDEĆE ZADATKE RIJEŠITE NA KARTI PRIMORSKE HRVATSKE

2

23. Brojeve ispred naziva nacionalnih parkova primorske Hrvatske upišite u pripadajuće krugove na karti.

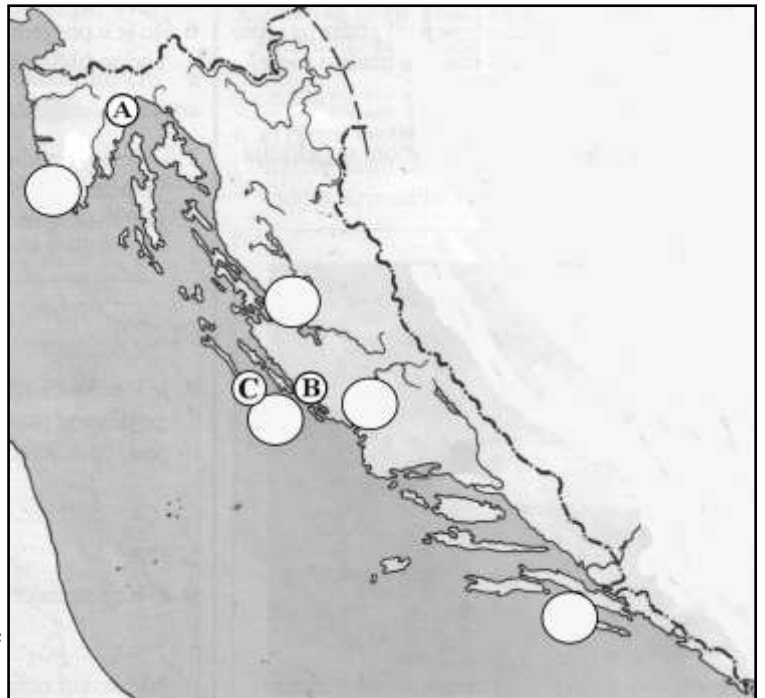
1 - Mljet    2 - Paklenica    3 - Brijuni

2

24. Zaokružite ušća dviju rijeka koje završavaju rijasima. Upišite pored oznaka i imena tih rijeka.

3

25. Na karti su slovima obilježeni neki parkovi prirode primorske Hrvatske. Upišite njihova imena na donje linije.



A \_\_\_\_\_ B \_\_\_\_\_ C \_\_\_\_\_

3

26. Ispod slika upišite nazive kulturnih znamenitosti primorske Hrvatske i zaokružite sliku one znamenitosti koja je uvrštena u svjetsku kulturnu baštinu UNESCO-a.



\_\_\_\_\_

\_\_\_\_\_

\_\_\_\_\_

2

27. Koliko ćemo soli dobiti iz 6 litara Jadranskog mora prosječne slanoće?

\_\_\_\_\_

PROSTOR ZA RAČUNANJE

2

28. Udaljenost između škola u novozagrebačkim naseljima Dugave i Travno iznosi 900 metara. Izmjerena na planu Zagreba ona iznosi 72 milimetra. U kojem je mjerilu izrađen plan?

Plan je izrađen u mjerilu \_\_\_\_\_

PROSTOR ZA RAČUNANJE

2

29. Pored mjerila topografskih karata upišite ekvidistancu na njima.

a) 1:200 000 Ekvidistanca je \_\_\_\_\_ metara.

b) 1:100 000 Ekvidistanca je \_\_\_\_\_ metara.

c) 1: 50 000 Ekvidistanca je \_\_\_\_\_ metara.

3

30. Pored imena uvjetno-homogenih regija upišite imena njihovih najviših vrhova.

a) primorska Hrvatska \_\_\_\_\_

b) nizinska Hrvatska \_\_\_\_\_

c) gorska Hrvatska (bez Velebita) \_\_\_\_\_