

**ŠKOLSKO/OPĆINSKO-GRADSKO NATJECANJE UČENIKA IZ GEOGRAFIJE 2008. GODINE  
7. RAZRED**

Zaporka \_\_\_\_\_

Bodovi \_\_\_\_\_

2 | 1. Europa se najvećim dijelom nalazi u \_\_\_\_\_ toplinskom pojasu,  
a samo manjim dijelom u \_\_\_\_\_ toplinskom pojasu.

2 | 2. Najjužnija i najzapadnija kopnena točka Europa nalaze se na \_\_\_\_\_  
poluotoku.

3 | 3. Na crte upiši navedene mlade planine i stara gorja Europe prema starosti: Apenini, Betijski  
Kordiljeri, Karpati, Rodopi, Stara Planina i Ural

stara gorja: \_\_\_\_\_

mlade planine: \_\_\_\_\_

*Sljedeće zadatke riješite uz pomoć geografske karte:*

3 | 4. U kvadrate koji su smješteni u  
Barentsovo more upiši slovo B, u Norveško  
more N i u Sjeverno more S.

2 | 5. Koje je more označeno slovom M?  
\_\_\_\_\_ more

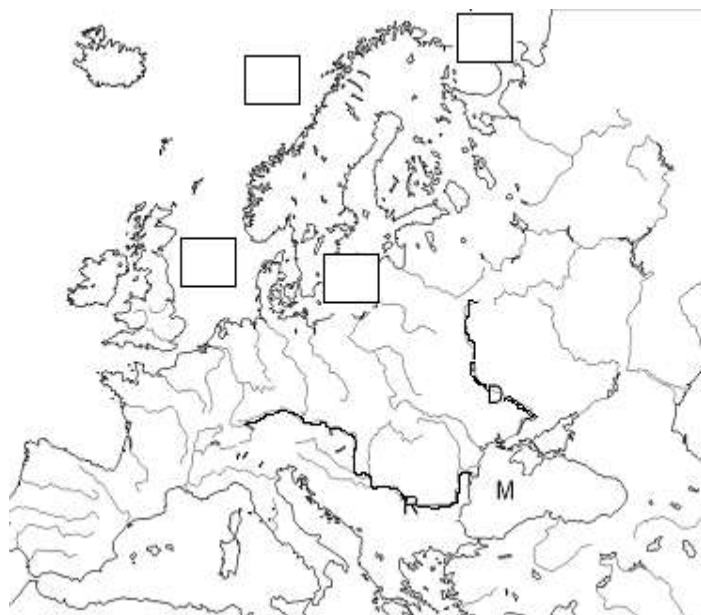
3 | 6. Slovom D je označena rijeka  
\_\_\_\_\_, a slovom R  
rijeka \_\_\_\_\_

2 | 7. Slovom E označi more čijem slijevu  
pripada rijeka Visla.

2 | 8. Koji je zajednički naziv za gospodarsku zajednicu Nizozemske, Belgije i Luksemburga?  
\_\_\_\_\_

2 | 9. Proces rasta i razvoja gradova i povećanja udjela gradskog stanovništva i širenje gradskog načina  
života naziva se \_\_\_\_\_

2 | 10. Kojoj religiji pripada većina stanovnika Europe? \_\_\_\_\_

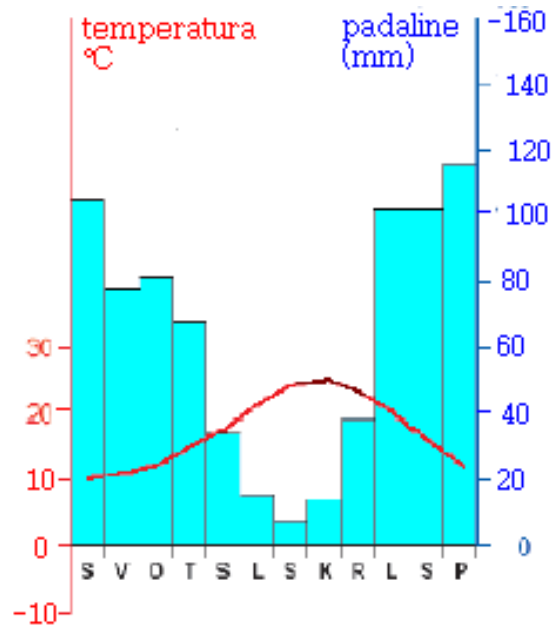


Sljedeća tri zadatka riješi pomoću klimatskog dijagrama desno:

2  11. Koji je tip klime prikazan na klimatskom dijagramu? \_\_\_\_\_

2  12. Na prikazanom klimatskom dijagramu mjesec s najvećom količinom padalina je \_\_\_\_\_, a mjesec s najmanjom količinom padalina je \_\_\_\_\_.

2  13. Biljni pokrov koji je najrašireniji u klimi koja je prikazana na klimatskom dijagramu je (zaokruži točan odgovor):  
 a) tundra    b) stepa    c) makija    d) savana

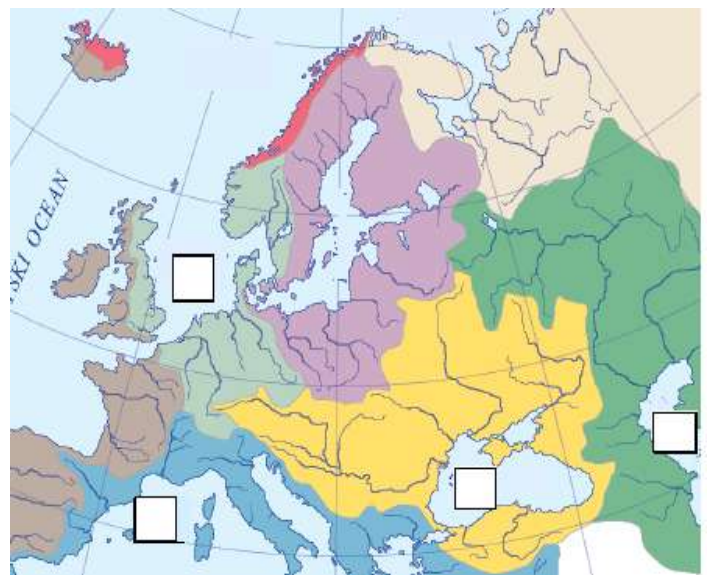


Sljedeća tri zadatka riješi uz pomoć karte desno:

2  14. Upiši na karti slovo G u kvadratić koji se nalazi na moru u koje se ulijeva rijeka Dnjestar, a slovo R u kvadratić koji se nalazi na moru u koje se ulijeva rijeka Rajna.

2  15. Upiši na karti slovo P u kvadratić koji se nalazi na moru u koje se ulijeva rijeka Rhona, a to je slijev \_\_\_\_\_ mora.

2  16. Upiši slovo K u kvadratić koji se nalazi na jezeru u koje se ulijeva rijeka Ural, a naziv jezera je \_\_\_\_\_.



U sljedećim zadacima samo je jedan točan odgovor. Zaokruži slovo ispred točnog odgovora.

2  17. Ruska ploča (platforma) i Baltički štit s obzirom na starost reljefa su dio  
 a) Mlade Europe    b) Prastare Europe    c) Stare Europe

2  18. Grana geografije koja proučava stanovništvo naziva se  
 a) demogeografija    b) politička geografija    c) geografija stanovništva    d) društvena geografija

2  19. Koji od navedenih morskih prolaza **ne dijeli** Europu od Azije ili Afrike ?  
 a) Bospor    b) Gibraltarska vrata    c) Dardaneli    d) Kattegat

2 20. Koji od navedenih jezika **nije** službeni u Luksemburgu?

- a) francuski                      b) njemački                      c) flamanski                      d) letzeburški

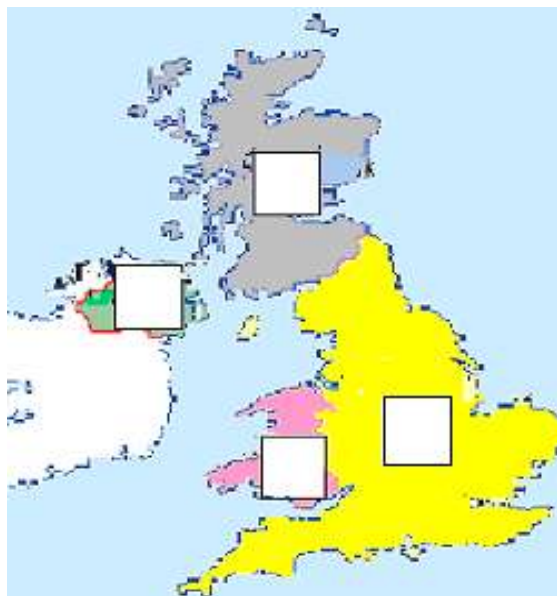
3 21. Razvrstaj navedene jezike u njihove jezične skupine: hrvatski, bugarski, talijanski, švedski, ruski, katalonski, engleski, slovenski

germanska skupina jezika: \_\_\_\_\_

romanska skupina jezika: \_\_\_\_\_

slavenska skupina jezika: \_\_\_\_\_

2 22. Upišite slovo I u kvadratić politički donedavno nemirne pokrajine Ujedinjenog Kraljevstva gdje su se politički sukobljavali irski republikanci (katolici) i britanski lojalisti (protestanti), a to je \_\_\_\_\_ (naziv pokrajine).



3 23. Upišite na karti slovo S u kvadratić pokrajine Ujedinjenog Kraljevstva čije su obilježje kiltovi, slovo C kod pokrajine čiji je glavni grad Cardiff, a slovo B kod najrazvijenije i najgušće naseljene pokrajine Ujedinjenog Kraljevstva.

3 24. Prepoznaj sa slika dva glavna zapadnoeuropska grada i navedi ispod svake slike naziv grada i države čiji su glavni gradovi.



Grad

\_\_\_\_\_

Država

\_\_\_\_\_



Grad

\_\_\_\_\_

Država

\_\_\_\_\_

\_\_\_\_\_

\_\_\_\_\_

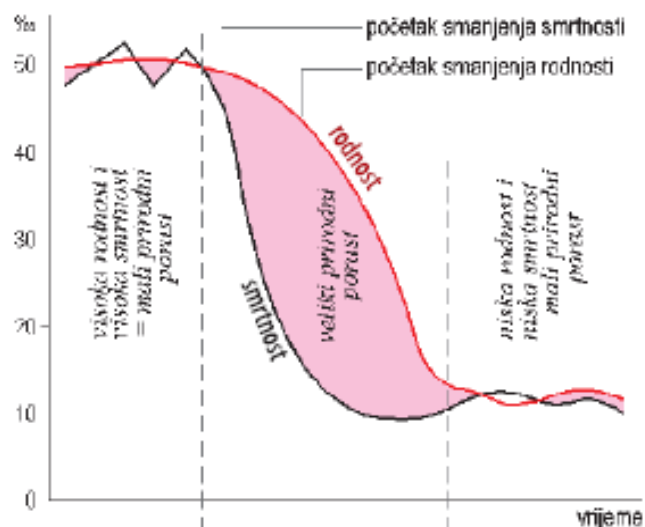
3 25. Poveži obilježja s državama upisivanjem odgovarajućeg slova na crte

- |                           |                                    |
|---------------------------|------------------------------------|
| A) Ujedinjeno Kraljevstvo | _____ polderi                      |
| B) Italija                | _____ prva industrijska revolucija |
| C) Nizozemska             | _____ brojni fjordovi              |
| D) Norveška               | _____ Etna, Vezuv, Stromboli       |

3 26. Koji je proces prikazan desno na grafikonu?

\_\_\_\_\_

\_\_\_\_\_



2 27. Razliku između srednje mjesečne temperature najtoplijeg i najhladnijeg mjeseca u godini prikazuje temperaturna \_\_\_\_\_.

3 28. Na crte **upiši** nazive država i **zaokruži** slovo ispod one koja provodi proces decentralizacije – proces za ravnomjerniji razvoj svih dijelova države.



A



B



C

Država: \_\_\_\_\_

3 29. Na karti desno slovom Z označen je \_\_\_\_\_ zaljev, a slovom J jezero \_\_\_\_\_.



2 30. Biljni pokrov raširen u području gdje je upisano slovo F je (zaokruži slovo ispred točnog odgovora)

- a) tundra (mahovina i lišajevi)
- b) tajga (zimzelena-crnogorična šuma)
- c) stepa (niske trave)
- d) travnjaci i pašnjaci