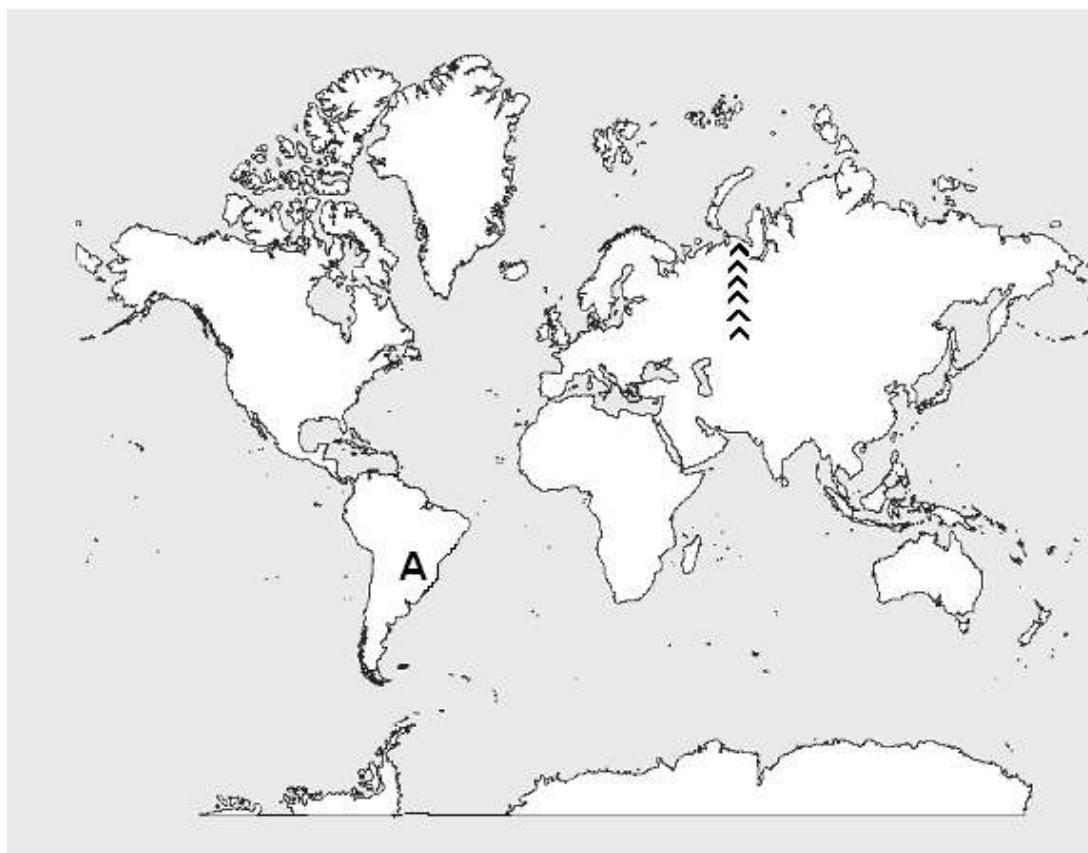


**ŽUPANIJSKO NATJECANJE UČENIKA IZ GEOGRAFIJE 2007. GODINE  
6. RAZRED**

Zaporka \_\_\_\_\_ Bodovi \_\_\_\_\_

**SLJEDEĆA TRI PITANJA RIJEŠITE UZ POMOĆ PRILOŽENOG CRTEŽA  
SVIJETA!**



3	
---	--

1. Označite **tri** kontinenta najveće prosječne gustoće naseljenosti brojevima od **1** do **3** (**1 najveće do 3 najmanje**).

2	
---	--

2. Znakom **X** označite kontinent koji je u cijelosti visokorazvijen, s visokim dohotkom po stanovniku u jednoj godini (**BDP višim od 10 000 \$**).

2	
---	--

3. Na kontinentu označenim slovom **A**, najrasprostranjenija su dva jezika: \_\_\_\_\_ jezik i \_\_\_\_\_ jezik

2	
---	--

4. **EU** (Europska unija) je gospodarska zajednica koja okuplja \_\_\_\_\_ (upiši broj članica danas tj. 2007. godine) zemalja.

3

5. Hrvatska je 2001. godine imala rodnoš 9,2 promila (‰) i smrtnoš 11,2 promila (‰).

To znači da je Hrvatska imala prirodni \_\_\_\_\_ od \_\_\_\_\_ promila (‰).

2

6. Engleska kratica NATO se na hrvatskom jeziku prevodi kao:

\_\_\_\_\_.

3

7. Povežite parove tako da svakom reljefnom obliku pridružite odgovarajuće slovo i broj:

_____ pustinje	A- Kven Lun	1-Thar
_____ mlade planine	B-Altaj	2-Punjab
_____ plodne nizine	C-Mandžurija	3-Tian Šan
_____ stara gorja	D-Takla Makan	4-Ural

U sljedeća tri pitanja precrtajte netočne tvrdnje:

2

8. Euroazijske države su: *Turska, Iran, Rusija, Izrael.*

2

9. Otoke Sumatru i Javu razdvaja:

*Malajski prolaz, Formoški prolaz, Sundski prolaz, Hormuški prolaz*

2

10. Mt. Everest, najviši planinski vrh na Zemlji, nalazi se u graničnom području države

Nepal s državom: *Indijom, Butanom, Kinom, Pakistanom, Bangladešom*

3

11. Prirodnu granicu između Azije i Europe čine i morski prolazi \_\_\_\_\_

i \_\_\_\_\_, a između njih se nalazi \_\_\_\_\_ more.

3

12. Povežite parove tako da svakoj klimi pridružite odgovarajuće slovo i broj:

_____ snježno-šumska klima	A-vadi	1-neprohodne šume
_____ polarna klima	B-tajga	2-mahovine i lišajevi
_____ pustinjska klima	C-tundra	3-crnogorična šuma
_____ monsunska klima	D-džungla	4-suhe doline s povremenim bujicama

2

13. Izdvoji velike azijske morske luke (**zaokruži slovo**):

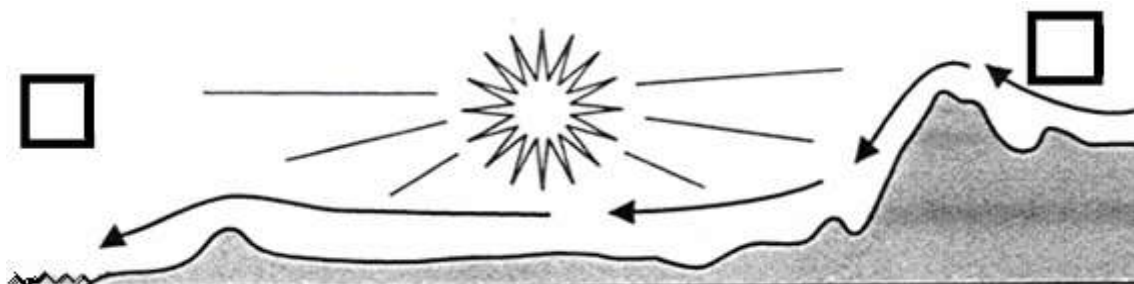
a) Singapur, b) Peking, c) Šangaj, d) New Delhi, e) Mumbai, f) Bagdad

2

14. Koja su dva naziva za pješčani žučkasti materijal, nataložen radom vjetra u Velikoj kineskoj nizini: a) prapor, b) erg, c) jurta, d) čador, e) šot, f) les

2

15. U kvadratiće na karti upišite slova: slovo V za područje visokog tlaka zraka i slovo N za područje niskog tlaka zraka.



3	
---	--

16. Povežite parove (navedenim morima i jezerima pridružite odgovarajuće slovo i broj):

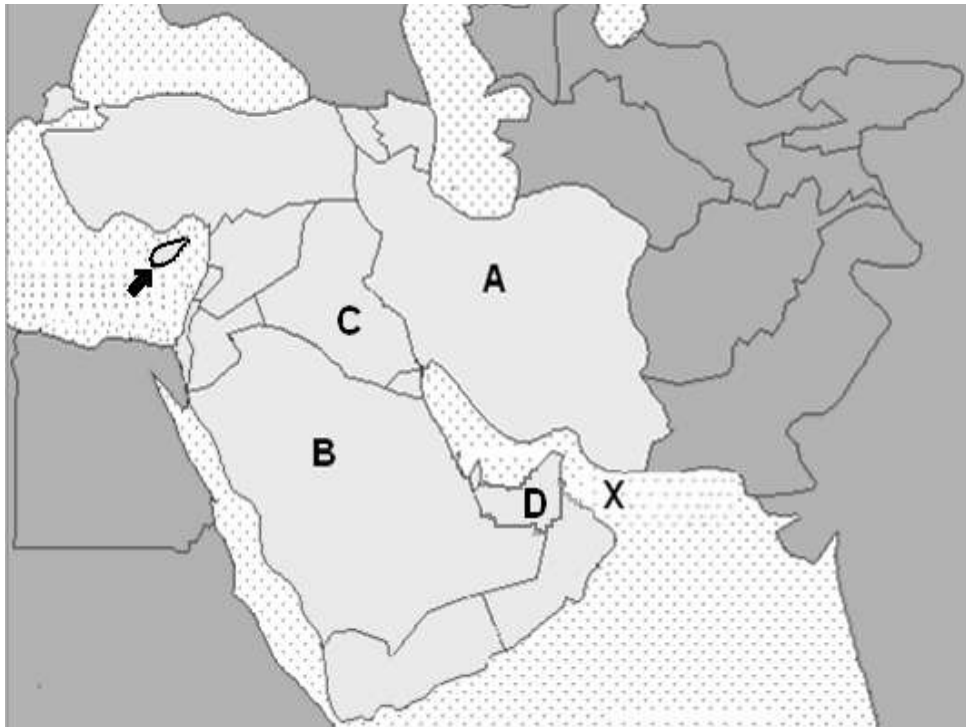
- |                            |                     |                              |
|----------------------------|---------------------|------------------------------|
| _____ Južno kinesko more   | <b>A</b> -Amu Darja | <b>1</b> -ušće u Vijetnamu   |
| _____ Istočno kinesko more | <b>B</b> -Yangtze   | <b>2</b> -ušće u Kazahstanu  |
| _____ Aralsko jezero       | <b>C</b> -Mekong    | <b>3</b> -ušće u Uzbekistanu |
| _____ Kaspijsko jezero     | <b>D</b> -Ural      | <b>4</b> -ušće u Kini        |

3	
---	--

17. Poredajte četiri najveća japanska otoka prema veličini, **od najmanjeg prema**

- najvećem:**
- 1** \_\_\_\_\_
- 2** \_\_\_\_\_
- 3** \_\_\_\_\_
- 4** \_\_\_\_\_

**SLJEDEĆA TRI PITANJA RIJEŠITE UZ POMOĆ PRILOŽENOG CRTEŽA  
JUGOZAPADNE AZIJE**



2	
---	--

18. Strelicom je označen otok \_\_\_\_\_ u \_\_\_\_\_ moru.

3	
---	--

19. Slovim **A, B, C i D** označene se države, veliki svjetski izvoznici nafte:

- A** \_\_\_\_\_ **B** \_\_\_\_\_
- C** \_\_\_\_\_ **D** \_\_\_\_\_

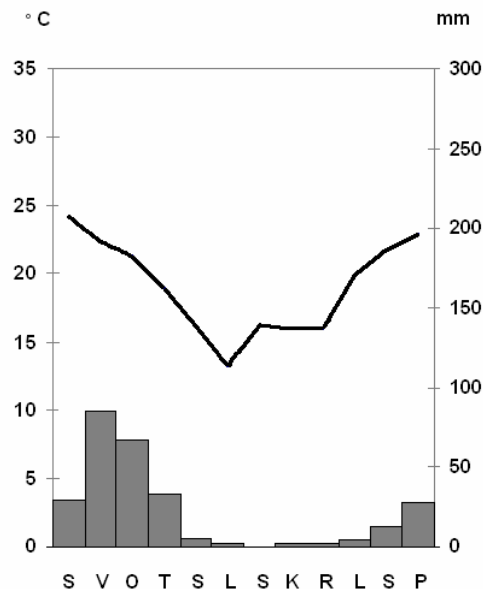
2	
---	--

20. Znakom **X** označen je \_\_\_\_\_ zaljev.

2	
---	--

21. Afrika je smještena na sve četiri polutke, a najvećim dijelom svoje površine smještena je na \_\_\_\_\_ i \_\_\_\_\_ polutki.

22. Koji tip klime u južnoj Africi prikazuje klimatski dijagram: a) pustinjsku b) savansku c) stepsku d) prašumsku



23. Na klimadijagramu mjesec s najviše padalina je \_\_\_\_\_, a mjesec s najnižom temperaturom je \_\_\_\_\_.

**SLJEDEĆA ČETIRI PITANJA RIJEŠITE UZ POMOĆ KARTE AFRIKE!**

24. Slova **A** i **B** označena su vulkanska gorja u Sahari. To su:  
**A** \_\_\_\_\_  
**B** \_\_\_\_\_

25. Znakom **X** označeno je etiopsko jezero \_\_\_\_\_, iz kojeg izvire \_\_\_\_\_ Nil.

26. Brojkom **1** označeno je najdublje afričko jezero \_\_\_\_\_

27. Kosim **crticama** označena je afrička pustinja \_\_\_\_\_



28. Povežite parove tako da afričkom državama pridružite odgovarajuće slovo i broj:
- |                 |                      |                            |
|-----------------|----------------------|----------------------------|
| _____ Egipat    | <b>A</b> -Serengeti  | <b>1</b> -antičke ruševine |
| _____ Tunis     | <b>B</b> -Giza       | <b>2</b> -safari turizam   |
| _____ Tanzanija | <b>C</b> -Kartaga    | <b>3</b> -turizam gradova  |
| _____ Maroko    | <b>D</b> -Casablanca | <b>4</b> -piramide         |

29. Na sjeveru Afrike najrasprostranjeniji jezik je \_\_\_\_\_, a južno od pustinje Sahare, jezik \_\_\_\_\_.

30. Izdvojite afričke izvozne poljoprivredne proizvode: a) kakao, b) manioka, c) batata, d) proso, e) kava, f) pamuk