

2

9. Pored zastava međunarodnih organizacija u kojima je Hrvatska članica upiši njihove pune nazive (Ne kratice!).

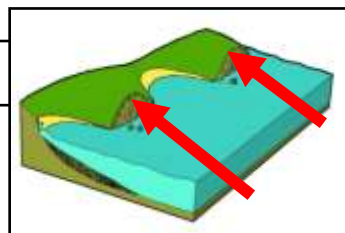




2

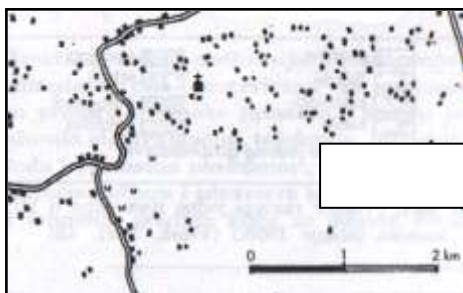
10. Kako se zovu reljefno-hidrološki oblici koji su na skicama označeni strelicama?





2

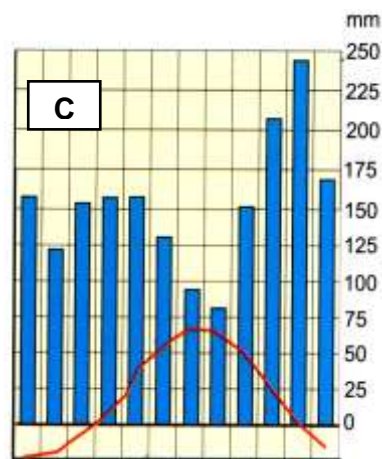
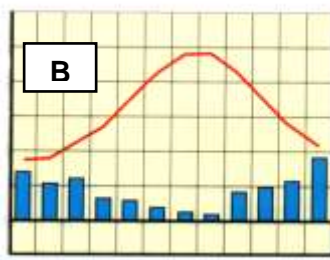
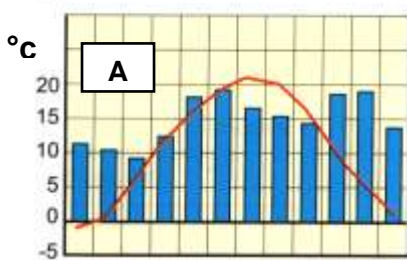
11. Pored skica karakterističnih tipova seoskih naselja gorske Hrvatske upiši njihove nazive.





2

12. Zaokruži slovo uz klima dijagram koji prikazuje klimu koja vlada u nizinskoj Hrvatskoj. Prema Köppenovoj klasifikaciji to je _____ klima.



2

13. Da bismo uspješno koristili GPS uređaj i odredili svoje stajalište, naš prijammnik mora locirati signale s najmanje _____ (upiši broj) satelita.

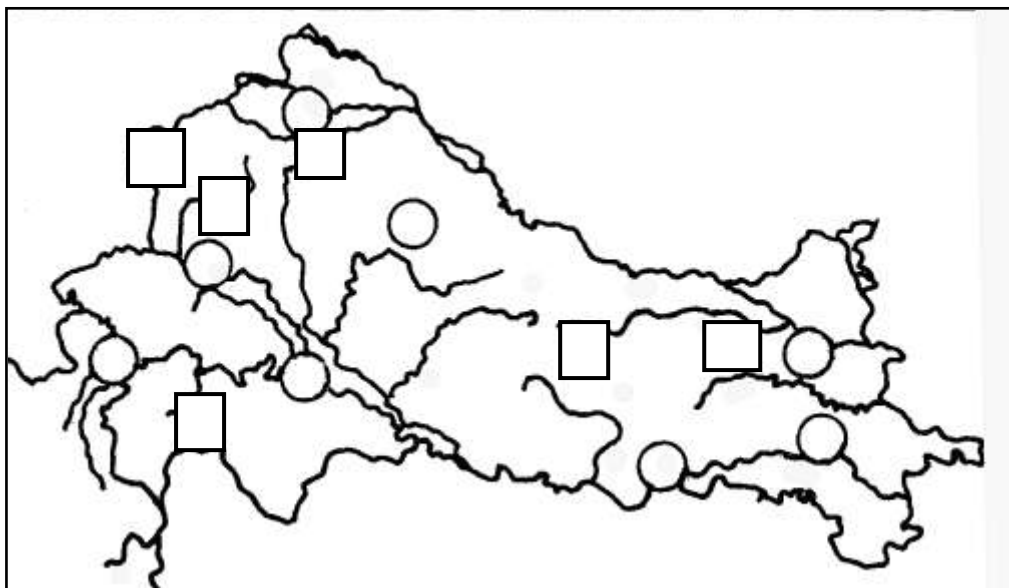
2

14. Brijuni su proglašeni nacionalnim parkom zbog očuvanih šuma _____ (upiši vrstu šume).

2

15. Vodonepropusni sedimenti u prostorima Konavala i Vinodola koji omogućuju uzgoj poljoprivrednih kultura nazivaju se _____, a plodno tlo u istočnoj Hrvatskoj bogato humusom zove se _____.

SLJEDEĆE ZADATKE RIJEŠI NA KARTI NIZINSKE HRVATSKE.



3

16. U kvadrate na gornjoj karti upiši brojeve kojima su obilježene toplice.

- 1 - Bizovačke toplice
2 - toplice Topusko

- 3 - Stubičke toplice
4 - Tuheljske toplice

3

17. Slova kojima su obilježene tvornice nizinske Hrvatske upiši u krugove pripadajućih gradova koji su makroregionalna i regionalna središta.

- A - Vindija
B - Saponia

- C - Đuro Đaković
D - Sirela

3

18. Pored umjetnih jezera dopiši imena rijeka na kojima su izrađena!

- a) Peručko jezero - _____
b) Dubravsko jezero - _____
c) Krušćičko jezero - _____

3

19. Pored marijanskih svetišta upiši ime uvjetno-homogene regije u kojoj se nalaze (upišite *gorska, nizinska ili primorska*).

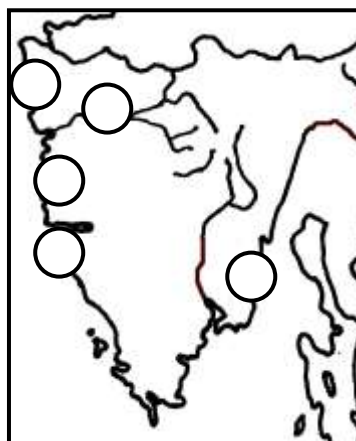
- a) Gerovo _____
b) Marija Bistrica _____
c) Aljmaš _____

- d) Krasno _____
e) Remete _____
f) Trsat _____

2

20. Poredaj planine i gore od sjevera prema jugu tako da kod najsjevernije upišeš broj 1 i tako dalje redom do najjužnije pored koje ćeš upisati broj 5.

- _____ Medvednica
_____ Ivanščica
_____ Snježnica
_____ Mosor
_____ Velebit



2

21. Na karti Istre obilježi brojevima zadana turistička središta.

- 1 - UMAG 2 - RABAC 3 - POREČ
4 - ROVINJ 5 - MOTOVUN

2

22. S vrha Medvednice se vrh Ivanščice vidi pod azimutom od 5° . Koliki je azimut pod kojim se s vrha Ivanščice vidi vrh Medvednice?

Azimut iznosi _____ stupnjeva.

2

23. Izračunaj visinsku razliku između najdublje točke Jadranskog mora i najvišeg vrha u Hrvatskoj.

Visinska razlika iznosi _____ metara.

SLJEDEĆE ZADATKE RIJEŠI
NA KARTI GORSKE HRVATSKE.

3

24. Zaokruži krug koji predstavlja grad s najviše stanovnika u gorskoj Hrvatskoj, a prekrizi krug grada u gorskoj Hrvatskoj koji se nalazi na najvećoj nadmorskoj visini.

3

25. Slova ispred naziva ili opisa najvažnijih prometnica koje prolaze prostorom gorske Hrvatske upiši u pripadajuće kvadrate na karti.

A - autocesta A1 C - Lička magistrala
B - autocesta A6 D - Jozefinska cesta

3

26. Na karti su najvažnija naselja gorske Hrvatske obilježena krugovima. Brojeve ispred naziva krških fenomena upiši u krugove koji predstavljaju naselja u čijoj se blizini ti fenomeni nalaze.

1 - Đulin ponor 3 - špilja Vrelo
2 - Cerovačke pećine 4 - Vriila Gacke

2

27. Slova ispred navedenih obilježja pridruži gradovima.

A - STARI GRAD (na novčanici od 5 kuna)	B - ERGELA LIPICANACA	C - JARUN
D - ZNAMENITO BAROKNO GROBLJE	E - CRKVA SV. MARKA	F - TVRĐA
G - KUPALIŠTE KOPAKABANA	H - "(..K...Č..) VEZOVI"	I - "ŠPANCIR FEST"
J - "STROSSMAYEROV" GRAD	K - LUKA NA DRAVI	L - "FLORA ART"

Varaždin _____ Zagreb _____

Đakovo _____ Osijek _____

2

28. U poljoprivrednoj proizvodnji nizinske Hrvatske značajan je uzgoj industrijskog bilja. Među navedenim kulturama zaokruži slova ispred onih koje ubrajamo u industrijsko bilje.

a) kupus	c) suncokret	e) lucerna
b) šećerna repa	d) pšenica	f) krumpir

2

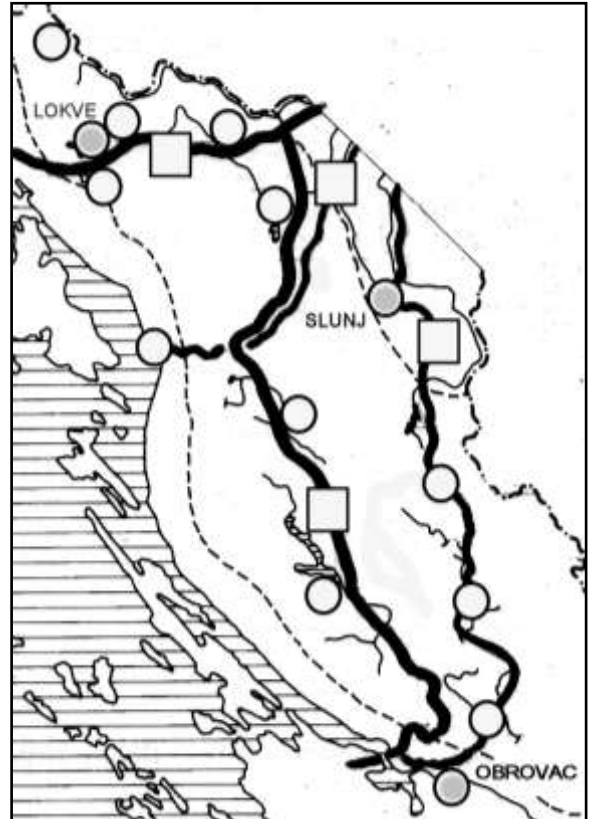
29. Zaokruži slova ispred obilježja temperaturne inverzije **u gorskoj Hrvatskoj**.

a) Gospić je topliji od Zavižana.	c) Česte su magle.
b) Sljeme je toplije od Zagreba.	d) Inverzija je češća zimi nego ljeti.

2

30. Sva naselja u Hrvatskoj imaju _____ geografsku širinu i _____ geografsku dužinu.

PROSTOR ZA RAČUNANJE

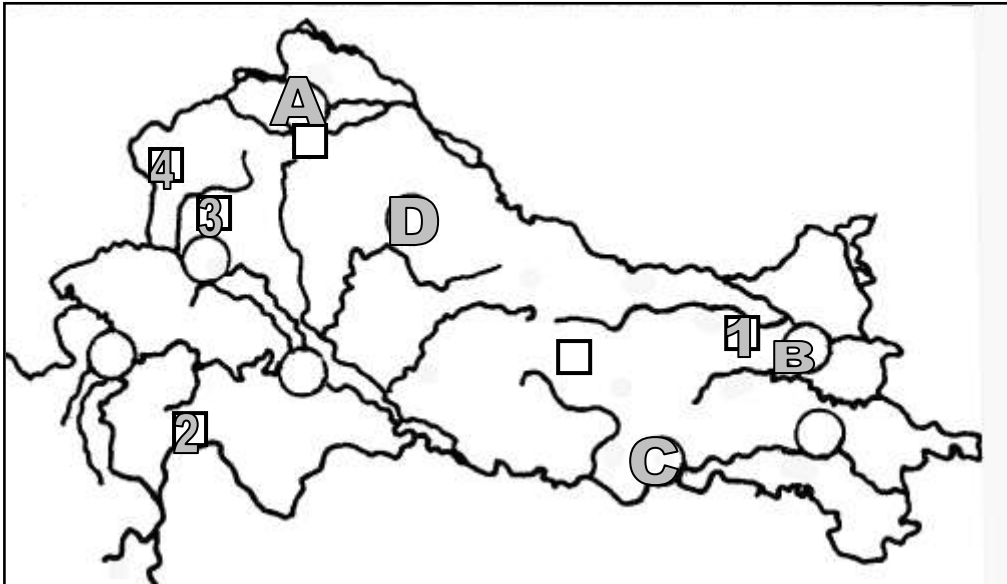


DRŽAVNO NATJECANJE UČENIKA IZ GEOGRAFIJE 2007. GODINE

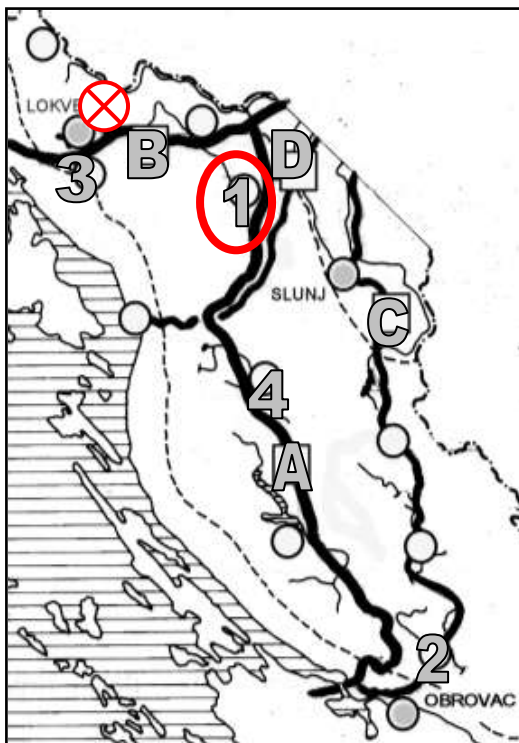
RJEŠENJE TESTA ZA 8. RAZRED

ZADATAK	BODOVI	RJEŠENJE
1.	3	"Nacionalni park Plitvička jezera nalazi se na prostoru Ličko-senjske županije. Osnovni fenomen parka je niz od 16 jezera od kojih je najveće jezero Kozjak. Osim jezera nacionalni park obuhvaća i prostor okolnih šuma. Golubinjak , gusta i stara šuma koja se nalazi u sklopu parka, zaštićena je kao specijalni rezervat šumske vegetacije. Jezera su međusobno odvojena sedrenim pregradama (barijerama), a iz posljednjeg jezera, koje se zove Novakovića Brod, ističe rijeka Mrežnica . Sedra je šupljikava stijena koja nastaje taloženjem kalcijevog karbonata na živoj i neživoj tvari u vodi. U tome procesu sudjeluju sedrotvorne alge, gljive i mahovine."
2.	2	a
3.	2	b
4.	2	b, c, d
5.	3	a, b, c
6.	2	c
7.	3	e, f
8.	2	a, c, d
9.	2	LIJEVA SLIKA - Međunarodni olimpijski odbor (Međunarodni olimpijski komitet, Međunarodna olimpijska organizacija) DESNA SLIKA - Ujedinjeni narodi (Organizacija ujedinjenih naroda),
10.	2	LIJEVA SLIKA - meandar DESNA SLIKA - klifovi (klif, strmec, abrazijski strmec)
11.	2	LIJEVA SLIKA - raštrkana (naselja) DESNA SLIKA - izdužena (nizna) (naselja)
12.	2	TREBA ZAOKRUŽITI SLOVO A umjereno topla (umjereno topla s toplim ljetom, umjereno topla vlažna, umjereno topla vlažna s toplim ljetom)
13.	2	4 (četiri)
14.	2	hrasta crnike (crnike, česmine)
15.	2	fliš, crnica
16.	3	VIDI KARTU
17.	3	VIDI KARTU
18.	3	a) Cetina, b) Drava, c) Lika
19.	3	a) gorska, b) nizinska, c) nizinska, d) gorska, e) nizinska, f) primorska
20.	2	2, 1, 5, 4, 3
21.	2	VIDI SLIKU
22.	2	185 (°, stupnjeva)
23.	2	3064 (metra) (1233 + 1831!)
24.	3	VIDI SLIKU
25.	3	VIDI SLIKU
26.	3	VIDI SLIKU
27.	2	RJEŠENJE JE DANO U TABLICI
28.	2	b, c, e
29.	2	c, d
30.	2	sjevernu, istočnu

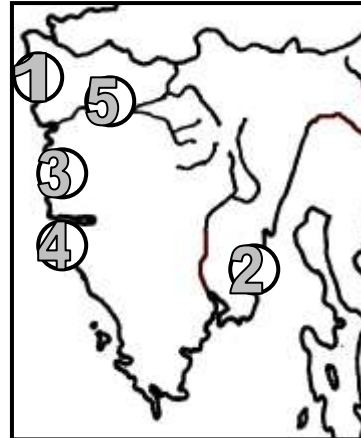
16. i 17. ZADATAK



24., 25. i 26. ZADATAK



21. ZADATAK



27. Slova za pojedine gradove ne moraju biti napisana tim redoslijedom.

VARAŽDIN	A, D, I
ZAGREB	C, E, L
ĐAKOVO	B, H, J
OSIJEK	F, G, K