

**ŠKOLSKO NATJECANJE UČENIKA IZ GEOGRAFIJE 2007. GODINE
8. RAZRED**

Zaporka _____ Bodovi _____

2




1. Azimut jugozapada iznosi _____, a sjevera _____ stupnjeva.

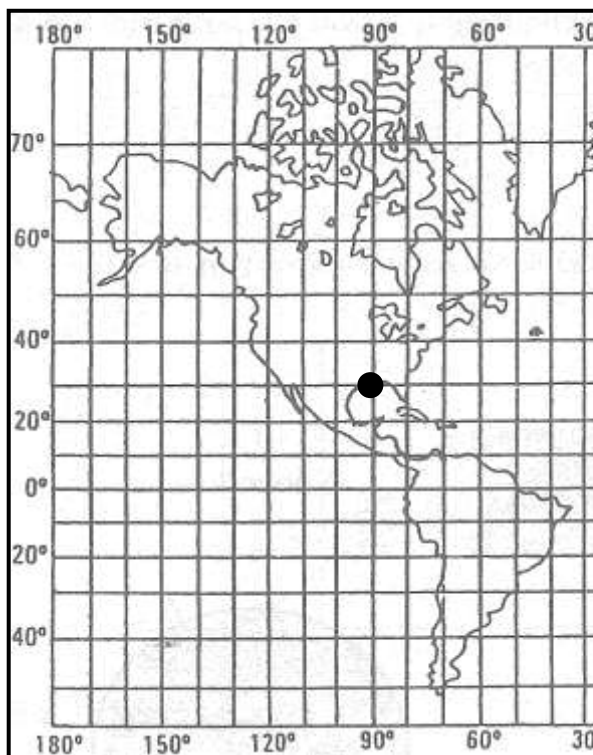
2

2. Odredite geografsku širinu i dužinu grada New Orleansa koji je na karti obilježen točkom.
_____° _____ geografske širine
_____° _____ geografske dužine

2

3. Pored topografskih znakova upišite njihovo značenje!

- a)  _____
- b)  _____
- c)  _____



SLJEDEĆE ZADATKE RIJEŠITE NA KARTI HRVATSKIH ŽUPANIJA

2

4. Upišite broj 1 na Istarsku županiju.

2

5. Upišite broj 2 na Požeško-slavonsku županiju.

3

6. Obilježite brojem 3 županiju u kojoj je najviši vrh Hrvatske.
Kako se zove planina na kojoj se nalazi taj vrh?

3

7. Obilježite brojem 4 županiju u kojoj se nalazi najveća hrvatska teretna morska luka. Luka je u gradu _____.

2

8. Prometno značajan prostor koji čini poveznicu između primorske i nizinske Hrvatske, a na karti je označen krugom naziva se _____



2

18. U dijelu teksta himne Republike Hrvatske upišite riječi koje nedostaju.

Teci _____, _____ teci,

Nit' ti _____ silu gubi.

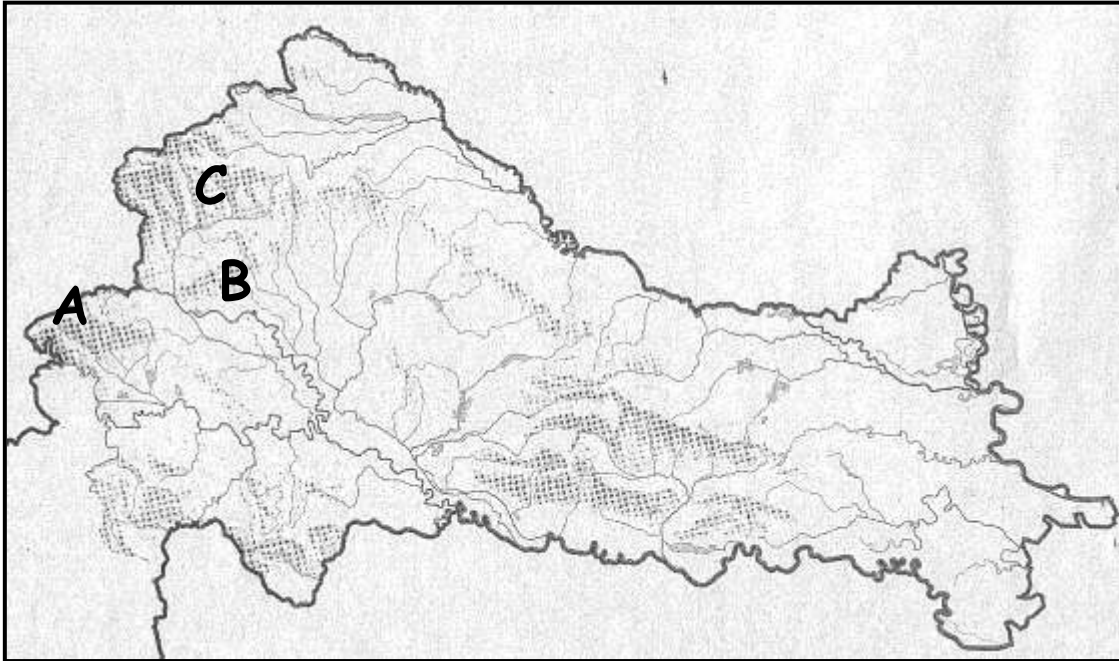
Sinje more svijetu reci,

Da svoj narod Hrvat ljubi.

2

19. Vapnenac, najzastupljenija stijena u gorskoj i primorskoj Hrvatskoj, prema načinu postanka je _____ stijena.

SLJEDEĆE ZADATKE RIJEŠITE NA KARTI NIZINSKE HRVATSKE



3

20. Tok rijeke Bednje obilježite brojem 1, a tok Bosuta brojem 2.

3

21. Tri gore nizinske Hrvatske više od 1000 metara obilježene su slovima. Pored slova upišite njihove nazive.

A) _____

B) _____

C) _____

3

22. Kosim crtama obilježite prostor Baranje. Tu regiju s juga omeđuje rijeka _____.

2

23. Nabrojite tri kulturno-civilizacijska kruga koja su utjecala i utječu na prostor Hrvatske?

- _____
- _____
- _____

2

24. Najbrojnija vjerska skupina u Hrvatskoj su rimokatolici. Koje dvije religijske zajednice, nakon rimokatoličke, imaju najveći broj pripadnika?

- _____
- _____

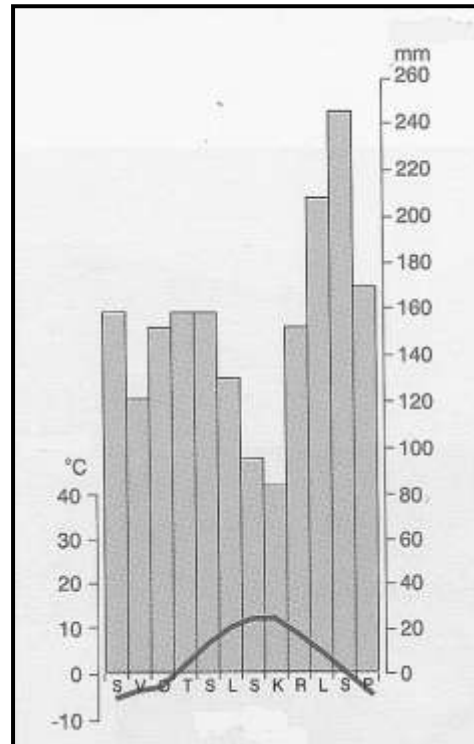
SLJEDEĆE ZADATKE RIJEŠITE UZ POMOĆ KLIMATSKOG DIJAGRAMA

3

25. Mjesec s najvećom količinom padalina je _____, a s najmanjom _____.

Razlika u količini padalina ta dva mjeseca iznosi _____ mm.

PROSTOR ZA RAČUNANJE



2

26. Za koji tip klime u Hrvatskoj su karakteristične prosječne temperature i količine padalina prikazane na klimatskom dijagramu?

3

27. U najvišim dijelovima Hrvatske nailazimo na površine pod tlama _____ crnice, a na polojima _____ crnice.

2

28. Moliški Hrvati žive u _____. (Na praznu liniju upišite ime države!)

2

29. Dobno-spolna piramida Hrvatske izrađena prema rezultatima popisa stanovništva 2001. godine ima suženu bazu (donji dio). To ukazuje na smanjeni udio _____ stanovništva. (Na praznu liniju upišite naziv dobne skupine!)

2

30. Na grafikonu prikažite približan udio zaposlenih po sektorima prema rezultatima popisa stanovništva 2001. godine. Sektore obilježite rimskim brojevima I, II i III

- a) primarni 10 %
- b) sekundarni 30 %
- c) tercijarni 60 %

