

DRŽAVNO NATJECANJE UČENIKA IZ GEOGRAFIJE 2008. GODINE

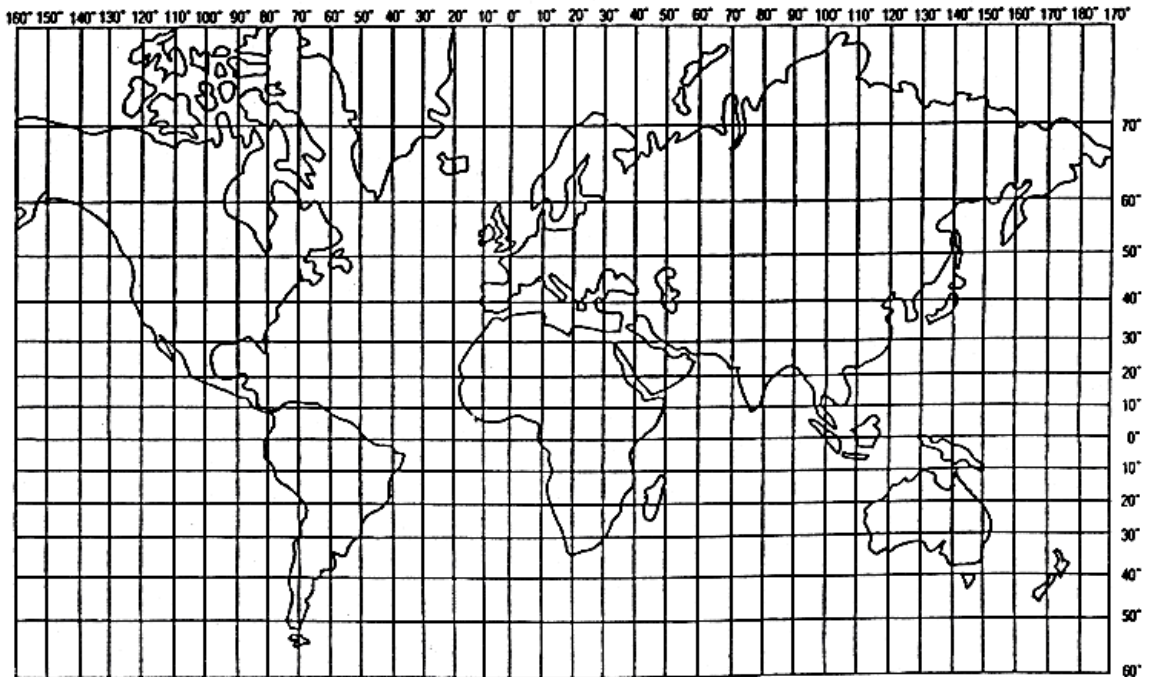
8. RAZRED

Zaporka _____ Bodovi _____

3

1. Obale Maldiva zahvatili su snažni tsunamiji. Posljedica su potresa s epicentrom na 10° južne geografske širine i 80° istočne geografske dužine. Epicentar potresa na karti označite \blacktriangle . S obzirom na jačinu, potres su zabilježili i instrumenti seizmološke službe smještene 70° sjevernije i 110° istočnije od epicentra. Znakom X ucrtajte smještaj seizmološke službe i očitajte njene koordinate.

Seizmološka služba nalazi se na _____^o _____ i _____^o _____.



U sljedeća dva zadatka jedan je točan odgovor. Zaokružite slovo uz točan odgovor.

2

2. Koliko je listova topografske karte mjerila 1: 25 000 potrebno da bi se predočio isti prostor kao i na jednom listu topografske karte mjerila 1: 100 000?

a) 4 b) 8 c) 16 d) 32

2

3. Želite li odmor provesti na otocima Molatu ili Olibu, u kojoj luci ćete se ukrcati na trajekt?

a) Puli b) Zadru c) Šibeniku c) Splitu

2

4. Navedenim pojmovima pridružite po jedno slovo i broj.

_____ PRIGORJE A – pretežito južne padine 1 - osojne padine

_____ ZAGORJE B – pretežito sjeverne padine 2 - prisojne padine

2



5. Koja rijeka ponire u Đulinom ponoru?

2

6. Napišite naziv endemske biljke prikazane na fotografiji.

3

7. Reljefnim cjelinama Hrvatske pridružite brojeve od 1 do 4, ovisno o starosti stijena koje ih grade (1 - najstarije stijene, 4 - najmlađe stijene).

_____ Dinaridi

_____ jezgre Papuka i Psunja

_____ Crnac polje

_____ Erdutski lesni ravnjak

3

8. Uz pritoke upišite naziv rijeke u koju utječe.

a) Čabranka _____ c) Krapina _____

b) Česma _____ d) Mrežnica _____

2

9. Zaokružite slova uz nazive otoka na kojima se nalaze istoimena naselja.

a) Cres

b) Šolta

c) Mljet

d) Hvar

e) Brač

2

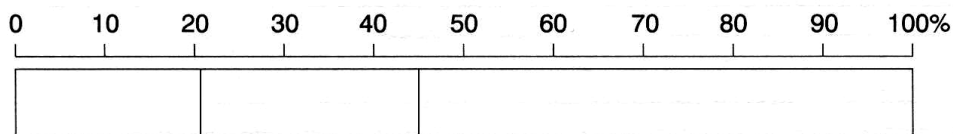
10. Stalno naselje na najvišoj nadmorskoj visini u Hrvatskoj je _____

u _____ županiji.

3

11. Strukturni stupac prikazuje biološku strukturu stanovništva Hrvatske 2001. godine.

- Brojem 1 označite dio stupca koji odgovara udjelu mladog stanovništva (0-19 god.).
- Brojem 2 označite dio stupca koji odgovara udjelu zrelog stanovništva (20-59 god.).
- Brojem 3 označite dio stupca koji odgovara udjelu starog stanovništva (60 i više god.).



2

12. Napišite puni naziv tijela državne uprave koje je glavni nositelj pregovora Hrvatske za ulazak u Europsku Uniju.

2

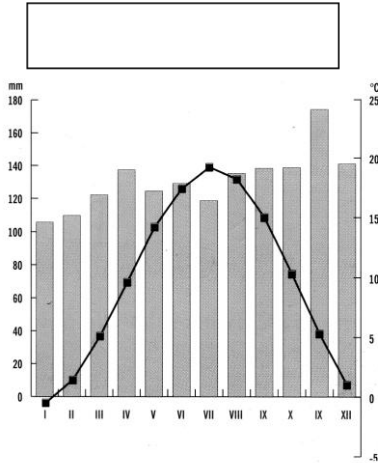
13. Mjere i zahvati za poboljšanje kvalitete tla poput navodnjavanja suhih i isušivanja vlažnih područja

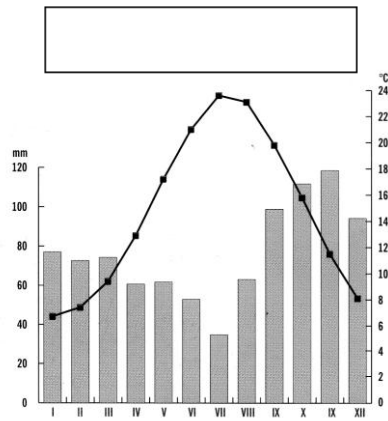
poznati su pod nazivom _____ .

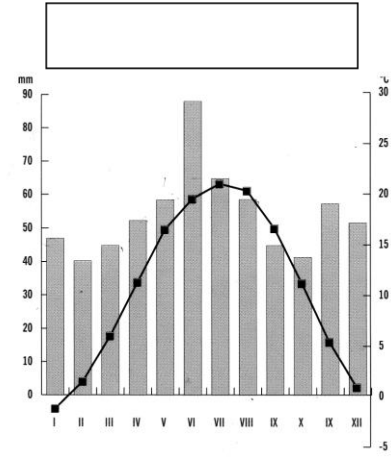
3

14. Klimadijagrami prikazuju obilježja klime meteoroloških postaja: *Ogulin, Osijek i Zadar*.

- U pravokutnike iznad klimadijagrama upišite nazive meteoroloških postaja kojima klimadijagrami pripadaju.
- Na crte ispod klimadijagrama upišite pune nazive klima koje klimadijagrami prikazuju.





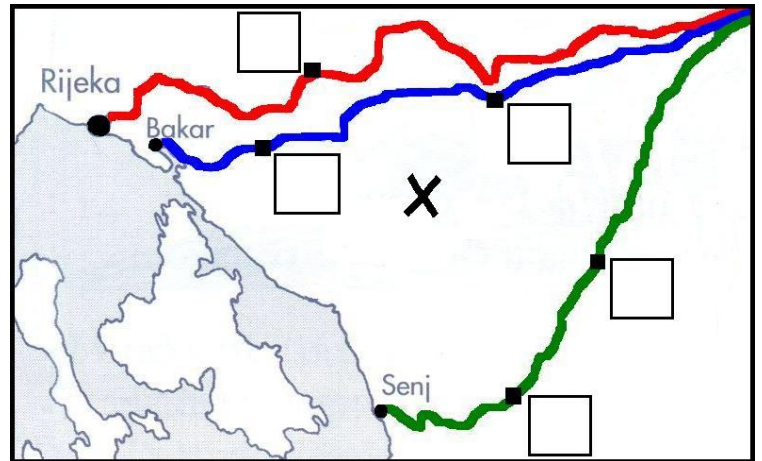


Sljedeća četiri zadatka riješite uz pomoć karte.

3

15. Uz obojane linije upišite nazive cesta izgrađenih tijekom 18. i 19. stoljeća koje su povezivale Karlovac sa Sjevernim hrvatskim primorjem.

- _____
- _____
- _____



3

16. U kvadratiće upišite brojeve za naselja.

- 1 - Delnice 2 - Josipdol 3 - Vrbovsko

2

17. Napišite naziv skijališta označenog na karti znakom X.

2

18. Napišite naziv strogog rezervata koji se nalazi na prostoru prikazanom na karti.

2

19. Turističko središte s najstarijim hotelom na našoj obali je _____ , dok je, u

posljednja dva desetljeća, s obzirom na broj ostvarenih noćenja, naše najveće turističko središte

- 2 20. Zaokružite slovo uz točan redoslijed turističkih naselja kroz koja prolazite putujete li jadranskom magistralom od Zadra prema Splitu.
- a) Biograd na Moru, Primošten, Vodice, Trogir
 - b) Vodice, Biograd na Moru, Primošten, Vodice
 - c) Primošten, Biograd na Moru, Trogir, Vodice
 - d) Biograd na Moru, Vodice, Primošten, Trogir
- 3 21. Navedite gore i planine u Hrvatskoj zaštićene kao parkovi prirode.
- _____
- 2 22. Uz turističke znamenitosti napišite nazive gradova gorske Hrvatske u čijoj blizini se znamenitosti nalaze.
- a) Cerovačke špilje _____ b) Memorijalni centar «Nikola Tesla» _____
- 2 23. Zaokružite slova uz obilježja nizinske poljoprivredne regije.
- a) prevladava uzgoj žitarica i industrijskog bilja b) intenzivna poljoprivreda c) manji prinosi
 - d) ekstenzivna poljoprivreda e) veći posjedi f) prevladava uzgoj voća, povrća i vinove loze
- 3 24. Povežite parove.
- | | |
|-------------------|--------------------|
| ___ Đeletovci | A - termoelektrana |
| ___ Molve | B - naftno polje |
| ___ Jertovec | C - hidroelektrana |
| ___ Donja Dubrava | D - plinsko polje |
- 2 25. Vrsta šupljikavog vapnenca nastala taloženjem kalcita iz vode na algama, mahovinama i ostacima biljaka poznata je pod nazivom. _____. Ta stijena ima važnu ulogu u nastanku prirodnih ljepota dvaju hrvatskih nacionalnih parkova.
- To su _____ i _____ .
- 2 26. Antičkim nazivima pridružite današnje nazive gradova: *Starigrad, Rijeka, Vinkovci*.
- Pharos _____ Cibalae _____ Tarsatika _____

Sljedeća četiri zadatka riješite uz pomoć donje karte.

2

27. Na karti obojeno je područje poznato po najvećoj šumi hrasta lužnjaka u Hrvatskoj.

Napišite naziv tog područja. _____

2

28. Obojite kvadratiće koji se nalaze na mjestu riječnih luka koje će povezati kanal Dunav- Sava.

29. Brojeve uz fotografiju upišite u kvadratić na karti ovisno o tome u kojem je gradu fotografija snimljena.

3

1.



2.



3.



2

30. Znakom toplica na karti prikazano je lječilište i termalno kupalište _____ u

_____ županiji.

