

ŽUPANIJSKO NATJECANJE UČENIKA IZ GEOGRAFIJE 2008. GODINE
7. RAZRED

Zaporka _____

Bodovi _____

- 2 1. Nastavi niz kontinenata prema njihovoj teritorijalnoj veličini od najprostranijeg do najmanjeg: Azija, _____, _____, _____, Antarktika, _____ i Australija.

- 3 2. Upiši na kartu desno u kvadratić na mjestu Skandinavskog gorja slovo S, u kvadratić na mjestu planine Kavkaz slovo K, a u kvadratić na mjestu Ruske (platforme) ploče slovo P, te iste reljefne oblike poredaj prema starosti od najstarijeg do najmlađeg.

1. _____
2. _____
3. _____

- 2 3. Na karti desno zaokruži strjelicu koja označava smjer utjecaja maritimnosti.

- 2 4. Otočna skupina koja je zaokružena na karti naziva se _____ otoci i pripadaju _____

(upisati naziv države).

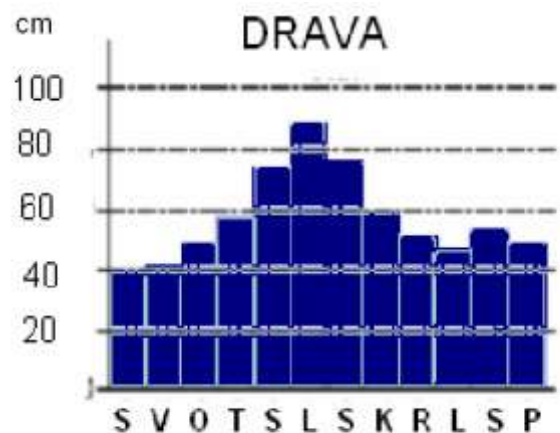
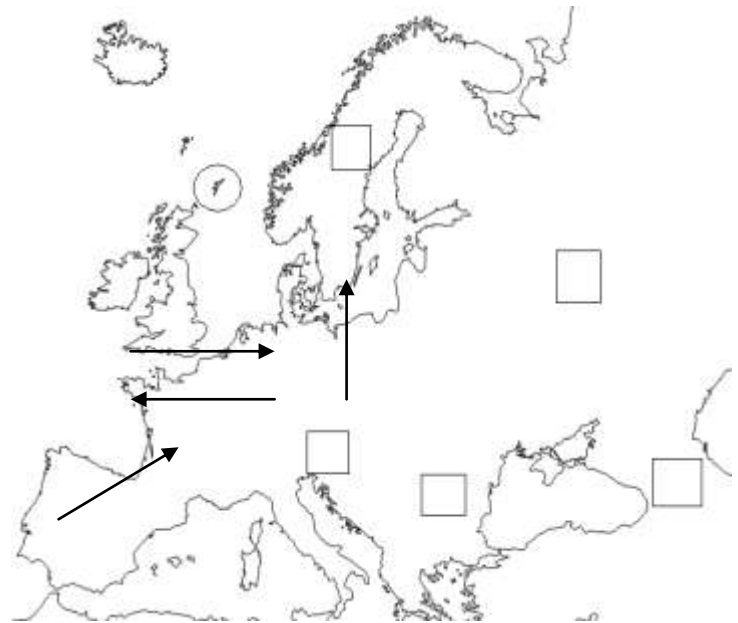
- 3 5. S obzirom na prikazani dijagram desno mjesec u kojem rijeka Drava ima najviši vodostaj je _____, a razlika između prosječnog vodostaja Drave u kolovozu u odnosu na siječanj iznosi _____.

- 2 6. U kojoj od navedenih država izvire rijeka Drava? (zaokruži točan odgovor)

- a) Austrija
- b) Slovenija
- c) Hrvatska
- d) Italija

- 2 7. Kako se naziva austrijska pokrajina u kojoj živi autohtona hrvatska manjina? _____

- 2 8. Prekriži grad koji ne pripada Ruhrstadtu: Essen, Dortmund, Düsseldorf, Frankfurt, Duisburg



- 3 9. Prepoznavaj sa slika gradove srednje Europe i upiši njihova imena na gornju crtu ispod slike i na donjoj crti svrstaj njihove funkcije: glavni grad, sjedište Međunarodnog Crvenog križa, sjedište Europske središnje banke



ime grada: _____
funkcija: _____

Sljedećih šest zadataka riješi uz pomoć donje karte.

- 3 10. Gorje označeno slovom A na karti naziva se _____ i prema postanku je _____ gorje (*upisati mlado ili staro*).
- 2 11. Kojim se jezikom govori u području označenom slovom E? _____
- 2 12. Upiši slovo G u državu u kojoj se nalazi grad u kojemu je sjedište Europskog parlamenta. To je grad _____.
- 2 13. Upiši na karti slovo N u dvije najmnogoljudnije države srednje Europe.
- 2 14. Upiši na karti slovo P u državu za koju su tipične puste – stepske ravnice.
- 3 15. Država obojena u crno ima (*upisati broj*) _____ službena jezika i tri reljefne cjeline a to su _____, _____ i _____.



2 16. Morska struja koja utječe na klimu zapadne i sjeverne Europe naziva se _____, a na klimu Europe povoljno utječe i strujenje stalnih (planetarnih) _____ (upisati naziv vjetrova) s Atlantskog oceana.

U sljedećim zadacima samo je jedan točan odgovor. Zaokruži slovo ispred točnog odgovora.

2 17. Koja je brojem stanovnika najveća država sjeverne Europe?

- a) Danska b) Finska c) Norveška d) Švedska

2 18. Koju od ponuđenih stijena svrstavamo u magmatske (vulkanske)?

- a) bazalt b) mramor c) pješčenjak d) vapnenac

2 19. Koja je država Srednje Europe monarhija?

- a) Austrija b) Lihtenštajn c) Mađarska d) Švicarska


2 20. Koji od navedenih gradova Ujedinjenog Kraljevstva je lučko središte za prijevoz nafte i plina?

- a) Aberdeen b) Birmingham c) Leeds d) Manchester

3 21. Spoji pojmove i njihovo značenje i državu kojoj pripadaju ili su glavno obilježje

- | | | |
|-----------------|--------------------------------------|-------------------|
| A) kantoni | _____ glavni grad | _____ Island |
| B) Balaton | _____ jezero | _____ Lihtenštajn |
| C) Hekla | _____ planina | _____ Mađarska |
| D) Vaduz | _____ upravno-teritorijalne jedinice | _____ Slovačka |
| E) Visoka Tatra | _____ vulkan | _____ Švicarska |

3 22. Na crte ispod slika upiši nazive prikazanih geografskih pojmova.

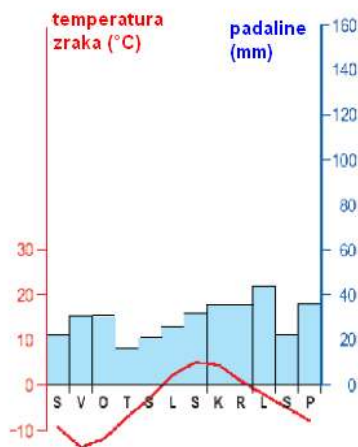


3 23. U sljedećem tekstu prekriži šest netočnih riječi od ponuđenih, a napisanih kosim slovima.

Škotska je brdovita, planinska i *rijetko/gusto* naseljena zemlja Ujedinjenog Kraljevstva. Na zapadnoj obali nastali su duboki morski zaljevi *fjeldovi/fjordovi*, a većina škotskih jezera je *ledenjačkog/tektonskog* postanka. U poljoprivredi Škotske dominira uzgoj ovaca i ječma od kojeg se među ostalim proizvodi poznati škotski *konjak/whisky*. Škotska je zanimljiva turistima osobito zbog svojih srednjovjekovnih *samostana/dvoraca*. Najveći grad Škotske je *Edinburgh/Glasgow*.

2 24. Toplinska energija iz Zemljine unutrašnjosti koja služi za zagrijavanje stanova i ostalih objekata te za proizvodnju struje naziva se _____ energija. Među europskim državama najviše se koristi u državi _____ .

2 25. Koji je tip klime prikazan na klimatskom dijagramu desno?



Sljedećih pet zadataka riješi uz pomoć geografske karte dolje.

2 26. U kvadratić na mjestu Ardena upiši slovo A.

3 27. U kvadratić na mjestu grada Bordeauxa upiši slovo B, a u kvadratić na mjestu najveće francuske pomorske luke slovo C, to je grad _____

3 28. Poluotok označen slovom D naziva se _____, a poluotok označen vodoravnim crtama _____

2 29. Koja je rijeka podebljana i označena slovom F? _____

2 30. U kvadratić na mjestu glavnog grada Francuske upiši slovo G.

