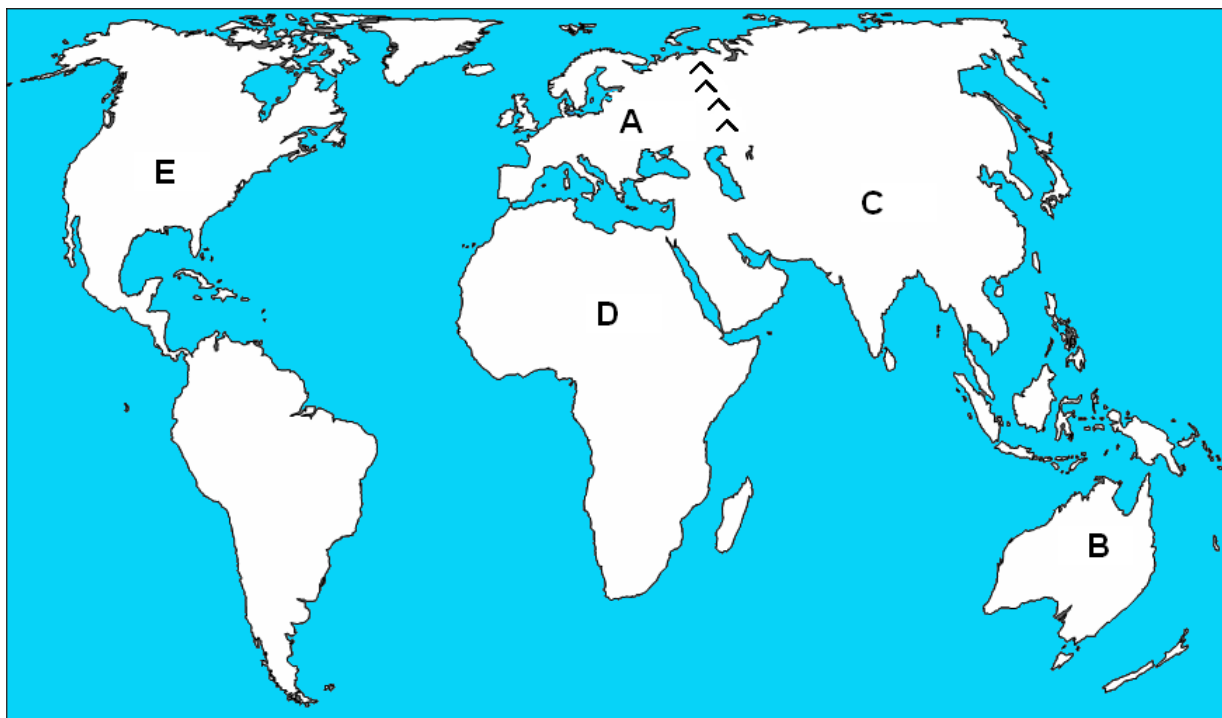


DRŽAVNO NATJECANJE UČENIKA IZ GEOGRAFIJE 2008. GODINE  
6. RAZRED

Zaporka \_\_\_\_\_ Bodovi \_\_\_\_\_



3

1. Imenujte slovima označene kontinente i poredajte ih prema gustoći naseljenosti, **od najveće prema najmanjoj gustoći naseljenosti:** \_\_\_\_\_

2

2. Od država članica organizacije **G-8**, navedi tri najveće površinom.

3

3. Geografskim pojmovima pridružite **dan** najrasprostranjenije vjere i navedene **gradove**:

\_\_\_\_\_ Arabijski poluotok

\_\_\_\_\_ Luzon

\_\_\_\_\_ Hindustan

\_\_\_\_\_ Tibet

\_\_\_\_\_ Galilejski ravnjak

A – budizam

B – judizam

C – kršćanstvo

D – islam

E – hinduizam

1 – Lhasa

2 – Varanasi

3 – Nazaret

4 – Meka

5 – Manila

U sljedećem pitanju zaokružite državu:

2	
---	--

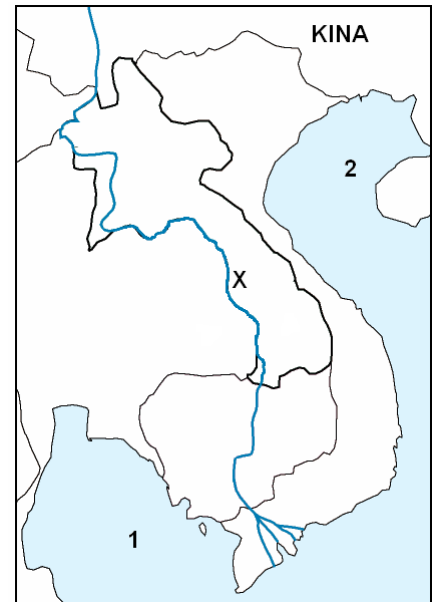
4. Mt. Everest najviša planina na Zemlji nalazi se u graničnom području države Kine s državom: *Nepal, Indijom, Butanom, Pakistanom, Bangladešom*

Sljedeća dva pitanja riješite pomoću

karte poluotoka Indokine:

3	
---	--

5. Znakom **X** na karti označena je rijeka \_\_\_\_\_ koja utječe u \_\_\_\_\_ more.



2	
---	--

6. Brojeve s karte pridružite navedenim zaljevima:  
Sijamski zaljev \_\_\_\_\_  
Tonkinški zaljev \_\_\_\_\_

2	
---	--

7. Zaokruži dva rezervama nafte najvažnija područja Azije:

**a)** jugozapadna Azija, **b)** sjeveroistočna Azija, **c)** južna Azija, **d)** središnja Azija

3	
---	--

8. Ispod crteža četiriju najvećih japanskih otoka, napišite njihova imena:



\_\_\_\_\_, \_\_\_\_\_, \_\_\_\_\_, \_\_\_\_\_

2	
---	--

9. Japanski vulkan Fuji nalazi se od Tokia:

**a)** jugoistočno, **b)** jugozapadno, **c)** sjeverozapadno, **d)** sjeveroistočno

2	
---	--

10. Za područje \_\_\_\_\_ klime u Africi karakteristično je **drvo** (na slici):



\_\_\_\_\_

2	
---	--

11. Turističko putovanje (na slici) po divljim afričkim turističkim područjima i **fotografiranje** divljih životinja nazivamo:



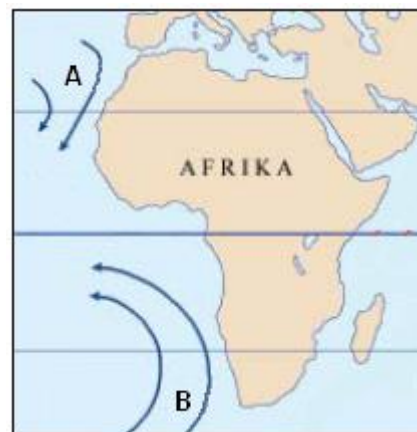
\_\_\_\_\_ turizam.

3

12. Slova su označene hladne morske struje uz zapadnu obalu Afrike. To su:

A \_\_\_\_\_ morska struja

B \_\_\_\_\_ morska struja



*U sljedećem pitanju zaokružite tri točne tvrdnje:*

2

13. Južno od Sahare u mnogim se državama koriste **europski** jezici:

*francuski, talijanski, njemački, engleski, nizozemski, portugalski*

3

14. Brojevi na karti Egipta označavaju velike **egipatske luke**. To su:

1 \_\_\_\_\_

2 \_\_\_\_\_

3 \_\_\_\_\_

2

15. Slova s karte pridružite **arheološkim** i **turističkim** lokalitetima Egipta:

**Gizah** \_\_\_\_\_

**Luxor** \_\_\_\_\_



*U sljedećem pitanju precrtaj netočne tvrdnje:*

2

16. Monokultura je proizvodnja **jedne – dvije** biljne vrste na **manjoj – većoj** površini

3

17. Najvažnija rijeka **Gane** je \_\_\_\_\_, a gradnjom akumulacijske brane na istoimenoj rijeci, nastalo je jezero \_\_\_\_\_.

3

18. Slova i brojeve pridružite navedenoj vegetaciji:

_____ <b>selvas</b>	<b>A</b> – crnogorične šume	<b>1</b> - sjeverozapad Meksika
_____ <b>tajga</b>	<b>B</b> - tropske kišne šume	<b>2</b> – južni Brazil
_____ <b>kampos</b>	<b>C</b> - visoke trave	<b>3</b> – središnji dio SAD
_____ <b>kaktus</b>	<b>D</b> – trnovita biljka debele stabljike	<b>4</b> – Amazonija
_____ <b>prerija</b>	<b>E</b> - niske trave	<b>5</b> – Kanada

2

19. Zaokruži slova ispred **toplinskih pojaseva** koji se protežu Latinskom Amerikom:

**a)** sjeverni hladni, **b)** sjeverni umjereni, **c)** žarki, **d)** južni umjereni, **e)** južni hladni

2

20. Zaokruži slova ispred **beltova** u SAD-a:

**a)** belt kave, **b)** belt čaja, **c)** belt pšenice, **d)** belt pamuka, **e)** belt kukuruza

3

21. Navedene nacionalne parkove SAD-a označene bojama pridružite kvadratićima

(**Death Valley, Grand Canyon, Everglades, Yellowstone**):

- \_\_\_\_\_
- \_\_\_\_\_
- \_\_\_\_\_
- \_\_\_\_\_



2

22. Na slici je najpoznatiji svjetski \_\_\_\_\_ **Old**

**Faithful** u nacionalnom parku \_\_\_\_\_.



2

23. Precrtajte **jezera** koja ne pripadaju Velikim jezerima:

**Michigan, Huron, Erie, Veliko Medvjede jezero, Veliko Slano jezero, Ontario, Gornje jezero**

2

24. Većinu stanovništva **Meksika** čine \_\_\_\_\_ **mješanci** \_\_\_\_\_

rase i \_\_\_\_\_ rase.

2

25. **Sirotinjske** četvrti u brazilskim gradovima **na slici** nazivamo \_\_\_\_\_.



3

26. Velike brazilske luke poredajte od **sjevera prema jugu** (**Rio de Janeiro, Santos, Salvador, Porto Alegre, Belem**)

\_\_\_\_\_

\_\_\_\_\_

2

27. Najvažnija **čileanska** luka smještena na obali **Magellanova** prolaza je

\_\_\_\_\_.

2

28. Južnoameričko jezero **Titicaca** dijelom pripada državi \_\_\_\_\_ a, dijelom državi \_\_\_\_\_.

2

29. Zaokružite **endeme** u Australiji:

**a)** ljama, **b)** sekvoja, **c)** koala, **d)** eukaliptus, **e)** ovca

2

30. Osobitosti **Sjevernog otoka** Novog Zelanda jesu:

**a)** gejziri, **b)** arteški bunari, **c)** atoli, **d)** lagune, **e)** aktivni vulkani