

**ŽUPANIJSKO NATJECANJE IZ GEOGRAFIJE  
2020. GODINE**

**Razred ili kategorija natjecanja:** **7. razred**

**Zaporka**

--	--	--	--	--

 \_\_\_\_\_

**Broj postignutih bodova** \_\_\_\_ / 70

**Potpis članova Županijskog povjerenstva**

1. \_\_\_\_\_
2. \_\_\_\_\_
3. \_\_\_\_\_

**Mjesto i nadnevak:** \_\_\_\_\_

Za rješavanje zadataka predviđeno je 60 minuta.

Ispit se rješava kemijskom olovkom s plavom tintom koja se ne briše. Uporaba obične olovke i crvene ili neke druge boje tinte (osim plave) rezultira diskvalifikacijom učenika.

Pri rješavanju ispita treba primijeniti jezičnu normu standardnoga hrvatskoga jezika, posebice treba poštivati pravopisna pravila o pisanju velikoga i maloga početnog slova geografskih imena. Za pisanje geografskih imena u ispitima i praktičnim radovima primjenjuje se Hrvatski pravopis Instituta za hrvatski jezik i jezikoslovlje (2013.).

Odgovori učenika moraju biti čitljivo napisani pisanim slovima, jedino u zadacima u kojima je odgovor jedno slovo dopuštena je uporaba čitljivo napisanog velikog tiskanog slova.

Za vrijeme pisanja ispita ne smije se koristiti ništa osim navedenoga pribora za pisanje. Ova odredba podrazumijeva da natjecatelji ne smiju kod sebe (na sebi, ispod, u svojoj odjeći i slično) imati predmete koji na bilo koji način mogu dovesti u sumnju pravilno provođenje natjecanja. Učenici se ne smiju služiti atlasom, zidnom kartom ni računalom. Kartografski i grafički prilozi nužni za rješavanje zadataka sastavni su dio ispita.

Učenicima se dopušta pisanje po marginama i praznim stranicama ispitnog materijala bez oduzimanja bodova i/ili diskvalifikacije.

Potpuno ispravno riješeni zadatci, prema uputi za rješavanje vrednuju se s jednim, dva ili tri boda. U djelomično ispravno riješenim zadacima boduju se ispravno riješene čestice, ako nije bilo korekcije odgovora u tim česticama. Netočno riješeni zadatci i naknadno ispravljeni odgovori te odgovori koji su pisani velikim tiskanim slovima ili kombinacijom tiskanih i pisanih slova, kao i odgovori u zagradama ne vrednuju se.

**U SVAKOM OD PRVIH OSAM ZADATAKA DVA SU TOČNA ODGOVORA.  
ZAKRUŽI SLOVA ISPRED TOČNIH ODGOVORA.**

- 2  1. Koji od navedenih otoka (otočja) pripadaju Norveškoj?  
a) Fyn   b) Jan Mayen   c) Hebridi   d) Soisalo   e) Svalbard
- 2  2. Koje od navedenih rijeka imaju izvor u Sloveniji?  
a) Drava   b) Dunav   c) Krka   d) Mura   e) Soča
- 2  3. Koje od navedenih reljefnih cjelina čine staru Europu?  
a) Alpe   b) Centralni masiv   c) Harz   d) Kavkaz   e) Stara planina
- 2  4. Koja su od navedenih jezera granična (na granici država)?  
a) Bledsko   b) Bodensko   c) Neuchatelsko   d) Peipsi järv   e) Vänern
- 2  5. Koje od navedenih rijeka pripadaju Kaspijskom slijevu?  
a) Dnjepar   b) Don   c) Volga   d) Ural   e) Zapadna Dvina
- 2  6. Koji su od navedenih švedskih gradova poznati po nalazištima željezne rude?  
a) Gällivare   b) Göteborg   c) Kiruna   d) Örebro   e) Umeå
- 2  7. Koje su od navedenih tvrdnji točne o gospodarstvo Europe u posljednjih pet godina?  
a) U poljoprivredi je zaposleno 25 % stanovništva.  
b) Najveći udio ratarskih površina zauzima uzgoj šećerne repe.  
c) Francuska je država s najviše turističkih dolazaka.  
d) Ribarstvo je najrazvijenije na istoku Europe.  
e) Italija i Francuska zauzimaju prva dva mjesta u proizvodnji vina u Europi.
- 2  8. Koji se od navedenih gradova Njemačke nalaze na obali mora?  
a) Bremerhaven   b) Essen   c) Kiel   d) Nürnberg   e) Stuttgart

**SLJEDEĆI ZADATAK RIJEŠI POMOĆU PRILOŽENE FOTOGRAFIJE. DOPUNI  
REČENICE ODGOVARAJUĆIM POJMOVIMA.**

- 2  9. Duboki, strmi i uski morski zaljev prikazan na fotografiji naziva se \_\_\_\_\_, a ime najdužeg i najdubljeg u Norveškoj jest \_\_\_\_\_.



**U SVAKOM OD SLJEDEĆA ČETIRI ZADATAKA JEDAN JE TOČAN ODGOVOR.  
ZAOKRUŽI SLOVO ISPRED TOČNOG ODGOVORA.**

- 1**  **10.** Na području kojeg gorja se nalazi tzv. *Black country*?  
a) Ardenskog    b) Grampijanskog    c) Kambrijskog    d) Peninskog    e) Uralskog
- 1**  **11.** Kroz koji od navedenih gradova ne protječe rijeka Dunav?  
a) Beč    b) Bratislava    c) Dresden    d) Linz    e) Ulm
- 1**  **12.** U kojoj je od navedenih država katoličanstvo najzastupljenija vjeroispovijest?  
a) u Albaniji    b) u Njemačkoj    c) u Nizozemskoj    d) u Sloveniji    e) u Švicarskoj
- 1**  **13.** Koja je od navedenih država prema uređenju jedina monarhija u Srednjoj Europi?  
a) Lihtenštajn    b) Njemačka    c) Mađarska    d) Poljska    e) Švicarska

**U SLJEDEĆA ČETIRI ZADATAKA POVEŽI PAROVE UPISIVANJEM SLOVA NA  
CRTU ISPRED PONUĐENIH ODGOVORA. TRI CRTE MORAJU OSTATI PRAZNE.**

- 2**  **14.** Poveži navedene države s brojem službenih jezika u tim državama.  
  **A) tri**                                    **B) četiri**  
\_\_\_\_ Bjelorusija    \_\_\_\_ Francuska    \_\_\_\_ Irska    \_\_\_\_ Luksemburg    \_\_\_\_ Švicarska
- 2**  **15.** Poveži navedene obale mora s prevladavajućim tipom klime.  
  **A) stepska klima**                    **B) klima tundre**  
\_\_\_\_ zapadna obala Bijelog mora                    \_\_\_\_ istočna obala Tirenskog mora  
\_\_\_\_ zapadna obala Azovskog mora                \_\_\_\_ južna obala Baltičkog mora  
  \_\_\_\_ južna obala Sjevernog mora
- 2**  **16.** Poveži navedene opise s pripadajućim švicarskim gradom.  
  **A) sjedište međunarodnog odbora Crvenog križa**  
  **B) sjedište Međunarodnog olimpijskog odbora**  
\_\_\_\_ Basel    \_\_\_\_ Bern    \_\_\_\_ Lausanne    \_\_\_\_ Zürich    \_\_\_\_ Ženeva
- 2**  **17.** Poveži rijeke s glavnim gradom kroz koji protječu.  
  **A) Alzette**                                    **B) Liffey**  
\_\_\_\_ Bruxelles    \_\_\_\_ Berlin    \_\_\_\_ Dublin (Baile Átha Cliath)  
  \_\_\_\_ Vaduz    \_\_\_\_ Ville de Luxembourg

**U SLJEDEĆA TRI ZADATKA POVEŽI POJMOVE UPISIVANJEM PRIPADAJUĆEG SLOVA I BROJA NA CRTU ISPRED POJMOVA U LIJEVOM STUPCU. JEDAN POJAM IZ SREDNJEGA I JEDAN POJAM IZ DESNOGA STUPCA NE MOGU SE POVEZATI.**

**3** **18.** Poveži gradove s pripadajućom saveznom zemljom i automobilskom tvrtkom čija su sjedišta u tim gradovima.

_____ Stuttgart	A) Saarland	1) AUDI
_____ Rüsselsheim na Majni	B) Bavarska	2) BMW
_____ München	C) Baden-Württemberg	3) Mercedes-Benz
	D) Hessen	4) Opel

**3** **19.** Poveži tvrtke s pripadajućom državom i vrstom industrije.

_____ Volvo	A) Lihtenštajn	1) prehrambena
_____ Tuborg	B) Luksemburg	2) petrokemijska
_____ Hilti	C) Danska	3) automobilska
	D) Švedska	4) industrijska oprema

**3** **20.** Poveži planinski vrh s pripadajućom reljefnom uzvisinom i državom u kojoj se nalazi.

_____ Signal de Botrange	A) Peninske Alpe	1) Nizozemska
_____ Zugspitze	B) Ardeni	2) Švicarska
_____ Dufourspitze	C) Julijske Alpe	3) Belgija
	D) Bavarske Alpe	4) Njemačka

**SLJEDEĆI ZADATAK RIJEŠI POMOĆU PRILOŽENE TABLICE SKUPINA ŽENSKOG EUROPSKOG KOŠARKAŠKOG PRVENSTVA 2021. GODINE (U-18). DOPUNI REČENICE ODGOVARAJUĆIM POJMOVIMA.**

Skupina A	Skupina B
Estonija	Izrael
Portugal	Estonija
Češka	Danska
Sjeverna Makedonija	Švedska

**2** **21.** Ime države iz skupine A koja nije članica Europske unije jest

\_\_\_\_\_ , dok je ime države iz skupine B koja geografski ne spada u europske države, ali sudjeluje na europskim natjecanjima

\_\_\_\_\_ .

**U TEKSTU KOJI OPISUJE BASKE TRI SU POGREŠNE RIJEČI (ili pojma). PRONAĐI U TEKSTU POGREŠNE RIJEČI (pojmove), ISPIŠI IH U LIJEVI STUPAC TABLICE, A UZ NJIH U DESNI STUPAC, U ISTOM REDU, UPIŠI TOČNE RIJEČI.**

3

22. Pažljivo pročitaj tekst o Baskima i riješi zadatak kao što je napisano u naputku.

*Baski su potomci prastanovnika Europe koji govore portugalskim jezikom. Sebe nazivaju Eskaldunak. Porijeklo Baska je tajanstveno, nitko ne zna odakle su im preci. Većina Baska u Europi danas naseljava sjevernu Francusku. Osnovani su i više organizacija s ciljem očuvanja nacionalnog identiteta, postizanja samostalnosti i suverenosti teritorija. Jedna od njih je i ETA. Tradicionalno, Baski su uglavnom rimokatolici. Najveći baskijski grad je Valencia.*

NETOČAN POJAM	TOČAN POJAM

**SLJEDEĆA DVA ZADATKA RIJEŠI POMOĆU PRILOŽENE KARTE DIJELA EUROPE. NA KARTI SU PRIKAZANE SREDNJE MJESEČNE TEMPERATURE NAJTOPLIJEG I NAJHLADNIJEG MJESECA U GODINI ZA POJEDINI GRAD.**

2

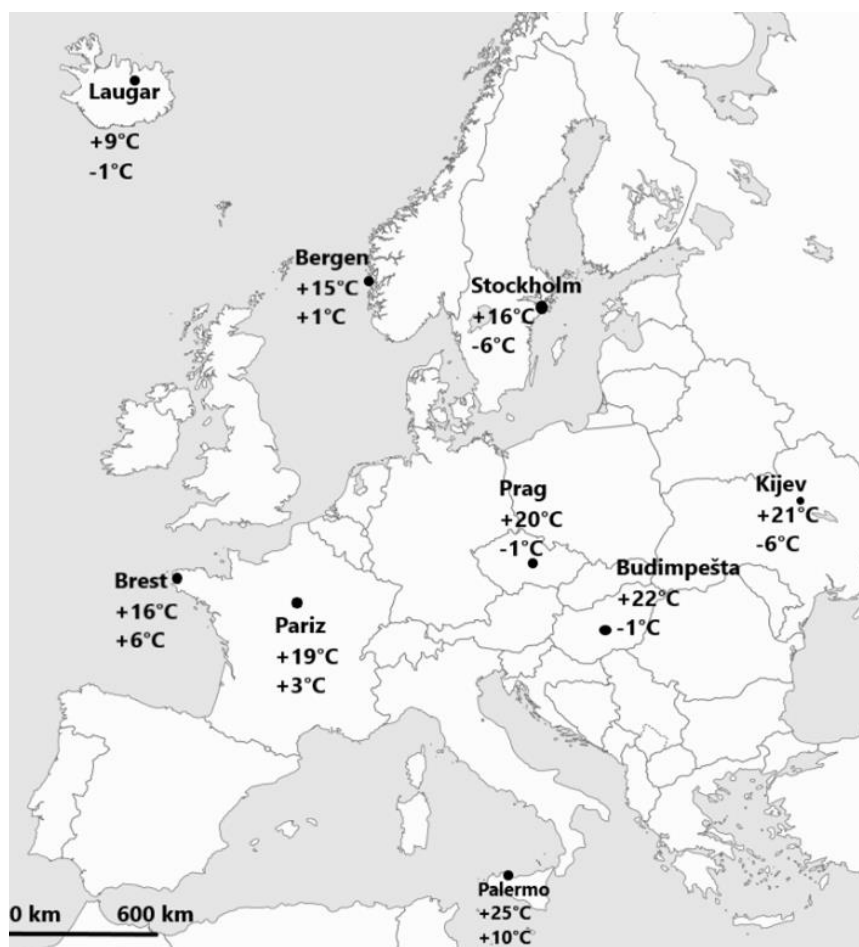
23. Ime grada na karti koji ima najveću godišnju temperaturnu amplitudu jest

\_\_\_\_\_ . Ime grada s najmanjom godišnjom temperaturnom amplitudom koji se nalazi na području umjereno tople vlažne klime (s toplim ljetima) jest

\_\_\_\_\_ .

2

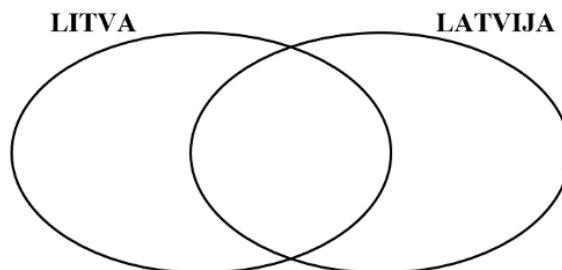
24. Ime jedinog grada na karti koji se nalazi na području sredozemne klime jest \_\_\_\_\_, a ime jedinog grada na karti koji se nalazi na području klime tundre jest \_\_\_\_\_.



**U SLJEDEĆEM ZADATKU RAZVRSTAJ POJMOVE UPISIVANJEM SLOVA U ODGOVARAJUĆA POLJA VENNOVOG DIJAGRAMA. U SVAKI DIO MORAJU BITI UPISANA DVA SLOVA.**

**3**  **25.** U središnji dio dijagrama upiši zajedničke pojmove za obje države.

- A) Ventspils
- B) Riški zaljev
- C) izlaz na Baltičko more
- D) Klaipeda
- E) većinom katolička
- F) članica EU



**SLJEDEĆA DVA ZADATKA RIJEŠI POMOĆU PRILOŽENE TABLICE.**

DEMOGRAFSKI POKAZATELJI	DRŽAVE					
	Albanija	Danska	Finska	Litva	Švicarska	
BROJ STANOVNIKA	3 100 000	5 800 000	5 500 000	2 700 000	8 400 000	
STOPA RODNOSTI (‰)	13,0	11,1	10,6	9,5	10,5	
STOPA SMRTNOSTI (‰)	7,1	9,5	10,3	15,0	8,5	
MIGRACIJSKA BILANCA (‰)	-3,3	2,8	2,6	-5,9	4,6	
BDP po stanovniku	12 500	50 100	44 500	32 400	62 100	
Udio zaposlenih po sektorima djelatnosti (%)	I.	41,4	2,4	2,7	3,5	3,3
	II.	18,3	18,3	28,2	29,4	19,8
	III.	40,3	79,3	69,1	67,2	76,9

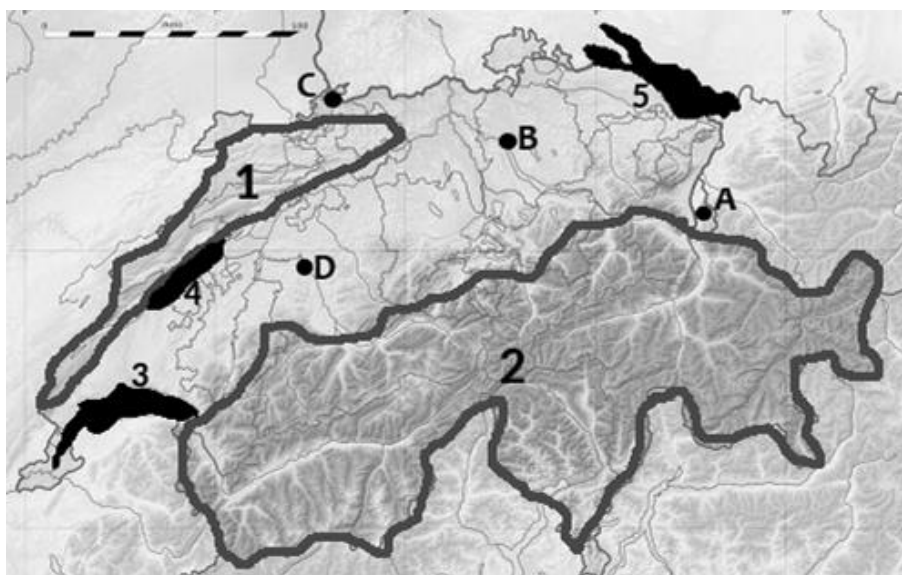
Izvor: CIA World Factbook

Prostor za računanje:

**2**  **26.** U jedinoj državi iz tablice bez izlaza na more prirodni prirast iznosi \_\_\_\_\_ ‰, a u jedinoj većinski muslimanskoj državi iz tablice migracijska bilanca iznosi \_\_\_\_\_ ‰.

**2**  **27.** Najgušće naseljena država Sjeverne Europe prema podacima iz tablice ima prirodni prirast koji iznosi \_\_\_\_\_ ‰. Među navedenim, država koja je najznačajniji izvoznik jantra ima udio zaposlenih u primarnom sektoru \_\_\_\_\_ %.

SLJEDEĆA ČETIRI ZADATKA RIJEŠI POMOĆU PRILOŽENE KARTE DIJELA EUROPE.



2  28. Na karti su uokvirene i brojevima 1 i 2 označene reljefne uzvisine u Švicarskoj. Na crte iza brojeva upiši njihova imena.

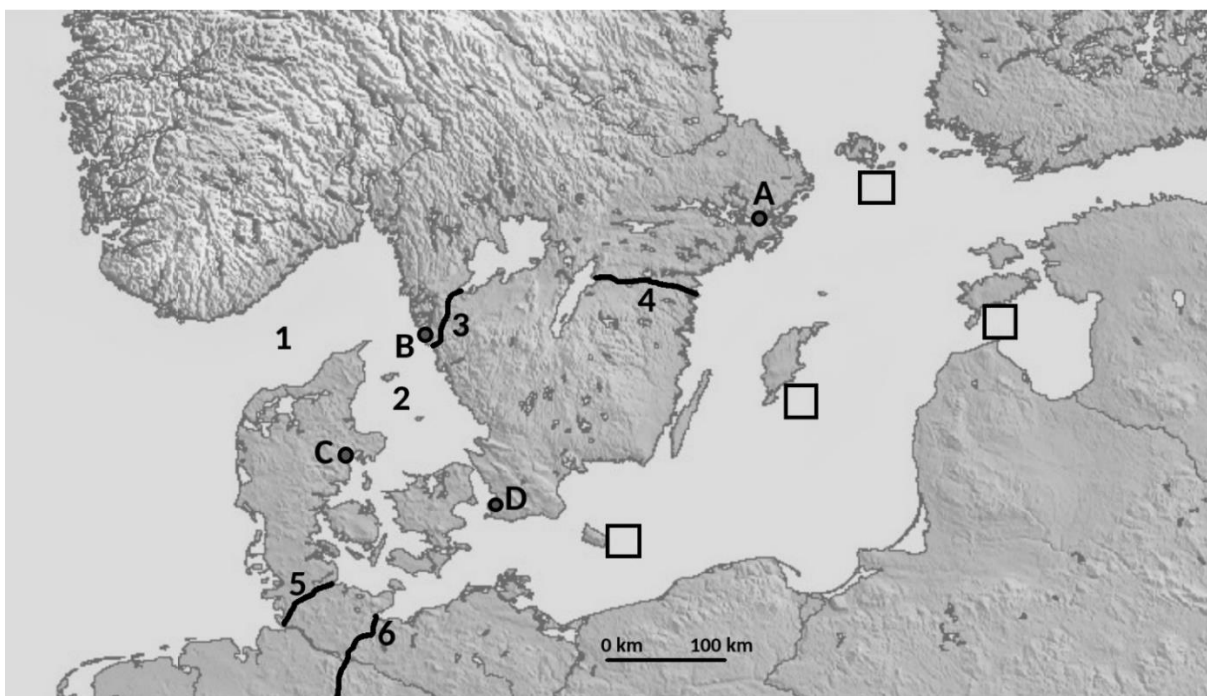
1 \_\_\_\_\_ 2 \_\_\_\_\_

2  29. Grad Vaduz je na karti označen kružićem i slovom \_\_\_\_ (upiši slovo), dok je glavni grad Švicarske označen kružićem i slovom \_\_\_\_ (upiši slovo).

2  30. Rijeka Rhône izvire u Švicarskoj na području reljefne uzvisine koja je na karti uokvirena i označena brojem \_\_\_\_ (upiši broj), dok rijeka Rajna (Rhein) teče kroz grad koji je na karti označen kružićem i slovom \_\_\_\_ (upiši slovo). Ime tog grada je \_\_\_\_\_.

2  31. Na karti je jezero Neuchatel u Švicarskoj označeno brojem \_\_\_\_ (upiši broj), dok rijeka Rhône protječe kroz jezero koje je na karti označeno brojem \_\_\_\_ (upiši broj).

SLJEDEĆA ČETIRI ZADATKA RIJEŠI POMOĆU PRILOŽENE KARTE DIJELA EUROPE.



2  32. Na karti su brojevima 1 i 2 označeni morski prolazi. Na crte iza brojeva upiši njihova imena.

1 \_\_\_\_\_ 2 \_\_\_\_\_

1  33. Na karti su podebljanim linijama i brojevima 3, 4, 5 i 6 označeni umjetni kanali. Kielski umjetni kanal je na karti označen brojem \_\_\_\_ (upiši broj).

2  34. Najveća švedska luka je na karti označena kružićem i slovom \_\_\_\_ (upiši slovo), dok je grad koji je mostom povezan s Kopenhagenom (Københavnem) na karti označen kružićem i slovom \_\_\_\_ (upiši slovo). Ime tog grada je \_\_\_\_\_.

2  35. Na karti su sa četiri kvadratića označeni određeni otoci i otočne skupine. U kvadratić pored Alandskog otočja upiši slovo X. Taj otok pripada državi čije je ime \_\_\_\_\_.