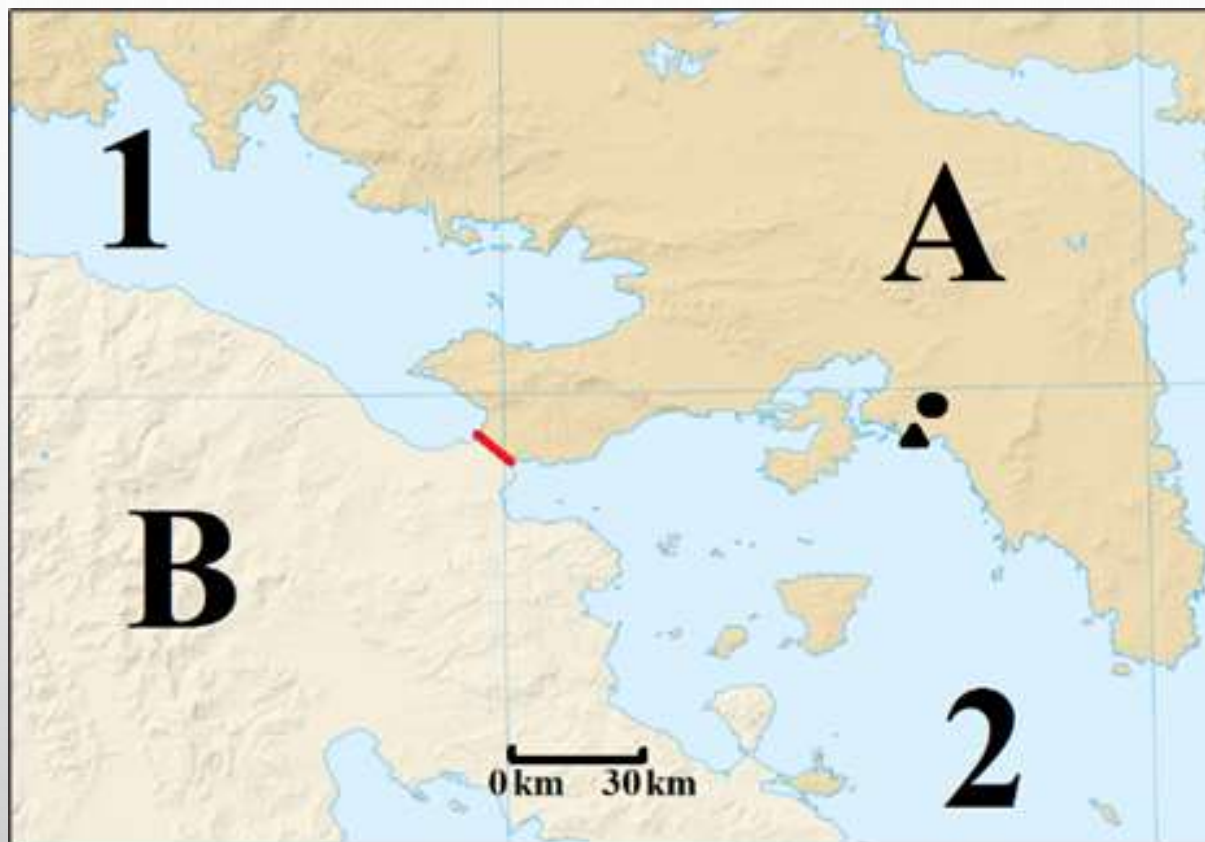


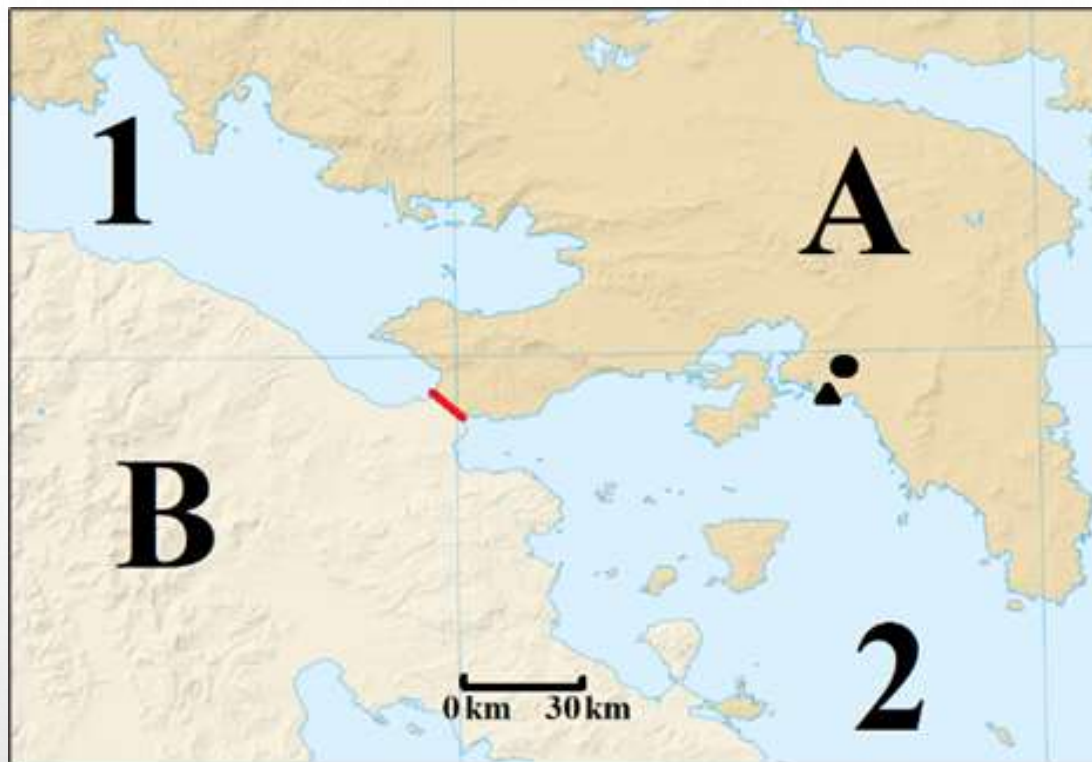
27. DRŽAVNO  
NATJECANJE IZ  
GEOGRAFIJE

MULTIMEDIJALNI  
ISPIT ZA  
7. RAZRED

**PRVA TRI ZADATKA RIJEŠI POMOĆU PRILOŽENE  
KARTE PODRUČJA KORINTSKOG KANALA KOJI JE  
OZNAČEN CRVENOM LINIJOM.**



**1.** (2) Slovom **A** označena je grčka regija (poluotok) kojoj je ime \_\_\_\_\_, dok je slovom **B** označen najveći grčki poluotok kojemu je ime \_\_\_\_\_.



2. (2) Korintski kanal povezuje \_\_\_\_\_ more koje je na karti označeno brojem 1 i \_\_\_\_\_ more koje je na karti označeno brojem 2.

3. (2) Kružićem je označen najveći grčki grad kojemu je ime \_\_\_\_\_, a trokutićem grad i luka tog najvećeg grada \_\_\_\_\_.

**U SLJEDEĆA ČETIRI ZADATKA POVEŽI PAROVE UPISIVANJEM SAMO JEDNOG SLOVA NA CRTU ISPRED PONUĐENIH ODGOVORA. TRI CRTE MORAJU OSTATI PRAZNE.**

**4. (2)** Poveži imena kompanija s državom u kojoj se nalazi njihovo sjedište.



\_\_\_\_\_ Austrija      \_\_\_\_\_ Češka      \_\_\_\_\_ Rumunjska  
\_\_\_\_\_ Slovenija      \_\_\_\_\_ Slovačka

**5. (2)** Poveži navedene opise s pripadajućim gradovima.

**A)** gospodarsko središte na rijeci Clyde

**B)** lučko središte na estuariju rijeke Schelde

\_\_\_\_\_ Antwerpen      \_\_\_\_\_ Edinburgh      \_\_\_\_\_ Glasgow  
\_\_\_\_\_ Liverpool      \_\_\_\_\_ Swansea

6. (2) Poveži navedene nazive tipova klime s gradovima u kojima prevladavaju.

A) Umjereno topla vlažna klima s vrućim ljetom

B) Umjereno topla vlažna klima s toplim ljetom

\_\_\_\_\_ Atena      \_\_\_\_\_ Barcelona      \_\_\_\_\_ Bilbao

\_\_\_\_\_ Cannes      \_\_\_\_\_ Venecija

7. (2) Poveži fotografije zgrada nacionalnih parlamenata s gradovima u kojima se nalaze.



\_\_\_\_\_ Beč      \_\_\_\_\_ Budimpešta      \_\_\_\_\_ Dublin

\_\_\_\_\_ London      \_\_\_\_\_ Madrid

**U SLJEDEĆIH ŠEST ZADATAKA DVA SU TOČNA ODGOVORA.  
ZAKRUŽI SLOVA ISPRED TOČNIH ODGOVORA.**

**8.** (2) Koji se od navedenih gradova Bosne i Hercegovine nalaze u entitetu Republika Srpska?

a) Bihać b) Bijeljina c) Jajce d) Prijedor e) Sanski Most

**9.** (2) Koji su od navedenih nogometnih klubova iz gradova smještenih na otoku?

a) Calcio Cagliari b) CD Tenerife c) Celta de Vigo

d) CSKA Sofija e) Partizan Beograd

**10.** (2) Koji se od navedenih talijanskih gradova nalaze na obali Tirenskog mora?

a) Brindisi b) Genova c) Napulj (Napoli) d) Palermo e) Trst

**11. (2)** U kojim je od navedenih država Jugoistočne Europe službena valuta euro?

a) Albanija b) Bugarska c) Crna Gora d) Kosovo e) Srbija

**12. (2)** Koja od navedenih gorja su dio koji okružuje Češku zavalu?

a) Beskidi b) Krušna gora c) Matra d) Stara planina  
e) Šumava

**13. (2)** Koji su od navedenih gradova dobili ime po soli?

a) Beč b) Mostar c) Salzburg d) Rim e) Tuzla

**U SLJEDEĆEM ZADATKU POVEŽI POJMOVE UPISIVANJEM PRIPADAJUĆEG SLOVA I BROJA NA CRTU ISPRED POJMOVA U LIJEVOM STUPCU. JEDAN POJAM IZ DESNOG STUPCA I JEDNA FOTOGRAFIJA NE MOGU SE POVEZATI.**

**14. (3)** Poveži gradove s pokrajinom u kojoj se nalaze i pripadajućom fotografijom.

\_\_\_\_\_ Firenza

\_\_\_\_\_ Kraków

\_\_\_\_\_ München

**A)** Lombardija

**B)** Bavarska

**C)** Šleska (Šlezija)

**D)** Toskana





**U SLJEDEĆEM ZADATKU POVEŽI POJMOVE UPISIVANJEM PRIPADAJUĆEG SLOVA I BROJA NA CRTU ISPRED POJMOVA U LIJEVOM STUPCU. JEDAN POJAM IZ SREDNJEGA I JEDAN POJAM IZ DESNOGA STUPCA NE MOGU SE POVEZATI.**

**15. (3)** Poveži gradove s nizinama u kojoj se nalaze i rijekama koje protječu kroz te gradove.

\_\_\_\_\_ Zaragoza

**A)** Panonska

**1)** Dunav

\_\_\_\_\_ Szeged

**B)** Vlaška

**2)** Ebro

\_\_\_\_\_ Sevilla

**C)** Aragonska

**3)** Tejo

**D)** Andaluzijska

**4)** Guadalquivir

**U SLJEDEĆEM ZADATKU POVEŽI POJMOVE UPISIVANJEM SAMO JEDNOG SLOVA NA SVAKU CRTU ISPRED POJMA U LIJEVOM STUPCU. JEDAN POJAM IZ DESNOG STUPCA NE MOŽE SE POVEZATI.**

**16. (2)** Poveži nacionalne parkove s državama u kojima se nalaze.

\_\_\_\_\_ Bükk

A) Crna Gora

\_\_\_\_\_ Coto de Doñana

B) Mađarska

\_\_\_\_\_ Durmitor

C) Slovačka

\_\_\_\_\_ Tatra

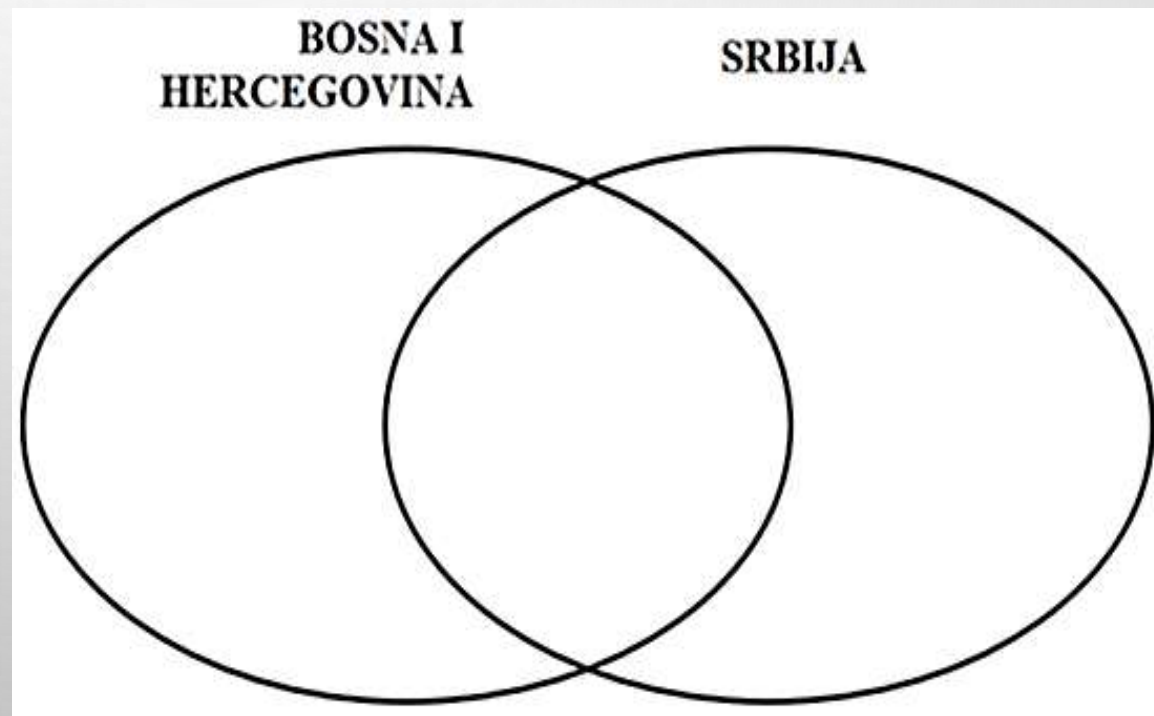
D) Slovenija

E) Španjolska

**U SLJEDEĆEM ZADATKU RAZVRSTAJ POJMOVE UPISIVANJEM SLOVA U ODGOVARAJUĆA POLJA VENNOVOG DIJAGRAMA. U SVAKI DIO MORAJU BITI UPISANA DVA SLOVA.**

**17. (3)** Navedene pojmove razvrstaj na način da slova ispred obilježja koja se odnose samo na Bosnu i Hercegovinu upišeš u lijevi dio lijevog kruga, a slova ispred obilježja koja se odnose samo na Srbiju upišeš u desni dio desnog kruga. Slova ispred obilježja koja su im zajednička upiši u središnji dio.

- A) izlaz na more
- B) rijeka Sava
- C) mađarska nacionalna manjina
- D) članica bivše SFRJ
- E) višenacionalna država
- F) rijeka Morava



**U SVAKOM OD SLJEDEĆA ČETIRI ZADATKA JEDAN JE TOČAN ODGOVOR. ZAOKRUŽI SLOVO ISPRED TOČNOG ODGOVORA.**

**18.** (1) Od šest europskih regija koliko ih ima izlaz na Crno more?

a) jedna   b) dvije   c) tri   d) četiri   e) pet

**19.** (1) Koja se od navedenih rijeka ne ulijeva u rijeku Dunav?


a) Aliakmon   b) Inn   c) Morava   d) Siret   e) Tisa

**20.** (1) Koja od navedenih država ima obalu na Alboranskom moru?

a) Italija   b) Grčka   c) Slovenija   d) Španjolska   e) Švedska

**21.** (1) Kojoj od navedenih država pripada zastava na prikazu?

- a) Malti    b) Monaku    c) Poljskoj    d) Slovačkoj    e) Švedskoj



**SLJEDEĆI ZADATAK RIJEŠI POMOĆU PRILOŽENIH  
FOTOGRAFIJA. DOPUNI REČENICE  
ODGOVARAJUĆIM IMENIMA DRŽAVA.**

**22.** (2) Država koja je vodeća u svijetu po proizvodnji voća s fotografije **1** jest \_\_\_\_\_, dok je po proizvodnji voća s fotografije **2** vodeća država svijeta \_\_\_\_\_.



## U SLJEDEĆA DVA ZADATKA DOPUNI REČENICE.

**23. (2)** Ime države Jugoistočne Europe koja je neovisnost proglasila 2006. godine jest

\_\_\_\_\_, a ime države koja je neovisnost proglasila dvije godine kasnije jest

\_\_\_\_\_.

**24. (2)** Skadarsko jezero je granično jezero između države kojoj je ime \_\_\_\_\_ i Albanije, dok je

Ohridsko jezero granično između države kojoj je ime \_\_\_\_\_ i Albanije.

**U SLJEDEĆEM ZADATKU U TEKSTU KOJI OPISUJE NAJMANJE DRŽAVE JUŽNE EUROPE TRI SU POGREŠNE RIJEČI (ili pojma). PRONAĐI U TEKSTU POGREŠNE RIJEČI (pojmove), ISPIŠI IH U LIJEVI STUPAC TABLICE, A UZ NJIH U DESNI STUPAC, U ISTOM REDU, UPIŠI TOČNE RIJEČI.**

**25.** (3) Pažljivo pročitaj tekst o najmanjim državama Južne Europe i riješi zadatak kao što je napisano u napatku iznad.

*Republika Andora je planinska država u Pirenejima između Španjolske i Francuske. Najveći grad je Andorra la Vella, a stanovništvo se većinom bavi turizmom. Andora je multinacionalna država u kojoj je službeni jezik katalonski. San Marino je republika unutar teritorija Italije, jugozapadno od poznatog turističkog mjesta Riminija. Obuhvaća masiv Monte Vettore i pobrđe oko njega. Gospodarski je najviše povezan s Italijom, a najveće značenje u gospodarstvu ima turizam. Vatikan je površinom najmanja država svijeta, ali velikog međunarodnog utjecaja. Nalazi se unutar Rima, na desnoj obali rijeke Tiber. Vatikan je sjedište Katoličke Crkve i njezina poglavara pape. Austrijska garda je zadužena za sigurnost pape i ostalih osoba u Vatikanu.*

NETOČAN POJAM	TOČAN POJAM



**SLJEDEĆA DVA ZADATKA RIJEŠI POMOĆU PRILOŽENE TABLICE.  
DOPUNI REČENICE IMENIMA DRŽAVA I GRADOVA.**

Infrastrukturni podatci	DRŽAVA				
	BELGIJA	NJEMAČKA	ITALIJA	RUMUNJSKA	ŠPANJOLSKA
Duljina željezničkih pruga u km	3 592	33 590	20 182	11 268	15 333
Broj zračnih luka	41	539	129	45	135
Duljina naftovoda u km	150	2 400	1 400	2 500	360
Duljina autocesta u km	1 800	13 000	6 900	720	16 000
Duljina cesta u km	118 414	625 000	487 700	84 185	15 500

Izvor: The World Factbook, CIA

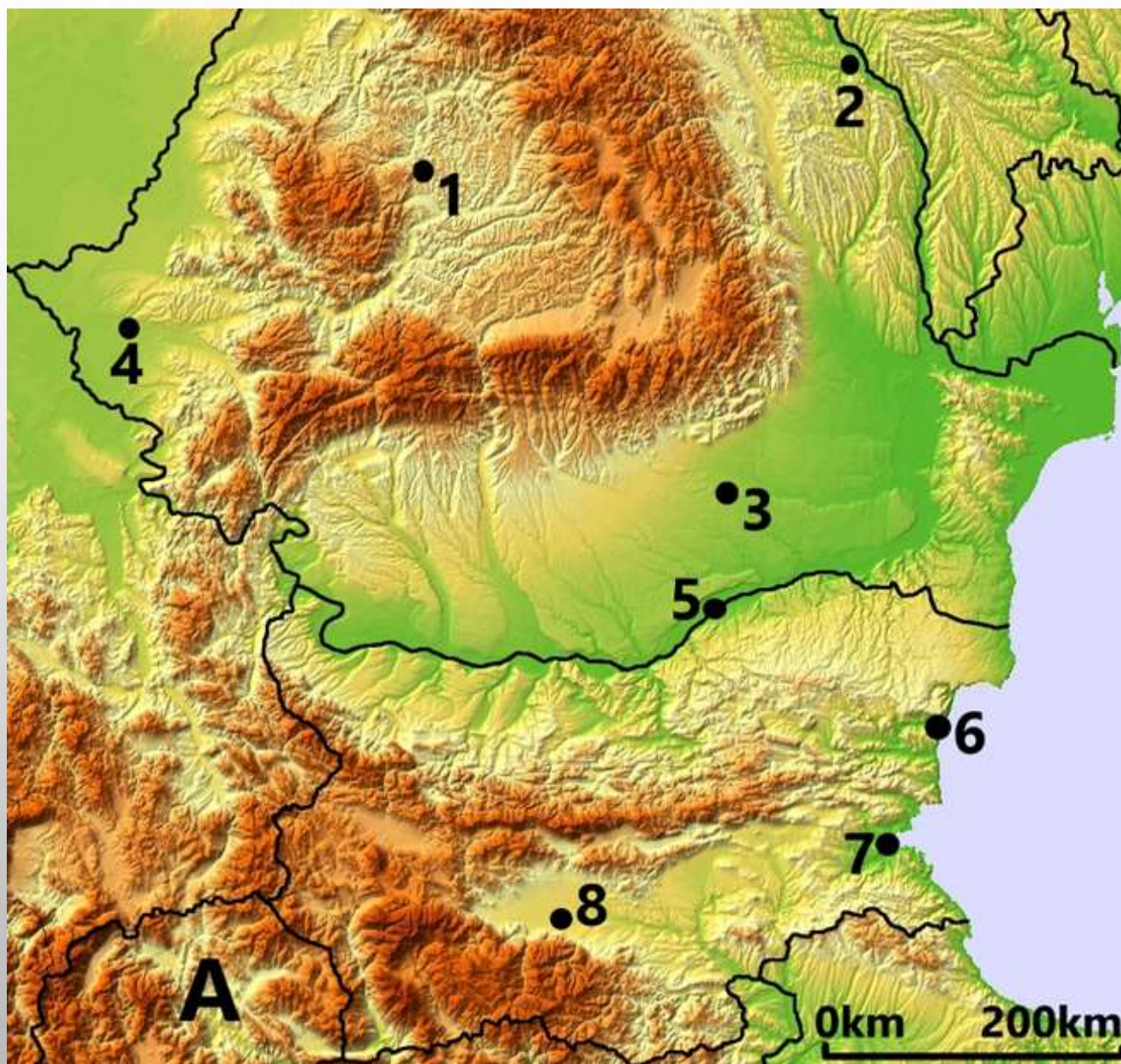
**26. (2)** Ime države od navedenih u tablici s najvećom duljinom željezničkih pruga u km jest \_\_\_\_\_. Od ukupne duljine željezničkih pruga u km država navedenih u tablici izračunaj na jednu decimalu koliki udio ima država s najvećom duljinom željezničkih pruga u km. Udio iznosi \_\_\_\_\_.

Infrastrukturni podatci	DRŽAVA				
	BELGIJA	NJEMAČKA	ITALIJA	RUMUNJSKA	ŠPANJOLSKA
Duljina željezničkih pruga u km	3 592	33 590	20 182	11 268	15 333
Broj zračnih luka	41	539	129	45	135
Duljina naftovoda u km	150	2 400	1 400	2 500	360
Duljina autocesta u km	1 800	13 000	6 900	720	16 000
Duljina cesta u km	118 414	625 000	487 700	84 185	15 500

Izvor: The World Factbook, CIA

**27. (2)** Među navedenim u tablici, država s najvećom duljinom naftovoda jest \_\_\_\_\_. Od ukupne duljine naftovoda u km država navedenih u tablici izračunaj na jednu decimalu koliki udio ima država s najvećom duljinom naftovoda u km. Udio iznosi \_\_\_\_\_.

# SLJEDEĆA ČETIRI ZADATKA RIJEŠI POMOĆU PRILOŽENE KARTE DIJELA JUGOISTOČNE EUROPE.



**28.** (2) Država na karti označena slovom **A** je od samostalnosti do 2019. godine imala puni službeni naziv koji je glasio

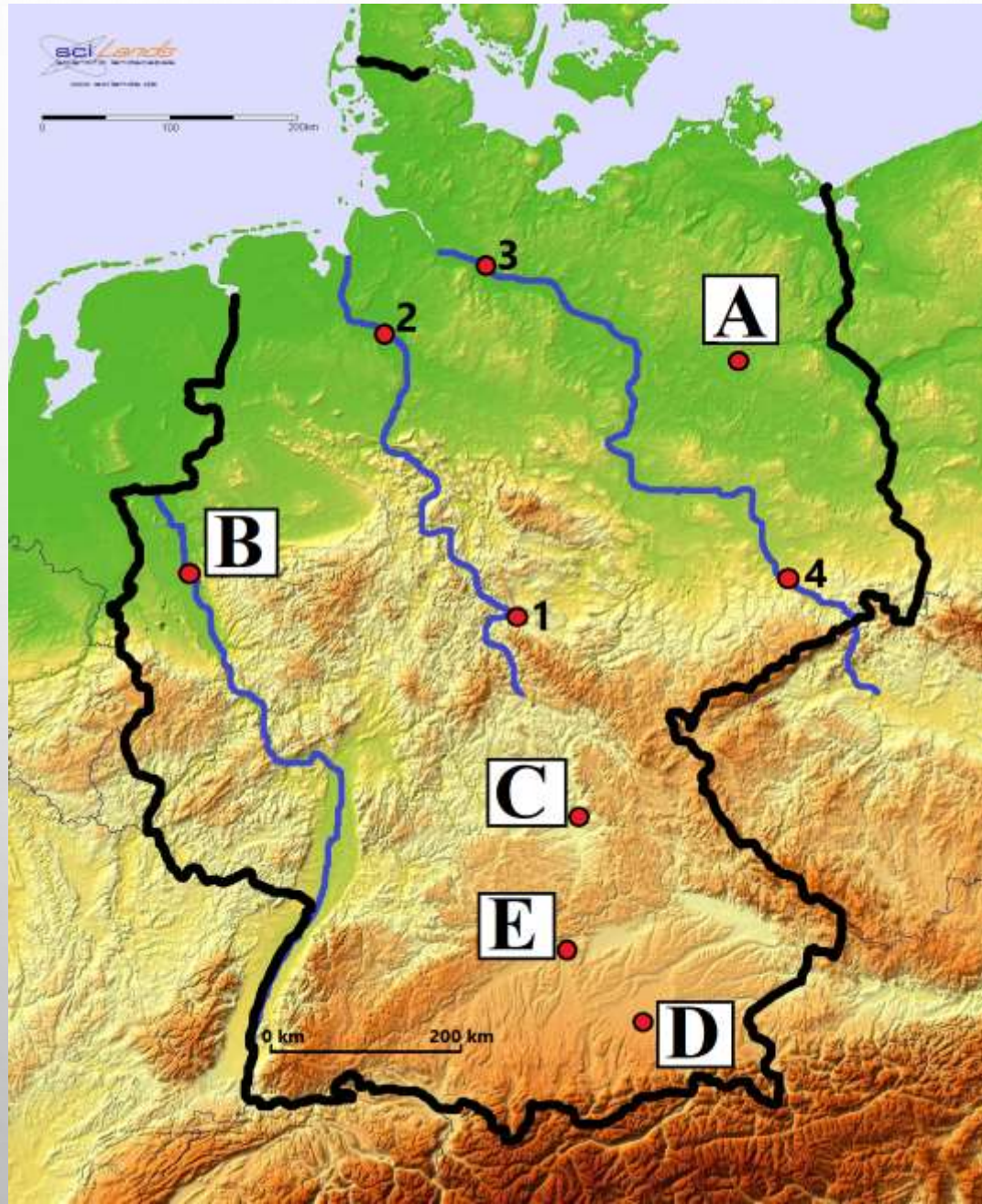
\_\_\_\_\_ ,  
a od veljače 2019. nosi ime

\_\_\_\_\_ .  
**29.** (2) Najveći grad pokrajine Transilvanije je na karti označen kružićem i brojem \_\_\_\_\_, a ime tog grada jest \_\_\_\_\_ . Najvećim gradom Trakijske nizine protječe rijeka čije ime je \_\_\_\_\_ .

**30. (2)** Glavna morska luka Bugarske na karti je označena kružićem i brojem \_\_\_\_\_, a ime tog grada jest \_\_\_\_\_  
\_\_\_\_\_. Ime najveće riječne luke Bugarske označene kružićem i brojem **5** na karti jest \_\_\_\_\_.

**31. (2)** Najveća rumunjska morska luka jest grad \_\_\_\_\_, a najveća riječna luka Rumunjske jest grad \_\_\_\_\_.

# SLJEDEĆA TRI ZADATKA RIJEŠI POMOĆU PRILOŽENE KARTE NJEMAČKE.



**32.** (2) Ime grada skoro u potpunosti razrušenog u Drugom svjetskom ratu i na karti označenog brojem **4** jest \_\_\_\_\_ . Ime rijeke koja protječe tim gradom jest \_\_\_\_\_ .

**33.** (2) Ime velike luke i grada na karti označenog brojem **2** jest \_\_\_\_\_ . Ime rijeke koja protječe tim gradom jest \_\_\_\_\_ .

**34. (2)** Ime grada u kojem se održava

Oktoberfest jest \_\_\_\_\_, a

na karti je označen slovom \_\_\_\_\_.

Ime grada koji je najveća europska riječna luka

jest \_\_\_\_\_, a na karti je

označen slovom \_\_\_\_\_.



**SLJEDEĆI ZADATAK RIJEŠI POMOĆU PRILOŽENE KARTE**  
**DIJELA ISTOČNE EUROPE.**



**35. (2)** Glavna ratna luka bivšeg SSSR-a jest grad Sevastopolj koji je na karti označen slovom \_\_\_\_\_.

Brojem **1** i crvenom linijom je označena granična rijeka između Moldavije i Rumunjske.

Ime te rijeke jest

\_\_\_\_\_.