

27. DRŽAVNO
NATJECANJE IZ
GEOGRAFIJE

MULTIMEDIJALNI
ISPIT ZA
6. RAZRED

**Prije rješavanja ispita pročitaj upute za rješavanje na listu
za odgovore!**

PRVIH SEDAM ZADATAKA RIJEŠI UZ POMOĆ PRILOŽENIH FOTOGRAFIJA ZAŠTIĆENE KULTURNE BAŠTINE I PRILOŽENE GEOGRAFSKE KARTE.

A)



B)



C)



D)



E)



F)

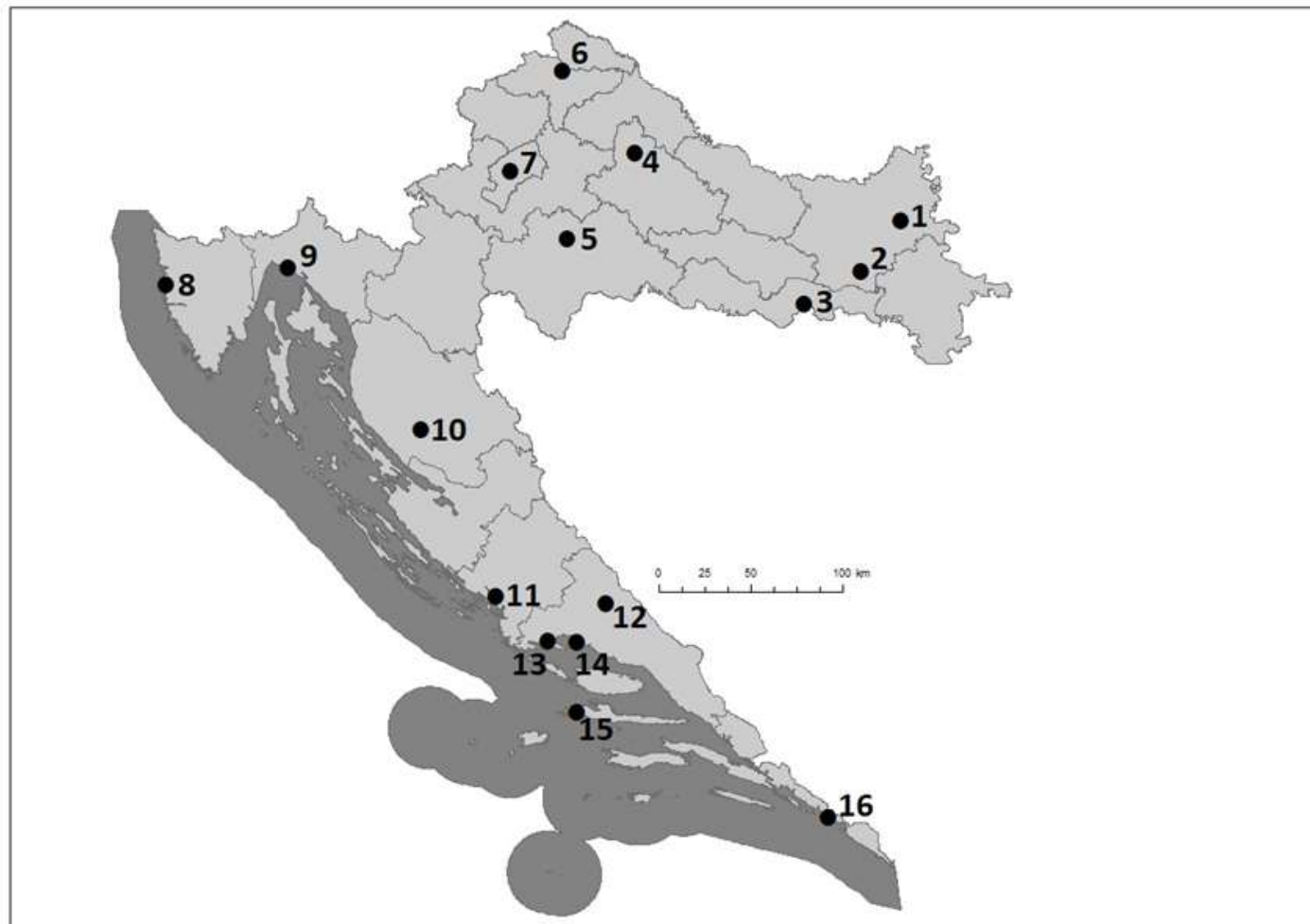


3	
---	--

1. Primjer zaštićene kulturne baštine označen slovom **A** smješten je u naselju na priloženoj karti označenom brojem _____, dok je zaštićena baština s fotografije označene slovom **C** smještena u naselju na karti označenom brojem _____. Primjer zaštićene kulturne baštine s fotografije označene slovom **B** vežemo uz naselje na karti označeno brojem _____.

2	
---	--

2. Primjer zaštićene kulturne baštine s fotografije označene slovom **E** vežemo za naselje na karti označeno brojem _____, dok je primjer baštine s fotografije označene slovom **F** smješten u naselju na karti označeno brojem _____.



2	
---	--

 3. Makroregionalni centar najbliži području na kojemu se odvija godišnji pokladni ophod zvončara na priloženoj je karti označen brojem _____, dok je naselje najbliže zaštićenom Starogradskom polju označeno brojem _____.

1	
---	--

 4. Festa svetog Vlaha odvija se u regionalnom središtu na priloženoj karti označenom brojem _____.

2	
---	--

 5. Namirnice prikazane na fotografiji označenoj slovom **D** karakteristične su za _____ prehranu/kuhinju (upiši naziv prehrane/kuhinje koja je upisana na UNESCO-ov Popis zaštićene kulturne baštine). Biljka od koje se proizvodi ulje s fotografije označene slovom **D** naziva se _____.

2	
---	--

6. Osim primjera iz petog zadatka, primjeri zaštićene nematerijalne baštine koji se nalaze na UNESCO-ovom popisu prikazani su na fotografijama označenima slovima _____ i _____.

2	
---	--

7. Zaposlene u državnim institucijama koji se bave zaštitom baštine i spomenika kulture svrstavamo u _____ sektor djelatnosti, dok gospodarsku djelatnost čijem razvoju najviše doprinosi zaštićena kulturna baština svrstavamo u _____ sektor djelatnosti (upiši odgovarajuće nazive sektora djelatnosti).

SLJEDEĆA ČETIRI ZADATKA RIJEŠI UZ POMOĆ PRILOŽENIH PONUDA TURISTIČKIH ARANŽMANA I DIJAGRAMA STRUKTURE TURISTIČKIH DOLAZAKA U AFRICI OD POČETKA 2016. DO KRAJA 2018. GODINE.

A)

First minute



Ovaj veličanstven grad poznat po zlatu i smješten u blizini povijesno važnog rta jedan je od turistički najposjećenijih gradova Afrike i najpopularnija turistička destinacija u svojoj državi. Ugodna sredozemna klima pridonosi njegovoj turističkoj privlačnosti. [Prikaži na karti](#)

TIP PONUDE: Grupna putovanja PRIJEVOZ: Avion POLASCI: [Datum polazaka](#) TRAJANJE: 14 dana

Zrakoplovne pristojbe uključene u cijenu!

od **33.870** kn 14 DANA **DETALJI**

B)

First minute



Obilazak afričke prirode i životinja u njihovom prirodnom okruženju zasigurno je san svakog ljubitelja putovanja i avanture. Osim lova na dobre fotografije lava ili zebre, tijekom ove ture posjetit ćete i Nacionalni park Serengeti, Ngorongoro te Viktorijino jezero.

TIP PONUDE: Grupna putovanja PRIJEVOZ: Avion POLASCI: [Datum polazaka](#) TRAJANJE: 10 dana

Zrakoplovne pristojbe uključene u cijenu!

od **27.980** kn 10 DANA **DETALJI**

C)

Ultra first minute



Na zapadnoj obali Crvenoga mora, na dužini od više od 30 kilometara, prostire se primorsko ljetovalište Hurghada. Nad pješčanom plažom izrasli su impresivni hotelski kompleksi. Odmor u Hurghadi idealan je za one koji obožavaju sunce zbog suptropske klime s jako vrućim ljetima.

Direktni charter letovi svake subote iz Ljubljane, 365 dana u godini!

PRIJEVOZ: Avion POLASCI: [Datum polazaka](#)

Zrakoplovne pristojbe uključene u cijenu!

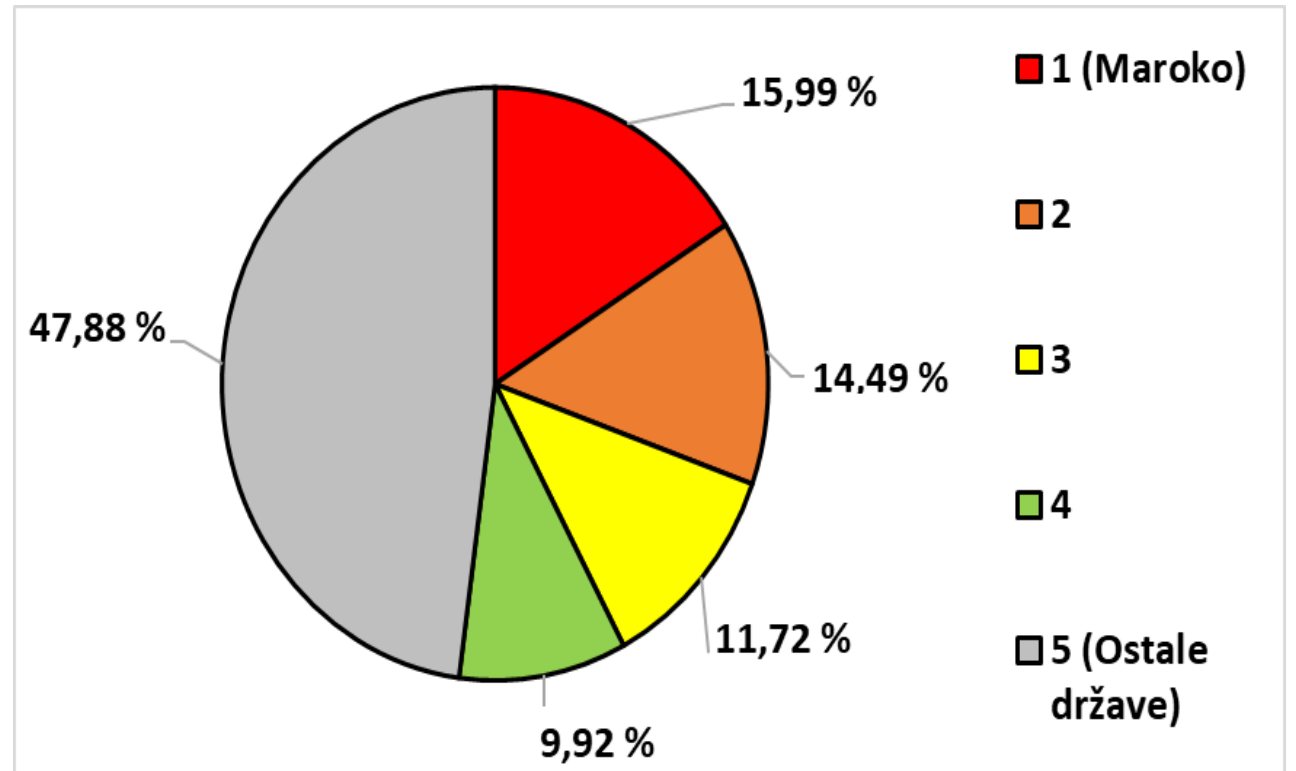
od **3.450** kn 7 NOĆENJA **DETALJI**

2

8. Dolasci turista koji se odluče na turistički aranžman označen slovom **A**, pribrajat će se udjelu turističkih dolazaka državi koja je na priloženom dijagramu označena brojem _____, dok će se dolasci turista koji se odluče na aranžman označen slovom **C** pribrajati udjelu turističkih dolazaka na priloženom dijagramu označenih brojem _____.

2

9. Naziv za oblik turizma koji je ponuđen u aranžmanu označenom slovom **B**, a obuhvaća razgledavanje afričke prirode i životinja u prirodnom okružju naziva se _____, a dolasci turista koji se odluče za ovaj aranžman, pribrajat će se udjelu koji je na dijagramu označen brojem _____.



2	
---	--

10. Koje su dvije turistički najslabije razvijene države afričkog i azijskog Sredozemlja?
Zaokruži slova ispred točnih odgovora.

a) Alžir **b)** Izrael **c)** Libija **d)** Tunis **e)** Turska

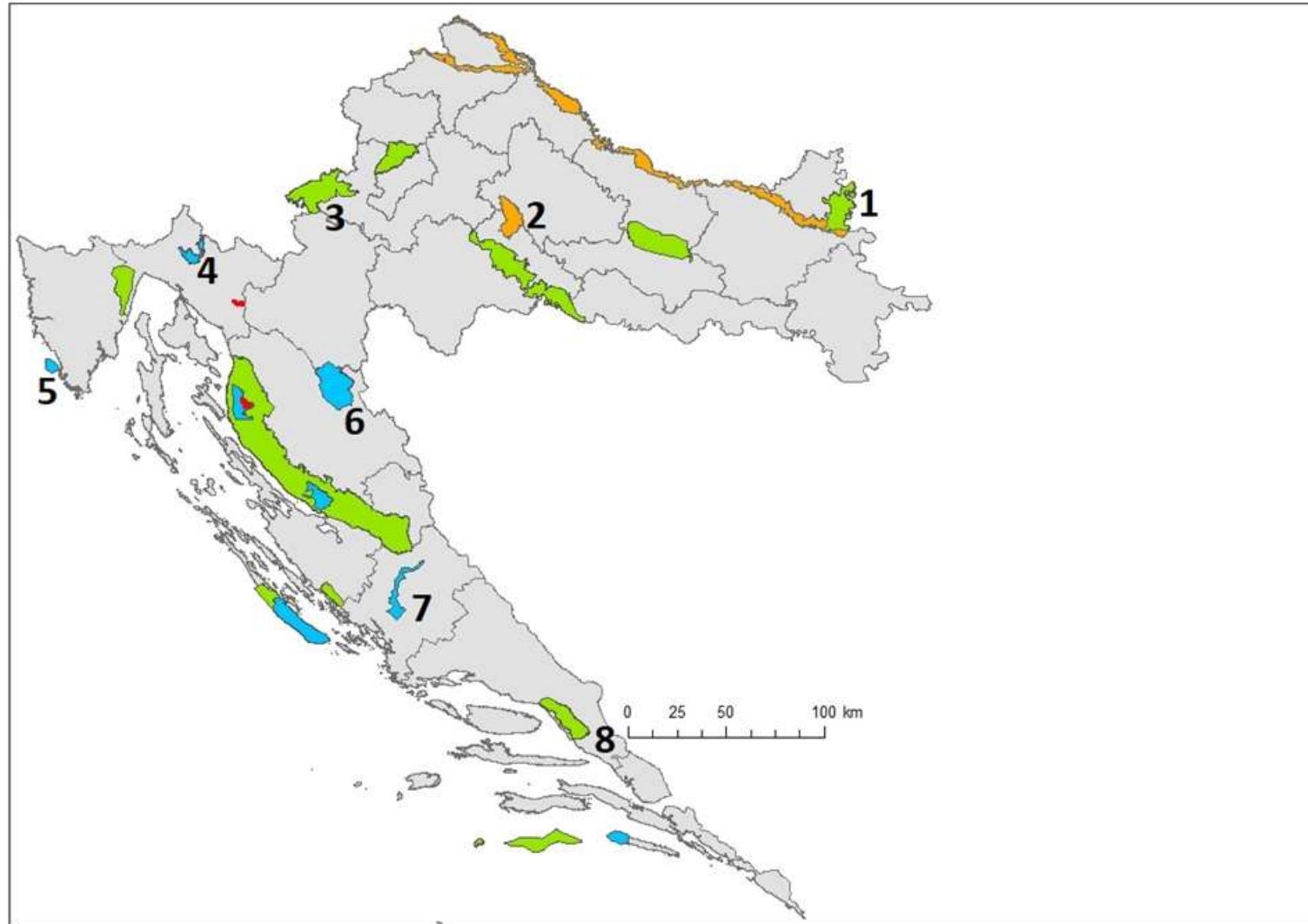
2	
---	--

11. Jedna od najvažnijih turističkih atrakcija u Africi, Veliki hram Ramzesa II. u Abu Simbelu premješten je sa svog izvornog lokaliteta zbog izgradnje brane na rijeci Nil. Navedena brana naziv je dobila prema gradu čije je ime _____ .

Pregrađivanjem rijeke Nil navedenom branom nastalo je jezero čije je ime

_____.

SLJEDEĆIH ŠEST ZADATAKA RIJEŠI UZ POMOĆ PRILOŽENE KARTE PODRUČJA ZAŠTIĆENE PRIRODE U HRVATSKOJ.



2 **12.** Na priloženoj karti narančastom su bojom označena zaštićena područja s kategorijom zaštite koja se naziva _____. Zaštićena područja u kojima nije dopuštena nikakva gospodarska ili druga djelatnost, ali se može dopustiti posjećivanje i istraživanje označena su na priloženoj karti _____ bojom.

1 **13.** Najstariji hrvatski nacionalni park na karti označen je brojem _____.

3 **14.** Ime našeg najjužnijeg parka prirode je _____, dok se Park prirode Papuk prostire se na području dviju županija koje svoja sjedišta imaju u regionalnim centrima čija su imena _____ i _____.

2	
---	--

15. Brojem **4** označeno je zaštićeno područje čije je puno ime _____, dok je brojem **8** označeno zaštićeno područje čije je puno ime _____.

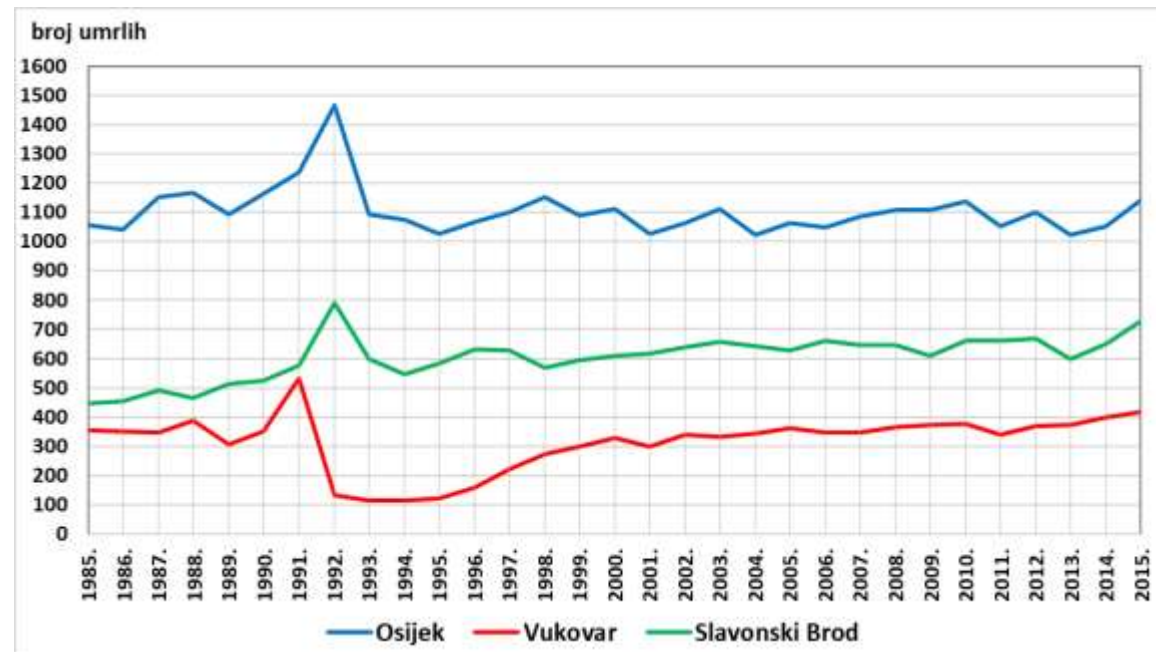
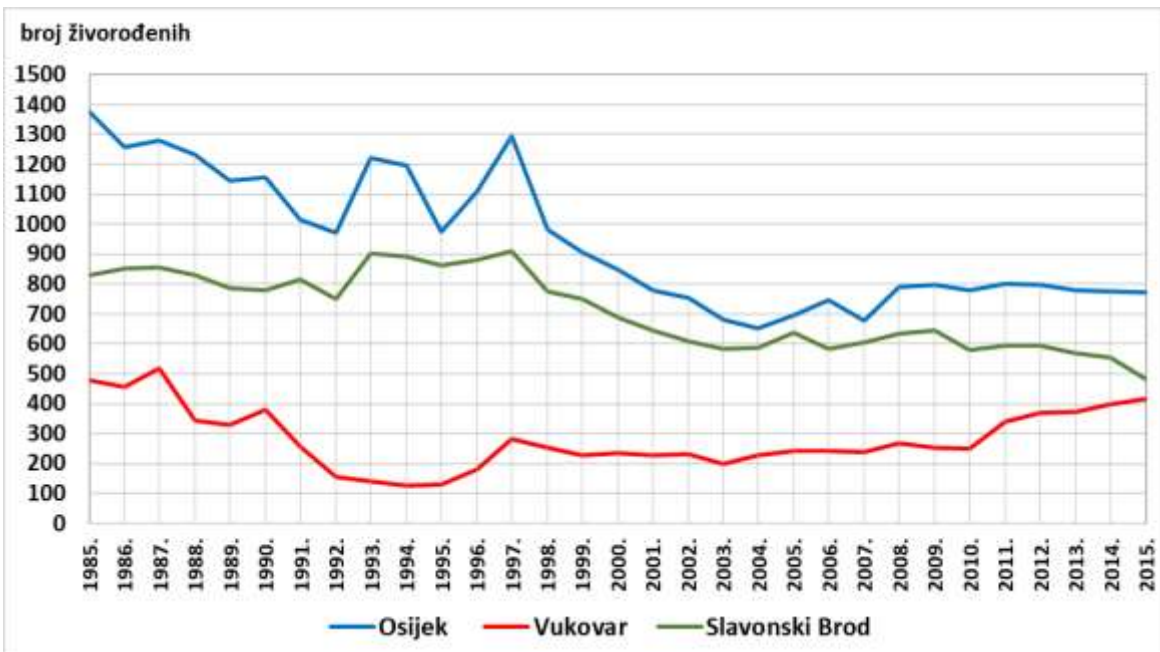
1	
---	--

16. Park prirode kojim se štiti jedno od najvećih močvarnih područja u Hrvatskoj označen je na priloženoj karti brojem _____.

2	
---	--

17. Zaštićenim područjem označenim brojem **7** protiče rijeka _____, a ime regionalnog centra najbližeg tom zaštićenom području je _____.

SLJEDEĆIH PET ZADATAKA RIJEŠI UZ POMOĆ PRILOŽENIH DIJAGRAMA I TABLICE.



Godina	Ukupan broj stanovnika		
	Osijek	Slavonki Brod	Vukovar
2011.	107 900	60 000	27 700
2012.	107 000	58 500	27 300
2013.	106 100	58 000	26 900
2014.	105 500	57 500	26 500
2015.	104 800	56 900	26 100

2	
---	--

18. Godine 1993. natalitet u naselju Slavonski Brod iznosio je _____, dok je četiri godine prije mortalitet u Vukovaru iznosio _____.

2	
---	--

19. Najveći pad nataliteta unutar 365 dana u naselju Osijek dogodio se između _____ i _____ godine, dok se najveći pad mortaliteta unutar 365 dana u naselju Vukovar dogodio između _____ i _____ godine.

2	
---	--

20. Prirodna promjena u naselju Osijek 1997. godine iznosi _____, dok prirodna promjena u istom naselju 2009. godine iznosi _____.

2	
---	--

21. Stopa mortaliteta u naselju Slavonski Brod 2013. godine iznosi _____, dok stopa prirodne promjene u naselju Osijek 2012. godine iznosi _____ (rezultate upiši s jednim decimalnim mjestom).

1	
---	--

22. Kronološkim redom, prva godina u kojoj je u naselju Slavonski Brod vidljiv negativan utjecaj prirodnog kretanja stanovništva na ukupno (opće) kretanje stanovništva je _____ godina.

SLJEDEĆA ČETIRI ZADATKA RIJEŠI POMOĆU PRILOŽNIH TEKSTOVA SA ZAHTJEVIMA KLIJENATA TURISTIČKIH AGENCIJA.

Gospođa **Ana** putuje s obitelji i želi otputovati u državu s razvijenom turističkom infrastrukturom. Najvažniji dio putovanja njezinoj obitelji je kupanje pa je važno da otputuju u državu s razvijenim kupališnim turizmom. Osim sunca i mora, gospođa Ana želi posjetiti i bar jedan lokalitet s UNESCO-ovog Popisa svjetske baštine te bar jedan dan provesti u pustinji. Sviđa joj se muslimanska i arapska kultura pa želi posjetiti i njihove bogomolje te tradicionalne tržnice. Njezina obitelj uživa u jelima od kus-kusa, slanutka i datulja. Unatoč činjenici da joj se sviđa muslimanska kultura, gospođa Ana na odmoru ne želi nositi maramu na glavi.

Gospodin **Branimir** na odmor putuje sa suprugom. Žele otići u krajeve s tropskim tipovima klime. Gospodin Branimir je fasciniran arhitekturom rimokatoličkih bogomolja pa mu je važno da na destinaciji bude velik broj takvih građevina. Njegovoj supruzi zanimljiviji su tradicionalni proizvodi od duhana te pića koja se spravlja od ruma i kokosa. Oboje ih zanima planska ekonomija i socijalizam. Uživaju u jelima od svinjetine u kojima se osjete afričko-španjolski utjecaji.

Gospođa **Cecilija** na odmor putuje s društvom. Društvo je puno avanturista pa ih kupanje i ležanje na plaži ne zanima. Unatoč tome, žele se okupati u blizini najniže točke na Zemlji. Na odmoru žele odsjesti u tradicionalnom šatorskom naselju u pustinji te posjetiti suha pustinjska riječna korita i doline u blizini. Voljeli bi posjetiti neki od lokaliteta s UNESCO-ovog Popisa svjetske baštine i osjetiti duh arapske kulture.

3	
---	--

23. Poveži srednji i desni stupac s lijevim upisivanjem pripadajućeg slova i broja na crtu ispred imena klijenta turističke agencije u lijevom stupcu. Pojam iz srednjeg stupca odgovara idealnoj destinaciji za klijenta, dok se pojam u desnom stupcu odnosi na zračnu luku u koju će sletjeti klijent kod putovanja u idealnu destinaciju. Dva pojma iz srednjeg i desnog stupca ne mogu se povezati.

_____ ANA

_____ BRANIMIR

_____ CECILIJA

A) Jordan

B) Kuba

C) Meksiko

D) Saudijska Arabija

E) Tunis

1) Zračna luka Acapulco

2) Zračna luka Amman

3) Zračna luka Havana

4) Zračna luka Kartaga

5) Zračna luka Riyad

2	
---	--

24. Suho korito povremenih tekućica u pustinjama Afrike i Jugozapadne Azije naziva se _____, dok je naziv tradicionalnih šatora u pustinjama na području Mongolije _____.

2	
---	--

25. Muslimanske bogomolje koje spominje gospođa Ana nazivaju se

_____, dok se kršćanske bogomolje o kojima govori gospodin Branimir nazivaju _____.

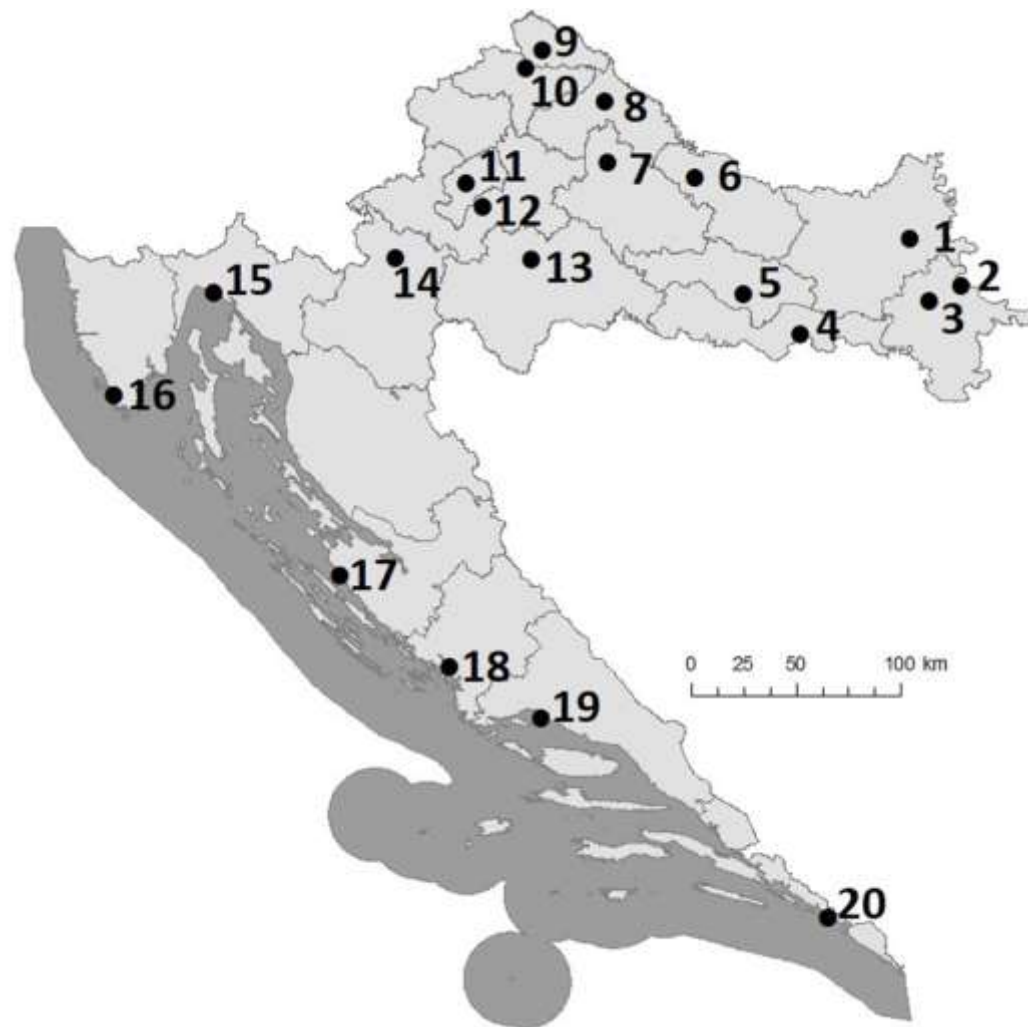
2	
---	--

26. U priloženim tekstovima spomenute su dvije vrste ploda stabla palme čiji je naziv

_____ i _____.

SLJEDEĆA ČETIRI ZADATKA RIJEŠI UZ POMOĆ PRILOŽENE TABLICE PRIMJERA FUNKCIJA CENTRALNIH NASELJA TE PRILOŽENE GEOGRAFSKE KARTE.

RIJEKA	VUKOVAR
<ul style="list-style-type: none"> - Sveučilište u Rijeci - Klinički bolnički centar Rijeka - općinski i županijski sud - Trgovački sud u Rijeci - Veći broj hipermarketa i robnih kuća 	<ul style="list-style-type: none"> - Opća bolnica Vukovar - Općinski i županijski sud - Veleučilište Lavoslav Ružička - Veći broj supermarketa i više od 100 malih prodavaonica



2	
---	--

27. Makroregionalni centar iz priložene tablice na priloženoj je karti označen brojem _____, dok je regionalni centar iz priložene tablice na priloženoj karti označen brojem _____.

2	
---	--

28. Klinički bolnički centar u kontinentalnom dijelu Hrvatske, osim u glavnom gradu, smješten je u naselju označenom brojem _____, a ime tog naselja je _____.

2	
---	--

29. Studentima iz Siska najbliže Sveučilište nalazi se u naselju označenom brojem _____, a ime tog naselja je _____.

3	
---	--

30. Većina stanovnika otoka Krka, ukoliko žele kupovati u najbližem hipermarketu, uputit će se u naselje čiji je ime _____, dok će se oni koji žive na otoku Braču i imaju istu želju uputiti u naselje čije je ime _____, a na karti je označeno brojem _____.

U PRILOŽENOM TEKSTU NA TEMU NAFTE TRI SU POGREŠNE RIJEČI. PRONAĐI U TEKSTU POGREŠNE RIJEČI, ISPIŠI IH U PRVI STUPAC TABLICE, A UZ NJIH U DRUGI STUPAC, U ISTOM REDU, UPIŠI TOČNE RIJEČI.

3	
----------	--

31. Pažljivo pročitaj tekst i riješi zadatak kao što je napisano u naputku.

Suvremeni svijet nezamisliv je bez energije, posebice bez neobnovljivih izvora poput nafte i zemnog plina. O važnosti nafte govori činjenica da je bila povod ratnim sukobima, ali je isto tako diktirala i njihove ishode. Kao i ostala prirodna bogatstva, nafta je nejednoliko prostorno raspoređena. Više od polovice svjetskih poznatih zaliha nafte nalazi se na području jugoistočne Azije, osobito uz obale Arapsko-perzijskog zaljeva. Za izvoz nafte iz država na obalama spomenutog zaljeva, osobito je važan morski prolaz Bospor kao prometna poveznica s Indijskim oceanom. Državama koje nemaju dovoljno nafte za vlastite potrebe, uvoz nafte predstavlja veliki trošak. Tako je, primjerice, najveći svjetski uvoznik nafte Japan, a najveći izvoznik Saudijska Arabija.

NETOČAN POJAM	TOČAN POJAM

U SLJEDEĆA TRI ZADATKA POVEŽI PAROVE UPISIVANJEM SLOVA NA CRTU ISPRED
PONUĐENIH ODGOVORA. TRI CRTE MORAJU OSTATI PRAZNE.

2

32. Navedena imena regija poveži s pripadajućim gradom.

A) Rust Belt

B) Sun Belt

_____ Denver _____ Detroit _____ Houston _____ Seattle _____ Washington D.C.

2

33. Navedene tvrdnje poveži s gradom na koji se odnose.

A) najmnogoljudniji grad Južne Amerike **B) najmnogoljudniji glavni grad države Latinske Amerike**

_____ Brasilia _____ Buenos Aires _____ Ciudad de Mexico _____ Rio de Janeiro _____ Sao Paulo

2

34. Navedene biljne zajednice poveži s odgovarajućim tipom klime.

A) llanos

B) prerija

_____ prašumska _____ savanska _____ stepska _____ umjereno topla _____ klima tundre

U POSLJEDNJEM ZADATKU JEDAN JE ODGOVOR TOČAN. ZAKRUŽI SLOVO ISPRED TOČNOG ODGOVORA.

1

35. U kojoj od navedenih meteoroloških postaja je najveća učestalost meteorološke pojave koju nazivamo mećava?

a) Boston b) Dallas c) Miami d) San Francisco