

**26. DRŽAVNO NATJECANJE IZ GEOGRAFIJE  
2019. GODINE**

**Razred ili kategorija natjecanja:** **7. razred**

**Zaporka**

--	--	--	--	--

 \_\_\_\_\_

**Broj postignutih bodova** \_\_\_\_ / 70

**Potpis članova Državnog povjerenstva**

1. \_\_\_\_\_
2. \_\_\_\_\_
3. \_\_\_\_\_

**Mjesto i nadnevak: Trogir, 9. svibnja 2019.**

Za rješavanje zadataka predviđeno je 60 minuta.

Ispit se rješava kemijskom olovkom s plavom tintom koja se ne briše. Uporaba obične olovke i crvene ili neke druge boje tinte (osim plave) rezultira diskvalifikacijom učenika.

Pri rješavanju ispita treba primijeniti jezičnu normu standardnoga hrvatskoga jezika, posebice treba poštivati pravopisna pravila o pisanju velikoga i maloga početnog slova geografskih imena. Za pisanje geografskih imena u ispitima i praktičnim radovima primjenjuje se Hrvatski pravopis Instituta za hrvatski jezik i jezikoslovlje (2013.).

Odgovori učenika moraju biti čitljivo napisani pisanim slovima, jedino u zadacima u kojima je odgovor jedno slovo dopuštena je uporaba čitljivo napisanog velikog tiskanog slova.

Za vrijeme pisanja ispita ne smije se koristiti ništa osim navedenoga pribora za pisanje. Ova odredba podrazumijeva da natjecatelji ne smiju kod sebe (na sebi, ispod, u svojoj odjeći i slično) imati predmete koji na bilo koji način mogu dovesti u sumnju pravilno provođenje natjecanja. Učenici se ne smiju služiti atlasom, zidnom kartom ni računalom. Kartografski i grafički prilozi nužni za rješavanje zadataka sastavni su dio ispita.

Učenicima se dopušta pisanje po marginama i praznim stranicama ispitnog materijala bez oduzimanja bodova i/ili diskvalifikacije.

Potpuno ispravno riješeni zadatci, prema uputi za rješavanje vrednuju se s jednim, dva ili tri boda. U djelomično ispravno riješenim zadacima boduju se ispravno riješene čestice, ako nije bilo korekcije odgovora u tim česticama. Netočno riješeni zadatci i naknadno ispravljeni odgovori te odgovori koji su pisani velikim tiskanim slovima ili kombinacijom tiskanih i pisanih slova, kao i odgovori u zagradama ne vrednuju se.

**PRVI ZADATAK RIJEŠI UZ POMOĆ PRILOŽENIH FOTOGRAFIJA.**

- 3** 1. Na crtu ispod svake fotografije upiši ime pokrajine na koju se fotografija odnosi:

**Bavarska, Holandija, Lombardija, Provansa, Škotska, Tirol, Toskana, Transilvanija.**

Dva imena pokrajina su višak.



**U SLJEDEĆA DVA ZADATKA DVA SU ODGOVORA TOČNA.**

**ZAOKRUŽI SLOVA ISPRED TOČNIH ODGOVORA.**

- 2** 2. Koje su dvije od navedenih rijeka pritoci Dunava?

a) Drava      b) Majna      c) Mura      d) Olt      e) Struma

- 2** 3. Koje dvije od navedenih država u zastavi imaju neovisno o redoslijedu bijelu, zelenu i crvenu boju u vodoravnom položaju?

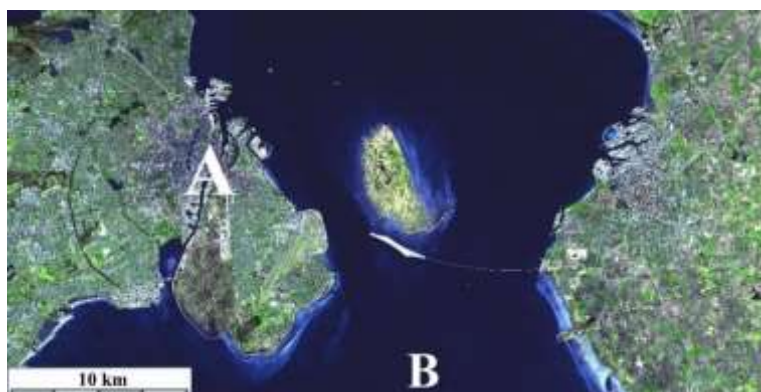
a) Bugarska      b) Italija      c) Mađarska      d) Portugal      e) Španjolska

**U SLJEDEĆEM ZADATKU POVEŽI SREDNJI I DESNI STUPAC S LIJEVIM UPISIVANJEM PRIPADAJUĆEG BROJA I SLOVA ISPRED POJMOVA U LIJEVOM STUPCU. DVA OTOČJA IZ SREDNJEG I DVIJE DRŽAVE IZ DESNOG STUPCA NE MOGU SE POVEZATI.**

- 3** 4. Imenima otoka pridruži odgovarajuću otočnu skupinu i državu kojoj pripadaju.

_____ Menorca	1 – Baleari	A – Ujedinjeno Kraljevstvo
_____ Rodos	2 – Liparski otoci	B – Španjolska
_____ Guernsey	3 – Južni Sporadi	C – Norveška
	4 – Kanalski otoci	D – Grčka
	5 – Kanarski otoci	E – Italija

**SLJEDEĆA ČETIRI ZADATKA RIJEŠI UZ POMOĆ  
PRILOŽENIH FOTOGRAFIJA I SATELITSKE SNIMKE.**



- 1**  5. Ime mosta-tunela prikazanog na fotografiji **1** i satelitskoj snimci je \_\_\_\_\_.
- 2**  6. Ime grada na satelitskoj snimci označenog slovom **A** je \_\_\_\_\_.  
Ime mora označenog slovom **B** je \_\_\_\_\_.

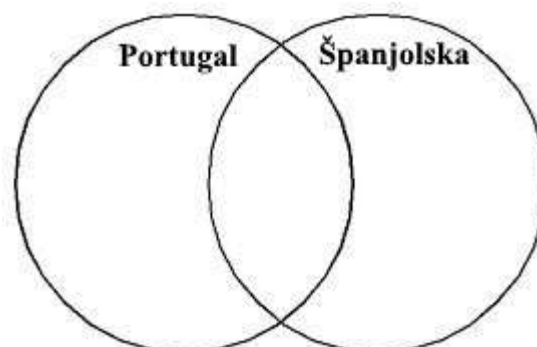


- 2**  7. Naziv za vrstu drveta koje je prikazano na fotografiji **2** je \_\_\_\_\_.  
Ime države koja danas izrađuje najviše proizvoda od ove vrste drveća u svijetu je \_\_\_\_\_.
- 1**  8. Fotografija **3** prikazuje stepsku ravnicu u Mađarskoj koju nazivamo \_\_\_\_\_.

**U SLJEDEĆEM ZADATKU RAZVRSTAJ POJMOVU UPISIVANJEM SLOVA  
U ODGOVARAJUĆE DIJELOVE KRUGOVA I NJIHOV POVEZANI DIO.  
U SVAKI DIO MORAJU BITI UPISANA PO DVA SLOVA.**

- 3**  9. Razvrstaj navedene pojmove za države navedene u krugovima.

- A) Kraljevina
- B) Republika
- C) Pirenejski poluotok
- D) Romanski jezik
- E) Algarve
- F) Lloret de Mar



**U SLJEDEĆA TRI ZADATKA POVEŽI POJMOVE UPISIVANJEM SAMO JEDNOG SLOVA NA CRTU ISPRED POJMA U LIJEVOM STUPCU. JEDAN POJAM IZ DESNOG STUPCA NE MOŽE SE POVEZATI.**

**2**  10. Poveži tradicionalne plesove i načine pjevanja s državama.

- |              |               |
|--------------|---------------|
| ___ sirtaki  | A) Portugal   |
| ___ flamenko | B) Austrija   |
| ___ fado     | C) Španjolska |
| ___ jodlanje | D) Mađarska   |
|              | E) Grčka      |

**2**  11. Poveži navedene poluotoke s pripadajućim obilježjem.

- |                  |                                                      |
|------------------|------------------------------------------------------|
| ___ Skandinavski | A) najviši vrh Corno Grande                          |
| ___ Pirenejski   | B) regija Zapadna Europa                             |
| ___ Apeninski    | C) rudnici željezne rude                             |
| ___ Normandijski | D) umjereno topla vlažna, sredozemna i stepska klima |
|                  | E) najmlađa država Europe                            |

**2**  12. Poveži planine s državama.


- |              |                        |
|--------------|------------------------|
| ___ Lovćen   | A) Bosna i Hercegovina |
| ___ Jahorina | B) Bugarska            |
| ___ Korab    | C) Crna Gora           |
| ___ Bihor    | D) Sjeverna Makedonija |
|              | E) Rumunjska           |

**U SLJEDEĆA ČETIRI ZADATKA POVEŽI PAROVE UPISIVANJEM SAMO JEDNOG SLOVA NA CRTU ISPRED PONUĐENIH ODGOVORA. TRI CRTE MORAJU OSTATI PRAZNE.**

**2**  13. Poveži rijeke s državama u kojima se nalazi njihov izvor.

- |           |              |               |  |
|-----------|--------------|---------------|--|
|           | A) Rajna     | B) Laba       |  |
| ___ Češka | ___ Poljska  | ___ Italija   |  |
|           | ___ Njemačka | ___ Švicarska |  |

**2**  14. Poveži imena kompanija s državom u kojoj se nalazi njihovo sjedište

- |                |                                                                                        |             |  |
|----------------|----------------------------------------------------------------------------------------|-------------|--|
|                | A)  | B) ZARA     |  |
| ___ Španjolska | ___ Švedska                                                                            | ___ Italija |  |
| ___ Njemačka   | ___ Ujedinjeno Kraljevstvo                                                             |             |  |





1



2

- 1 24. Fotografija 1 prikazuje El Escorial, povijesnu rezidenciju kraljeva. Ime brojem stanovnika najvećeg španjolskog grada u čijoj blizini se nalazi ta rezidencija je \_\_\_\_\_, a na priloženoj karti je označen brojem \_\_\_\_\_.
- 1 25. Ime grada koji je prikazan na fotografiji 2 je \_\_\_\_\_. Na priloženoj karti taj je grad označen brojem \_\_\_\_\_.

**SLJEDEĆI ZADATAK RIJEŠI UZ POMOĆ PRILOŽENE GEOGRAFSKE KARTE DIJELA BALKANSKOG POLUOTOKA. NA KARTI SU TRI POGREŠNA POJMA. PRONAĐI IH I UPIŠI U PRVI STUPAC TABLICE, A UZ NJIH U DRUGI STUPAC U ISTOM REDU UPIŠI TOČNE POJMOVE.**

- 3 26. Pažljivo prouči kartu dijela Balkanskog poluotoka i riješi zadatak kao što je napisano u naputku.



POGREŠAN POJAM	TOČAN POJAM

**SLJEDEĆA TRI ZADATKA RIJEŠI UZ POMOĆ PRILOŽENIH TABLICA.**

**2**

27. Prema podacima u tablici 1. i tablici 2. u idućem zadatku izračunaj srednju godišnju temperaturu zraka (zaokruži na jednu decimalu) i ukupnu godišnju količinu padalina te podatke upiši na odgovarajuće crte.

Tablica 1. Srednja godišnja temperatura zraka iznosi \_\_\_\_\_.

Ukupna godišnja količina padalina iznosi \_\_\_\_\_.

Tablica 2. Srednja godišnja temperatura zraka iznosi \_\_\_\_\_.

Ukupna godišnja količina padalina iznosi \_\_\_\_\_.

Prostor za računanje:

**Tablica 1.** Godišnji hod temperature zraka i padalina od 1982. do 2002. u \_\_\_\_\_.

	I.	II.	III.	IV.	V.	VI.	VII.	VIII.	IX.	X.	XI.	XII.
°C	-0,9	1,8	6,2	11,6	16,3	19,4	21,2	21,0	17,1	11,5	5,4	1,2
mm	37	34	32	42	60	69	53	53	41	40	57	36

<https://en.climate-data.org/>

**Tablica 2.** Godišnji hod temperature zraka i padalina od 1982. do 2002. u \_\_\_\_\_.

	I.	II.	III.	IV.	V.	VI.	VII.	VIII.	IX.	X.	XI.	XII.
°C	5,2	5,1	6,4	8,2	10,7	13,5	15,3	15,1	13,4	10,8	7,2	5,9
mm	70	52	53	50	60	55	53	71	75	76	72	80

<https://en.climate-data.org/>

**2**

28. Na crtu u naslovu tablica upiši odgovarajuće ime od navedenih gradova: **Budimpešta, Dublin, Moskva, Valencia.** Imena dvaju gradova su višak.

**3**

29. Vrijednost amplitude temperature zraka je veća u tablici broj \_\_\_\_\_ i iznosi \_\_\_\_\_ . Naziv klimatskog čimbenika koji utječe na veću vrijednost amplitude temperature zraka u odnosu na tablicu s kojom su uspoređeni podatci je \_\_\_\_\_.

Prostor za računanje:

## U SLJEDEĆA TRI ZADATKA DOPUNI REČENICE.

- 2** 30. Naziv poljoprivredne kulture zbog čije je bolesti došlo do velikog iseljavanja stanovništva iz Irske u 19. stoljeću je \_\_\_\_\_. Ime grada u Sjedinjenim Američkim Državama u kojem danas živi najveći broj Iraca i njihovih potomaka je \_\_\_\_\_.
- 2** 31. Imena država Jugoistočne Europe koje su članice Europske unije su \_\_\_\_\_ i \_\_\_\_\_.
- 1** 32. Naziv procesa okupljanja stanovništva i gospodarstva na obalama mora je \_\_\_\_\_.

## ZADNJA TRI ZADATKA RIJEŠI UZ POMOĆ PODATAKA U TABLICI.

Tab. 1. Broj i udio useljenog stanovništva u odabranim državama Europe prema državi rođenja u 2017. godini.

Italija		
Država rođenja	(u 1000)	%
Rumunjska	1036,0	17,1
Albanija	458,2	7,6
Maroko	434,5	7,2
Ukrajina	237,6	3,9
Kina	229,1	3,6
Ostale države	3667,5	60,6

Švedska		
Država rođenja	(u 1000)	%
Finska	153,6	8,6
Sirija	149,4	8,4
Irak	135,1	7,6
Poljska	88,7	5,0
Iran	70,6	4,0
Ostale države	1185,7	66,5

Belgija		
Država rođenja	(u 1000)	%
Maroko	214,1	11,4
Francuska	184,5	9,8
Nizozemska	129,8	6,9
Italija	119,7	6,4
Rumunjska	98,5	5,3
Ostale države	1130,0	60,2

Ujedinjeno Kraljevstvo		
Država rođenja	(u 1000)	%
Poljska	925,5	10,0
Indija	854,3	9,2
Pakistan	535,3	5,8
Irska	392,2	4,2
Rumunjska	315,6	3,4
Ostale države	6270,9	67,5

[Eurostat](#), 2018.

Prostor za računanje:



- 2 33. Ime države s najvećim brojem useljenika iz Afrike ne računajući podatke za ostale države je \_\_\_\_\_, a broj useljenih u tu državu je \_\_\_\_\_.
- 2 34. Ime države s najvećim udjelom useljenika iz Azije od ukupno useljenog stanovništva ne računajući podatke za ostale države je \_\_\_\_\_. Udio useljenika iz Azije iznosio je \_\_\_\_\_.
- 2 35. Ime države s najvećim udjelom useljenog stanovništva romanske skupine jezika od ukupno useljenog stanovništva ne računajući podatke za ostale države je \_\_\_\_\_.
- Ime države s najvećim udjelom useljenog stanovništva slavenske skupine jezika od ukupno useljenog stanovništva ne računajući podatke za ostale države je \_\_\_\_\_.