

# ŠKOLSKO/OPĆINSKO/GRADSKO NATJECANJE IZ GEOGRAFIJE 2016. GODINE

Razred ili kategorija natjecanja: 7. razred

Zaporka

--	--	--	--	--

Broj postignutih bodova \_\_\_\_ / 70

Potpis članova Školskog povjerenstva

1. \_\_\_\_\_

2. \_\_\_\_\_

3. \_\_\_\_\_

Mjesto i nadnevak: \_\_\_\_\_

Za rješavanje zadataka predviđeno je 60 minuta.

Ispit se rješava kemijskom olovkom s plavom tintom koja se ne briše. Uporaba obične olovke i crvene ili neke druge boje tinte (osim plave) rezultira diskvalifikacijom učenika.

Pri rješavanju ispita treba primijeniti jezičnu normu standardnoga hrvatskoga jezika, posebice treba poštivati pravopisna pravila o pisanju velikoga i maloga početnog slova geografskih imena. Za pisanje geografskih imena u ispitima i praktičnim radovima primjenjuje se Hrvatski pravopis Instituta za hrvatski jezik i jezikoslovlje (2013.).

Odgovori učenika moraju biti čitljivo napisani pisanim slovima, jedino u zadacima u kojima je odgovor jedno slovo dopuštena je uporaba čitljivo napisanog velikog tiskanog slova.

Za vrijeme pisanja ispita ne smije se koristiti ništa osim navedenoga pribora za pisanje. Ova odredba podrazumijeva da natjecatelji ne smiju kod sebe (na sebi, ispod, u svojoj odjeći i slično) imati predmete koji na bilo koji način mogu dovesti u sumnju pravilno provođenje natjecanja. Učenici se ne smiju služiti atlasom, zidnom kartom ni računalom. Kartografski i grafički prilozi nužni za rješavanje zadataka sastavni su dio ispita.

Učenicima se dopušta pisanje po marginama i praznim stranicama ispitnog materijala bez oduzimanja bodova i/ili diskvalifikacije.

Potpuno ispravno riješeni zadatci, prema uputi za rješavanje vrednuju se s jednim, dva ili tri boda. U djelomično ispravno riješenim zadacima boduju se ispravno riješene čestice, ako nije bilo korekcije odgovora u tim česticama. Netočno riješeni zadatci i naknadno ispravljeni odgovori te odgovori koji su pisani velikim tiskanim slovima ili kombinacijom tiskanih i pisanih slova, kao i odgovori u zagradama ne vrednuju se.

**U PRVIH OSAM ZADATAKA DVA SU TOČNA ODGOVORA.  
ZAKRUŽI SLOVA ISPRED TOČNIH ODGOVORA.**

- 2**  1. Kroz koje od navedenih država prolazi početni meridijan?  
a) Norveška    b) Španjolska    c) Ujedinjeno Kraljevstvo    d) Irska    e) Portugal
- 2**  2. Koje su od navedenih nizina smještene na Pirenejskom poluotoku?  
a) Vlaška    b) Andaluzijska    c) Padska    d) Panonska    e) Aragonska
- 2**  3. Koji su od navedenih otoka za vrijeme zadnjeg ledenog doba bili pokriveni ledenim pokrovom?  
a) Malta    b) Korzika    c) Sjælland    d) Kreta    e) Irska
- 2**  4. Koje su od navedenih morskih luka smještene na zapadnom europskom morskom pročelju?  
a) Le Havre    b) Barcelona    c) Murmansk    d) Bilbao    e) Marseille
- 2**  5. Koje su tvrdnje od navedenih točne o slijevu Sredozemnog mora?  
a) Sve rijeke Apeninskog poluotoka pripadaju slijevu Sredozemnog mora.  
b) Tajó je najduža rijeka slijeva Sredozemnog mora.  
c) Rijeke slijeva Sredozemnog mora imaju najveći protok ljeti.  
d) Slijev Sredozemnog mora je površinom veći od Crnomorskog slijeva.  
e) Slijevu Sredozemnog mora pripadaju rijeke s tri kontinenta.
- 2**  6. Koja od navedenih područja Europe imaju stepsku klimu?  
a) Vlaška nizina    b) Peloponez    c) Prikaspijska nizina  
d) Rodopi    e) dijelovi Pirenejskog poluotoka
- 2**  7. Koja su od navedenih mora značajna ribolovna područja Europe?  
a) Crno more    b) Norveško more    c) Barentsovo more    d) Egejsko more    e) Ligursko more
- 2**  8. Koje su od navedenih otočnih skupina dio teritorija Ujedinjenog Kraljevstva?  
a) Kanalski otoci    b) Farski otoci    c) Frizijski otoci    d) Kanarski otoci    e) Hebridi

**U SVAKOM OD SLJEDEĆA DVA ZADATAKA JEDAN JE TOČAN ODGOVOR.  
ZAKRUŽI SLOVO IZNAD ILI ISPRED TOČNOG ODGOVORA.**

- 1**  9. Na kojoj je fotografiji prikazana sedimentna stijena?



- 1**  10. U kojem gradu je smještena najveća europska robna burza?  
a) Paris    b) London    c) Bruxelles    d) Rotterdam

**U SLJEDEĆA ČETIRI ZADATKA POVEŽI PAROVE UPISIVANJEM SLOVA NA CRTU ISPRED PONUĐENIH ODGOVORA. TRI CRTE MORAJU OSTATI PRAZNE.**

**2** **11.** Navedene nazive geoloških era fanerozoika poveži s njihovim stručnim nazivima.

**A) srednja era**

**B) mlada era**

\_\_\_\_\_ kenozoik      \_\_\_\_\_ proterozoik      \_\_\_\_\_ mezozoik      \_\_\_\_\_ arhaik      \_\_\_\_\_ paleozoik

**2** **12.** Promotri priloženu tablicu te poveži navedene klimatske pojmove s njihovim vrijednostima.

mjerna jedinica	S	V	O	T	S	L	S	K	R	L	S	P
°C	8	9	11	14	18	22	25	24	21	18	12	10
mm	77	65	69	59	40	38	24	37	61	89	111	105

**A) prosječna godišnja temperatura**

**B) temperaturna amplituda**

\_\_\_\_\_ 14 °C      \_\_\_\_\_ 15 °C      \_\_\_\_\_ 16 °C      \_\_\_\_\_ 17 °C      \_\_\_\_\_ 18 °C

**2** **13.** Promotri priloženu tablicu te poveži navedene opise s nazivima mjeseca.

**A) mjesec s najmanje padalina**

**B) mjesec s najviše padalina**

\_\_\_\_\_ siječanj      \_\_\_\_\_ svibanj      \_\_\_\_\_ lipanj      \_\_\_\_\_ srpanj      \_\_\_\_\_ studeni

prostor za računanje

**2** **14.** Navedene opise poveži s imenima država.

**A) država Zapadne Europe koja ima mlado ulančano gorje na svom teritoriju**

**B) država Zapadne Europe koja je početkom 19. stoljeća imala više stanovnika nego danas**

\_\_\_\_\_ Nizozemska      \_\_\_\_\_ Ujedinjeno Kraljevstvo      \_\_\_\_\_ Irska      \_\_\_\_\_ Belgija      \_\_\_\_\_ Francuska

**U SLJEDEĆA DVA ZADATKA POVEŽI STUPCE UPISIVANJEM PRIPADAJUĆEG SLOVA I BROJA NA CRTU ISPRED POJMOVA U LIJEVOM STUPCU. JEDAN POJAM U SREDNJEM I DESNOM STUPCU NE MOGU SE POVEZATI.**

**3** **15.** Poveži navedene jezike i države s pripadajućom jezičnom skupinom indoeuropskih jezika.

_____ slavenski jezici	<b>A - estonski jezik</b>	<b>1 - Portugal</b>
_____ romanski jezici	<b>B - makedonski jezik</b>	<b>2 - Nizozemska</b>
_____ germanski jezici	<b>C - danski jezik</b>	<b>3 - Albanija</b>
	<b>D - rumunjski jezik</b>	<b>4 - Češka</b>

**3** **16.** Poveži prevladavajuću skupinu djelatnosti i opis s pripadajućom fazom urbanizacije.

_____ predindustrijska faza	<b>A - prevlast tercijarnih djelatnosti</b>	<b>1 - velike migracije iz sela u gradove</b>
_____ industrijska faza	<b>B - prevlast sekundarnih djelatnosti</b>	<b>2 - nizak stupanj urbanizacije</b>
_____ postindustrijska faza	<b>C - prevlast kvartarnih djelatnosti</b>	<b>3 - velike migracije iz gradova u sela</b>
	<b>D - prevlast primarnih djelatnosti</b>	<b>4 - formiranje satelitskih gradova</b>

**U SVAKOM OD SLJEDEĆA DVA ZADATKA TRI SU NETOČNA POJMA. PRONAĐI U TEKSTU POGREŠNE POJMOVE, UPIŠI IH U PRVI STUPAC TABLICE, A U ISTI RED U DRUGI STUPAC UPIŠI TOČNE POJMOVE.**

**3**  17. Pažljivo pročitaj tekst o Kaspijskom jezeru i riješi zadatak kao što je napisano u naputku.

*Kaspijsko jezero je površinom najveće jezero na Zemlji i **njime prolazi** dio dogovorene granice između Europe i Azije. Kaspijsko jezero je sastavni dio teritorija pet država, a sjeverna obala je podijeljena između Ukrajine i Rusije. U odnosu prema morskoj razini, Kaspijsko jezero je površinom najveća kriptodepresija na svijetu. Rijeka koja donosi najveću količinu vode u Kaspijsko jezero je rijeka Ural. Podzemlje Kaspijskog jezera bogato je naftom i zemnim plinom.*

NETOČAN POJAM	TOČAN POJAM

**3**  18. Pažljivo prouči kartu Ujedinjenog Kraljevstva i Republike Irske te riješi zadatak kao što je napisano u naputku.



NETOČAN POJAM	TOČAN POJAM

SLJEDEĆA TRI ZADATKA RIJEŠI UZ POMOĆ PRILOŽENIH TABLICA SKUPINA S  
EUROPSKOG PRVENSTVA U KOŠARCI ODRŽANOG OD 7. 9. DO 20. 9. 2015. GODINE.

SKUPINA A
1. Francuska
2. Finska
3. Bosna i Hercegovina
4. Poljska
5. Izrael
6. Rusija

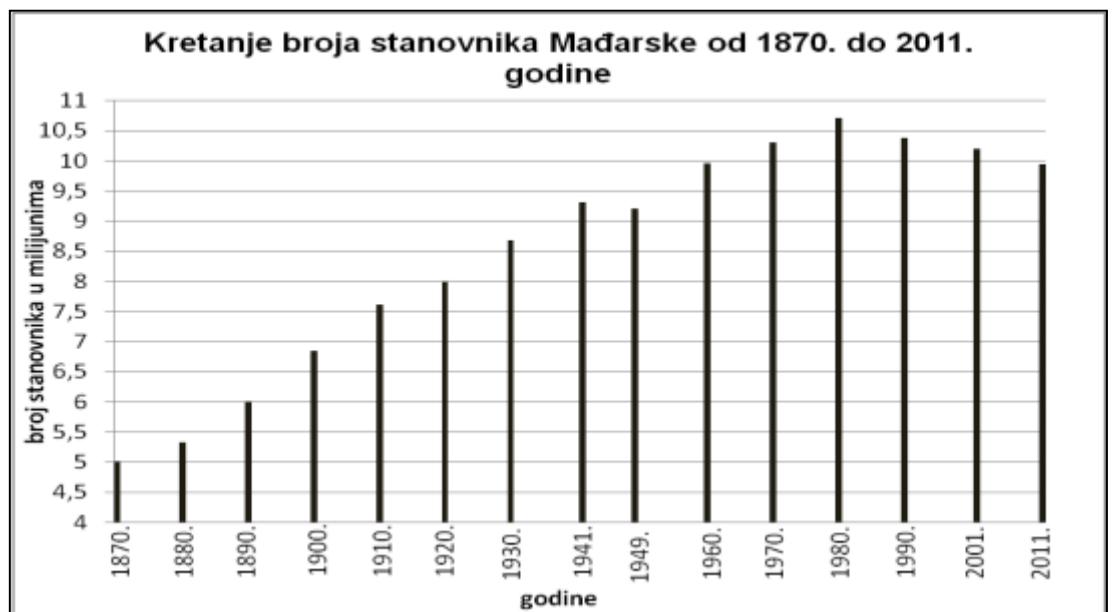
SKUPINA B
1. Španjolska
2. Srbija
3. Turska
4. Italija
5. Njemačka
6. Island

SKUPINA C
1. Hrvatska
2. Slovenija
3. Grčka
4. Makedonija
5. Gruzija
6. Nizozemska

SKUPINA D
1. Litva
2. Ukrajina
3. Latvija
4. Belgija
5. Češka
6. Estonija

- 2**  19. Ime jedine monarhije iz skupine B je \_\_\_\_\_, a ime jedine monarhije iz skupine C je \_\_\_\_\_.
- 1**  20. Skupina u kojoj je najveći broj europskih država koje su stekle samostalnost početkom devedesetih godina 20. stoljeća je skupina označena slovom \_\_\_\_\_.
- 2**  21. Ime najgušće naseljene države u skupini D je \_\_\_\_\_, a ime najrjeđe naseljene države u skupini B je \_\_\_\_\_.

SLJEDEĆA DVA  
ZADATAKA RIJEŠI  
UZ POMOĆ  
PRILOŽENOG  
DIJAGRAMA  
KRETANJA BROJA  
STANOVNIKA  
MAĐARSKE.



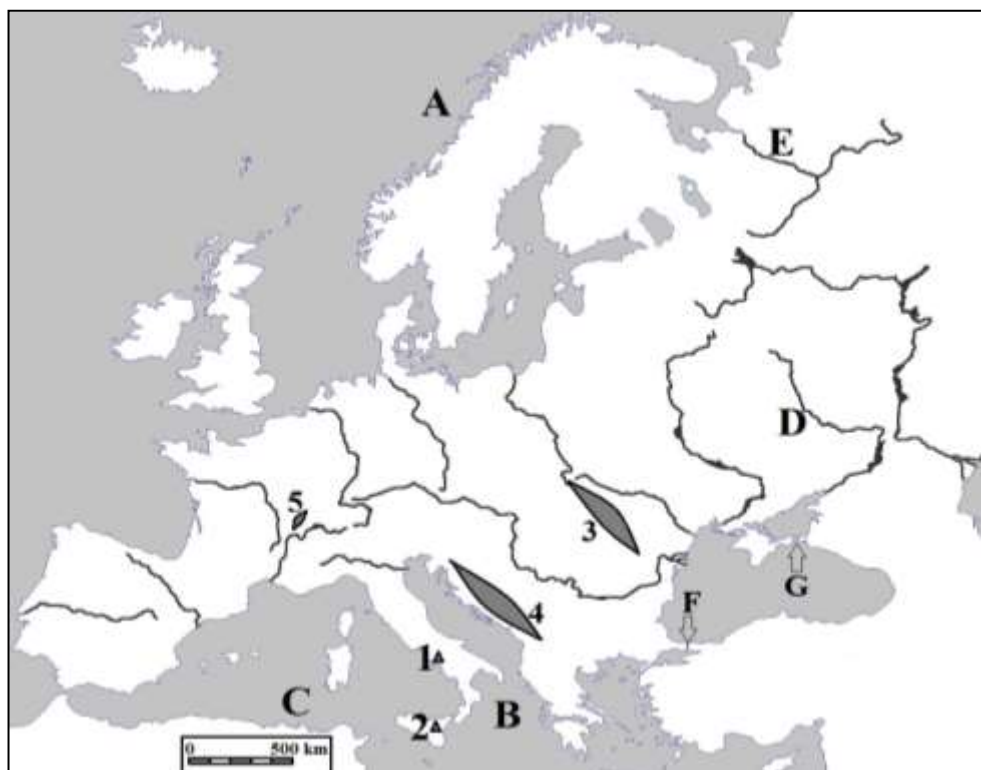
- 1**  22. Mađarska je prvi put zabilježila više od 9 500 000 stanovnika \_\_\_\_\_ godine.
- 1**  23. Mađarska je prvi put zabilježila pad broja stanovnika \_\_\_\_\_ godine.

U SLJEDEĆA DVA ZADATKA DOPUNI REČENICE.

1 24. Naziv pisma kojim se koristi većina stanovnika Belgije je \_\_\_\_\_.

2 25. Naziv za tip ušća ljevkastog oblika kojeg ima rijeka Loire je \_\_\_\_\_.  
Ime industrijskog središta i luke smještene na ušću rijeke Loire je \_\_\_\_\_.

SLJEDEĆIH PET  
ZADATAKA RIJEŠI UZ  
POMOĆ PRILOŽENE  
KARTE EUROPE.



3 26. Na karti su slovima A, B i C označena mora. Na crte iza slova upiši njihova imena.

A \_\_\_\_\_ B \_\_\_\_\_  
C \_\_\_\_\_

2 27. Na karti su slovima D i E označene rijeke. Na crte iza slova upiši njihova imena.

D \_\_\_\_\_ E \_\_\_\_\_

2 28. Na karti su strelicama i slovima F i G označeni morski prolazi. Na crte iza slova upiši njihova imena.

F \_\_\_\_\_ G \_\_\_\_\_

2 29. Na karti su trokutićima i brojevima 1 i 2 označeni vulkani. Na crte iza brojeva upiši njihova imena.

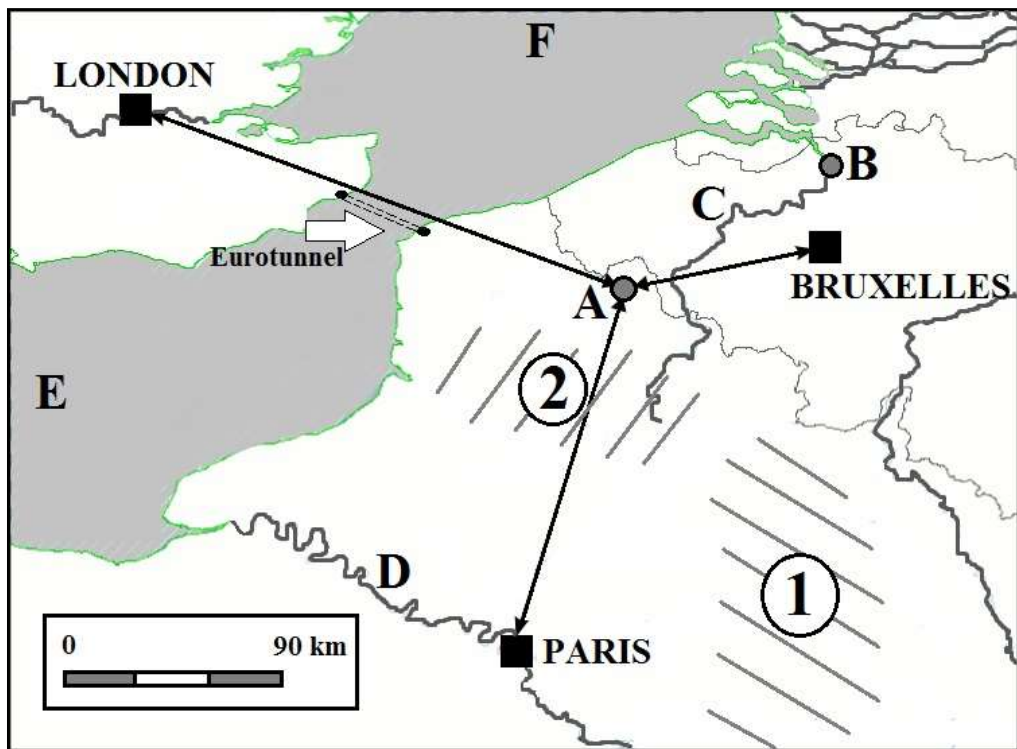
1 \_\_\_\_\_ 2 \_\_\_\_\_

3 30. Na karti su tamnim površinama i brojevima 3, 4 i 5 označena mlada ulančana gorja. Na crte iza brojeva upiši njihova imena.

3 \_\_\_\_\_ 4 \_\_\_\_\_

5 \_\_\_\_\_

SLJEDEĆIH PET  
ZADATAKA RIJEŠI UZ  
POMOĆ PRILOŽENE  
KARTE DIJELA  
EUROPE.



2

31. Na karti su slovima A i B označeni gradovi. Na crte iza slova upiši njihova imena.

A \_\_\_\_\_ B \_\_\_\_\_

2

32. Udaljenost između grada označenog slovom A i Londona na priloženoj karti u mjerilu 1: 3 000 000 iznosi 7 cm. Kolika je zračna udaljenost između dva navedena grada u stvarnosti izražena u kilometrima?

Zračna udaljenost između grada označenog slovom A i Londona iznosi \_\_\_\_\_ km.

prostor za računanje

Prometna veza između Londona i grada označenog slovom A prolazi kroz Eurotunnel. Naziv za vrstu kopnenog prometa koja se odvija kroz Eurotunnel je \_\_\_\_\_ promet.

2

33. Na karti su slovima C i D označene rijeke. Na crte ispred imena rijeke upiši slovo kojim je ta rijeka označena na karti. Tri crte moraju ostati prazne.

\_\_\_\_\_ Schelde \_\_\_\_\_ Meuse \_\_\_\_\_ Saone \_\_\_\_\_ Seine \_\_\_\_\_ Somme

2

34. Na karti su slovima E i F označeni morski prolaz i more. Na crte iza slova upiši njihova imena.

E \_\_\_\_\_ F \_\_\_\_\_

2

35. Na karti su kosim crtama i brojevima 1 i 2 označene francuske pokrajine. Na crte ispred imena pokrajine upiši broj kojim je ta pokrajina označena na karti. Tri crte moraju ostati prazne.

\_\_\_\_\_ Bourgogne (Burgundija) \_\_\_\_\_ Normandie (Normandija) \_\_\_\_\_ Picardie (Pikardija)

\_\_\_\_\_ Champagne (Šampanja) \_\_\_\_\_ Bretagne (Bretanja)