

ŽUPANIJSKO NATJECANJE IZ GEOGRAFIJE 2016. GODINE

Razred ili kategorija natjecanja:

6. razred

Zaporka

--	--	--	--	--

Broj postignutih bodova ____ / 70

Potpis članova Županijskog povjerenstva

1. _____

2. _____

3. _____

Mjesto i nadnevak: _____

Za rješavanje zadataka predviđeno je 60 minuta.

Ispit se rješava kemijskom olovkom s plavom tintom koja se ne briše. Uporaba obične olovke i crvene ili neke druge boje tinte (osim plave) rezultira diskvalifikacijom učenika.

Pri rješavanju ispita treba primijeniti jezičnu normu standardnoga hrvatskoga jezika, posebice treba poštivati pravopisna pravila o pisanju velikoga i maloga početnog slova geografskih imena. Za pisanje geografskih imena u ispitima i praktičnim radovima primjenjuje se Hrvatski pravopis Instituta za hrvatski jezik i jezikoslovlje (2013.).

Odgovori učenika moraju biti čitljivo napisani pisanim slovima, jedino u zadacima u kojima je odgovor jedno slovo dopuštena je uporaba čitljivo napisanog velikog tiskanog slova.

Za vrijeme pisanja ispita ne smije se koristiti ništa osim navedenoga pribora za pisanje. Ova odredba podrazumijeva da natjecatelji ne smiju kod sebe (na sebi, ispod, u svojoj odjeći i slično) imati predmete koji na bilo koji način mogu dovesti u sumnju pravilno provođenje natjecanja. Učenici se ne smiju služiti atlasom, zidnom kartom ni računalom. Kartografski i grafički prilozi nužni za rješavanje zadataka sastavni su dio ispita.

Učenicima se dopušta pisanje po marginama i praznim stranicama ispitnog materijala bez oduzimanja bodova i/ili diskvalifikacije.

Potpuno ispravno riješeni zadatci, prema uputi za rješavanje vrednuju se s jednim, dva ili tri boda. U djelomično ispravno riješenim zadacima boduju se ispravno riješene čestice, ako nije bilo korekcije odgovora u tim česticama. Netočno riješeni zadatci i naknadno ispravljeni odgovori te odgovori koji su pisani velikim tiskanim slovima ili kombinacijom tiskanih i pisanih slova, kao i odgovori u zagradama ne vrednuju se.

U PRVIH PET ZADATAKA DVA SU TOČNA ODGOVORA. ZAOKRUŽI SLOVA ISPRED TOČNIH ODGOVORA.

2	
---	--

1. Koji se od navedenih nacionalnih parkova nalaze u Keniji?

- a) Addo Elephant b) Amboseli c) Kilimandžaro d) Kruger e) Tsavo

2	
---	--

2. Koje su od navedenih kopnenih cjelina u geološkoj prošlosti Zemlje pripadale velikom kontinentu Lauraziji?

- a) Afrika b) Australija c) Euroazija d) Južna Amerika e) Sjeverna Amerika

2	
---	--

3. Na koje je japanske gradove SAD bacio atomsku bombu potkraj Drugoga svjetskog rata?

- a) Hiroshima b) Kagoshima c) Nagasaki d) Osaka e) Yokohama

2	
---	--

4. Koje se od navedenih otočnih skupina nalaze u Indijskom oceanu, a poznate su po primorskom turizmu?

- a) Kanarski otoci b) Maldivi c) Sveti Toma i Princip d) Sejšeli e) Zelenortske otoci

2	
---	--

5. Koja se dvije od navedenih vrsta drveća u monsunskoj Aziji najviše sijeku radi izvoza?

- a) akacija b) baobab c) cedar d) ebanovina e) tikovina

SLJEDEĆI ZADATAK RIJEŠI UZ POMOĆ PRILOŽENE FOTOGRAFIJE.

2	
---	--

6. Naziv tipa klime u kojoj prevladava krajolik prikazan na priloženoj

fotografiji je _____.

Naziv toplinskog pojasa u kojemu je taj tip klime najzastupljeniji je

_____ pojas.



U SLJEDEĆIH SEDAM ZADATAKA DOPUNI REČENICE.

2	
---	--

7. Ime afričkog otoka na kojem žive Malajopolinezijci je

_____, a naziv rase kojoj pripada većina

stanovništva tog otoka je _____ rasa.

2	
---	--

8. Ime površinom najveće isključivo azijske države je

_____, a ime površinom najveće euroazijske države

članice NATO-a je _____.

2 9. Ime najviše planine Afrike je _____, a ime najvišeg vrha te planine je _____.

2 10. Ime i prezime portugalskog moreplovca koji je prvi u 15. stoljeću doplovio do Indije je _____, a ime i prezime hrvatskog istraživača koji je krajem 19. stoljeća službovao u DR Kongu je _____.

2 11. Ime površinom najmanje politički neovisne države Azije 2015. godine je _____, a ime površinom najveće politički neovisne države Afrike iste godine je _____.

2 12. Slana jezera koja su česta pojava podno gorja Atlas u Sjevernoj Africi nazivaju se _____, a jezera kojima je površina iznad razine mora, a dno ispod razine mora nazivaju se _____.

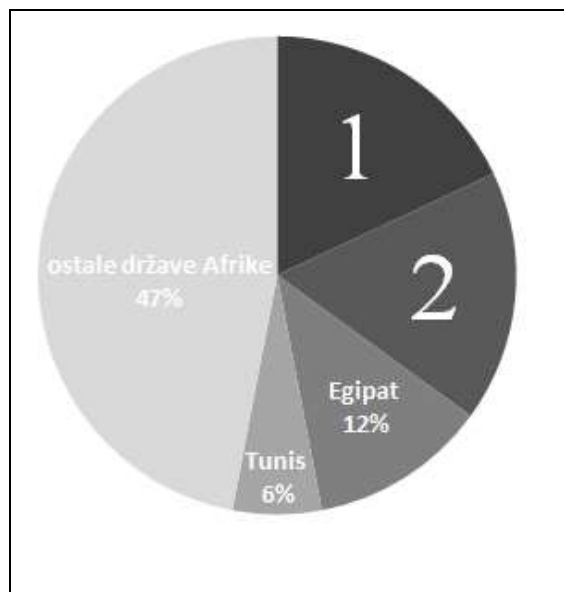
2 13. Kontinent s najvećim brojem mješanaca ljudskih rasa je _____ (upiši ime kontinenta).
Mješance bijele i žute rase nazivamo _____.

SLJEDEĆI ZADATAK RIJEŠI UZ POMOĆ PRILOŽENOG KRUŽNOG DIJAGRAMA.

2 14. Na kružnom dijagramu prikazan je udio u ukupnom prihodu od turizma u Africi u 2014. godini.


Isječci na kružnom dijagramu označeni brojevima **1** i **2** prikazuju udio u ukupnom prihodu od turizma dvije države Afrike. Imena tih država su:

_____ i
_____.



SLJEDEĆI ZADATAK RIJEŠI UZ POMOĆ PRILOŽENE SLIKE.

2 **15.** Upiši imena gradova **Tokio** i **Antananarivo** na crte ispod odgovarajuće ure s obzirom na vrijeme u Londonu (jedna crta mora ostati prazna). Središnji meridijani službenog vremena država njihovih glavnih gradova su: Japan 145° istočno od početnog meridijana, a Madagaskar 45° istočno od početnog meridijana.



London _____

Prostor za računanje:

U TEKSTU KOJI OPISUJE AFRIČKE RIJEKE TRI SU POGREŠNA POJMA. PRONAĐI U TEKSTU POGREŠNE POJMOVE, ISPIŠI IH U PRVI STUPAC TABLICE, A UZ NJIH U DRUGI STUPAC, U ISTOM REDU, UPIŠI TOČNE POJMOVE.

3 **16.** Nil je najdulja rijeka u Africi. Delta Nila je među najgušće naseljenim prostorima Afrike. Za velike količine vode posebno su važne zimske kiše u Etiopskom visočju zbog kojih Bijeli Nil donosi obilje vode. Rijeka koja ima najveću količinu vode u Africi je Kongo, cijelim se svojim tokom nalazi u žarkom toplinskom pojasu, a njezin tok presijeca sjeverna obratnica.

POGREŠAN POJAM	TOČAN POJAM

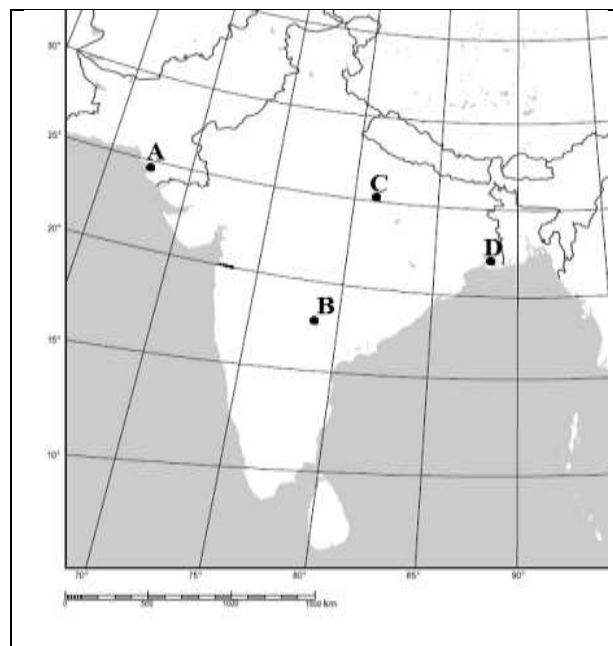
U SLJEDEĆA DVA ZADATKA POVEŽI POJMOVE UPISIVANJEM PRIPADAJUĆEG SLOVA I BROJA NA CRTU ISPRED POJMOVA U LIJEVOM STUPCU. JEDAN POJAM IZ SREDNJEG I DESNOG STUPCA NE MOGU SE POVEZATI.

3 **17.** Poveži religiju s odgovarajućim svetim gradom i državom u kojoj se on nalazi.

- | | | |
|------------------|--------------|----------------------|
| _____ kršćanstvo | A) Meka | 1) Indija |
| _____ budizam | B) Jeruzalem | 2) Saudijska Arabija |
| _____ islam | C) Mandalay | 3) Izrael |
| | D) Lhasa | 4) Kina |

3 **18.** Poveži ime grada s njegovim položajem na karti i geografskom cjelinom u kojoj se nalazi.

- | | | |
|------------------|---|--------------|
| _____ Varanasi | A | 1) Bengal |
| _____ Kolkata | B | 2) Dekan |
| _____ Haidarabad | C | 3) Hindustan |
| | D | 4) Punjab |



U SVAKOM OD SLJEDEĆA DVA ZADATKA U PAROVIMA POJMOVA KOJI SU PODEBLJANI I ODVOJENI KOSIM CRTAMA U CIJELOSTI ZAOKRUŽI ONE POJMOVE KOJI SU TOČNI.

1 **19.** Središnja Azija prostor je stočara i nomada pa je zbog lova na krznaše i uzgoja ovaca najveći udio zaposlenih u **primarnim / tercijarnim** djelatnostima, a životni je standard **visok / nizak**.

1 **20.** Danas u Africi prevladava **staro / mlado** stanovništvo, što je posljedica sve **veće / manje** stope rodnosti.

U SLJEDEĆA DVA ZADATKA POVEŽI POJMOVE UPISIVANJEM SAMO JEDNOG SLOVA NA CRTU ISPRED POJMA U LIJEVOM STUPCU. DVA SE POJMA IZ DESNOG STUPCA NE MOGU POVEZATI.

3	
---	--

21. Poveži ime reljefne cjeline s odgovarajućim opisom.

- | | |
|----------------|----------------------------|
| _____ Atlas | A) najveća afrička zavala |
| _____ Kalahari | B) polupustinjska zavala |
| _____ Tibesti | C) najviša afrička planina |
| | D) mlado nabrano gorje |
| | E) vulkansko gorje |

3	
---	--

22. Poveži izvorna imena rijeka s pripadajućim hrvatskim prijevodom.

- | | |
|-----------------|-------------------|
| _____ Huang He | A) Biserna rijeka |
| _____ Xi Jiang | B) Duga rijeka |
| _____ Zhu Jiang | C) Modra rijeka |
| | D) Zapadna rijeka |
| | E) Žuta rijeka |

SLJEDEĆIH ŠEST ZADATAKA RIJEŠI UZ POMOĆ PRILOŽENE GEOGRAFSKE KARTE AFRIKE.

2	
---	--

23. Ime države zaokružene na geografskoj karti je

_____ , a u njoj se nalaze antički ostatci grada-države _____ (upiši ime antičkog grada-države).

2	
---	--

24. Odredi geografski smještaj mjesta koje je na geografskoj karti označeno crnim kružićem (●).

Geografski smještaj je _____ ° _____ od ekvatora i _____ ° _____ od početnog meridijana. Ime države u kojoj se kružić nalazi je _____.

2	
---	--

25. Na crte iza brojeva **1** i **2** upiši imena rijeka koje su na geografskoj karti podebljane i označene brojevima **1** i **2**.

1 _____ **2** _____

2	
---	--

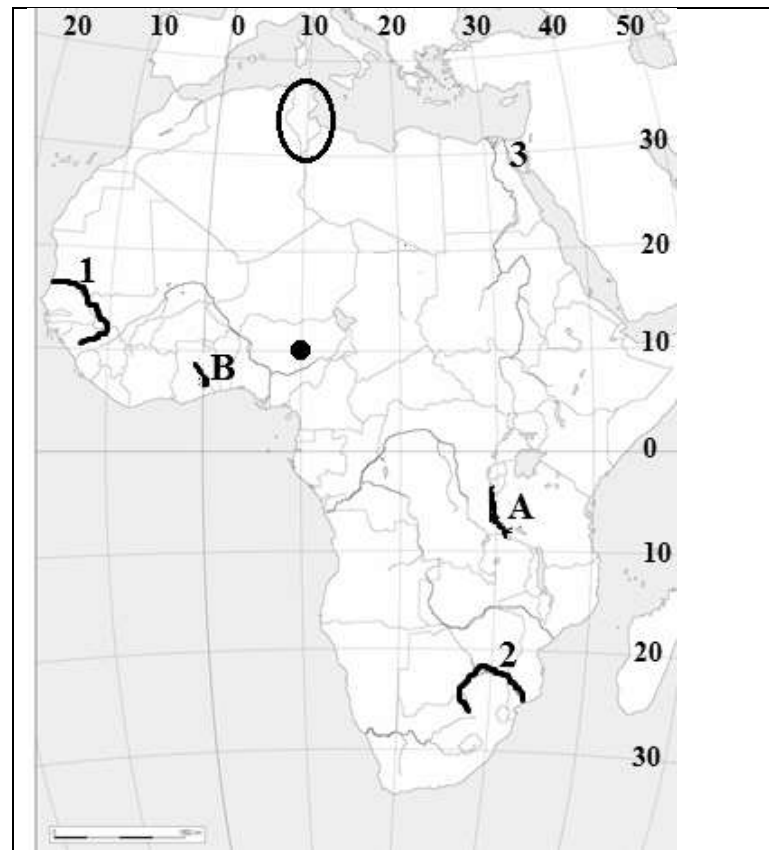
26. Ime umjetnog jezera označenog na geografskoj karti zatamnjeno i slovom **B** je _____, a ime rijeke koja istječe iz jezera je _____.

2	
---	--

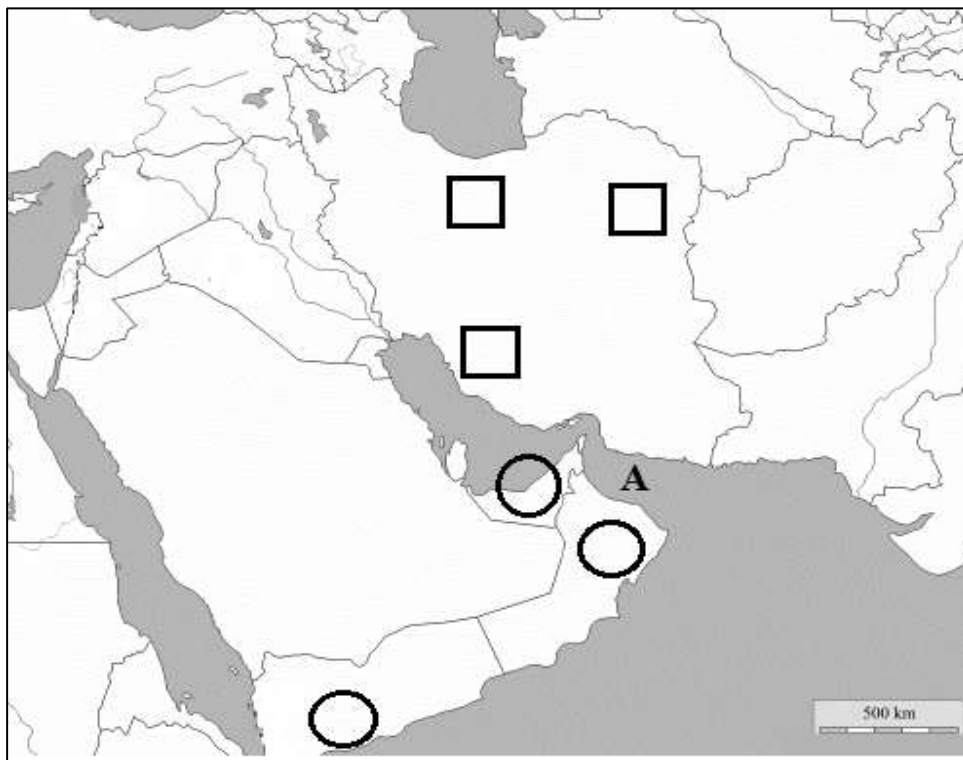
27. Ime jezera označenog na geografskoj karti zatamnjeno i slovom **A** je jezero _____, a ime jedinog od njega dubljeg jezera na svijetu je _____.

2	
---	--

28. Ime poluotoka označenog na geografskoj karti bojem **3** je _____ poluotok, a ime azijske države s kojom Egipat na tom poluotoku graniči je _____.



SLJEDEĆA TRI ZADATKA RIJEŠI UZ POMOĆ PRILOŽENE GEOGRAFSKE KARTE JUGOZAPADNE AZIJE.



3	
---	--

29. Ime države u kojoj su na priloženoj geografskoj karti ucrtana tri kvadratića je _____ . Upiši broj **1** u kvadratić koji odgovara smještaju glavnog grada te države (dva kvadratića moraju ostati prazna).
Ime tog grada je _____ .

2	
---	--

30. U odgovarajući kružić na priloženoj geografskoj karti upiši broj **2** u državu koja je članica OPEC-a. Dva kružića moraju ostati prazna. Puno ime te države je _____ .

2	
---	--

31. Ime zaljeva na geografskoj karti označenog slovom **A** je _____ , a ime morskog tjesnaca koji taj zaljev spaja s Arapsko-perzijskim zaljevom je _____ .

SLJEDEĆI ZADATAK RIJEŠI UZ POMOĆ PRILOŽENIH FOTOGRAFIJA.

- | | |
|----------|--|
| 1 | |
|----------|--|

32. Na crtu ispod odgovarajuće fotografije boraca za ljudska prava upiši ime i prezime dobitnika Nobelove nagrade za mir.



U ZADNJA TRI ZADATKA JEDAN JE ODGOVOR TOČAN. ZAOKRUŽI SLOVO ISPRED TOČNOG ODGOVORA.

- | | |
|----------|--|
| 1 | |
|----------|--|

33. Koja je od navedenih morskih struja topla?
- a) Benguelska b) Kanarska c) Mozambička d) Oya Shio
- | | |
|----------|--|
| 1 | |
|----------|--|

34. U kojoj državi živi najveći broj pripadnika Ainu naroda?
- a) u Japanu b) u Kini c) u Republici Koreji d) u Ruskoj Federaciji
- | | |
|----------|--|
| 1 | |
|----------|--|

35. Koji je grad sjedište parlamenta Republike Južne Afrike?
- a) Bloemfontein b) Cape Town c) Johannesburg d) Pretoria