

## 22. DRŽAVNO NATJECANJE IZ GEOGRAFIJE 2015. GODINE

**Razred ili kategorija natjecanja:** **8. razred**

**Zaporka**

--	--	--	--	--

 \_\_\_\_\_

**Broj postignutih bodova** \_\_\_\_ / 70

**Potpis članova povjerenstva**

1. \_\_\_\_\_
2. \_\_\_\_\_
3. \_\_\_\_\_

**Mjesto i nadnevak: Kalinovac, 16. travnja 2015.**

Za rješavanje zadataka predviđeno je 60 minuta.

Ispit se rješava kemijskom olovkom s plavom tintom koja se ne briše. Uporaba obične olovke i crvene ili neke druge boje tinte (osim plave) rezultira diskvalifikacijom učenika.

Pri rješavanju ispita treba primijeniti jezičnu normu standardnoga hrvatskoga jezika, posebice treba poštivati pravopisna pravila o pisanju velikoga i maloga početnog slova geografskih imena. Za pisanje geografskih imena u ispitima i praktičnim radovima primjenjuje se Hrvatski pravopis Instituta za hrvatski jezik i jezikoslovlje (2013.).

Odgovori učenika moraju biti čitljivo napisani pisanim slovima, jedino u zadacima u kojima je odgovor jedno slovo dopuštena je uporaba čitljivo napisanog velikog tiskanog slova.

Za vrijeme pisanja ispita ne smije se koristiti ništa osim navedenoga pribora za pisanje. Ova odredba podrazumijeva da natjecatelji ne smiju kod sebe (na sebi, ispod, u svojoj odjeći i slično) imati predmete koji na bilo koji način mogu dovesti u sumnju pravilno provođenje natjecanja. Učenici se ne smiju služiti atlasom, zidnom kartom ni računalom. Kartografski i grafički prilozi nužni za rješavanje zadataka sastavni su dio ispita.

Učenicima se dopušta pisanje po marginama i praznim stranicama ispitnog materijala bez oduzimanja bodova i/ili diskvalifikacije.

Potpuno ispravno riješeni zadatci, prema uputi za rješavanje vrednuju se s jednim, dva ili tri boda. U djelomično ispravno riješenim zadacima boduju se ispravno riješene čestice, ako nije bilo korekcije odgovora u tim česticama. Netočno riješeni zadatci i naknadno ispravljeni odgovori te odgovori koji su pisani velikim tiskanim slovima ili kombinacijom tiskanih i pisanih slova, kao i odgovori u zagradama ne vrednuju se.

**U PRVA DVA ZADATKA JEDAN JE ODGOVOR TOČAN. ZAOKRUŽI SLOVO ISPRED TOČNOG ODGOVORA.**

- |   |  |
|---|--|
| 1 |  |
|---|--|

 1. Koja od navedenih panonskih gora ima najnižu nadmorsku visinu?  
a) Požeška gora   b) Krndija   c) Dilj   d) Papuk

- |   |  |
|---|--|
| 1 |  |
|---|--|

 2. Koja od navedenih država je prva priznala Hrvatsku, a da je i sama u to vrijeme bila međunarodno priznata?  
a) Slovenija   b) Litva   c) Island   d) Njemačka

**U SVAKOM OD SLJEDEĆA ČETIRI ZADATAKA DVA SU ODGOVORA TOČNA. ZAOKRUŽI SLOVA ISPRED TOČNIH ODGOVORA.**

- |   |  |
|---|--|
| 2 |  |
|---|--|

 3. Koje dvije od navedenih prekomorskih država danas imaju najviše pripadnika hrvatske dijaspore?

a) SAD   b) Kanada   c) Novi Zeland   d) Australija   e) Čile

- |   |  |
|---|--|
| 2 |  |
|---|--|

 4. Koja su od navedenih dva najposjećenija nacionalna parka Hrvatske posljednjih pet godina?

a) NP Kornati                      b) NP Plitvička jezera                      c) NP Mljet  
d) NP Krka                                      e) NP Brijuni

- |   |  |
|---|--|
| 2 |  |
|---|--|

 5. Koja su dva od navedenih regionalnih središta po popisu stanovništva 2011. godine imala najveći broj stanovnika?

a) Slavonski Brod   b) Varaždin   c) Zadar   d) Pula   e) Karlovac

- |   |  |
|---|--|
| 2 |  |
|---|--|

 6. Koja se dvije od navedenih sorti vina najviše proizvode u Istri?

a) traminac   b) malvazija   c) graševina   d) teran   e) rizling

**U SLJEDEĆA DVA ZADATKA POVEŽI STUPCE UPISIVANJEM JEDNOG SLOVA I JEDNOG BROJA NA CRTU ISPRED POJMOVA U LIJEVOM STUPCU. JEDNO SLOVO I JEDAN BROJ NE MOGU SE POVEZATI.**

- |   |  |
|---|--|
| 3 |  |
|---|--|

 7. Poveži grad sa sjedištem tvornice i županijom u kojoj se nalazi.

_____ Belišće	A) CALUCEM d.o.o	1) Istarska županija
_____ Pazin	B) DUROPACK d.d.	2) Osječko-baranjska županija
_____ Šibenik	C) KAMEN d.d.	3) Šibensko-kninska županija
	D) TLM-TVP d.d.	4) Zadarska županija

3

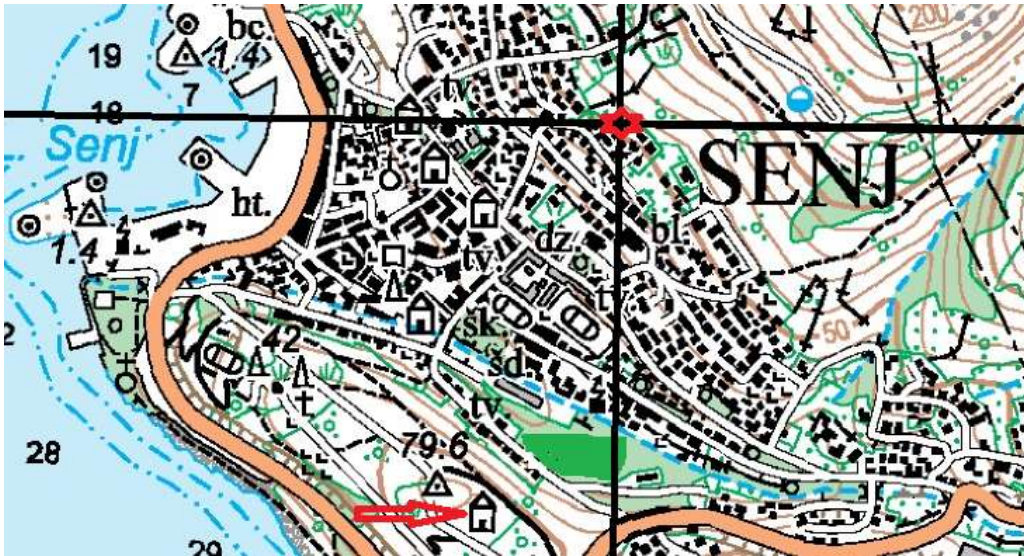
8. Poveži grad s imenom objekta i turističkom manifestacijom po kojoj je grad poznat.

\_\_\_\_\_ Ogulin  
\_\_\_\_\_ Osijek  
\_\_\_\_\_ Vukovar

A) dvorac Eltz  
B) dvorac Pejačević  
C) Frankopanski kaštel  
D) Tvrđa

1) Barokne večeri  
2) Dunavski maraton  
3) Festival bajki  
4) Pannonian Challenge festival

**SLJEDEĆA TRI ZADATKA RIJEŠI UZ POMOĆ PRILOŽENOG ISJEČKA TOPOGRAFSKE KARTE.**



1

9. Geografski smještaj označen crvenom zvjezdicom na priloženom isječku topografske karte iznosi \_\_\_\_\_° \_\_\_\_\_ geografske širine i \_\_\_\_\_° \_\_\_\_\_ geografske dužine.

2

10. Ekvidistanca na priloženom isječku topografske karte iznosi \_\_\_\_\_, a s obzirom na ekvidistancu, mjerilo topografske karte prikazanog isječka iznosi \_\_\_\_\_.

1

11. Ime starog grada označenog crvenom strelicom na isječku topografske karte je \_\_\_\_\_.

**SLJEDEĆA DVA ZADATKA RIJEŠI UZ POMOĆ PRILOŽENIH FOTOGRAFIJA.**

2

12. Dio autoceste prikazane na fotografiji pripada

\_\_\_\_\_

prometnom pravcu (upiši naziv prometnog pravca u Hrvatskoj). Taj prometni pravac dio je **poprečnog / uzdužnog** (zaokruži točan pojam) paneuropskog prometnog koridora.



2

13. Na crte ispod fotografija upiši ime grada u kojem se nalaze prikazani sakralni objekti.



**U TEKSTU KOJI OPISUJE RIJEČNI PROMET PANONSKO-PERIPANONSKE HRVATSKE TRI SU POGREŠNA POJMA. PRONAĐI IH U TEKSTU, UPIŠI U PRVI STUPAC TABLICE, A UZ NJIH U DRUGI STUPAC, U ISTOM REDU, UPIŠI TOČNE POJMOVE.**

3

14. *Riječni promet Panonsko-peripanonske Hrvatske odvija se na četiri rijeke. Rijeka Sava izvire u Italiji i plovna je za veće brodove nizvodno od Zagreba. Najveće luke na Savi su Sisak, Slavonski Brod i Županja. Rijeka Kupa plovna je za manje brodove od Karlovca do ušća u Savu, a Drava u svom gornjem toku. Najveća luka na Dravi je Osijek, a na Dunavu Vukovar.*

POGREŠAN POJAM	TOČAN POJAM

**SLJEDEĆA TRI ZADATKA RIJEŠI UZ POMOĆ PRILOŽENOG DIJAGRAMA.**



1  **15.** Najviša zabilježena stopa rodnosti na priloženom dijagramu iznosi \_\_\_\_\_.

2  **16.** Najveća zabilježena prirodna promjena na priloženom dijagramu iznosi \_\_\_\_\_. Prirodnu promjenu do 1945. i od 1947. do 1991. godine nazivamo \_\_\_\_\_.

Prostor za računanje

2  **17.** Naziv prirodne promjene u razdoblju od 1991. godine do danas je \_\_\_\_\_ što znači da se Hrvatska danas nalazi u \_\_\_\_\_ (upiši fazu demografskog razvoja).

**U SLJEDEĆIH SEDAM ZADATAKA DOPUNI REČENICE.**

2  **18.** Ime najdužeg cestovnog tunela u Hrvatskoj je \_\_\_\_\_, a ime najdužeg mosta je \_\_\_\_\_.

2  **19.** Najvažnije ribarsko središte na otoku Ugljanu je \_\_\_\_\_ (upiši ime naselja), a na Dugom otoku je \_\_\_\_\_ (upiši ime naselja).

- 2 20. Prvi hotel na hrvatskoj obali izgrađen je u \_\_\_\_\_ (upiši ime grada), a hotel je nazvan \_\_\_\_\_.
- 2 21. Ime najvišega vodopada na rijeci Krki, visine 52 metra je \_\_\_\_\_, a najvišega na rijeci Cetini, visine 48 metara je \_\_\_\_\_.
- 2 22. Prostorno najveća županija Jadranske Hrvatske je \_\_\_\_\_ županija, a prostorno najveća županija Panonsko-peripanonske Hrvatske je \_\_\_\_\_ županija.
- 2 23. Ime lučkog bazena riječkog lučkog kompleksa specijaliziranog za prijevoz kontejnera je \_\_\_\_\_, a lučki bazen specijaliziran za prijevoz stoke, drveta i ugljena je \_\_\_\_\_.
- 2 24. Dva turistička središta koja su u razdoblju od 2008. do 2013. godine bilježila najveći broj noćenja su \_\_\_\_\_ i \_\_\_\_\_ (upiši imena gradova).

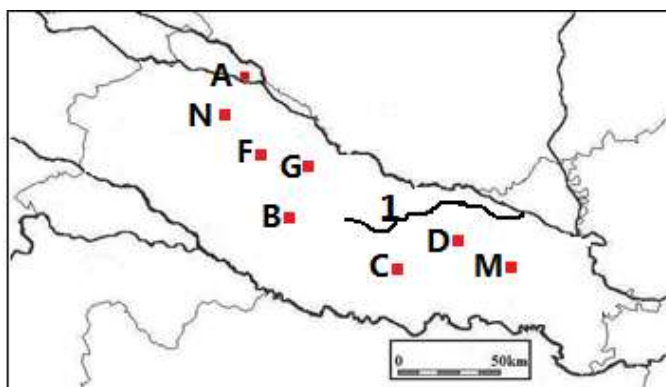
**U SLJEDEĆA DVA ZADATKA POVEŽI PAROVE UPISIVANJEM SLOVA NA CRTU ISPRED PONUĐENIH ODGOVORA. TRI CRTE MORAJU OSTATI PRAZNE.**

- 2 25. Navedene parkove prirode poveži s pripadajućim obilježjem ili posebnosti:
- A) Papuk                      B) Lastovsko otočje
- \_\_\_\_ selo Krapje      \_\_\_\_ jezero Mir      \_\_\_\_ najmlađi park prirode
- \_\_\_\_ park-šuma Jankovac      \_\_\_\_ međunarodni rezervat biosfere
- 2 26. Navedena umjetna jezera poveži s regionalnom cjelinom u kojoj se nalaze:
- A) Borovik                      B) Butoniga
- \_\_\_\_ Gorski kotar      \_\_\_\_ Slavonija      \_\_\_\_ Istra
- \_\_\_\_ Podravina      \_\_\_\_ Lika

**SLJEDEĆA TRI ZADATKA RIJEŠI UZ POMOĆ GEOGRAFSKE KARTE PANONSKO-PERIPANONSKE HRVATSKE.**

3

27. Ime najmanjeg regionalnog središta Zagrebačke makroregije je \_\_\_\_\_ i na priloženoj je karti označeno slovom \_\_\_\_\_. Taj grad je upravno središte \_\_\_\_\_ županije.



1

28. Na karti je brojem 1 označena rijeka \_\_\_\_\_ (upiši ime rijeke).

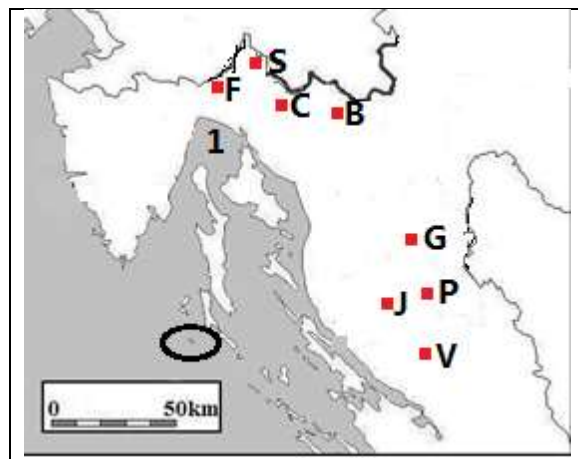
2

29. Ime grada u Slavoniji kojeg krasi dvorac Pejačević, te zoološki vrt Bizik je \_\_\_\_\_, a na priloženoj je karti označen slovom \_\_\_\_\_.

**SLJEDEĆA TRI ZADATKA RIJEŠI UZ POMOĆ GEOGRAFSKE KARTE GORSKE I SJEVERNOG DIJELA PRIMORSKE HRVATSKE.**

2

30. Ime grada u kojem se nalazi Zavičajni muzej Like je \_\_\_\_\_, a na priloženoj je karti označen slovom \_\_\_\_\_.



2

31. Ime naselja s najmanjim brojem stanovnika koje je sjedište (upravnoga) grada je \_\_\_\_\_, a na priloženoj karti to je naselje označeno slovom \_\_\_\_.

2

32. Na priloženoj karti je brojem 1 označen \_\_\_\_\_ zaljev (upiši ime), a zaokružen je otok \_\_\_\_\_ (upiši ime otoka).

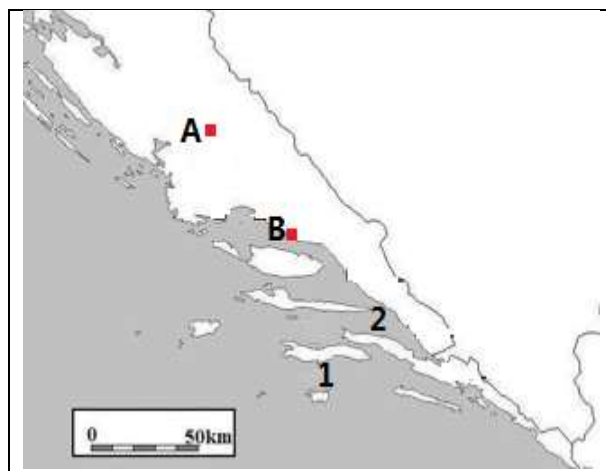
**SLJEDEĆA TRI ZADATKA RIJEŠI UZ POMOĆ GEOGRAFSKE KARTE JUŽNOG DIJELA PRIMORSKE HRVATSKE.**

2	
---	--

**33.** Na priloženoj karti su brojevima označeni kanali.  
Na crte iza brojeva upiši imena kanala.

1 \_\_\_\_\_

2 \_\_\_\_\_



3	
---	--

**34.** Ime subregionalnog središte poznatog i kao utvrde za obranu od Turaka na priloženoj karti označenog slovom **A** je \_\_\_\_\_. Ime rijeke koja protječe kroz taj grad je \_\_\_\_\_, a ime županije u kojoj se nalazi je \_\_\_\_\_ županija.

3	
---	--

**35.** Ime grada na priloženoj karti označenoga slovom **B** je \_\_\_\_\_. Nastao je na ušću rijeke \_\_\_\_\_, a nalazi se u \_\_\_\_\_ županiji.