

# ŽUPANIJSKO NATJECANJE IZ GEOGRAFIJE 2015. GODINE

Razred ili kategorija natjecanja: **7. razred**

Zaporka

--	--	--	--	--

\_\_\_\_\_

Broj postignutih bodova \_\_\_\_ / 70

Potpis članova Županijskog povjerenstva

1. \_\_\_\_\_

2. \_\_\_\_\_

3. \_\_\_\_\_

Mjesto i nadnevak: \_\_\_\_\_

Za rješavanje zadataka predviđeno je 60 minuta.

Ispit se rješava kemijskom olovkom s plavom tintom koja se ne briše. Uporaba obične olovke i crvene ili neke druge boje tinte (osim plave) rezultira diskvalifikacijom učenika.

Pri rješavanju ispita treba primijeniti jezičnu normu standardnoga hrvatskoga jezika, posebice treba poštivati pravopisna pravila o pisanju velikoga i maloga početnog slova geografskih imena. Za pisanje geografskih imena u ispitima i praktičnim radovima primjenjuje se Hrvatski pravopis Instituta za hrvatski jezik i jezikoslovlje (2013.).

Odgovori učenika moraju biti čitljivo napisani pisanim slovima, jedino u zadacima u kojima je odgovor jedno slovo dopuštena je uporaba čitljivo napisanog velikog tiskanog slova.

Za vrijeme pisanja ispita ne smije se koristiti ništa osim navedenoga pribora za pisanje. Ova odredba podrazumijeva da natjecatelji ne smiju kod sebe (na sebi, ispod, u svojoj odjeći i slično) imati predmete koji na bilo koji način mogu dovesti u sumnju pravilno provođenje natjecanja. Učenici se ne smiju služiti atlasom, zidnom kartom ni računalom. Kartografski i grafički prilozi nužni za rješavanje zadataka sastavni su dio ispita.

Učenicima se dopušta pisanje po marginama i praznim stranicama ispitnog materijala bez oduzimanja bodova i/ili diskvalifikacije.

Potpuno ispravno riješeni zadatci, prema uputi za rješavanje vrednuju se s jednim, dva ili tri boda. U djelomično ispravno riješenim zadacima boduju se ispravno riješene čestice, ako nije bilo korekcije odgovora u tim česticama. Netočno riješeni zadatci i naknadno ispravljeni odgovori te odgovori koji su pisani velikim tiskanim slovima ili kombinacijom tiskanih i pisanih slova, kao i odgovori u zagradama ne vrednuju se.

**U PRVIH OSAM ZADATAKA DVA SU TOČNA ODGOVORA.  
ZAKRUŽI SLOVA ISPRED TOČNIH ODGOVORA.**

- 2**  1. Među navedenima, europske države koje se nalaze u Zapadnoeuropskom vremenskom pojasu su:  
a) Irska      b) Španjolska      c) Portugal      d) Norveška      e) Francuska
- 2**  2. Među navedenima, nizine smještene na Pirenejskom poluotoku su:  
a) Vlaška      b) Padska      c) Aragonska      d) Panonska      e) Andaluzijska
- 2**  3. Među navedenim gradovima, umjereno toplu vlažnu klimu imaju:  
a) Kopenhagen      b) Helsinki      c) Vilnius      d) Göteborg      e) Tallinn
- 2**  4. Među navedenima, ledenjačka jezera su:  
a) Kaspijsko      b) Saimaa      c) Balaton      d) Nemi      e) Mälaren
- 2**  5. Među navedenima, države u kojima je najzastupljenija protestantska vjeroispovijest su:  
a) Island      b) Belgija      c) Finska      d) Irska      e) Litva
- 2**  6. Među navedenim državama, monarhije su:  
a) Monako      b) Lihtenštajn      c) San Marino      d) Andora      e) Malta
- 2**  7. Među navedenim saveznom zemljama Njemačke, u Južnoj Njemačkoj se nalaze:  
a) Schleswig-Holstein      b) Bayern      c) Hessen      d) Sachsen      e) Baden-Württemberg
- 2**  8. Među navedenima, točne tvrdnje o Alpama su:  
a) Površinom najmanja alpska država je Slovenija.  
b) Najviši vrh Alpa smješten je na granici Francuske i Švicarske.  
c) Alpski prijevoj koji povezuje Italiju i Austriju zove se Brenner.  
d) Najveći alpski ledenjak zove se Aletsch.  
e) Topao i suh proljetni vjetar s juga koji otapa snijeg i pokreće lavine spuštajući se niz padine karakterističan za Alpe zove se maestral.

**U SVAKOM OD SLJEDEĆA DVA ZADATKA POREDAJ ODGOVORE UPISIVANJEM BROJEVA  
OD 1 DO 4 NA CRTE IZA FORMULACIJA.**

- 1**  9. Poredaj navedene geološke događaje od najstarijeg do najmlađeg, tako da na crtu iza najstarijeg geološkog događaja upišeš broj 1, a iza najmlađeg geološkog događaja upišeš broj 4.

nastanak i formiranje Rodopa - _____	nastanak i formiranje Istočnoeuropske nizine - _____
nastanak i formiranje Apenina - _____	nastanak i formiranje Ukrajinskog štita - _____

- 1**  10. Poredaj navedene gradove po temperaturnoj amplitudi od najmanje do najveće, tako da na crtu iza grada s najmanjom temperaturnom amplitudom upišeš broj 1, a iza grada s najvećom temperaturnom amplitudom upišeš broj 4.

Moskva - _____	Rotterdam - _____
Leipzig - _____	Krakow - _____

**U SLJEDEĆA ČETIRI ZADATKA POVEŽI PAROVE UPISIVANJEM SLOVA NA CRTU ISPRED PONUĐENIH ODGOVORA. TRI CRTE MORAJU OSTATI PRAZNE.**

**2** **11.** Navedene opise područja tlaka zraka poveži s njihovim nazivima.

**A)** anticiklona koja većem dijelu Europi ljeti donosi vedro vrijeme

**B)** anticiklona koja većem dijelu Europe zimi donosi vedro i suho vrijeme uz vrlo niske temperature zraka

\_\_\_\_ Sredozemna      \_\_\_\_ Sibirska      \_\_\_\_ Islandska      \_\_\_\_ Denovska      \_\_\_\_ Azorska

**2** **12.** Navedene opise procesa poveži s njihovim nazivima.

**A)** proces okupljanja stanovništva i gospodarstva na obalama mora

**B)** proces kojim se nastoji spriječiti prevelika koncentracija stanovništva i gospodarstva u dijelu neke države

\_\_\_\_ litoralizacija      \_\_\_\_ decentralizacija      \_\_\_\_ urbanizacija      \_\_\_\_ deruralizacija      \_\_\_\_ tercijarizacija

**2** **13.** Navedene opise njemačkih gradova poveži s njihovim imenima.

**A)** veliko industrijsko središte i najveća europska riječna luka na Rajni

**B)** veliko industrijsko središte smješteno na kanalu Majna-Dunav

\_\_\_\_ Ingolstadt      \_\_\_\_ Frankfurt      \_\_\_\_ Essen      \_\_\_\_ Nürnberg      \_\_\_\_ Duisburg

**2** **14.** Navedene opise poveži s imenima poljskih gradova.

**A)** lučko-industrijsko središte na ušću rijeke Odre

**B)** industrijsko središte u Šleskoj

\_\_\_\_ Lodz      \_\_\_\_ Szczecin      \_\_\_\_ Wroclaw      \_\_\_\_ Poznan      \_\_\_\_ Gdansk

**U SLJEDEĆA DVA ZADATKA POVEŽI SREDNJI I DESNI STUPAC S LIJEVIM UPISIVANJEM PRIPADAJUĆEG SLOVA I BROJA NA CRTU ISPRED POJMOVA U LIJEVOM STUPCU. JEDNO SLOVO I JEDAN BROJ SU VIŠAK.**

**3** **15.** Poveži ime grada i uzvisinu na kojoj izvire rijeka s pripadajućom rijekom.

_____ Loire	<b>A</b> - Lille	<b>1</b> - Alpe
_____ Garonne	<b>B</b> - Toulouse	<b>2</b> - Ardeni
_____ Rhone	<b>C</b> - Nantes	<b>3</b> - Pireneji
	<b>D</b> - Marseille	<b>4</b> - Vogezi (Vosges)
	<b>E</b> - Lyon	<b>5</b> - Središnji masiv

**3** **16.** Poveži ime grada i turističku atrakciju s pripadajućom državom.

_____ Mađarska	<b>A</b> - Košice	<b>1</b> - Karlovy Vary
_____ Slovačka	<b>B</b> - Debrecen	<b>2</b> - Bled
_____ Češka	<b>C</b> - Koper	<b>3</b> - Wieliczka
	<b>D</b> - Brno	<b>4</b> - Niske Tatire
	<b>E</b> - Krakow	<b>5</b> - Balaton

**U SVAKOM OD SLJEDEĆA DVA ZADATKA TRI SU NETOČNA POJMA. PRONAĐI IH NA KARTI ODNOSNO U TEKSTU, UPIŠI U PRVI STUPAC TABLICE TE PORED NJIH U DRUGI STUPAC U ISTOM REDU UPIŠI TOČNE POJMOVE.**

**3**

**17. Pažljivo prouči kartu dijela Sjeverne Europe i riješi zadatak kao što je napisano u napatku.**



NETOČAN POJAM	TOČAN POJAM

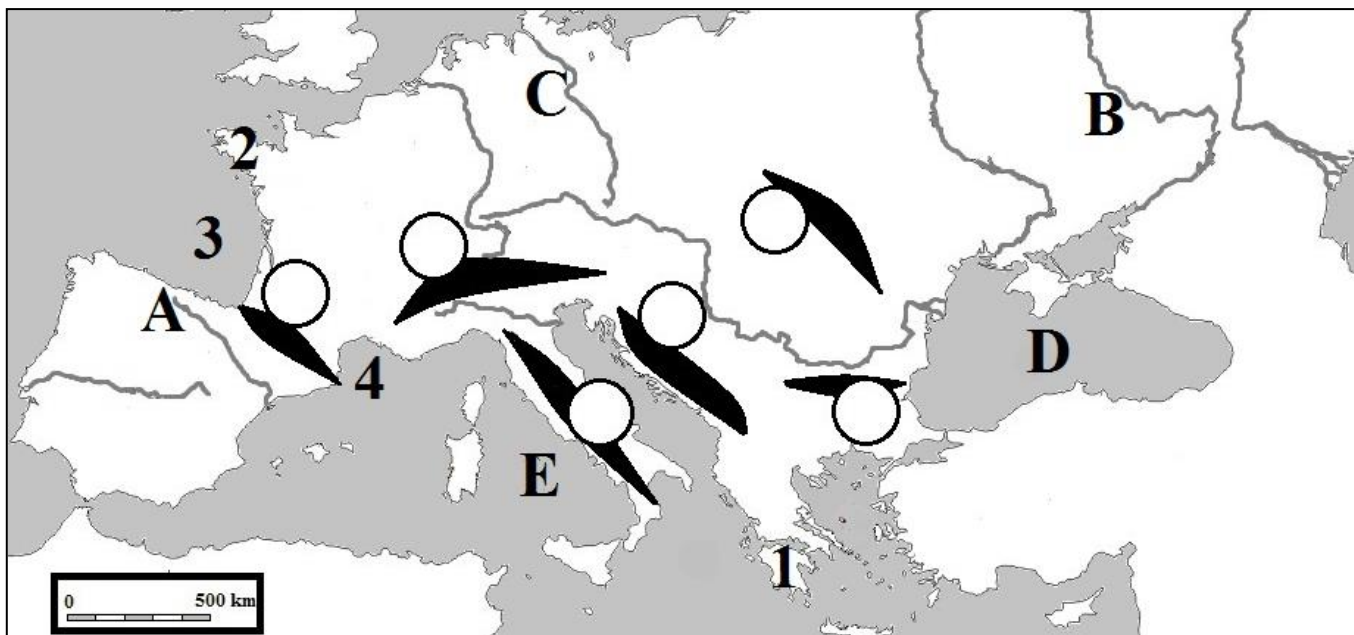
**3**

**18. Pažljivo pročitaj tekst o Srednjoj Europi i riješi zadatak kao što je napisano u napatku.**

*Europa je podijeljena u šest regija: Sjevernu, Zapadnu, Srednju, Južnu, Jugoistočnu i Istočnu Europu. Srednja Europa je jedina regija Europe koja graniči sa svim ostalim regijama Europe. Regiji Srednje Europe pripada devet država. Srednja Europa ima izlaz na tri mora: Baltičko, Sjeverno i Jadransko more. Površinom najveća država Srednje Europe je Poljska, a najjužnija država Srednje Europe je Slovenija.*

NETOČAN POJAM	TOČAN POJAM

**SLJEDEĆIH PET ZADATKA RIJEŠI UZ POMOĆ PRILOŽENE KARTE DIJELA EUROPE.**



**2**  **19.** Na karti su brojevima 1 i 2 označeni poluotoci. Na crte iza brojeva upiši njihova imena.  
 1 \_\_\_\_\_ 2 \_\_\_\_\_

**2**  **20.** Na karti su brojevima 3 i 4 označeni morski zaljevi. Na crte iza brojeva upiši njihova imena.  
 3 \_\_\_\_\_ 4 \_\_\_\_\_

**3**  **21.** Na karti su slovima A, B i C označene rijeke. Na crte iza slova upiši njihova imena.  
 A \_\_\_\_\_ B \_\_\_\_\_  
 C \_\_\_\_\_

**2**  **22.** Na karti su slovima D i E označena mora. Na crte iza slova upiši njihova imena.  
 D \_\_\_\_\_ E \_\_\_\_\_

**2**  **23.** U odgovarajuće kružice na karti upiši slova za sljedeće europske planinske lance (četiri kružića su višak):  
 P - Pireneji                      S - Stara planina (Balkan)

**U SLJEDEĆA DVA ZADATKA DOPUNI REČENICE.**

**2**  **24.** Naziv germanskog jezika s najvećim brojem govornika u Zapadnoj Europi je \_\_\_\_\_ jezik, a naziv germanskog jezika koji je službeni jezik u najviše država Sjeverne Europe je \_\_\_\_\_ jezik.

**2**  **25.** Ime površinom najveće države Ujedinjenog Kraljevstva je \_\_\_\_\_, a ime površinom najmanje države Ujedinjenog Kraljevstva je \_\_\_\_\_.

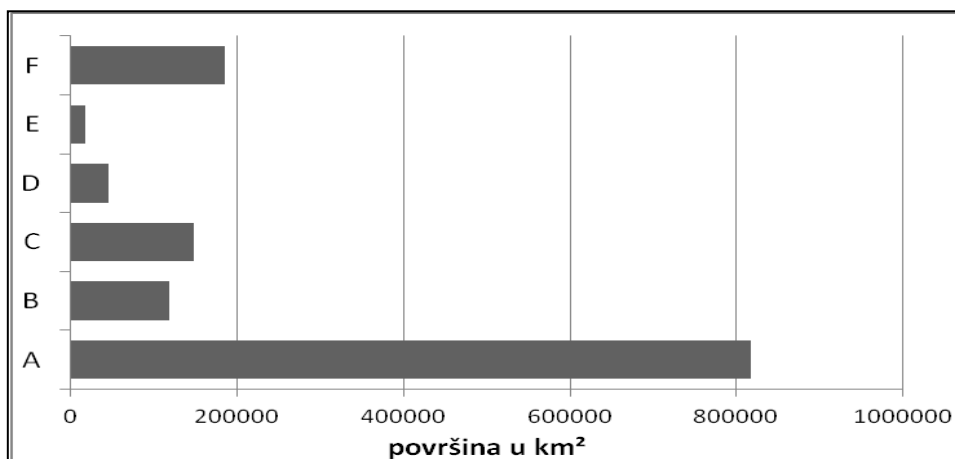
SLJEDEĆA ČETIRI ZADATAKA RIJEŠI UZ POMOĆ PRILOŽENE TABLICE.

Rijeka	Duljina (km)	Prosječni godišnji protok na ušću (m <sup>3</sup> /s)	Površina porječja (km <sup>2</sup> )
Dunav	2 872	7 000	817 000
Elbe	1 091	711	148 268
Ems	371	80	17 934
Oder	854	574	118 861
Rhein	1 230	2 900	185 000
Weser	452	327	46 306

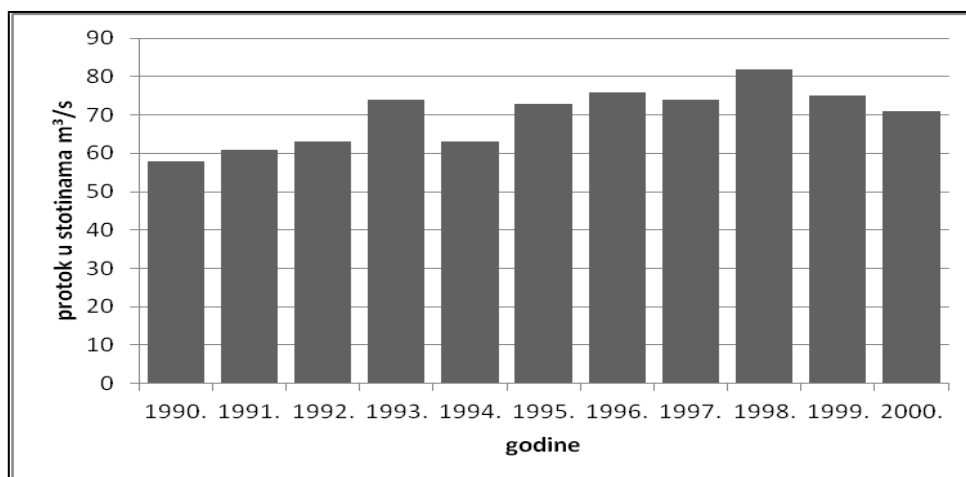
26. Dvije od navedenih rijeka u tablici izvire u Češkoj. Njihova imena su \_\_\_\_\_  
i \_\_\_\_\_.

27. Ime mora u koje se ulijeva većina rijeka iz tablice je \_\_\_\_\_ more.

28. Na priloženom dijagramu površinu porječja rijeke Weser prikazuje stupac označen slovom \_\_\_\_\_.



29. Ime rijeke iz tablice čiji je prosječni godišnji protok na ušću prikazan u dijagramu ispod je \_\_\_\_\_.



**SLJEDEĆA DVA ZADATKA RIJEŠI UZ POMOĆ PRILOŽENIH FOTOGRAFIJA.**

**3** **30.** Naziv za prirodnu pojavu prikazanu na fotografijama je \_\_\_\_\_, a ime europske države za koju je karakteristična ta pojava je \_\_\_\_\_. Vrsta energije koja koristi toplinu Zemljine unutrašnjosti kao izvor energije zove se \_\_\_\_\_ energija.



**2** **31.** Na crte ispod fotografija upiši ime grada u kojem se nalazi prikazani objekt.



**SLJEDEĆA ČETIRI ZADATKA RIJEŠI UZ POMOĆ PRILOŽENE KARTE UK I SUSJEDNIH DRŽAVA.**

**1** **32.** Na karti je slovom A označena rijeka. Na crtu iza slova upiši njeno ime.  
A \_\_\_\_\_

**2** **33.** Na karti su slovima B i C označeni gradovi. Na crte iza slova upiši njihova imena.  
B \_\_\_\_\_  
C \_\_\_\_\_

**2** **34.** Na karti su zatamnjeno i brojevima 1 i 2 označena gorja. Na crte iza slova upiši njihova imena.  
1 \_\_\_\_\_  
2 \_\_\_\_\_

**2** **35.** Na odgovarajuće crte na karti upiši slova za sljedeća otočja (tri crte su višak):  
F - Farski otoci (Färöerne, Ovčji otoci)                      K - Kanalski otoci

