

# ŠKOLSKO/OPĆINSKO/GRADSKO NATJECANJE IZ GEOGRAFIJE 2015. GODINE

Razred ili kategorija natjecanja: **6. razred**

Zaporka

--	--	--	--	--

\_\_\_\_\_

Broj postignutih bodova \_\_\_\_ / 70

Potpis članova Školskog povjerenstva

1. \_\_\_\_\_

2. \_\_\_\_\_

3. \_\_\_\_\_

Mjesto i nadnevak: \_\_\_\_\_

Za rješavanje zadataka predviđeno je 60 minuta.

Ispit se rješava kemijskom olovkom s plavom tintom koja se ne briše. Uporaba obične olovke i crvene ili neke druge boje tinte (osim plave) rezultira diskvalifikacijom učenika.

Pri rješavanju ispita treba primijeniti jezičnu normu standardnoga hrvatskoga jezika, posebice treba poštivati pravopisna pravila o pisanju velikoga i maloga početnog slova geografskih imena. Za pisanje geografskih imena u ispitima i praktičnim radovima primjenjuje se Hrvatski pravopis Instituta za hrvatski jezik i jezikoslovlje (2013.).

Odgovori učenika moraju biti čitljivo napisani pisanim slovima, jedino u zadacima u kojima je odgovor jedno slovo dopuštena je uporaba čitljivo napisanog velikog tiskanog slova.

Za vrijeme pisanja ispita ne smije se koristiti ništa osim navedenoga pribora za pisanje. Ova odredba podrazumijeva da natjecatelji ne smiju kod sebe (na sebi, ispod, u svojoj odjeći i slično) imati predmete koji na bilo koji način mogu dovesti u sumnju pravilno provođenje natjecanja. Učenici se ne smiju služiti atlasom, zidnom kartom ni računalom. Kartografski i grafički prilozi nužni za rješavanje zadataka sastavni su dio ispita.

Učenicima se dopušta pisanje po marginama i praznim stranicama ispitnog materijala bez oduzimanja bodova i/ili diskvalifikacije.

Potpuno ispravno riješeni zadatci, prema uputi za rješavanje vrednuju se s jednim, dva ili tri boda. U djelomično ispravno riješenim zadacima boduju se ispravno riješene čestice, ako nije bilo korekcije odgovora u tim česticama. Netočno riješeni zadatci i naknadno ispravljeni odgovori te odgovori koji su pisani velikim tiskanim slovima ili kombinacijom tiskanih i pisanih slova, kao i odgovori u zagradama ne vrednuju se.

**PRVA TRI ZADATKA RIJEŠI UZ POMOĆ PRILOŽENOG  
KLIMATSKOG DIJAGRAMA.**

**2** 1. Na odgovarajuće crte iznad okomitih osi upiši mjerne jedinice.  
Naziv mjeseca s najvišom temperaturom zraka je

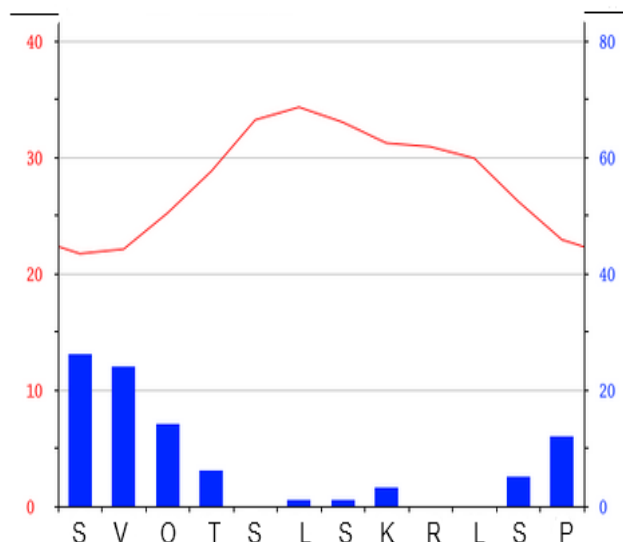
\_\_\_\_\_.

**2** 2. Godišnje doba s najvećom količinom padalina je \_\_\_\_\_ (upiši naziv godišnjeg doba).  
Naziv mjeseca s najvećom količinom padalina je

\_\_\_\_\_.

**1** 3. Naziv tipa klime prema Köppenovoj podjeli na klimatskom dijagramu je

\_\_\_\_\_.



**U SLJEDEĆIH PET ZADATKA DOPUNI REČENICE.**

**2** 4. Prema apsolutnoj naseljenosti Afrika se nalazi na \_\_\_\_\_ mjestu, a Južna Amerika na \_\_\_\_\_ mjestu (upiši redne brojeve).

**1** 5. Suho riječno korito s povremenim tokom u suhoj klimi \_\_\_\_\_.

**1** 6. Prostorno kretanje stanovništva još se naziva \_\_\_\_\_.

**1** 7. Mestik je naziv za mješanca bijele i \_\_\_\_\_ rase.

**1** 8. Proces dobivanja slatke vode iz slane vode naziva se \_\_\_\_\_.

**SLJEDEĆA DVA ZADATKA RIJEŠI UZ POMOĆ PODATAKA U PRILOŽENOJ TABLICI.**

**2** 9. Za svaku državu izračunaj podatke koji nedostaju i upiši ih u odgovarajuće mjesto u tablici.

Tab. 1. Prirodno kretanje stanovništva u odabranim državama Azije 2012. godine

Država	Stopa rodnosti (‰)	Stopa smrtnosti (‰)	Stopa prirodne promjene (‰)
Japan	8	10	
Indija	21		13
Kazahstan		8	15
Filipini	25	6	

Izvor: Worldbank, 2013.

Prostor za računanje:

**2** 10. Prema točno izračunatim i upisanim vrijednostima u Tab. 1., ime države koja ima najveći prirodni prirast je \_\_\_\_\_, a ime države koja ima prirodni pad je

\_\_\_\_\_.

**SLJEDEĆA ČETIRI ZADATKA RIJEŠI UZ POMOĆ FOTOGRAFIJA I PRILOŽENE KARTE AZIJE. DVA KRUŽIĆA I DVA PRAVOKUTNIKA NA KARTI MORAJU OSTATI PRAZNI.**

- 3**  11. U odgovarajuće kružice na priloženoj geografskoj karti upiši broj pripadajuće fotografije i dopuni rečenicu.

- 1 - vazdazelene šume
- 2 - drvo iz čije se smole proizvodi prirodna guma

Naziv drveća iz čije se smole proizvodi prirodna guma je \_\_\_\_\_.



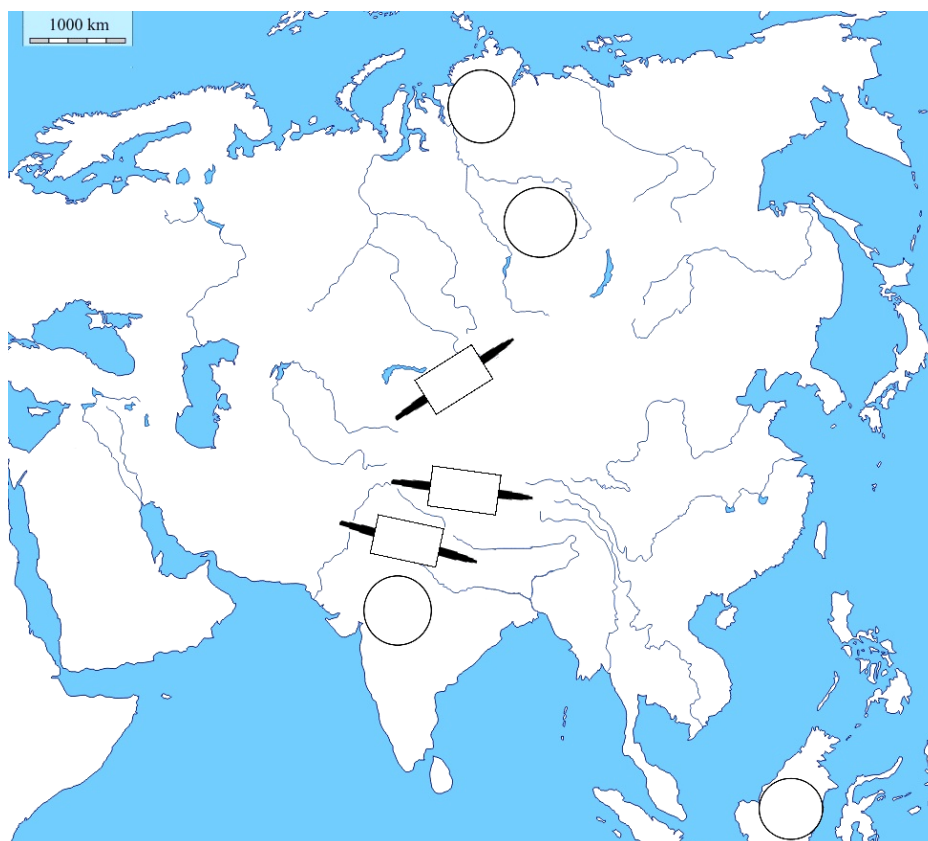
- 3**  12. Ime hidroelektrane s najvećom proizvodnjom energije na svijetu, prikazane na fotografiji 3 je \_\_\_\_\_.
- Ime rijeke na kojoj je izgrađena ta hidroelektrana je \_\_\_\_\_.



Na priloženoj geografskoj karti Azije u cijelosti podebljaj tok te rijeke.

- 3**  13. Ime najviše visoravni svijeta je \_\_\_\_\_. Na priloženu geografsku kartu upiši znak **X** u pravokutnik na područje te visoravni. Ime države u kojoj se nalazi najviša visoravan svijeta je \_\_\_\_\_.

- 2**  14. Ime jezera u središnjoj Aziji čija se površina posljednjih godina naglo smanjuje je \_\_\_\_\_. Zaokruži ovo jezero na priloženoj geografskoj karti.



SLJEDEĆIH ŠEST ZADATAKA RIJEŠI UZ POMOĆ PRILOŽENE

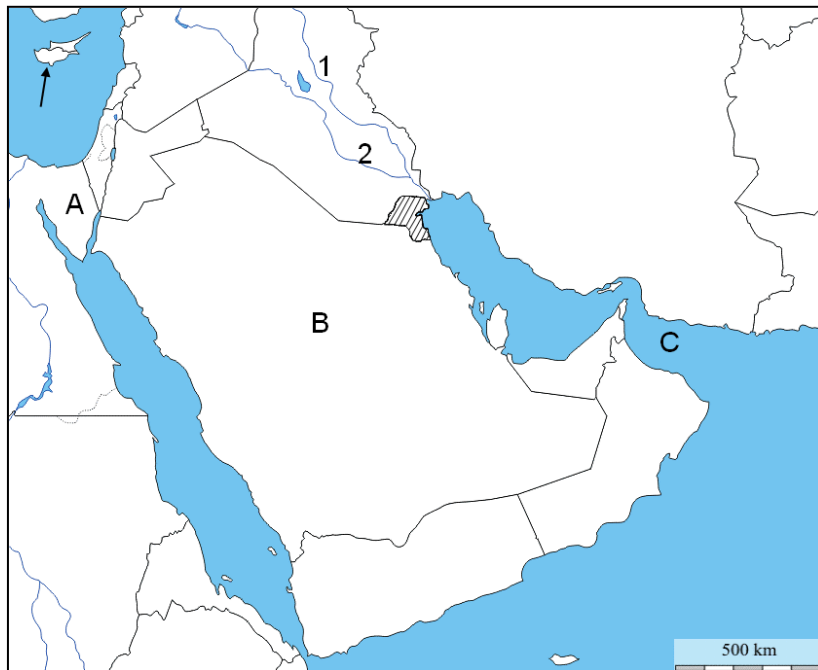
KARTE DIJELA JUGOZAPADNE AZIJE.

- 3 15. Na crte iza slova upiši imena poluotoka i morskog zaljeva označenih slovima na priloženoj geografskoj karti.

A \_\_\_\_\_

B \_\_\_\_\_

C \_\_\_\_\_



- 2 16. Na priloženoj geografskoj karti tok rijeke Euftrat označen je brojem \_\_\_\_\_. Ime države označene kosim crtama je \_\_\_\_\_.

- 2 17. Ime najdublje depresije na svijetu je \_\_\_\_\_. Na priloženoj geografskoj karti zaokruži najdublju depresiju na svijetu.

- 2 18. Na priloženoj geografskoj karti punom linijom ucrtaj Sueski kanal i znak X upiši na prostor morskog prolaza Hormuz.

- 2 19. Na priloženoj geografskoj karti okomitim crtama u cijelosti ispuni državu koja je među državama Jugozapadne Azije najveći izvoznik nafte. Ime te države je \_\_\_\_\_.

- 2 20. Ime otoka označenog na priloženoj karti strelicom je \_\_\_\_\_. Ime mora u kojem se nalazi ovaj otok je \_\_\_\_\_.

U SLJEDEĆA ČETIRI ZADATKA POVEŽI PAROVE UPISIVANJEM SAMO JEDNOG SLOVA NA CRTU ISPRED PONUĐENIH ODGOVORA. TRI CRTE MORAJU OSTATI PRAZNE.

- 2 21. Navedene gradove, poznata vjerska središta, pridruži pripadajućim državama.

A) Varanasi (Benares)    B) Meka

\_\_\_ Indija    \_\_\_ Saudijska Arabija    \_\_\_ Iran    \_\_\_ Izrael    \_\_\_ Pakistan

- 2 22. Navedene nizine pridruži rijekama koje ih oblikuju.

A) Mezopotamija    B) Punjab

\_\_\_ Ind    \_\_\_ Brahmaputra    \_\_\_ Ganges    \_\_\_ Huang He    \_\_\_ Tigris

- 2 23. Navedene japanske gradove pridruži otocima na kojima se nalaze.

A) Sapporo    B) Kyoto

\_\_\_ Kyushu    \_\_\_ Honshu    \_\_\_ Hokkaido    \_\_\_ Shikoku    \_\_\_ Ryukyu

2 24. Navedene logotipove pridruži kraticama međunarodnih organizacija kojima pripadaju.



A)



B)

\_\_\_ UNESCO    \_\_\_ NATO    \_\_\_ UN    \_\_\_ UNICEF    \_\_\_ FAO

**SLJEDEĆA DVA ZADATKA RIJEŠI UZ POMOĆ FOTOGRAFIJA.  
U SVAKOM OD SLJEDEĆA DVA ZADATKA U PAROVIMA POJMOVA KOJI SU PODEBLJANI I  
ODVOJENI KOSIM CRTAMA U CIJELOSTI ZAOKRUŽI ONE POJMOVE KOJI SU TOČNI.**



A)



B)



C)

3 25. Na fotografiji A je **Burj Al Arab / Burj Khalifa**. Ime grada u kojem se nalazi ta građevina je **Abu Dabi / Dubai**.

Na fotografiji B je **Taj Mahal / Mohenjo Daro**. Ime grada u kojem se nalazi ta građevina je nalazi **Delhi / Agra**.

Na fotografiji C je **Lhasa / Angkor Wat**. Ime države u kojoj se nalazi ta građevina je **Tajland / Kina**.

1 26. Fotografija desno prikazuje najviši vrh svijeta Mont Everest koji se nalazi granici između Kine i **Nepala / Butana**. Na tibetanskom jeziku ime najvišeg vrha svijeta je **Sagarmatha / Jomolungma**.



**U SVAKOM OD SLJEDEĆA ČETIRI ZADATKA DVA SU ODGOVORA TOČNA.  
ZAOKRUŽI SLOVA ISPRED TOČNIH ODGOVORA.**

2 27. Koja od navedenih su stara gorja?

a) Kavkaz    b) Altaj    c) Kunlun Shan    d) Hindukuš    e) Ural

2 28. Između koja se dva mora nalazi morski prolaz Bospor?

a) Crveno more    b) Egejsko more    c) Crno more    d) Mramorno more    e) Sredozemno more

2 29. Koje su dvije religije najzastupljenije u Indiji?

a) kršćanstvo    b) islam    c) budizam    d) hinduizam    e) animizam

2 30. Koje od navedenih rijeka pripadaju slijevu Bengalskog zaljeva?

a) Ind    b) Mekong    c) Menam    d) Brahmaputra    e) Ganges

**U SLJEDEĆA DVA ZADATKA POVEŽI DESNI STUPAC S LIJEVIM UPISIVANJEM SAMO JEDNOG SLOVA NA CRTU ISPRED POJMA U LIJEVOM STUPCU.**

**JEDAN JE POJAM U DESNOM STUPCU VIŠAK.**

2 31. Države pridruži gradovima.

- |                |                      |
|----------------|----------------------|
| _____ Jakarta  | A) Saudijska Arabija |
| _____ Wuhan    | B) Pakistan          |
| _____ Nagasaki | C) Kina              |
| _____ Karachi  | D) Indonezija        |
|                | E) Japan             |

2 32. Kulturne znamenitosti Hrvatske koje su na popisu UNESCO-ove svjetske baštine pridruži gradovima u kojima se nalaze.

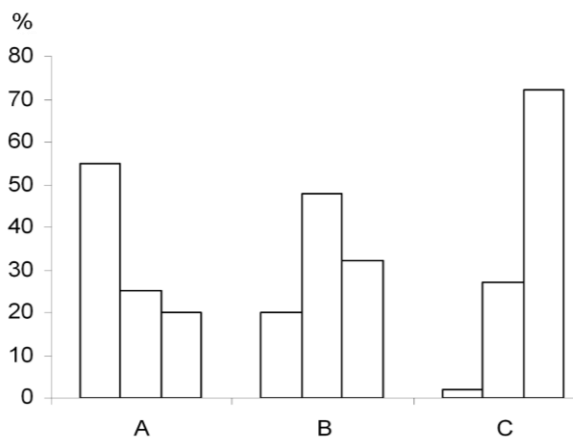
- |                 |                          |
|-----------------|--------------------------|
| _____ Poreč     | A) Stara gradska jezgra  |
| _____ Split     | B) Dioklecijanova palača |
| _____ Šibenik   | C) Starogradsko polje    |
| _____ Dubrovnik | D) Eufrazijeva bazilika  |
|                 | E) Katedrala sv. Jakova  |

**SLJEDEĆA TRI ZADATKA RIJEŠI UZ POMOĆ PRILOŽENOG DIJAGRAMA I FOTOGRAFIJA.**

2 33. Dijagram prikazuje gospodarsku strukturu stanovništva po skupinama država prema stupnju gospodarske razvijenosti.

Kosim crtama u cijelosti ispuni sve stupce na dijagramu koji prikazuju **primarne** djelatnosti.

Vodoravnim crtama u cijelosti ispuni sve stupce na dijagramu koji se odnose na **sekundarne** djelatnosti.



2 34. Gospodarski slabije razvijene države u dijagramu su označene slovom \_\_\_\_\_. U ovim državama najveći je udio zaposlenih u skupini \_\_\_\_\_ djelatnosti.

3 35. Od prikazanih djelatnosti na fotografijama A - E, u skupinu s ostalima ne pripada djelatnost označena slovom \_\_\_\_\_. Ova djelatnost pripada skupini \_\_\_\_\_ djelatnosti. Ostale djelatnosti na fotografijama pripadaju skupini \_\_\_\_\_ djelatnosti.



A



B



C



D



E