

22. DRŽAVNO NATJECANJE IZ GEOGRAFIJE 2015. GODINE

Razred ili kategorija natjecanja: 6. razred

Zaporka

--	--	--	--	--

Broj postignutih bodova ____ / 70

Potpis članova povjerenstva

1. _____
2. _____
3. _____

Mjesto i nadnevak: **Kalinovac, 16. travnja 2015.**

Za rješavanje zadataka predviđeno je 60 minuta.

Ispit se rješava kemijskom olovkom s plavom tintom koja se ne briše. Uporaba obične olovke i crvene ili neke druge boje tinte (osim plave) rezultira diskvalifikacijom učenika.

Pri rješavanju ispita treba primijeniti jezičnu normu standardnoga hrvatskoga jezika, posebice treba poštivati pravopisna pravila o pisanju velikoga i maloga početnog slova geografskih imena. Za pisanje geografskih imena u ispitima i praktičnim radovima primjenjuje se Hrvatski pravopis Instituta za hrvatski jezik i jezikoslovlje (2013.).

Odgovori učenika moraju biti čitljivo napisani pisanim slovima, jedino u zadacima u kojima je odgovor jedno slovo dopuštena je uporaba čitljivo napisanog velikog tiskanog slova.

Za vrijeme pisanja ispita ne smije se koristiti ništa osim navedenoga pribora za pisanje. Ova odredba podrazumijeva da natjecatelji ne smiju kod sebe (na sebi, ispod, u svojoj odjeći i slično) imati predmete koji na bilo koji način mogu dovesti u sumnju pravilno provođenje natjecanja. Učenici se ne smiju služiti atlasom, zidnom kartom ni računalom. Kartografski i grafički prilozi nužni za rješavanje zadataka sastavni su dio ispita.

Učenicima se dopušta pisanje po marginama i praznim stranicama ispitnog materijala bez oduzimanja bodova i/ili diskvalifikacije.

Potpuno ispravno riješeni zadatci, prema uputi za rješavanje vrednuju se s jednim, dva ili tri boda. U djelomično ispravno riješenim zadacima boduju se ispravno riješene čestice, ako nije bilo korekcije odgovora u tim česticama. Netočno riješeni zadatci i naknadno ispravljeni odgovori te odgovori koji su pisani velikim tiskanim slovima ili kombinacijom tiskanih i pisanih slova, kao i odgovori u zagradama ne vrednuju se.

**PRVA ČETIRI ZADATKA RIJEŠI UZ POMOĆ PRILOŽENE TABLICE
ODABRANIH DRŽAVA JUŽNE AMERIKE.**

Država	Broj stanovnika (u milijunima)	Površina (u tisućama) km ²	Gustoća naseljenosti stan./km ²	BDP po stanovniku (u USD)
Argentina		2 780	15	14 714
Bolivija	11	1 100	10	2 897
Čile	18	760		
Paragvaj	7	407	17	
Urugvaj	3	176	17	16 176
Venezuela	30	912	33	



Prostor za računanje:

Izvor: World Bank, 2013.

- 2** 1. Izračunaj i upiši u tablicu podatke koji nedostaju za broj stanovnika i gustoću naseljenosti. Dobivene vrijednosti zaokruži na cijeli broj.
- 1** 2. Čile je 2012. godine ostvario vrijednost 283 176 000 000 USD ukupnog BDP. Izračunaj i upiši na odgovarajuće mjesto u tablici koliki je bio BDP po stanovniku.
- 1** 3. Upiši u tablicu podatke za BDP po stanovniku za odgovarajuće države: **4 265; 14 407.**
- 2** 4. Ime države koja prema podacima iz Tab. 1. ima najveću apsolutnu naseljenost je _____, a ime države koja ima najveću relativnu naseljenost je _____.

SLJEDEĆI ZADATAK RIJEŠI UZ POMOĆ PRILOŽENIH FOTOGRAFIJA.



- 3** 5. Na crtu ispod svake fotografije upiši odgovarajuće ime jedne od navedenih država. Jedna od navedenih država je višak. **Jordan, Kina, Tajland, Maroko, Kambodža, Indija, Gana.**



**U SVAKOM OD SLJEDEĆIH PET ZADATKA DVA SU ODGOVORA TOČNA.
ZAKRUŽI SLOVA ISPRED TOČNIH ODGOVORA.**

- 2 6. Koji se od navedenih pojmova odnose na Japan?
a) rikše b) ikebana c) jurte d) sari e) suši
- 2 7. Koje se od navedenih država nalaze na obali Gvinejskog zaljeva?
a) Mali b) Burkina Faso c) Nigerija d) Togo e) Niger
- 2 8. Koja se dva grada nalaze na obalama Rio de la Plate?
a) Rosario b) Buenos Aires c) Montevideo d) Cordoba e) Asuncion
- 2 9. Koje su dvije tvrdnje o jezicima Amerike točne?
a) Najviše govornika ima engleski jezik.
b) Engleski i španjolski jezik su najrasprostranjeniji jezici.
c) U većini država Južne Amerike službeni jezik je engleski.
d) U pokrajini Quebec službeni jezik je francuski.
e) U Brazilu je službeni jezik španjolski.
- 2 10. Koje su dvije tvrdnje o Meksiku točne?
a) Najveći dio stanovništva Meksika živi na obalama Meksičkog zaljeva.
b) Većinu stanovništva u Meksiku čine bijelci.
c) Poluotok Yucatan ima tropsku kišnu klimu.
d) Meksiko ima značajna nalazišta nafte i zemnog plina.
e) Grad Guadalajara najveće je industrijsko središte u sjevernom dijelu Meksika.

**U SLJEDEĆA TRI ZADATKA POVEŽI PAROVE UPISIVANJEM SAMO JEDNOG SLOVA
NA CRTE ISPRED PONUĐENIH ODGOVORA.
TRI CRTE MORAJU OSTATI PRAZNE.**

- 2 11. Prikazane zastave pridruži pripadajućim državama.
- A)  B) 
- ___ Bangladeš ___ Kina ___ Indonezija ___ Indija ___ Vijetnam

- 2 12. Prikazane zgrade u kojima su sjedišta međunarodnih organizacija pridruži pripadajućim organizacijama.



___ FAO ___ EU ___ G-7 ___ UN ___ NAFTA

2 13. Vrste šuma pridruži područjima SAD-a u kojima rastu.

A) šume sekvoje B) mangrove šume

___ Mojave ___ Kalifornija ___ Florida ___ Velika jezera ___ Velika zavala

. U SLJEDEĆA DVA ZADATKA POVEŽI STUPCE UPISIVANJEM SAMO JEDNOG SLOVA NA CRTU ISPRED POJMOVA U LIJEVOM STUPCU. JEDAN SE POJAM IZ DESNOG STUPCA NE MOŽE POVEZATI.

2 14. Gradovima pridruži savezne države Australije u kojima se nalaze.

___ Sydney A) Sjeverni teritorij
___ Melbourne B) Novi Južni Wales
___ Brisbane C) Zapadna Australija
___ Alice Springs D) Queensland
E) Victoria

2 15. Vrhovima pridruži planine na kojima se nalaze.

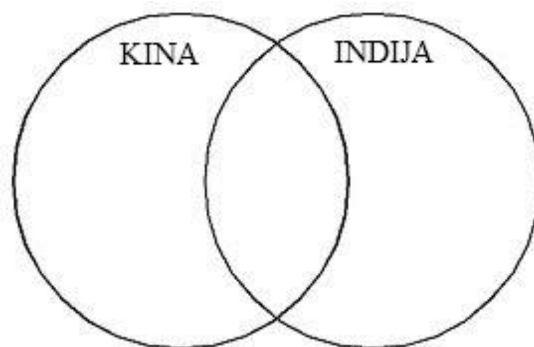
___ Uhuru A) Kilimanjaro
___ Aconcagua B) Aljasko gorje
___ K2 C) Himalaja
___ Mt. McKinley D) Rocky Mountains
E) Ande

U SLJEDEĆA DVA ZADATKA RAZVRSTAJ POJMOVU PO DRŽAVAMA UPISIVANJEM SLOVA U ODGOVARAJUĆE DIJELOVE KRUGOVA.

U SVAKI DIO POVEZANIH KRUGOVA MORAJU BITI UPISANA PO DVA SLOVA.

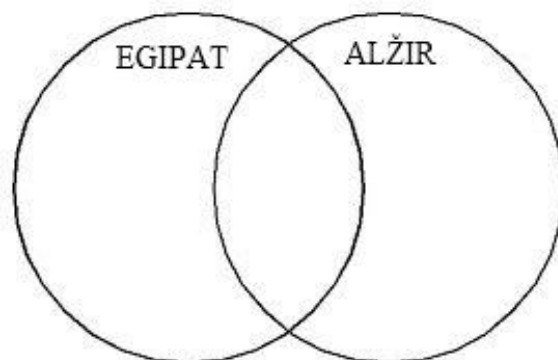
3 16. Navedene pojmove razvrstaj u države za koje su karakteristični.

A - budizam
B - Brahmaputra
C - Tarimska zavala
D - kaste
E - jeftina radna snaga
F - tigar

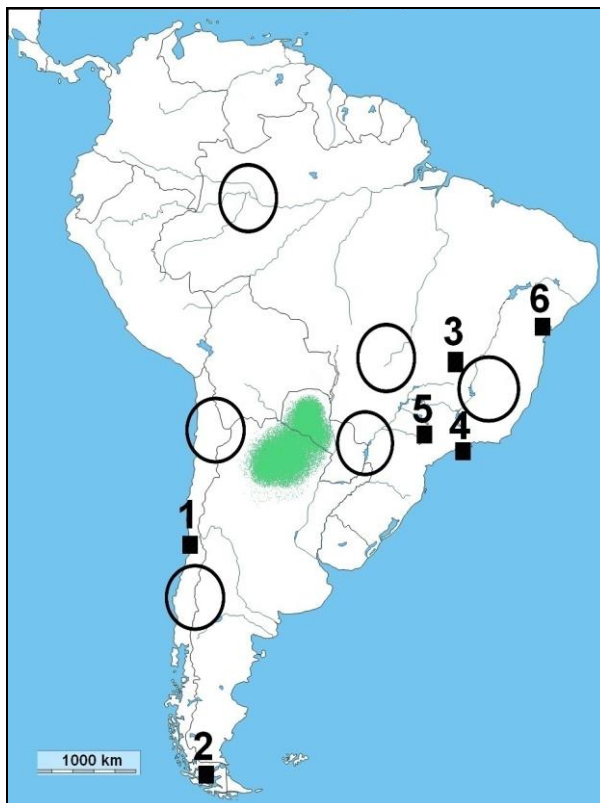


3 17. Navedene pojmove razvrstaj u države za koje su karakteristični.


A - Abu Simbel
B - planina Atlas
C - Sredozemno more
D - islam
E - pamuk
F - zemni plin



**SLJEDEĆIH ŠEST ZADATAKA RIJEŠI UZ POMOĆ PRILOŽENE GEOGRAFSKE KARTE
JUŽNE AMERIKE I FOTOGRAFIJA. TRI SU KRUŽIĆA NA KARTI VIŠAK.**



- 2** 18. Na priloženoj geografskoj karti Južne Amerike zaokruži jezero Titicaca. Cijelom dužinom podebljaj tok rijeke Uruguay.
- 1** 19. Ime nizinskog područja označenog na priloženoj karti Južne Amerike zelenom bojom je _____.
- 2** 20. Ime grada označenog na priloženoj karti kvadratićem i brojem **1** je _____, a ime grada označenog kvadratićem i brojem **2** je _____.



- 2** 21. Fotografija **A** prikazuje potpuno novo izgrađen moderan grad. Ime grada na fotografiji **A** je _____. Na priloženoj geografskoj karti Južne Amerike ovaj je grad označen kvadratićem i brojem _____. Ime najveće brazilske luke za izvoz kave je _____. Na priloženoj geografskoj karti ova je luka označena kvadratićem i brojem _____.
- 2** 22. Fotografija **B** prikazuje glavni grad Kolumbije. Ime ovog grada je _____. Na priloženoj geografskoj karti u cijelosti ispuni državu Kolumbiju. Ime naroda iz Europe čiji se utjecaj vidi u načinu gradnje je _____.



3 23. Fotografija **C** prikazuje rudnik bakra u jednoj brazilskoj rudarskoj pokrajini. Ime ove pokrajine je _____ . Na priloženoj geografskoj karti Južne Amerike označi ovu pokrajinu upisivanjem slova **C** u odgovarajući kružić.

Fotografija **D** prikazuje vodopade koji se nalaze na granici Brazila i Argentine. Ime ovih vodopada je _____. Na priloženoj geografskoj karti Južne Amerike područje ovih vodopada označi upisivanjem slova **D** u odgovarajući kružić.

Fotografija **E** prikazuje pustinju u Čileu. Ime ove pustinje je _____. Na priloženoj geografskoj karti Južne Amerike ovu pustinju označi upisivanjem slova **E** u odgovarajući kružić.

SLJEDEĆIH PET ZADATKA RIJEŠI UZ POMOĆ GEOGRAFSKE KARTE AUSTRALIJE. TRI SU KRUŽICA NA KARTI VIŠAK.

3 24. Na crte iza slova upiši imena pojmova označenih slovima na priloženoj geografskoj karti Australije.

A gorje _____

B depresija _____

C more _____

2 25. Ime grada označenog na priloženoj karti kvadratićem i brojem **1** je _____.

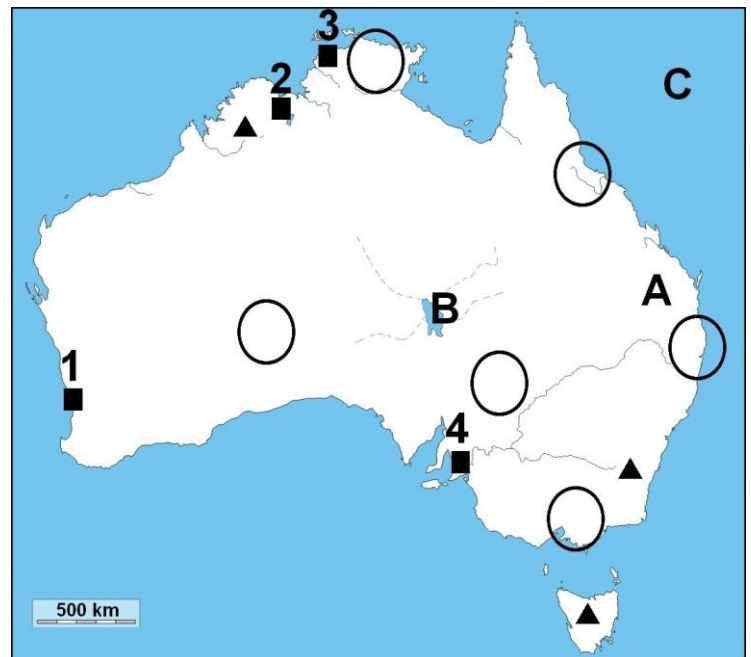
Grad Darwin na priloženoj je karti označen kvadratićem i brojem ____.

2 26. Na priloženoj geografskoj karti Australije znakom **X** označi Bassov prolaz.

Zaokruži trokutić kojim je na priloženoj geografskoj karti označen najviši vrh Australije.

2 27. Upiši na priloženoj karti slova u odgovarajuće kružice kojima su označena područja najvećeg uzgoja navedenih poljoprivrednih kultura.

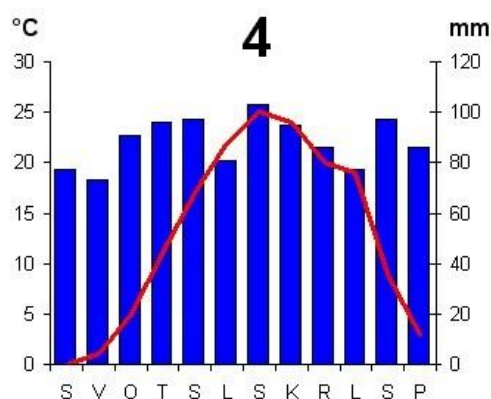
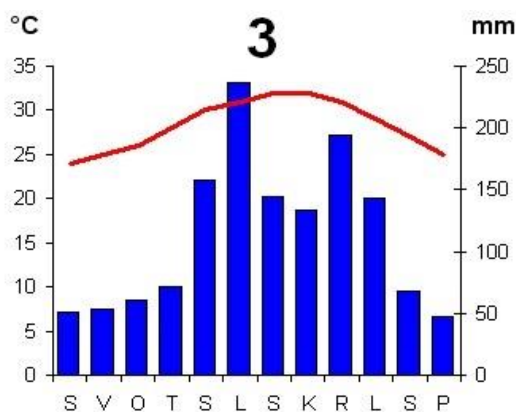
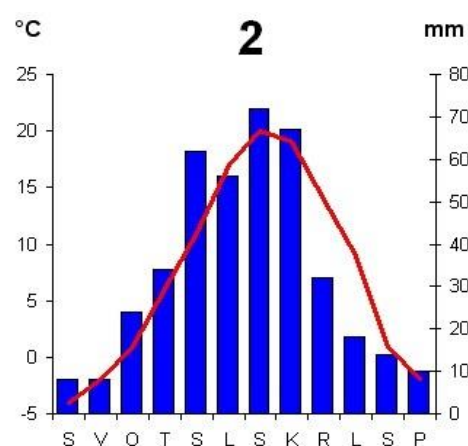
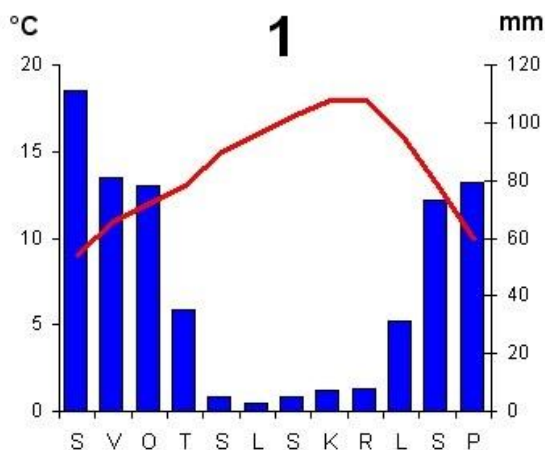
V – vinova loza **Š** – šećerna trska



28. Fotografija desno prikazuje vrstu ovaca koja se uzgaja u Australiji radi dobivanja vune. Ime ove vrste ovaca je _____.
- Upiši na priloženoj geografskoj karti slovo **O** u kružić kojim je označeno najvažnije područje uzgaja ove vrste ovaca.



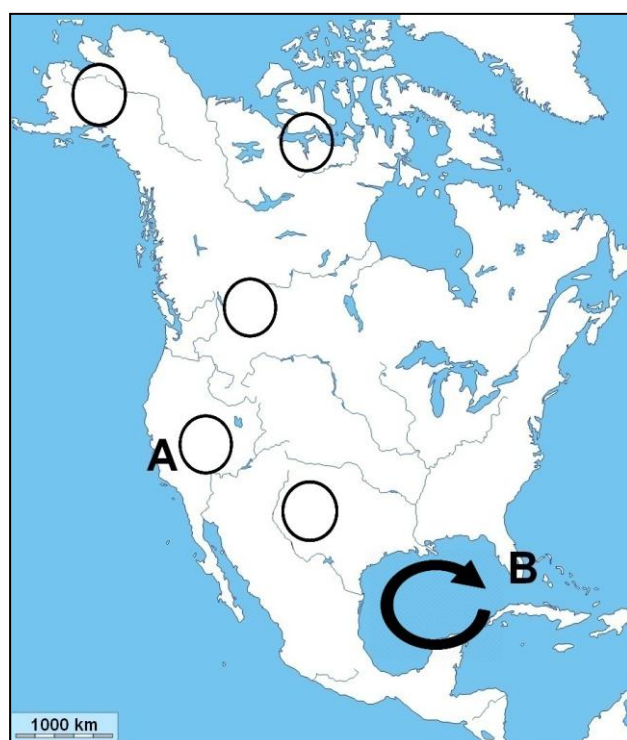
SLJEDEĆA ČETIRI ZADATKA RIJEŠI UZ POMOĆ KLIMATSKIH DIJAGRAMA I PRILOŽENE GEOGRAFSKE KARTE SJEVERNE AMERIKE. TRI SU KRUŽIĆA NA KARTI VIŠAK.



29. Područje označeno na priloženoj karti slovom **A** ima _____ klimu (upiši tip klime). Ovaj je tip klime prikazan na klimatskom dijagramu označenom brojem ____.

30. Područje označeno na priloženoj karti slovom **B** ima _____ klimu (upiši tip klime). Ovaj tip klime je prikazan na klimatskom dijagramu označenom brojem ____.

31. Naziv za vremensku nepogodu čije je područje nastanka na priloženoj karti Sjeverne Amerike označen strelicom je _____.



- 2 32. Upiši znak **X** na priloženoj geografskoj karti u dva kružića kojima su označena područja s najmanjom godišnjom količinom padalina u Angloamerici.

U SVAKOM OD SLJEDEĆA DVA ZADATKA U PAROVIMA POJMOVA KOJI SU PODEBLJANI I ODVOJENI KOSIM CRTAMA U CIJELOSTI ZAOKRUŽI ONE POJMOVE KOJI SU TOČNI.

- 1 33. **Portugalski / španjolski** moreplovac **Vasco da Gama / Bartolomeo Diaz** je prvi iz Europe doplovio do Indije.
- 1 34. Starosjedioci Novog Zelanda su **Maori / Mauri** i danas žive uglavnom na Sjevernom otoku. Većina današnjega stanovništva Novog Zelanda porijeklom je iz **Oceanije / Europe**.

SLJEDEĆI ZADATAK RIJEŠI UZ POMOĆ PRILOŽENE GEOGRAFSKE KARTE DIJELA SREDNJE AMERIKE. NA KARTI SU TRI NETOČNA POJMA. PRONAĐI IH I UPIŠI U PRVI STUPAC TABLICE, A UZ NJIH U DRUGI STUPAC U ISTOM REDU UPIŠI TOČNE POJMOVE.

- 3 35. Pažljivo prouči kartu dijela Srednje Amerike i riješi zadatak kao što je napisano u naputku.



NETOČAN POJAM	TOČAN POJAM