

ŽUPANIJSKO NATJECANJE IZ GEOGRAFIJE 2015. GODINE

Razred ili kategorija natjecanja: 6. razred

Zaporka

--	--	--	--	--

Broj postignutih bodova ____ / 70

Potpis članova Županijskog povjerenstva

1. _____

2. _____

3. _____

Mjesto i nadnevak: _____

Za rješavanje zadataka predviđeno je 60 minuta.

Ispit se rješava kemijskom olovkom s plavom tintom koja se ne briše. Uporaba obične olovke i crvene ili neke druge boje tinte (osim plave) rezultira diskvalifikacijom učenika.

Pri rješavanju ispita treba primijeniti jezičnu normu standardnoga hrvatskoga jezika, posebice treba poštivati pravopisna pravila o pisanju velikoga i maloga početnog slova geografskih imena. Za pisanje geografskih imena u ispitima i praktičnim radovima primjenjuje se Hrvatski pravopis Instituta za hrvatski jezik i jezikoslovlje (2013.).

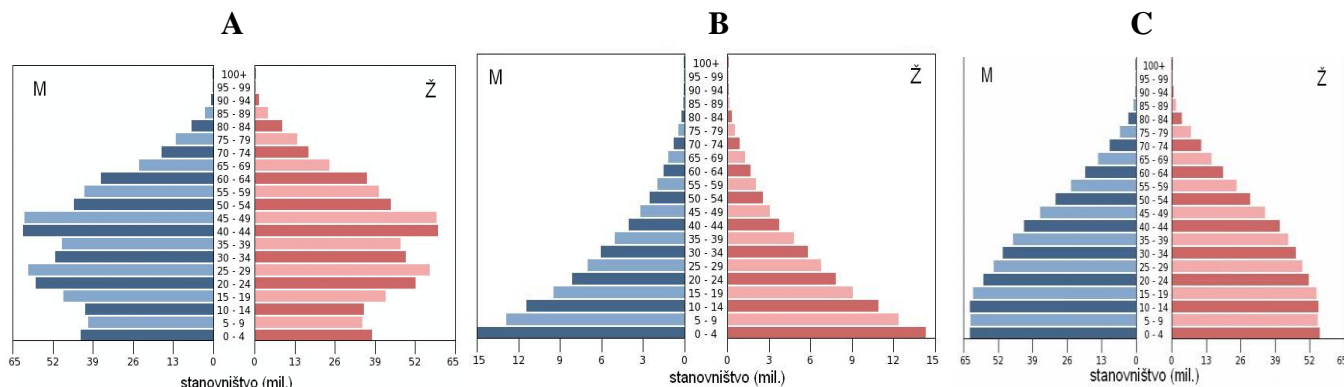
Odgovori učenika moraju biti čitljivo napisani pisanim slovima, jedino u zadacima u kojima je odgovor jedno slovo dopuštena je uporaba čitljivo napisanog velikog tiskanog slova.

Za vrijeme pisanja ispita ne smije se koristiti ništa osim navedenoga pribora za pisanje. Ova odredba podrazumijeva da natjecatelji ne smiju kod sebe (na sebi, ispod, u svojoj odjeći i slično) imati predmete koji na bilo koji način mogu dovesti u sumnju pravilno provođenje natjecanja. Učenici se ne smiju služiti atlasom, zidnom kartom ni računalom. Kartografski i grafički prilozi nužni za rješavanje zadataka sastavni su dio ispita.

Učenicima se dopušta pisanje po marginama i praznim stranicama ispitnog materijala bez oduzimanja bodova i/ili diskvalifikacije.

Potpuno ispravno riješeni zadatci, prema uputi za rješavanje vrednuju se s jednim, dva ili tri boda. U djelomično ispravno riješenim zadacima boduju se ispravno riješene čestice, ako nije bilo korekcije odgovora u tim česticama. Netočno riješeni zadatci i naknadno ispravljeni odgovori te odgovori koji su pisani velikim tiskanim slovima ili kombinacijom tiskanih i pisanih slova, kao i odgovori u zagradama ne vrednuju se.

PRVA DVA ZADATKA RIJEŠI UZ POMOĆ PRILOŽENIH DIJAGRAMA DOBNO-SPOLNE STRUKTURE STANOVNIŠTVA ODABRANIH DRŽAVA.



Izvor: US Census Bureau, 2014.

- 2** 1. Biološka struktura stanovništva Kine prikazana je na dijagramu označenom slovom _____, a biološka struktura stanovništva Indije prikazana je na dijagramu označenom slovom _____.
- 2** 2. Najveći udio mladog stanovništva ima država čija je biološka struktura stanovništva prikazana na dijagramu označenom slovom _____. Ova dobno-polna struktura se odnosi na najmnogoljudniju afričku državu. Ime te afričke države je _____.

U SLJEDEĆA ČETIRI ZADATKA DOPUNI REČENICE.

- 2** 3. Najvažnija sveta rijeka za hinduse je _____ (upiši ime), a najsvetiji grad uz obale te rijeke na području Indije je _____ (upiši ime).
- 1** 4. Naziv za brod koji prevozi naftu je _____.
- 1** 5. Naziv najraširenijeg jezika iz afričke jezične porodice na prostoru južno od Sahare je _____.
- 1** 6. Ime najstarijeg grada na svijetu je _____.

U SVAKOM OD SLJEDEĆA ČETIRI ZADATKA DVA SU ODGOVORA TOČNA. ZAKRUŽI SLOVA ISPRED TOČNIH ODGOVORA.

- 2** 7. Koje se od navedenih država ubrajaju u „azijske tigrove“?
a) Singapur b) Sjeverna Koreja c) Kina d) Južna Koreja e) Tajland
- 2** 8. Koji od navedenih otoka u cijelosti pripadaju Indoneziji?
a) Luzon b) Šri Lanka c) Sumatra d) Java e) Borneo
- 2** 9. Koje su od navedenih država početkom 2015. godine članice skupine G 7?
a) Ujedinjeno Kraljevstvo b) Kanada c) Rusija d) Španjolska e) Kina
- 2** 10. Koje od navedenih životinja imaju prirodno stanište na otočnom prostoru Jugoistočne Azije?
a) deva b) jak c) tigar d) panda e) orangutan

SLJEDEĆIH DEVET ZADATAKA RIJEŠI UZ POMOĆ PRILOŽENE GEOGRAFSKE KARTE AFRIKE I FOTOGRAFIJE. DVA SU KRUŽIĆA NA KARTI VIŠAK.

1 11. Na priloženoj geografskoj karti Afrike zaokruži crnu strelicu koja označava smjer suhih pasata.

2 12. Ime rijeke na priloženoj geografskoj karti označene brojem **1** je _____.
Ime slijeva kojem ova rijeka pripada je _____.

2 13. Ime akumulacijskog jezera na priloženoj geografskoj karti označenog brojem **3** je _____.
Ime države u kojoj se nalazi ovo jezero je _____.

2 14. Ime rijeke na priloženoj geografskoj karti označene brojem **2** je _____.

Ime reljefne uzvisine u kojem ova rijeka izvire je _____.

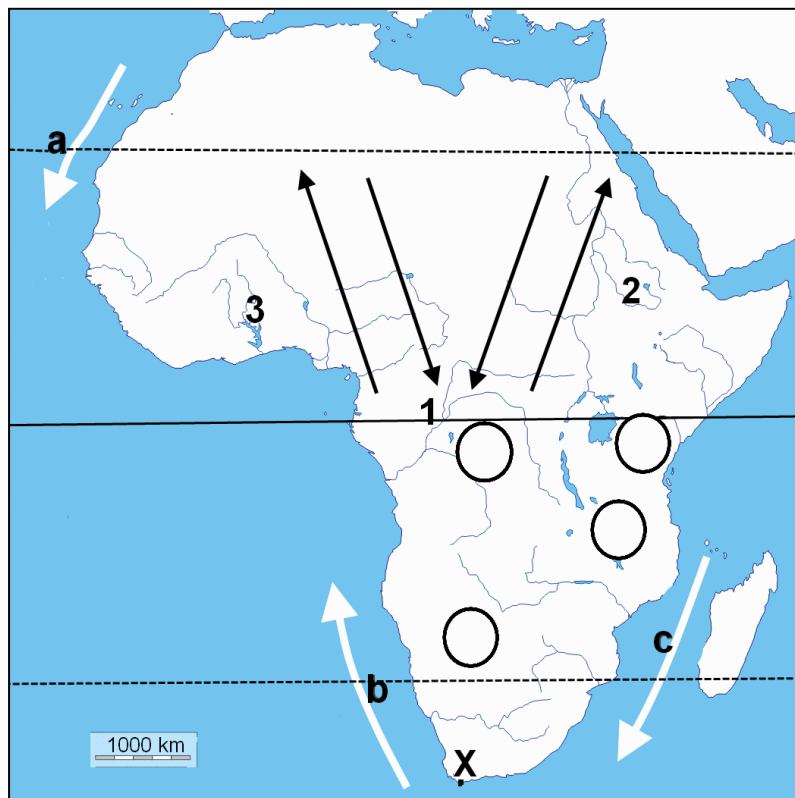
3 15. Na priloženoj geografskoj karti ispuni strelicu kojom je označena topla morska struja. Ime morske struje označene slovom **b** je _____ struja, a ime morske struje označene je slovom **c** je _____ struja.

1 16. Na priloženoj geografskoj karti zaokruži jezero Cabora Bassa.

2 17. Ime najjužnije točke Afrike označene kružićem i znakom **X** na priloženoj geografskoj karti je _____. Na priloženoj geografskoj karti kružićem i slovom **Z** ucrtaj najzapadniju kopnenu točku Afrike.

3 18. Naziv za padaline koje gotovo cijele godine padaju svakodnevno oko i iza podneva je _____. Upiši slovo **A** u odgovarajući kružić na priloženoj geografskoj karti kojim je označeno područje ovih padalina. Šume koje prevladavaju u ovom području nazivaju se _____.

2 19. Ime afričkog plemena prikazanog na fotografiji desno je _____. Na priloženoj geografskoj karti Afrike upiši slovo **B** u kružić kojim je označeno područje u kojem živi ovo pleme.



U SLJEDEĆA ČETIRI ZADATKA POVEŽI PAROVE UPISIVANJEM SAMO JEDNOG SLOVA NA CRTU ISPRED PONUĐENIH ODGOVORA. TRI CRTE MORAJU OSTATI PRAZNE.

2

20. Navedene religije pridruži državama u kojima su najzastupljenije.

A) kršćanstvo B) budizam

___ Iran ___ Filipini ___ Indija ___ Indonezija ___ Kina

2

21. Navedene kontinente pridruži njihovim približnim površinama.

A) Azija B) Afrika

___ 30 mil. km² ___ 35 mil. km² ___ 40 mil. km² ___ 45 mil. km² ___ 55 mil. km²

2

22. Navedena gorja pridruži državama u kojim se najvećim dijelom nalaze.

A) Kvatlamba (Drakensberg, Zmajevio gorje) B) Hoggar (Ahagarsko gorje)

___ Republika Južna Afrika ___ Maroko ___ Alžir ___ Libija ___ Namibija

2

23. Navedene nacionalne parkove pridruži državama u kojima se nalaze:

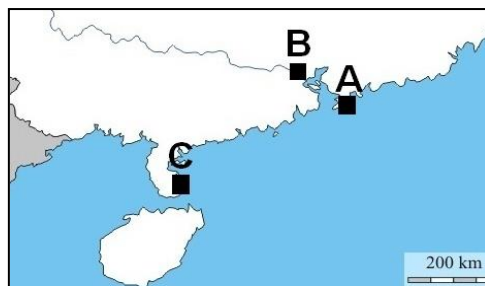
A) Kruger B) Tsavo

___ Kenija ___ Republika Južna Afrika ___ Namibija ___ Tanzanija ___ Zambija

**U SLJEDEĆEM ZADATKU TRI SU NETOČNA POJMA. PRONAĐI IH U TEKSTU, UPIŠI U PRVI STUPAC TABLICE, A UZ NJIH U DRUGI STUPAC U ISTOM REDU UPIŠI TOČNE POJMOVE.
ZADATAK RIJEŠI UZ POMOĆ PRILOŽENE KARTE DIJELA JUGOISTOČNE KINE.**

3

24. Hong Kong, jedan od gospodarski razvijenijih gradova Kine, na priloženoj geografskoj karti dijela jugoistočne Kine označen je kvadratićem i slovom C. Ovaj grad je nekada bio portugalska kolonija i njegovo kolonijalno razdoblje trajalo je gotovo jedno stoljeće. Hong Kong je dogovorom 1987. godine ponovo vraćen Kini.



NETOČAN POJAM	TOČAN POJAM

U SLJEDEĆA DVA ZADATKA POVEŽI STUPCE UPISIVANJEM SAMO JEDNOG SLOVA NA CRTU ISPRED POJMOVA U LIJEVOM STUPCU. JEDAN SE POJAM IZ DESNOG STUPCA NE MOŽE POVEZATI.

- 2** 25. Državama pridruži narode koji u njima žive.
- | | |
|-----------|------------|
| ___ Japan | A) Sani |
| ___ Gana | B) Šerpe |
| ___ Tunis | C) Berberi |
| ___ Nepal | D) Ašanti |
| | E) Ainu |

- 2** 26. Državama pridruži otoke koji im pripadaju.
- | | |
|----------------|--------------|
| ___ Filipini | A) Mindanao |
| ___ Indonezija | B) Lakadivi |
| ___ Indija | C) Sulawesi |
| ___ Tanzanija | D) Zanzibar |
| | E) Šri Lanka |

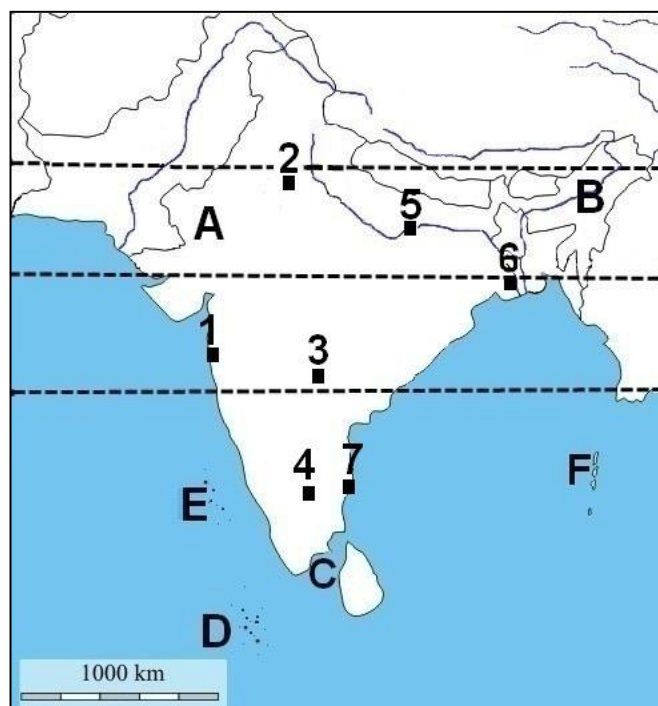
SLJEDEĆA ČETIRI ZADATKA RIJEŠI UZ POMOĆ PRILOŽENE GEOGRAFSKE KARTE JUŽNE AZIJE.

- 3** 27. Na crte iza slova upiši imena pojmova označenih slovima na priloženoj geografskoj karti Južne Azije.
- A** pustinja _____
- B** nizina _____
- C** morski prolaz _____

- 2** 28. Naziv za vrstu ušća kakvo ima rijeka Ganges je _____. Ime države u kojoj se najvećim dijelom nalazi ušće rijeke Ganges je _____.

- 3** 29. Na priloženoj geografskoj karti glavni grad Indije označen je kvadratićem i brojem _____. Velika pomorska luka i grad u kojem je razvijena filmska industrija označen je kvadratićem i brojem _____. Grad Bengaluru je označen kvadratićem i brojem _____.

- 2** 30. Na priloženoj geografskoj karti Južne Azije otočje Maldivi označeno je slovom _____. Na priloženoj karti Južne Azije u cijelosti podebljaj paralelu koja označava sjevernu obratnicu.



U SVAKOM OD SLJEDEĆA DVA ZADATKA U PAROVIMA POJMOVA KOJI SU PODEBLJANI I ODVOJENI KOSIM CRTAMA U CIJELOSTI ZAOKRUŽI ONE POJMOVE KOJI SU TOČNI.

- 2** 31. Kava potječe iz pokrajine **Caffa / Kaffa** koja se nalazi na jugozapadu **Egipta / Etiopije**.
Službeni jezik u Gani je **francuski / engleski**.
Vjeroispovijest koja prevladava u Gani je **kršćanstvo / islam**.

- 1** 32. Gradnja Sueskog kanala dovršena je **1869. / 1860.** godine. Na sjevernom dijelu kanala nalazi se grad i luka **Aleksandrija / Port Said**.

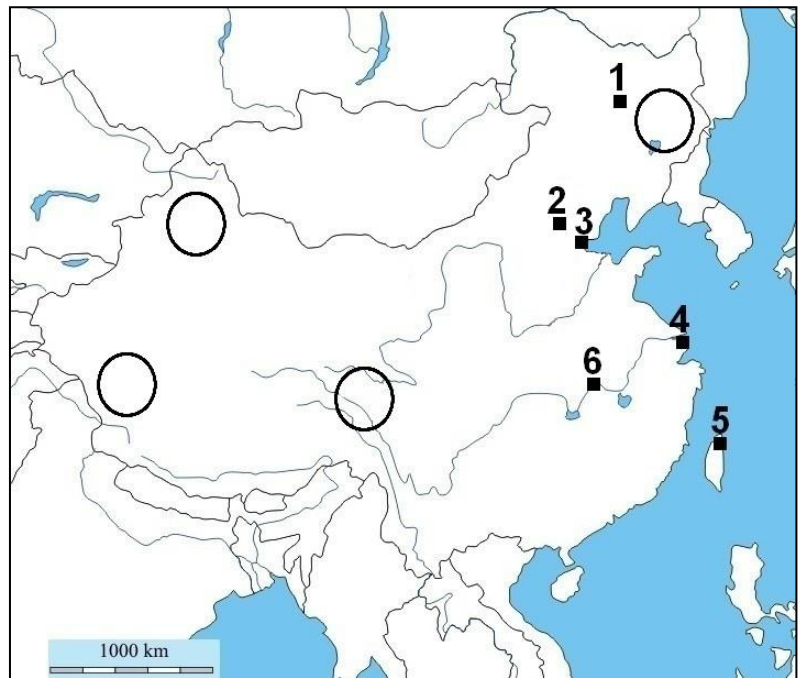
SLJEDEĆA TRI ZADATKA RIJEŠI UZ POMOĆ PRILOŽENE GEOGRAFSKE KARTE DIJELA ISTOČNE AZIJE.

DVA KRUŽIĆA NA KARTI MORAJU OSTATI PRAZNA.

- 2** 33. U odgovarajuće kružice na priloženoj geografskoj karti Kine upiši slova koja označavaju smještaj kineskih pokrajina.

DŽ – Džungarija **M** – Mandžurija

- 3** 34. Kvadratićima i brojevima na priloženoj geografskoj karti označen je položaj odabranih gradova.
Ime grada označenog na priloženoj geografskoj karti kvadratićem i brojem **5** je _____.
Na priloženoj geografskoj karti grad Shanghai označen je kvadratićem i brojem _____.
Grad Beijing (Peking) je označen kvadratićem i brojem _____.



- 2** 35. Na priloženoj geografskoj karti Kine podebljaj cijeli tok rijeke Amur (Heilung) koji se vidi na karti i zaokruži otok Hainan.