

21. DRŽAVNO NATJECANJE IZ GEOGRAFIJE 2014. GODINE

Razred ili kategorija natjecanja: 7. razred

Zaporka

--	--	--	--	--

Broj postignutih bodova ____ / 70

Potpis članova povjerenstva

1. _____

2. _____

3. _____

Mjesto i nadnevak: _____

Za rješavanje zadataka predviđeno je 60 minuta.

Test se rješava kemijskom olovkom s plavom tintom koja se ne briše. Uporaba obične olovke i crvene ili neke druge boje tinte (osim plave) rezultira diskvalifikacijom učenika.

Pri rješavanju testa treba primijeniti jezičnu normu standardnoga hrvatskoga jezika, posebice treba poštivati pravopisna pravila o pisanju velikoga i maloga početnog slova geografskih imena. Za pisanje geografskih imena u testovima i praktičnim radovima primjenjuje se Hrvatski pravopis Instituta za hrvatski jezik i jezikoslovlje preporučeno od ministra znanosti, obrazovanja i sporta, dr. sc. Željka Jovanovića, za korištenje u osnovnim i srednjim školama i objavljen na internetskim stranicama Instituta za Hrvatski jezik i jezikoslovlje.

Odgovori učenika moraju biti čitljivo napisani pisanim slovima, jedino u zadacima u kojima je odgovor jedno slovo dopuštena je uporaba čitljivo napisanog tiskanog slova.

Za vrijeme testiranja ne smije se koristiti ništa osim navedenoga pribora za pisanje. Ova odredba podrazumijeva da natjecatelji ne smiju kod sebe (na sebi, ispod, u svojoj odjeći i slično) imati predmete koji na bilo koji način mogu dovesti u sumnju pravilno provođenje natjecanja. Učenici se ne smiju služiti atlasom, zidnom kartom ni računalom. Kartografski i grafički prilozi nužni za rješavanje zadataka sastavni su dio testa.

Učenicima se dopušta pisanje po marginama ispitnog materijala bez oduzimanja bodova i/ili diskvalifikacije.

Potpuno ispravno riješeni zadaci prema uputi za rješavanje vrednuju se s jednim, dva ili tri boda. U djelomično ispravno riješenim zadacima boduju se ispravno riješene čestice, ako nije bilo korekcije odgovora u tim česticama. Netočno riješeni zadaci i naknadno ispravljeni odgovori te odgovori koji su pisani tiskanim slovima ili kombinacijom tiskanih i pisanih slova, kao i odgovori u zagradama ili odgovori u kojima je u kombinaciji upisan ispravan odgovor i odgovor u zagradi ne vrednuju se.

**U SVAKOM OD SLJEDEĆIH OSAM ZADATAKA DVA SU TOČNA ODGOVORA.
ZAKRUŽI SLOVA ISPRED TOČNIH ODGOVORA.**

- 2** 1. Među navedenima, vrhovi starog gromadnog gorja su:
a) Gerlachovsky štít b) Zugspitze c) Ben Nevis d) Mulhacen e) Musala
- 2** 2. Među navedenima, države čiji je teritorij djelomično ili u potpunosti sastavni dio crnomorskog slijeva su:
a) Slovačka b) Litva c) Bjelorusija d) Poljska e) Latvija
- 2** 3. Među navedenima, rijeke dunavskog porječja su:
a) Bug b) Marica c) Olt d) Morava e) Vardar
- 2** 4. Među navedenim francuskim gradovima, na rijeci Garonne su smješteni:
a) Nantes b) Marseille c) Toulouse d) Montpellier e) Bordeaux
- 2** 5. Među navedenima, gradovi koji su sastavni dio regije Ruhr su:
a) Essen b) Aachen c) Leipzig d) Duisburg e) Frankfurt
- 2** 6. Među navedenima, točne tvrdnje o Austriji su:
a) Austrija je jedina germanska država Srednje Europe.
b) Najgušće naseljeni dio Austrije je Štajerska.
c) Najviši vrh Austrije je Matterhorn.
d) Austrija je po državnom uređenju republika.
e) Linz je važno industrijsko središte smješteno na rijeci Dunav.
- 2** 7. Među navedenim ruskim gradovima, na rijeci Volgi su smješteni:
a) Ufa b) Saratov c) Čeljabinsk d) Nižnij Novgorod e) Jekaterinburg
- 2** 8. Među navedenima, današnje države članice EFTA-e su:
a) Danska b) Island c) Finska d) Norveška e) Švedska

**U SVAKOM OD SLJEDEĆA DVA ZADATKA JEDAN JE TOČAN ODGOVOR.
ZAKRUŽI SLOVO ISPRED TOČNOG ODGOVORA.**

- 1** 9. Među navedenima, zaljev u kojemu raspon morskih mijena iznosi i do petnaestak metara je:
a) Tršćanski zaljev b) Lionski zaljev c) Bristolski zaljev d) Tarantski zaljev

- 1** 10. Među prikazanim kulturno-povijesnim spomenicima, u Lisabonu se nalazi:

a)  b) 

c)  d) 

U SLJEDEĆA ČETIRI ZADATKA POVEŽI PAROVE UPISIVANJEM SLOVA NA CRTU ISPRED PONUĐENIH ODGOVORA. TRI CRTE MORAJU OSTATI PRAZNE.

2 **11.** Navedene opise poveži s imenima jezera.

A) *Ledenjačko jezero na granici Švicarske i Francuske*

B) *Ledenjačko jezero na granici Švicarske, Njemačke i Austrije*

___ Züriško ___ Bodensko ___ Maggiore
 ___ Neuchâtelso ___ Ženevsko (Lac Lemman)

2 **12.** Navedene otoke poveži s imenima država kojima pripadaju.

A) *Lofoti*

B) *Hebridi*

___ Njemačka ___ Ujedinjeno Kraljevstvo ___ Nizozemska ___ Danska ___ Norveška

2 **13.** Navedene otoke poveži s kulturno-povijesnim spomenicima koji su na njima smješteni.

A) *Kreta*

B) *Peloponez*

___ Partenon ___ Knosos ___ Troja (Ilij) ___ Ephesus (Efez) ___ Mikena

2 **14.** Navedene opise poveži s imenima engleskih gradova.

A) *Lučko i industrijsko središte u središnjem dijelu Engleske*

B) *Drugi najmnogoljudniji grad u Engleskoj*

___ Manchester ___ Liverpool ___ Portsmouth ___ Leeds ___ Birmingham

U SVAKOM OD SLJEDEĆA DVA ZADATKA TRI SU NETOČNA POJMA. PRONADI IH U TEKSTU, UPIŠI U TABLICU TE PORED NJIH UPIŠI TOČNE POJMOVE.

3 **15.** Pažljivo pročitaj tekst o Sredozemnom moru i riješi zadatak kao što je napisano u naputku.

Sredozemno more smješteno je na sjevernoj polutci između kontinenta Novog svijeta. Sredozemno more je podijeljeno Pirenejskim poluotokom i Sicilijom na istočni i zapadni dio. Istočni dio je prostraniji, dublji i razvedeniji. Sredozemno more je toplije i slanije od Atlantskog oceana. Zbog spore izmjene vode preko Balearskog praga, Sredozemno more je ekološki vrlo osjetljivo.

NETOČAN POJAM	TOČAN POJAM

3 **16.** Pažljivo pročitaj tekst o Portugalu i riješi zadatak kao što je napisano u naputku.

Portugal je republika smještena na zapadu Pirenejskog poluotoka. Glavni grad i najvažnije gospodarsko središte Portugala, Lisabon, smjestio se na ušću rijeke Douro u Atlantski ocean. U gospodarstvu Portugala sve veću važnost ima turizam koji je razvijen na Madeiri i Azorima, te u pokrajini Galiciji. U središnjem dijelu Portugala nalazi se katoličko hodočasničko središte Lourdes.

NETOČAN POJAM	TOČAN POJAM

**U SLJEDEĆA DVA ZADATKA POVEŽI SREDNJI I DESNI STUPAC S LIJEVIM
UPISIVANJEM PRIPADAJUĆEG SLOVA I BROJA NA CRTU ISPRED POJMOVA
U LIJEVOM STUPCU. JEDNO SLOVO I JEDAN BROJ SU VIŠAK.**

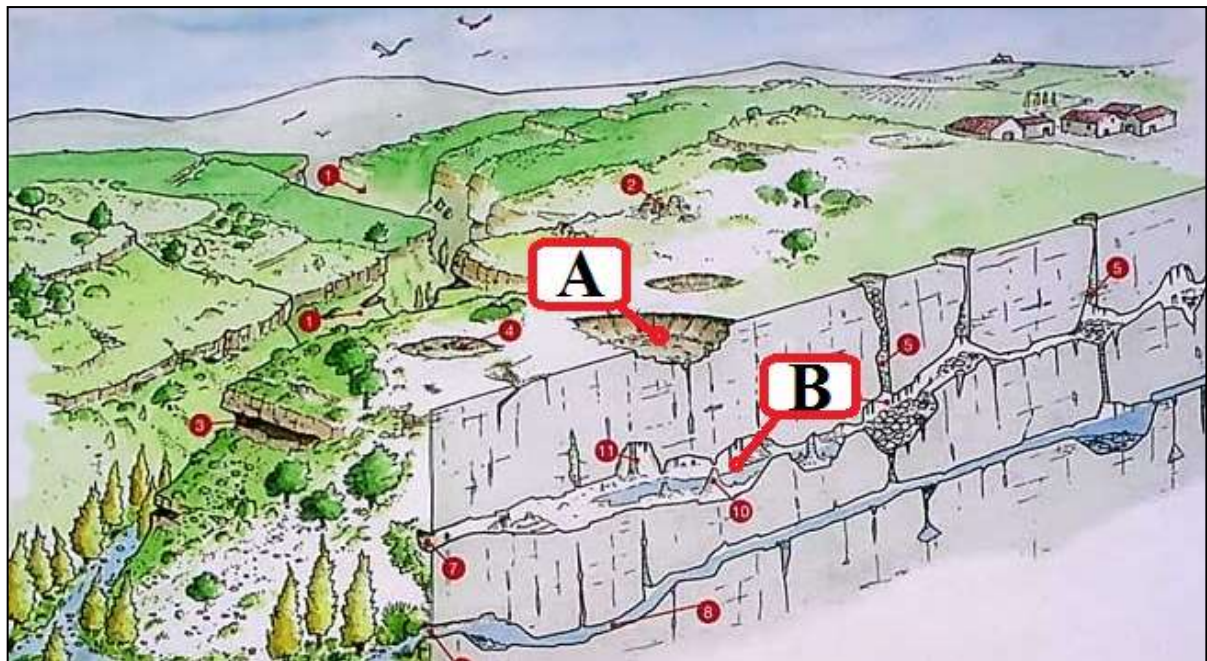
3 **17.** Poveži tip jezera i državu/države s pripadajućim imenom jezera.

_____ Albano	A - ledenjački tip	1 - Bugarska
_____ Ohridsko	B - tektonski tip	2 - Finska
_____ Saimaa	C - krški tip	3 - Italija
	D - vulkanski tip	4 - Makedonija/Albanija

3 **18.** Poveži saveznu zemlju i granu industrije s pripadajućim njemačkim gradom.

_____ Ingolstadt	A - Neidersachsen (Donja Saska)	1 - automobilska industrija Opel
_____ Stuttgart	B - Nordrhein-Westfalen	2 - automobilska industrija Mercedes-Benz
_____ Wolfsburg	C - Bayern (Bavarska)	3 - automobilska industrija Audi
	D - Baden-Württemberg	4 - automobilska industrija Volkswagen

SLJEDEĆI ZADATAK RIJEŠI UZ POMOĆ PRILOŽENE SKICE.



2 **19.** Na slici su slovima A i B označeni krški reljefni oblici. Na crte iza slova upiši njihove nazive.

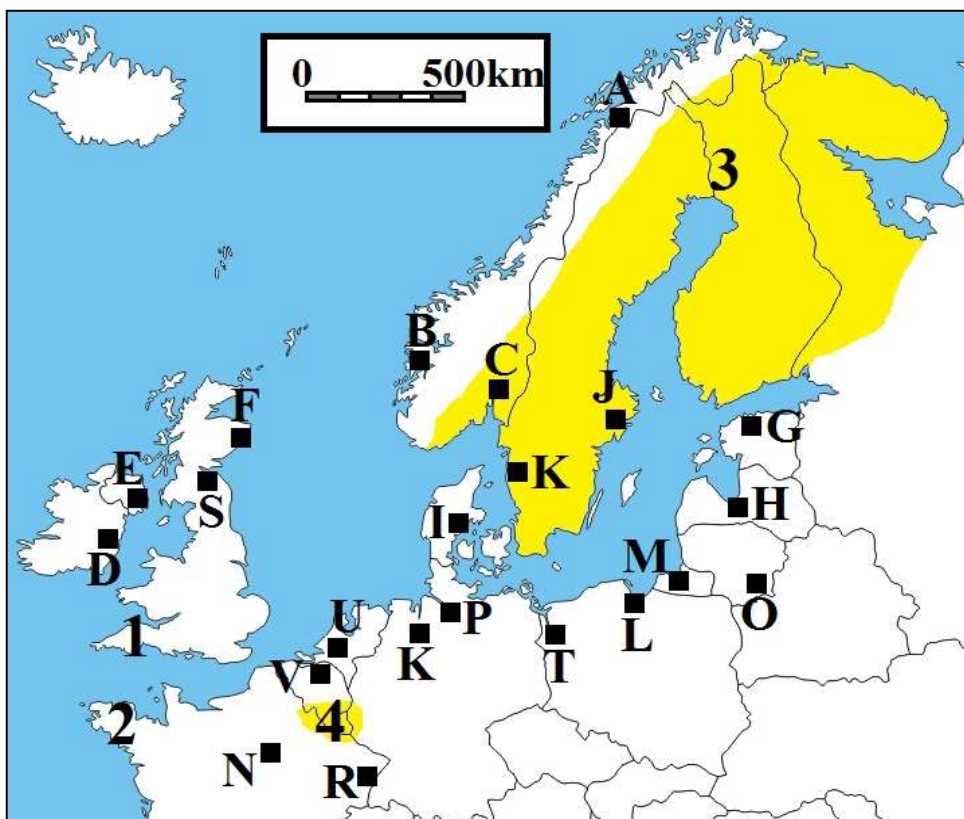
A _____ **B** _____

U SLJEDEĆA DVA ZADATKA DOPUNI REČENICE.

2 **20.** Germanski jezik koji je službeni jezik u najviše europskih država je _____ jezik. Jezik iz skupine ostalih indoeuropskih jezika koji je službeni jezik u najviše europskih država je _____ jezik.

2 **21.** Ime najmnogoljudnijeg otočnog grada u Sredozemnom moru je _____, a ime najmnogoljudnijeg otočnog grada u Baltičkom moru je _____.

SLJEDEĆIH PET ZADATAKA RIJEŠI UZ POMOĆ PRILOŽENE KARTE DIJELA EUROPE.



2 **22.** Ime morske luke Ujedinjenog Kraljevstva čiji se razvoj temelji na vađenju nafte i plina iz Sjevernog mora je _____, a na priloženoj karti označena je slovom _____.
Ime norveške morske luke preko koje se izvozi željezna ruda iz švedskih nalazišta Kiruna i Gällivarea je _____, a na priloženoj karti označena je slovom _____.

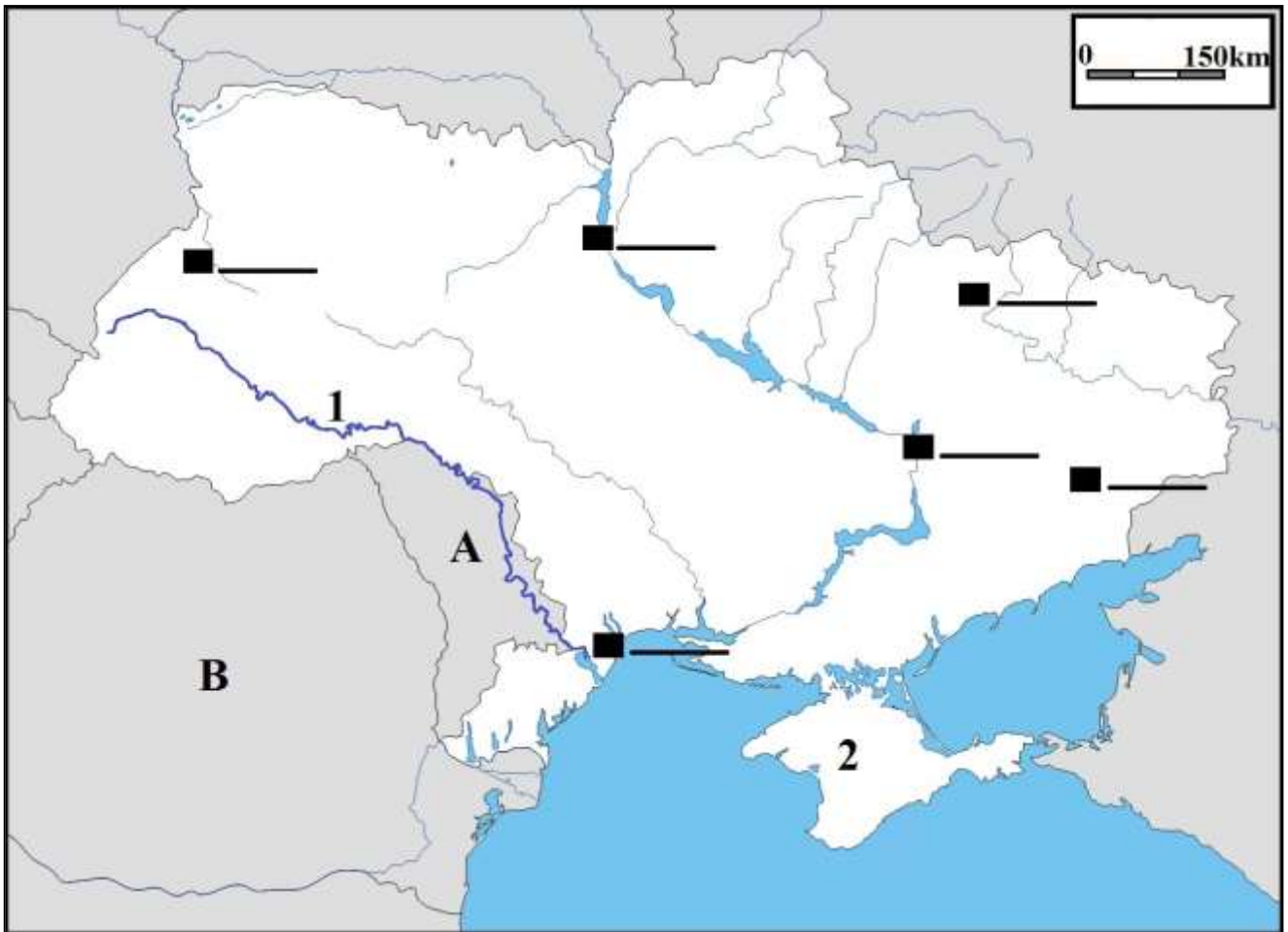
2 **23.** Ime njemačke morske luke smještene na rijeci Weser je _____, a na priloženoj karti označena je slovom _____.
Ime poljske morske luke smještene na estuariju rijeke Odre je _____, a na priloženoj karti označena je slovom _____.

2 **24.** Ime glavnog grada Litve je _____, a na priloženoj karti označen je slovom _____.
Ime grada u kojem se nalazi sjedište Europskog parlamenta je _____, a na priloženoj karti označen je slovom _____.

2 **25.** Na karti su brojevima 1 i 2 označeni poluotoci. Na crte iza brojeva upiši njihova imena.
1 _____ 2 _____

2 **26.** Ime reljefne cjeline označene brojem 3 je _____, a naziv geološkog razdoblja u kojoj je formirana je _____.
Ime reljefne cjeline označene brojem 4 je _____, a naziv geološke ere u kojoj je većim dijelom formirana je _____.

SLJEDEĆIH PET ZADATAKA RIJEŠI UZ POMOĆ PRILOŽENE KARTE UKRAJINE.



3 27. Na odgovarajuće crte uz crne pravokutnike na karti upiši slova za sljedeće gradove (tri crte su višak):

L - L'viv (Lavov)

O - Odesa

H - Harkiv (Harkov)

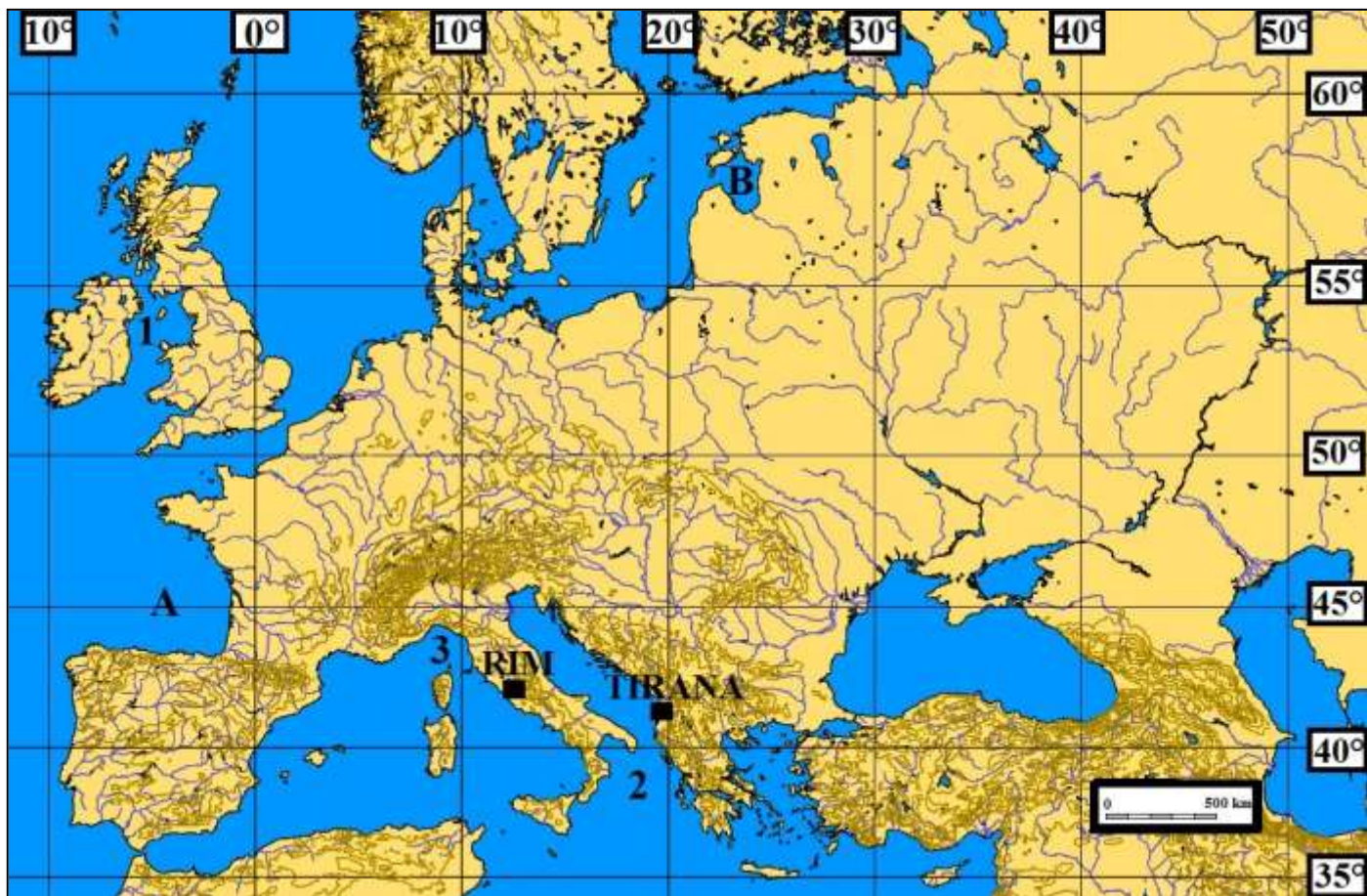
2 28. Naziv tipa klime prema Köppenovoj klasifikaciji koji je raširen uz sjeverne obale Crnog mora je _____ klima, a naziv tipa klime koji prevladava u većem dijelu Ukrajine je _____ klima.

2 29. Na karti su slovima **A** i **B** označene susjedne države Ukrajine. Na crte iza slova upiši njihova imena.
A _____ **B** _____

1 30. Na karti je brojem 1 označena rijeka. Na crtu iza broja upiši njeno ime.
1 _____

1 31. Na karti je brojem 2 označen poluotok. Na crtu iza broja upiši njegovo ime.
2 _____

SLJEDEĆA ČETIRI ZADATKA RIJEŠI UZ POMOĆ PRILOŽENE KARTE EUROPE.



3 32. Na karti su brojevima 1, 2 i 3 označena mora. Na crte iza brojeva upiši njihova imena.

1 _____ more 2 _____ more
 3 _____ more

2 33. Na karti su slovima A i B označeni zaljevi. Na crte iza slova upiši njihova imena.

A _____ B _____

1 34. Samo jedna od označenih paralela na priloženoj karti siječe samo jednu regiju Europe. Ime te regije je _____ Europa, a oznaka paralele je _____°.

1 35. Koliko je sati po pojasnom vremenu u Tirani, ako je u Rimu 17 sati?

U Tirani je _____ sati.

prostor za računanje