

21. DRŽAVNO NATJECANJE IZ GEOGRAFIJE 2014. GODINE

Razred ili kategorija natjecanja: 6. razred

Zaporka

--	--	--	--	--

Broj postignutih bodova ____ / 70

Potpis članova povjerenstva

1. _____

2. _____

3. _____

Mjesto i nadnevak: _____

Za rješavanje zadataka predviđeno je 60 minuta.

Test se rješava kemijskom olovkom s plavom tintom koja se ne briše. Uporaba obične olovke i crvene ili neke druge boje tinte (osim plave) rezultira diskvalifikacijom učenika.

Pri rješavanju testa treba primijeniti jezičnu normu standardnoga hrvatskoga jezika, posebice treba poštivati pravopisna pravila o pisanju velikoga i maloga početnog slova geografskih imena. Za pisanje geografskih imena u testovima i praktičnim radovima primjenjuje se Hrvatski pravopis Instituta za hrvatski jezik i jezikoslovlje preporučen od ministra znanosti, obrazovanja i sporta, dr. sc. Željka Jovanovića, za korištenje u osnovnim i srednjim školama i objavljen na internetskim stranicama Instituta za Hrvatski jezik i jezikoslovlje.

Odgovori učenika moraju biti čitljivo napisani pisanim slovima, jedino u zadacima u kojima je odgovor jedno slovo dopuštena je uporaba čitljivo napisanog tiskanog slova.

Za vrijeme testiranja ne smije se koristiti ništa osim navedenoga pribora za pisanje. Ova odredba podrazumijeva da natjecatelji ne smiju kod sebe (na sebi, ispod, u svojoj odjeći i slično) imati predmete koji na bilo koji način mogu dovesti u sumnju pravilno provođenje natjecanja. Učenici se ne smiju služiti atlasom, zidnom kartom ni računalom. Kartografski i grafički prilozi nužni za rješavanje zadataka sastavni su dio testa.

Učenicima se dopušta pisanje po marginama ispitnog materijala bez oduzimanja bodova i/ili diskvalifikacije.

Potpuno ispravno riješeni zadaci prema uputi za rješavanje vrednuju se s jednim, dva ili tri boda. U djelomično ispravno riješenim zadacima boduju se ispravno riješene čestice, ako nije bilo korekcije odgovora u tim česticama. Netočno riješeni zadaci i naknadno ispravljeni odgovori te odgovori koji su pisani tiskanim slovima ili kombinacijom tiskanih i pisanih slova, kao i odgovori u zagradama ili odgovori u kojima je u kombinaciji upisan ispravan odgovor i odgovor u zagradi ne vrednuju se.

PRVI ZADATAK RIJEŠI UZ POMOĆ PRILOŽENIH FOTOGRAFIJA.

3

1. Na crtu ispod svake fotografije upiši imena prikazanog naroda:
Aboridžini; Inuiti; Masai; Sani; Šerpe; Tuarezi



**SLJEDEĆI ZADATAK RIJEŠI UZ POMOĆ PRILOŽENE FOTOGRAFIJE.
U PAROVIMA POJMOVA KOJI SU PODEBLJANI I ODVOJENI KOSIM CRTAMA
U CIJELOSTI ZAOKRUŽI ONE POJMOVE KOJI SU TOČNI.**

2

2. Fotografija prikazuje hram koji se nalazi u gradu čije je ime **Chichén Itzá / Machu Picchu**. Grad su u 5. stoljeću izgradili **Maye / Asteci**, a nalazi se na poluotoku **Floridi / Yucatanu** u državi **Meksiku / Gvatemali**.



**.U SVAKOM OD SLJEDEĆA ČETIRI ZADATKA DVA SU ODGOVORA TOČNA.
ZAOKRUŽI SLOVA ISPRED TOČNIH ODGOVORA.**

2

3. U koje je dvije od navedenih država SAD-a najveća proizvodnja nafte?

a) Kalifornija b) New Mexico c) Aljaska d) Montana e) Teksas

2

4. Koji od navedenih gradova zajedno čine dvojni grad na granici SAD - Meksiko?

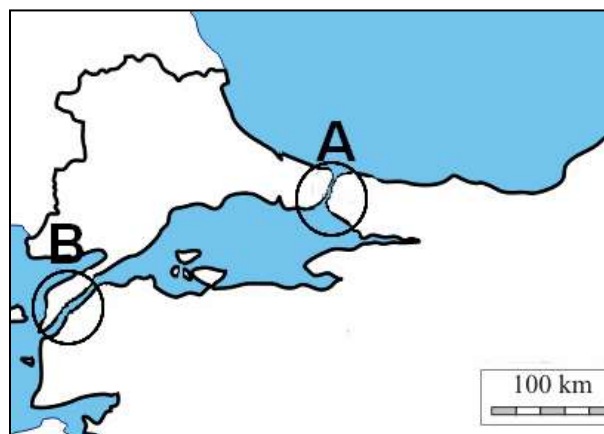
a) San Diego b) El Paso c) Laredo d) Tijuana e) Monterrey

- 2 5. Koje su dvije od navedenih tvrdnji o Brazilu točne?
- Službeni jezik je portugalski jezik.
 - U ušću rijeke Amazone nalazi se grad Manaus.
 - Santos je glavna izvozna luka za šećernu trsku i banane.
 - Glavni grad Brasilia smješten je 50-tak km od obale Atlantskog oceana.
 - Rudama najbogatije područje nalazi se u regiji Minas Gerais.

- 2 6. Koje su dvije od navedenih tvrdnji o prirodnogeografskim obilježjima Sjeverne i Južne Amerike točne?
- Na jugu Argentine nalazi se Patagonija.
 - Gradu Los Angelesu prijete opasnost od tornada.
 - Kordiljeri su dio pacifičkog vatrenog prstena.
 - Prirodne šume sekvoje rastu u priobalnim nizinama uz atlantsku obalu SAD-a.
 - Apalačko gorje (Appalachian) je najstariji dio Sjeverne Amerike.

SLJEDEĆI ZADATAK RIJEŠI UZ POMOĆ PRILOŽENE GEOGRAFSKE KARTE DIJELA JUGOZAPADNE AZIJE.

- 2 7. Godine 2013. Europa i Azija povezane su željezničkim tunelom koji prolazi ispod Bospora. Na priloženoj karti ovaj morski prolaz označen je kružićem i slovom ____.
- Ime grada čiji europski i azijski dio povezuje ovaj tunel je _____.
- Ime mora koje se nalazi sjeveroistočno od tog morskog prolaza je _____ more, a ime mora koje se nalazi jugozapadno od tog morskog prolaza je _____ more.



U SLJEDEĆA ČETIRI ZADATKA POVEŽI PAROVE UPISIVANJEM SLOVA NA CRTU ISPRED PONUĐENIH ODGOVORA. TRI CRTE SU VIŠAK.

- 2 8. Navedena obilježja pasata u Africi poveži s njihovim smjerom puhanja.

A) suhi pasati B) vlažni pasati

____ JI ____ S ____ JZ ____ SI ____ I

- 2 9. Navedene države poveži s pripadajućim otocima i otočnim skupinama.

A) Japan B) Tanzanija

____ Ryukyu ____ Mindanao ____ Komori ____ Zanzibar ____ Maldivi

2 10. Životinje prikazane na fotografijama poveži s kontinentima na kojima žive u prirodnom staništu.



A) _____ Australija _____ Afrika _____ Azija _____ Sjeverna Amerika _____ Južna Amerika

2 11. Životinje prikazane na fotografijama poveži s biljkama koje prevladavaju u njihovoj prehrani.



A) _____ banane _____ eukaliptus _____ tikovina _____ bambus _____ kivi

U TEKSTU KOJI GOVORI O RIJECI NIL TRI SU NETOČNA POJMA. PRONAĐI IH U TEKSTU ISPIŠI U PRVI STUPAC TABLICE I U ISTOM REDU U DRUGI STUPAC UPIŠI TOČNE POJMOVE.

3 12. Rijeka Nil je najduža rijeka Afrike, njegove najveće pritoke su Bijeli i Plavi (Modri) Nil. Gradnjom brane kod grada Kaira nastalo je Albertovo jezero, a voda iz jezera se koristi za navodnjavanje i za rad hidroelektrane. Tok rijeke Nil završava deltastim ušćem u Crvenom moru.

NETOČAN POJAM	TOČAN POJAM

U SLJEDEĆA DVA ZADATKA POVEŽI DESNI STUPAC S LIJEVIM UPISIVANJEM SLOVA NA CRTU ISPRED POJMOVA U LIJEVOM STUPCU. JEDNO SLOVO JE VIŠAK.

2 13. Poljoprivredne kulture poveži s afričkim državama u kojima prevladava njihov uzgoj.

___ Gana A) pamuk
___ Etiopija B) kava
___ Kenija C) čaj
___ Egipat D) klinčići
 E) kakaovac

2 14. Kontinente poveži s imenima istraživača i pomoraca.

___ Marco Polo A) Južna Amerika
___ Dragutin Lerman B) Azija
___ Roald Amundsen C) Afrika
___ Amerigo Vespucci D) Australija
 E) Antarktika

U SLJEDEĆA ČETIRI ZADATKA DOPUNI REČENICE.

- 2** 15. Ime države koje je površinom druga u svijetu je _____, a ime države koja je površinom peta u svijetu je _____.
- 1** 16. Naziv tropskog ciklona koji stvara vremenske nepogode otocima i obali Meksičkog zaljeva je _____.
- 1** 17. Ime tehnološkog parka u blizini San Francisca u kojem je razvijena elektronska industrija je _____.
- 1** 18. Ime najmlađe države svijeta koja je neovisnost stekla 2011. godine je _____.

SLJEDEĆA TRI ZADATKA RIJEŠI UZ POMOĆ TABLICE.










Alice Springs	I.	II.	III.	IV.	V.	VI.	VII.	VIII.	IX.	X.	XI.	XII.
Temperatura (°C)	29	28	25	20	16	13	12	14	18	23	26	28
Padaline (mm)		42	35	18	17	16	12	10	9	20	25	37

Prostor za računanje:

- 1** 19. Naziv godišnjega doba u Alice Springsu s najnižom prosječnom mjesečnom temperaturom zraka je _____.
- 1** 20. Temperaturna razlika između najtoplijeg i najhladnijeg mjeseca iznosi _____.
- 1** 21. Izračunaj količinu padalina u siječnju ako je ukupna godišnja količina padalina 282 mm. Odgovor upiši u odgovarajuće polje u tablici.

SLJEDEĆI ZADATAK RIJEŠI UZ POMOĆ TEMATSKE KARTE SAD-a.

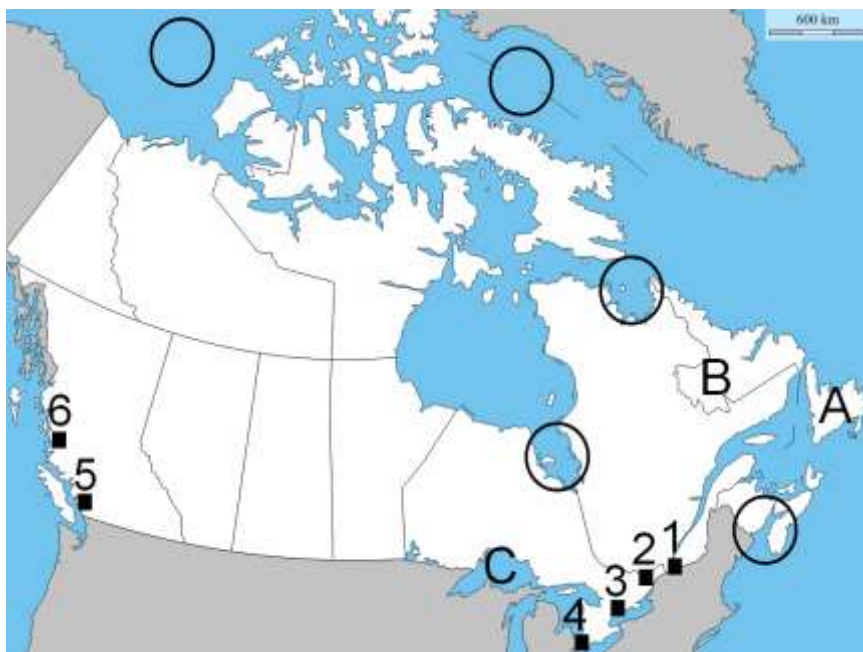
- 2** 22. Uz pomoć priložene pojednostavljene tematske karte poljoprivrednih pojaseva dopuni legendu upisivanjem na crtu naziva odgovarajućih poljoprivrednih kultura čiji uzgoj prevladava u tim pojasevima.

	pašnjaci
	pšenica
	_____
	_____
	agrumi i šećerna trska
	mliječno stočarstvo
	duhan
	miješana poljoprivreda
	voće



SLJEDEĆIH ŠEST ZADATAKA RIJEŠI UZ POMOĆ GEOGRAFSKE KARTE KANADE I PRILOŽENIH FOTOGRAFIJA.

2 23. U kružić na priloženoj geografskoj karti kojim je označen zaljev Fundy upiši slovo **F**, a u kružić kojim je označeno Beaufortovo more upiši slovo **B**.



3 24. Slova **A**, **B** i **C** na priloženoj geografskoj karti označeni su otok, poluotok i jezero. Na crte iza slova upiši njihova imena.
 A _____
 B _____
 C _____

2 25. Ime kanadske pokrajine u kojoj je službeni jezik samo francuski je _____. Na priloženoj geografskoj karti tu pokrajinu u cijelosti ispuni kemijskom olovkom.



2 26. Ime najvećeg kanadskog grada prikazanog na fotografiji **A** je _____, a na priloženoj geografskoj karti označen je crnim kvadratićem i brojem ____.

2 27. Ime jedne od najvećih luka Sjeverne Amerike i važnog gospodarskog središta u Britanskoj Kolumbiji prikazane na fotografiji **B** je _____. Na priloženoj geografskoj karti taj je grad označen crnim kvadratićem i brojem ____.

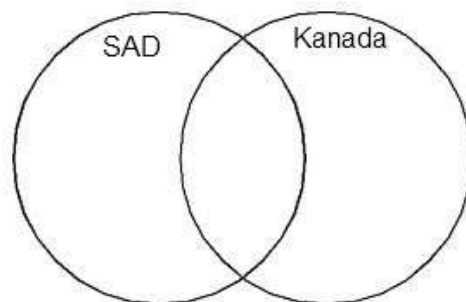
2 28. Ime rijeke koja stvara slapove prikazane na fotografiji **C** je _____. Na priloženoj geografskoj karti označi tu rijeku i slapove znakom **X**.



U SLJEDEĆA DVA ZADATKA RAZVRSTAJ POJMOVE PO DRŽAVAMA UPISIVANJEM SLOVA U ODGOVARAJUĆE KRUGOVE. U SREDINU UPIŠI JEDNO ILI VIŠE SLOVA ONIH POJMOVA KOJI SE ODNOSI NA OBJE DRŽAVE. JEDNO SLOVO UPISUJE SE SAMO NA JEDNO MJESTO U KRUGOVIMA.

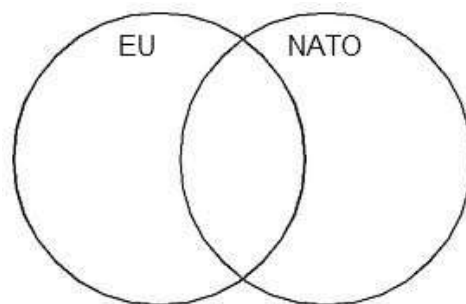
3 29. Razvrstaj pojmove koji se odnose na SAD i Kanadu.

- A – Stjenjak
- B – Veliko Ropsko jezero
- C – NP Yellowstone
- D – Florida
- E – Hudsonov zaljev
- F – jezero Ontario



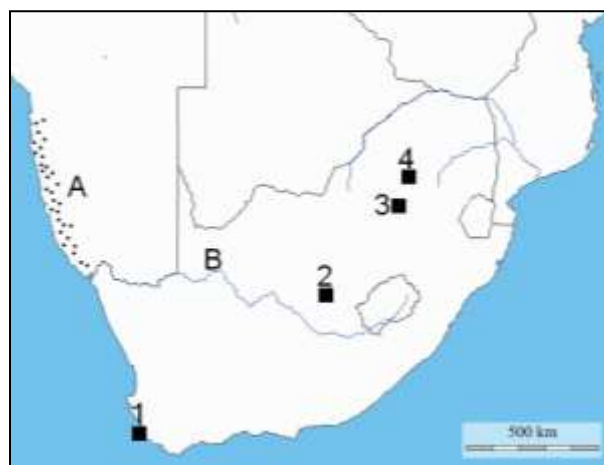
3 30. Razvrstaj pojmove koji se odnose na Europsku uniju i Sjevernoatlantski savez krajem 2013. godine.

- A – sjedište u Bruxellesu
- B – Schengenska granica
- C – članstvo Hrvatske
- D – vojni savez
- E – članice iz Europe, Sjeverne Amerike i Azije
- F – gospodarsko politički savez



SLJEDEĆA DVA ZADATKA RIJEŠI UZ POMOĆ PRILOŽENE GEOGRAFSKE KARTE JUŽNE AFRIKE.

2 31. Ime jednog od glavnih gradova Republike Južne Afrike u kojemu je sjedište parlamenta je _____, a na priloženoj geografskoj karti taj je grad označen kvadratićem i brojem ____ .
Ime brojem stanovnika najvećega grada Republike Južne Afrike je _____, a na priloženoj geografskoj karti taj je grad označen kvadratićem i brojem ____ .



2 32. Ime pustinje koja je na priloženoj geografskoj karti označena točkicama i slovom **A** je _____, a ime rijeke označene slovom **B** je _____.

**SLJEDEĆA TRI ZADATKA RIJEŠI UZ POMOĆ PRILOŽENE
GEOGRAFSKE KARTE JUŽNE AMERIKE.**

- 2** 33. Slovima **A** i **B** na priloženoj geografskoj karti označeni su more i morski prolaz. Na crte iza slova upiši njihova imena.

A _____

B _____

- 2** 34. Kvadratićima i brojevima na priloženoj geografskoj karti označen je položaj nekih gradova Južne Amerike. Ime najvećega grada i luke sjevernoga Čilea označenog na priloženoj karti kvadratićem i brojem **1** je

_____ .

Na priloženoj karti grad Rio de Janeiro označen je kvadratićem i brojem ____ .

- 3** 35. U kružić na priloženoj geografskoj karti kojim je označen prostor u kojemu prevladava biljna zajednica *selvas* upiši slovo **S**, u kružić kojim je označen prostor u kojemu prevladava biljna zajednica *campos* upiši slovo **C**, a u kružić kojim je označen prostor u kojemu prevladava biljna zajednica *pampas* upiši slovo **P**. Tri su kružića višak.

