

## 21. DRŽAVNO NATJECANJE IZ GEOGRAFIJE 2014. GODINE

Razred ili kategorija natjecanja: **8. razred**

Zaporka

--	--	--	--	--

Broj postignutih bodova \_\_\_\_\_ / **70**

Potpis članova povjerenstva

1. \_\_\_\_\_

2. \_\_\_\_\_

3. \_\_\_\_\_

Mjesto i nadnevak: \_\_\_\_\_

Za rješavanje zadataka predviđeno je 60 minuta.

Test se rješava kemijskom olovkom s plavom tintom koja se ne briše. Uporaba obične olovke i crvene ili neke druge boje tinte (osim plave) rezultira diskvalifikacijom učenika.

Pri rješavanju testa treba primijeniti jezičnu normu standardnoga hrvatskoga jezika, posebice treba poštivati pravopisna pravila o pisanju velikoga i maloga početnog slova geografskih imena. Za pisanje geografskih imena u testovima i praktičnim radovima primjenjuje se Hrvatski pravopis Instituta za hrvatski jezik i jezikoslovlje preporučeno od ministra znanosti, obrazovanja i sporta, dr. sc. Željka Jovanovića, za korištenje u osnovnim i srednjim školama i objavljen na internetskim stranicama Instituta za Hrvatski jezik i jezikoslovlje.

Odgovori učenika moraju biti čitljivo napisani pisanim slovima, jedino u zadacima u kojima je odgovor jedno slovo dopuštena je uporaba čitljivo napisanog tiskanog slova.

Za vrijeme testiranja ne smije se koristiti ništa osim navedenoga pribora za pisanje. Ova odredba podrazumijeva da natjecatelji ne smiju kod sebe (na sebi, ispod, u svojoj odjeći i slično) imati predmete koji na bilo koji način mogu dovesti u sumnju pravilno provođenje natjecanja. Učenici se ne smiju služiti atlasom, zidnom kartom ni računalom. Kartografski i grafički prilozi nužni za rješavanje zadataka sastavni su dio testa. Učenicima se dopušta pisanje po marginama ispitnog materijala bez oduzimanja bodova i/ili diskvalifikacije.

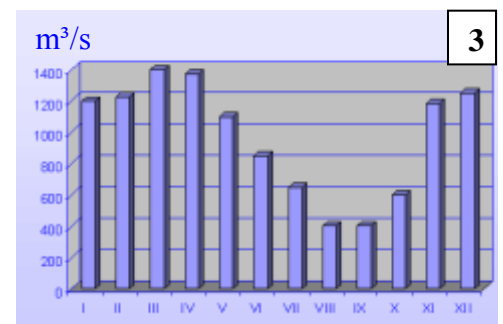
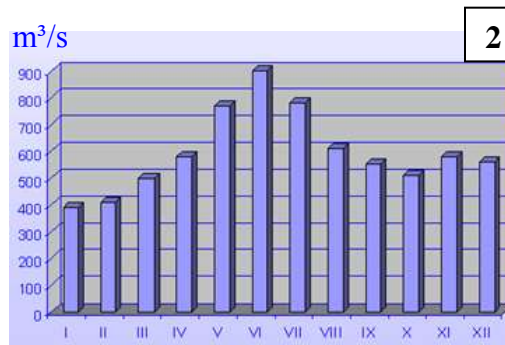
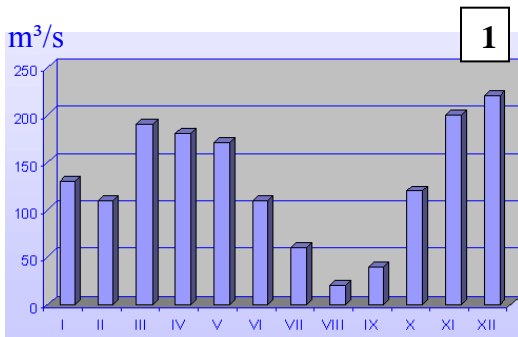
Potpuno ispravno riješeni zadaci prema uputi za rješavanje vrednuju se s jednim, dva ili tri boda. U djelomično ispravno riješenim zadacima boduju se ispravno riješene čestice, ako nije bilo korekcije odgovora u tim česticama. Netočno riješeni zadaci i naknadno ispravljeni odgovori te odgovori koji su pisani tiskanim slovima ili kombinacijom tiskanih i pisanih slova, kao i odgovori u zagradama ili odgovori u kojima je u kombinaciji upisan ispravan odgovor i odgovor u zagradi ne vrednuju se.

**U SLJEDEĆIH ŠEST ZADATAKA SAMO JE JEDAN TOČAN ODGOVOR. ZAOKRUŽI SLOVO  
ISPRED TOČNOG ODGOVORA.**

- 1**  1. Koji je od navedenih gradova najveće željezničko čvorište na istoku Panonske Hrvatske?  
a) Osijek      b) Vinkovci      c) Vukovar      d) Županja
- 1**  2. Koje je od navedenih reljefnih uzvišenja geološki najmlađeg postanka?  
a) Bilogora      b) Krndija      c) Medvednica      d) Žumberačka gora
- 1**  3. U kojoj je od navedenih sjevernoeuropskih država živjelo najviše Hrvata i njihovih potomaka 2013. godine?  
a) Danskoj      b) Finskoj      c) Norveškoj      d) Švedskoj
- 1**  4. U kojem je od navedenih mjerila izrađena karta na kojoj je udaljenost iz prirode od 500 m prikazana sa 2 cm?  
a) 1 : 25 000      b) 1 : 50 000      c) 1 : 100 000      d) 1 : 250 000
- 1**  5. Koja se od navedenih tipičnih sorti vina proizvodi na otoku Krku?  
a) babiće      b) dingač      c) teran      d) žlahtina
- 1**  6. U kojoj se od navedenih županija uzgaja najviše duhana u Republici Hrvatskoj?  
a) Istarskoj      b) Koprivničko-križevačkoj      c) Požeško-slavonskoj      d) Virovitičko-podravskoj

**SLJEDEĆA DVA ZADATKA RIJEŠI UZ POMOĆ PRILOŽENIH DIJAGRAMA.**

- 3**  7. Na crte ispod dijagrama upiši jedno od ponuđenih imena rijeka i naselja na koje se odnosi prikazani protok vode: Cetina – Podgrađe; Drava – Donji Miholjac; Sava – Slavonski Brod.



- 3**  8. Na crte iza brojeva, kojima su označeni dijagrami u prethodnom zadatku, upiši jedan od ponuđenih protočnih režima koji odgovara prikazanom dijagramu (*isti protočni režim može se upisati više puta*):  
kišno-snježni;    snježni;    snježno-kišni.

**1** \_\_\_\_\_      **2** \_\_\_\_\_      **3** \_\_\_\_\_

**SLJEDEĆIH SEDAM ZADATAKA RIJEŠI UZ POMOĆ PRILOŽENE GEOGRAFSKE KARTE.**

**3**   9. Na crte iza brojeva upiši imena krških polja označenih na priloženoj karti tim brojevima.

1 \_\_\_\_\_

2 \_\_\_\_\_

3 \_\_\_\_\_

**3**   10. Ime morskog prolaza označenog na karti slovom **B** je \_\_\_\_\_, a

preko njega plove trajekti između istarskog naselja, na karti označenog upitnikom, čije ime je \_\_\_\_\_ i

creškog naselja, na karti označenog upitnikom, čije ime je \_\_\_\_\_.

**2**   11. Ime rijeke na karti označene brojem 4 je \_\_\_\_\_, a ime dijela Jadranskog mora u koji se ulijeva je \_\_\_\_\_ more.

**2**   12. Ime strogog rezervata na karti označenog slovom **A** je \_\_\_\_\_, a ime planine na kojoj se nalazi je \_\_\_\_\_.

**2**   13. Ime otoka na karti označenog slovom **C** je \_\_\_\_\_, a ime naselja poznatog po solani na karti označenog crnim trokutićem je \_\_\_\_\_.

**2**   14. Ime reljefnog uzvišenja na karti označenog slovom **D** je \_\_\_\_\_, a ime reljefnog uzvišenja na karti označenog slovom **E** je \_\_\_\_\_.

**2**   15. U prostor nacionalnog parka na karti, koji je proglašen iste godine (1949.) kad i naš najstariji nacionalni park, upiši slovo **X**. Ime našeg najmlađeg nacionalnog parka je \_\_\_\_\_.



**U SLJEDEĆIH PET ZADATAKA POVEŽI PAROVE UPISIVANJEM SLOVA NA CRTU ISPRED  
PONUĐENIH ODGOVORA. TRI CRTE MORAJU OSTATI PRAZNE.**

- 2**  16. Navedena naselja pridruži otocima na kojima se nalaze.  
**A) Stari Grad** **B) Vela Luka**  
 \_\_\_ Brač \_\_\_ Hvar \_\_\_ Korčula \_\_\_ Lastovo \_\_\_ Vis
- 2**  17. Navedene ceste pridruži prijevojima preko kojih prolaze.  
**A) Gospić – Karlobag** **B) Gračac – Obrovac**  
 \_\_\_ Delnička vrata \_\_\_ Mali Alan \_\_\_ Oštarijska vrata \_\_\_ Prezid \_\_\_ Veliki Alan
- 2**  18. Navedene lokalitete prirodne baštine pridruži otocima na kojima se nalaze.  
**A) Modra špilja** **B) Zlatni rat**  
 \_\_\_ Biševo \_\_\_ Brač \_\_\_ Hvar \_\_\_ Korčula \_\_\_ Vis
- 2**  19. Navedene samostane pridruži nacionalnim parkovima u kojima se nalaze.  
**A) benediktinski samostan sa crkvom sv. Marije** **B) franjevački samostan na Visovcu**  
 \_\_\_ NP Brijuni \_\_\_ NP Kornati \_\_\_ NP Krka \_\_\_ NP Mljet \_\_\_ NP Paklenica
- 2**  20. Navedene energetske proizvode pridruži odgovarajućim nalazištima.  
**A) nafta** **B) prirodni plin**  
 \_\_\_ Deletovci \_\_\_ Bizovac \_\_\_ Sisak \_\_\_ Senj \_\_\_ Molve

**SLJEDEĆA DVA ZADATKA RIJEŠI UZ POMOĆ PRILOŽENOG DIJAGRAMA I FOTOGRAFIJA.**

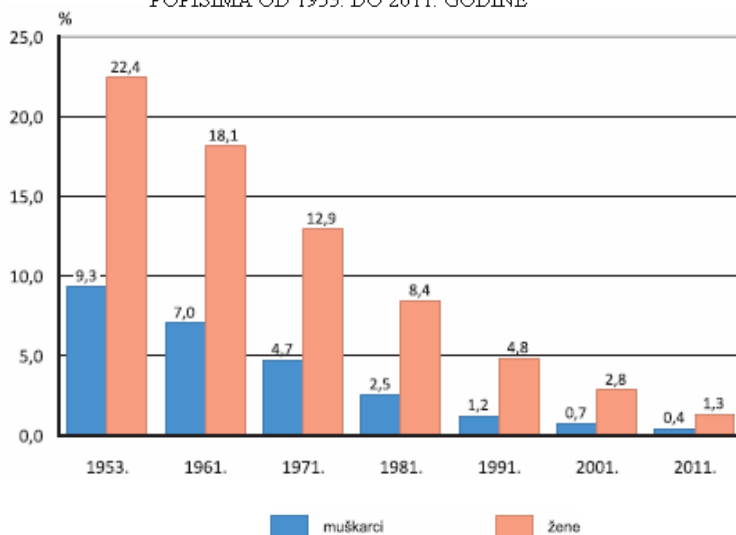
- 2**  21. Udio pismenih osoba starih 10 i više godina 2011. godine u Hrvatskoj je iznosio \_\_\_\_\_.

Udio nepismenih osoba u Hrvatskoj manji od 10% prvi put je zabilježen popisom \_\_\_\_\_ godine.

*Prostor za računanje*

- 2**  22. Na gornju crtu uz svaku fotografiju upiši vrstu tla koja je prikazana na njoj, a na donju crtu jedno od ponuđenih područja gdje je ta vrsta tla najrasprostranjenija (*jedno područje je višak*): okolica Iloka; okolica Rovinja; okolica Lipika

UDIO NEPISMENIH OSOBA U UKUPNOM STANOVNIŠTVU HRVATSKE STARIH 10 I VIŠE GODINA, PREMA SPOLU I POPISIMA OD 1953. DO 2011. GODINE



\_\_\_\_\_

\_\_\_\_\_



\_\_\_\_\_

\_\_\_\_\_

**U SVAKOM OD SLJEDEĆA ČETIRI ZADATKA DVA SU ODGOVORA TOČNA. ZAOKRUŽI SLOVA ISPRED TOČNIH ODGOVORA.**

23. U koje je međunarodne organizacije Republika Hrvatska primljena 1992. godine?  
a) EU      b) MOO      c) NATO      d) UN      e) WTO
24. Koje su od navedenih država 2013. godine imale manje stanovnika od Republike Hrvatske?  
a) Danska      b) Finska      c) Irska      d) Island      e) Slovačka
25. Kroz koje od navedenih gradova prolazi državna cesta D2 poznatija kao Podravska magistrala?  
a) Bjelovar      b) Čakovec      c) Đurđevac      d) Križevci      e) Slatina
26. U koja je dva od navedenih gradova 2011. godine popisom utvrđen najveći broj stanovnika?  
a) u Dubrovniku      b) u Slavonskom Brodu      c) u Varaždinu      d) u Velikoj Gorici      e) u Zadru

**U SLJEDEĆA TRI ZADATKA DOPUNI REČENICE.**

27. U Panonskoj Hrvatskoj prosječna godišnja količina padalina \_\_\_\_\_ od zapada prema istoku, u Primorskoj Hrvatskoj prosječna godišnja količina padalina \_\_\_\_\_ od otoka prema obali, a u Gorskoj Hrvatskoj prosječna godišnja količina padalina \_\_\_\_\_ s porastom nadmorske visine.  
(*upiši raste ili opada*)
28. Osorske glazbene večeri održavaju se na otoku čije je ime \_\_\_\_\_. Zaljev Telašćica nalazi se na otoku čije je ime \_\_\_\_\_. Solana Ston nalazi se na poluotoku čije je ime \_\_\_\_\_.
29. Ime rijeke na kojoj se nalazi Ličko Lešće je \_\_\_\_\_. U gospodarstvu Gorske Hrvatske to naselje ima značajnu ulogu u sportskom ribolovu i uzgoju \_\_\_\_\_ (*upiši vrstu ribe*).

**U SLJEDEĆA DVA ZADATKA POVEŽI DESNI STUPAC S LIJEVIM UPISIVANJEM SLOVA NA CRTU ISPRED POJMOVA U LIJEVOM STUPCU. JEDNO JE SLOVO VIŠAK.**

30. Navedena naselja pridruži pripadajućim rijekama na kojima se nalaze.
- |               |            |
|---------------|------------|
| _____ Cetina  | A) Drniš   |
| _____ Čikola  | B) Knin    |
| _____ Krka    | C) Obrovac |
| _____ Neretva | D) Omiš    |
|               | E) Opuzen  |



2 31. Navedene logotipove pridruži gradovima u kojima su sjedišta industrije koju simboliziraju.

\_\_\_\_\_ Koprivnica

\_\_\_\_\_ Osijek

\_\_\_\_\_ Petrinja

\_\_\_\_\_ Požega

A)  BELUPO

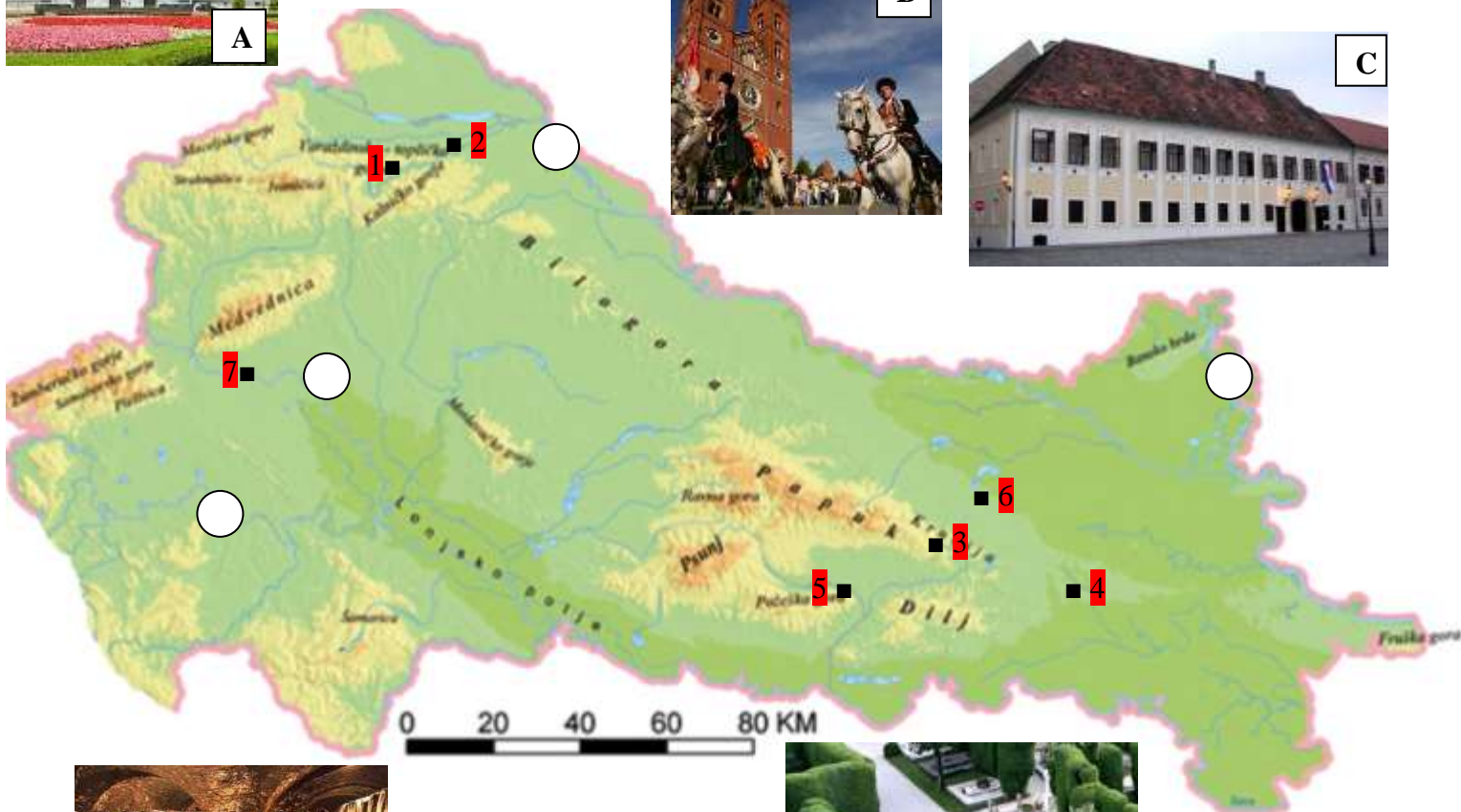
B)  Gavrilović

C)  Koštilin

D)  SAPONIA

E)  Zvečevc

SLJEDEĆA ČETIRI ZADATKA RIJEŠI POMOĆU PRILOŽENIH FOTOGRAFIJA I GEOGRAFSKE KARTE.



2 32. U kružić na karti koji se nalazi na rijeci u koju se ulijeva rijeka Glina upiši slovo G, a u kružić koji se nalazi na rijeci u koju se ulijeva rijeka Vuka upiši slovo V. (dva kružića su višak)

2	
---	--

 33. Ime grada poznatog zdravstveno-lječilišnog središta koji je na karti označen crnim kvadratićem i brojem **1** je \_\_\_\_\_, a ime grada poznatog po vjerskom i hodočasničkom turizmu koji je na karti označen crnim kvadratićem i brojem **2** je \_\_\_\_\_.

2	
---	--

 34. Na crte iza imena gradova upiši pripadajući broj s karte koji označava njegovu lokaciju i pripadajuće slovo s fotografije koja je snimljena u tom gradu.

Đakovo: \_\_\_\_\_

Kutjevo: \_\_\_\_\_

2	
---	--

 35. Zgrada u kojoj se održavaju sjednice Vlade Republike Hrvatske prikazana je na fotografiji označenoj slovom \_\_\_\_\_, a grad u kojoj se ona nalazi na karti je označen brojem \_\_\_\_\_.  
Naziv zgrade u kojoj se održavaju sjednice Vlade Republike Hrvatske je \_\_\_\_\_.