

20. DRŽAVNO NATJECANJE IZ GEOGRAFIJE 2013. GODINE

Razred ili kategorija natjecanja: **6. razred**

Zaporka

--	--	--	--	--

Broj postignutih bodova ____ / 70

Potpis članova povjerenstva

1. _____

2. _____

3. _____

Mjesto i nadnevak: _____

Za rješavanje zadataka predviđeno je 60 minuta.

Test se rješava kemijskom olovkom s plavom tintom koja se ne briše. Uporaba obične olovke i crvene ili neke druge boje tinte (osim plave) rezultira diskvalifikacijom učenika.

Pri rješavanju testa treba primijeniti jezičnu normu standardnoga hrvatskoga jezika, posebice treba poštivati pravopisna pravila o pisanju velikoga i maloga početnoga slova geografskih imena. Za pisanje geografskih imena u testovima i praktičnim radovima primjenjuje se *Popis geografskih imena* izrađen za potrebe natjecanja.

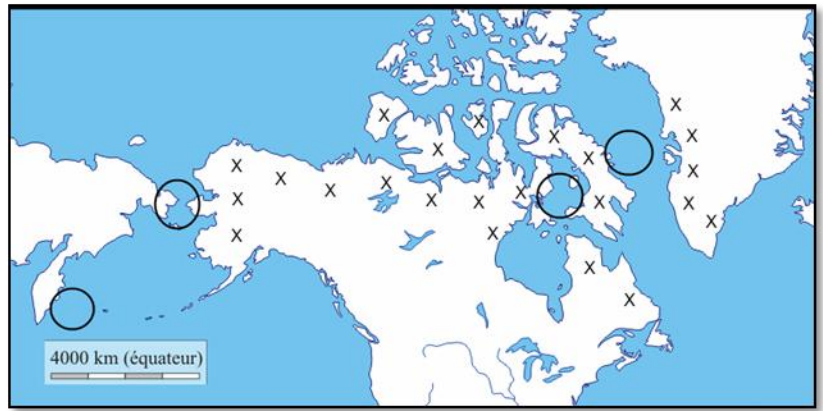
Odgovori učenika moraju biti čitljivo napisani pisanim slovima, osim u zadacima u kojima je odgovor jedno slovo.

Za vrijeme testiranja ne smije se koristiti ništa osim navedenoga pribora za pisanje. Ova odredba podrazumijeva da natjecatelji ne smiju kod sebe (na sebi, ispod, u svojoj odjeći i slično) imati predmete koji na bilo koji način mogu dovesti u sumnju pravilno provođenje natjecanja. Učenici se ne smiju služiti atlasom, zidnom kartom ni računalom. Kartografski i grafički prilozi nužni za rješavanje zadataka sastavni su dio testa.

Učenicima se dopušta pisanje po marginama ispitnog materijala bez oduzimanja bodova i/ili diskvalifikacije.

Potpuno ispravno riješeni zadaci, prema uputi za rješavanje vrednuju se s jednim, dva ili tri boda. U djelomično ispravno riješenim zadacima boduju se ispravno riješene čestice, ako nije bilo korekcije odgovora u tim česticama. Netočno riješeni zadaci i naknadno ispravljeni odgovori te odgovori koji su pisani tiskanim slovima ili kombinacijom tiskanih i pisanih slova, kao i odgovori u zagradama ne vrednuju se.

SLJEDEĆA DVA ZADATKA RIJEŠI UZ POMOĆ PRILOŽENE FOTOGRAFIJE I GEOGRAFSKE KARTE.



- 2
1. Na priloženoj geografskoj karti znakovima X označeno je područje koje naseljava starosjedilačko stanovništvo prikazano na fotografiji. Ime tih stanovnika je _____, a pripadnici su rasne skupine čiji je naziv _____.
- 2
2. Stanovništvo prikazano na fotografiji doselilo je iz Azije tijekom zadnjeg ledenog doba preko prostora u kojem se danas nalazi _____ prolaz (upiši ime). Na priloženoj geografskoj karti u kružnicu kojom je označen smještaj tog morskog prolaza upiši slovo A.

U SLJEDEĆIH PET ZADATKA DOPUNI REČENICE.

- 2
3. Doseljavanjem i miješanjem glavnih rasnih skupina na prostoru Južne Amerike nastale su različite skupine mješanaca od kojih su najbrojniji _____ (upiši ime). Najbrojnija skupina mješanaca u Južnoj Americi nastala je miješanjem _____ i _____ rase.
- 2
4. Ime grada čiji je teritorij 1997. godine priključen Kini je _____. Puno ime države kojoj je taj grad pripadao do 1997. godine je _____.
- 2
5. Hrvatska je _____ godine postala članica najvećeg vojno-obrambenog saveza u svijetu čija kratica prvih slova na izvornom jeziku je _____.
- 2
6. Ime najrjeđe naseljenog kontinenta je _____. Najveći udio svjetskog stanovništva živi na području _____ toplinskog pojasa (upiši puni naziv toplinskog pojasa).
- 2
7. Ime kanadske provincije u kojoj živi najveći broj stanovništva francuskog podrijetla je _____, a ime najvećeg grada te provincije je _____.

U SLJEDEĆEM ZADATKU DVA SU ODGOVORA TOČNA. ZAOKRUŽI SLOVA ISPRED TOČNIH ODGOVORA.

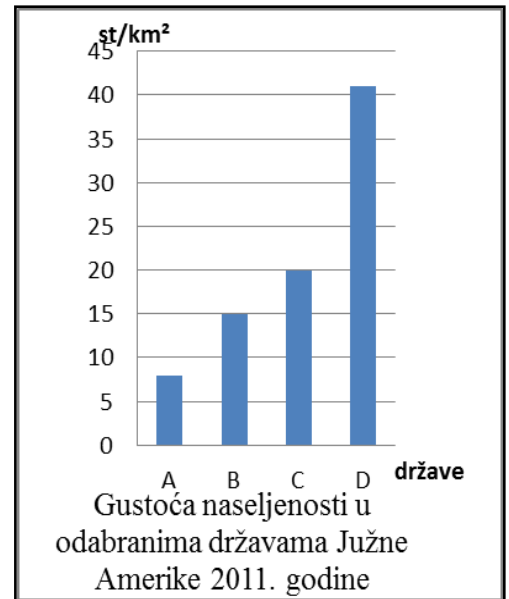
- 2
8. Koji među navedenim faktorima potiču iseljavanje iz afričkih država?
- a) visok BDP po stanovniku b) velik udio starog stanovništva c) gospodarska struktura I-II-III
- d) niska stopa rodosti e) velik udio mladog stanovništva f) gospodarska struktura III-II-I

SLJEDEĆA TRI ZADATKA RIJEŠI UZ POMOĆ PRILOŽENE TABLICE, DIJAGRAMA I GEOGRAFSKE KARTE.

Tablica 1. Površina i broj stanovnika u odabranim državama Južne Amerike 2011.g.

DRŽAVA	POVRŠINA (km ²)	BROJ STANOVNIKA
Bolivija	1 000 000	8 000 000
Čile	750 000	15 000 000
Kolumbija	1 000 000	41 000 000
Paragvaj	400 000	6 000 000

Prostor za računanje



2 9. Gustoća naseljenosti za državu Čile iznosi _____ (upiši gustoću naseljenosti).
Stupac u dijagramu koji prikazuje gustoću naseljenosti Čilea označen je slovom _____.

2 10. Među navedenima u tablici ime najrjeđe naseljene države je _____. Upiši na priloženoj geografskoj karti broj **1** na prostor te države.

2 11. Među državama navedenim u tablici, ime najmnogoljudnije države je _____.
Upiši na priloženoj geografskoj karti broj **2** na teritorij te države.

U SLJEDEĆEM ZADATKU POVEŽI DESNI STUPAC S LIJEVIM UPISIVANJEM PRIPADAJUĆEG SLOVA NA CRTU ISPRED POJMA U LIJEVOM STUPCU.

3 12. Poveži gradove s pripadajućim prirodnim regijama Brazila.

_____ Sjeveroistočno priobalje

_____ Jugoistočno priobalje

_____ Brazilsko visočje

A) Belo Horizonte

B) Salvador

C) Manaus

D) Sao Paulo

E) Rio Branco

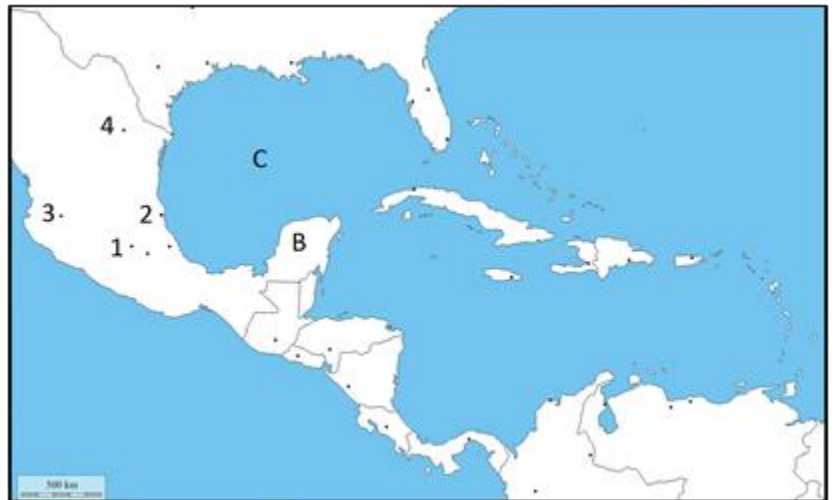
U SLJEDEĆA DVA ZADATKA POVEŽI SREDNJI I DESNI STUPAC S LIJEVIM UPISIVANJEM PRIPADAJUĆEG SLOVA I BROJA NA CRTU ISPRED POJMOVA U LIJEVOM STUPCU. JEDNO SLOVO I JEDAN BROJ SU VIŠAK.

- | | | |
|-------|--------------|--|
| 3 | | 13. Poveži planine i gore s rijekama koje u njima izvire i imenima pripadajućih najviših vrhova. |
| _____ | Mt. Mitchell | A) Brazilsko visočje |
| _____ | Mt. McKinley | B) Appalachian |
| _____ | Aconcagua | C) Sjevernoamerički Kordiljeri |
| | | D) Ande |
| | | 1) Ohio |
| | | 2) Parana |
| | | 3) Columbia |
| | | 4) Orinoco |

- | | | |
|-------|---------|--|
| 2 | | 14. Poveži religiju s prostorom za koji je karakteristična i državom u kojoj prevladava. |
| _____ | Kuvajt | A) hinduizam |
| _____ | Tajland | B) islam |
| | | C) budizam |
| | | 1) Indokineski poluotok |
| | | 2) Indijski poluotok |
| | | 3) Arapski poluotok |

SLJEDEĆA ČETIRI ZADATKA RIJEŠI UZ POMOĆ PRILOŽENE GEOGRAFSKE KARTE.

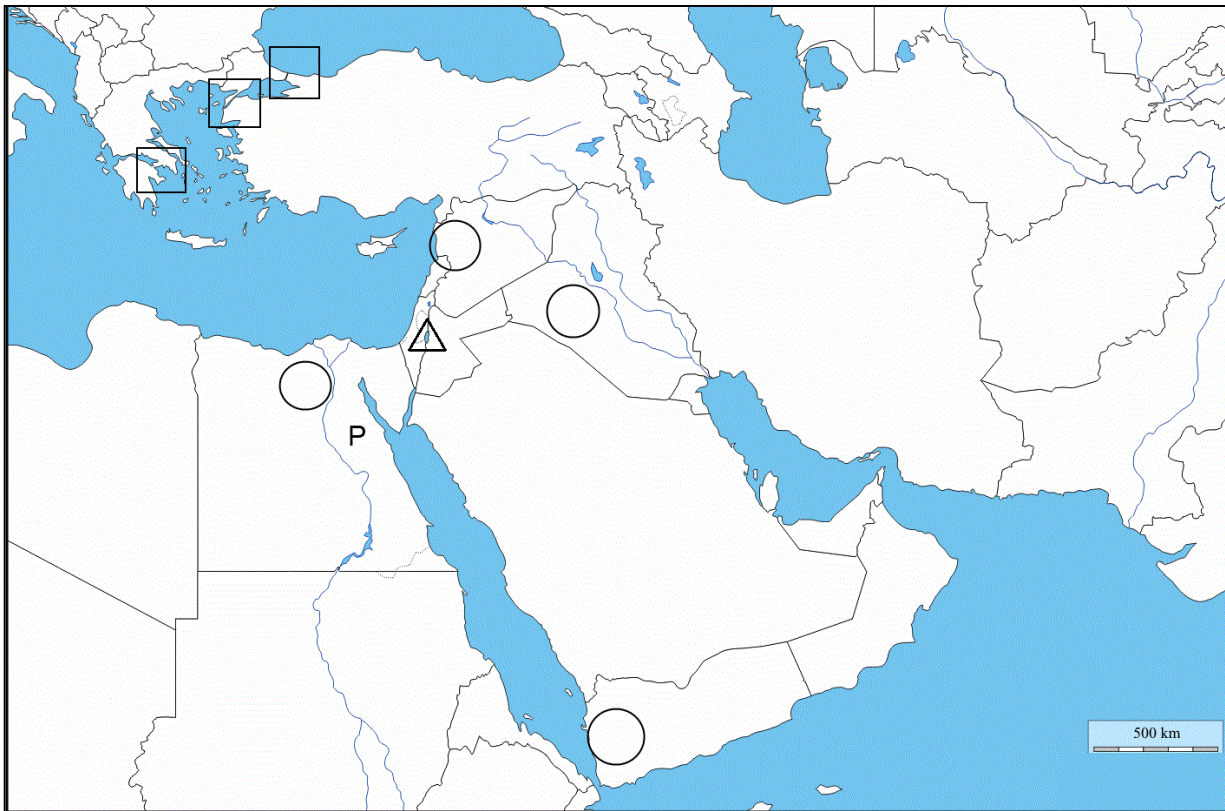
- | | | |
|---|--|--|
| 2 | | 15. Ime najvećeg otoka i istoimene države u otočnoj skupini Velikih Antila je _____. |
| | | Upiši na priloženoj geografskoj karti slovo A na prostor tog otoka. |



U SVAKOM OD SLJEDEĆA TRI ZADATKA DOPUNI REČENICE I U PAROVIMA POJMOVA KOJI SU PODEBLJANI I ODVOJENI KOSIM CRTAMA ZAOKRUŽI ONAJ POJAM KOJI JE TOČAN.

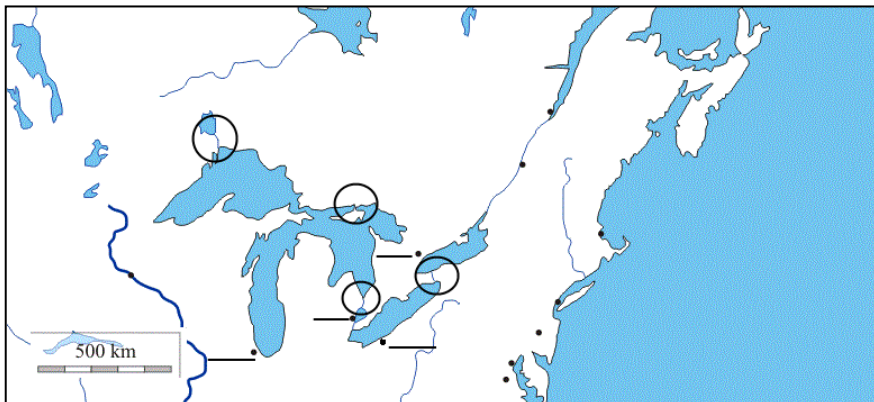
- | | | |
|---|--|---|
| 2 | | 16. Ime poluotoka na priloženoj geografskoj karti obilježenog slovom B je _____. |
| | | Prije dolaska Europljana naseljavale su ga stare indijanske civilizacije. To je jedan od razloga sve veće turističke posjećenosti ovog područja, a kao važno turističko središte posebno se ističe grad Cancun / Acapulco . |
| 2 | | 17. Važno industrijsko središte Meksika je grad Monterrey. Na priloženoj geografskoj karti obilježen je točkom i brojem _____. Od rudnog bogatstva, Meksiko se ističe kao jedan od najvećih svjetskih proizvođača i izvoznika srebra / ugljena . |
| 2 | | 18. Ime dijela svjetskog mora na priloženoj geografskoj karti obilježenog slovom C je _____. |
| | | Priobalje tog dijela svjetskog mora ima veliku gospodarsku važnost za Meksiko zbog svjetski značajnog bogatstva ribe / nafte . |

SLJEDEĆIH DEVET ZADATKA RIJEŠI UZ POMOĆ PRILOŽENE GEOGRAFSKE KARTE.



- | | |
|---|--|
| 3 | |
|---|--|
19. Na priloženoj geografskoj karti u kvadratić kojim je označen smještaj morskog prolaza Bospor upiši slovo **X**. Bospor povezuje _____ i _____ more (upiši ime mora).
- | | |
|---|--|
| 1 | |
|---|--|
20. Ime grada koji se nalazi na Bosporu je _____.
- | | |
|---|--|
| 1 | |
|---|--|
21. Na priloženoj geografskoj karti podebljaj cijelu dužinu toka rijeke Tigris.
- | | |
|---|--|
| 2 | |
|---|--|
22. Ime države u kojoj Tigris teče većim dijelom toka je _____, a ime nizine kojom Tigris protječe je _____.
- | | |
|---|--|
| 2 | |
|---|--|
23. Ime jezera koje se na priloženoj geografskoj karti nalazi unutar ucrtanog trokuta je _____. Tim jezerom prolazi granica između države Izrael na zapadnoj obali jezera i države _____ (upiši ime) na istočnoj obali jezera.
- | | |
|---|--|
| 1 | |
|---|--|
24. Ime poluotoka koji se pruža istočno od Sueskog kanala je _____.
- | | |
|---|--|
| 1 | |
|---|--|
25. Ime pustinje obilježene slovom **P** na priloženoj geografskoj karti je _____.
- | | |
|---|--|
| 2 | |
|---|--|
26. Ime države koja je među članicama Organizacije država izvoznica nafte (OPEC) najveći svjetski proizvođač nafte je _____. Upiši na priloženoj geografskoj karti slovo **N** na prostor te države.
- | | |
|---|--|
| 3 | |
|---|--|
27. Na priloženoj geografskoj karti upiši broj **1** u kružić kojim je označeno svjetski važno područje uzgoja kave, broj **2** u kružić kojim je označeno svjetski važno područje uzgoja pamuka i broj **3** u kružić kojim je označeno svjetski važno područje uzgoja žitarica, a u kojem se pšenica najranije počela uzgajati. Jedan je kružić višak.

SLJEDEĆA TRI ZADATKA RIJEŠI UZ POMOĆ PRILOŽENE FOTOGRAFIJE I GEOGRAFSKE KARTE.



2	
---	--

28. Ime vodopada na priloženoj fotografiji je _____. Na priloženoj geografskoj karti unutar kružnice koja okružuje mjesto prikazano na fotografiji upiši slovo **X**.

2	
---	--

29. Ime rijeke koja izravno povezuje Velika jezera s Atlantskim oceanom je _____, a vrstu zaljeva koja je nastala potapanjem njezinog riječnog ušća nazivamo _____.

U SLJEDEĆEM ZADATKU POVEŽI DESNI STUPAC S LIJEVIM I PRILOŽENOM GEOGRAFSKOM KARTOM UPISIVANJEM PRIPADAJUĆEG SLOVA NA CRTU ISPRED POJMA U LIJEVOM STUPCU I ISTOG SLOVA NA PRIPADAJUĆU CRTU NA KARTI.

3	
---	--

30. Poveži grad s jezerom uz čiju se obalu nalazi i položajem na priloženoj geografskoj karti. Jedan grad i jedna crta na karti su višak.

- | | |
|-----------------------|--------------|
| _____ Jezero Michigan | A) Cleveland |
| _____ Jezero Ontario | B) Chicago |
| _____ Jezero Erie | C) Toronto |
| | D) Montreal |

U SLJEDEĆEM ZADATKU TRI SU POGREŠNE RIJEČI. PRONAĐI IH U TEKSTU, ISPIŠI IH U PRVI STUPAC TABLICE, A UZ NJIH U DRUGI STUPAC UPIŠI TOČNE RIJEČI.

3	
---	--

31. Oceanija je naziv za otočni prostor zapadnog i središnjeg dijela Tihog oceana. Površinom najveći otoci su Nova Gvineja i otoci Novog Zelanda. Nova Gvineja dio je Mikronezije, a dijele ju dvije države. Najveće područje Tihog oceana zahvaća otočna skupina Polinezija koja obuhvaća otoke središnjeg dijela Tihog oceana, a većina ih je smještena sjeverno od ekvatora. Otočje Fiji, smješteno sjeverno od Novog Zelanda, oko 20° južno od ekvatora, turistički je dobro posjećeno i pripada Polineziji. Manji otoci su vulkanskog i koraljnog postanka.

POGREŠNO	TOČNO

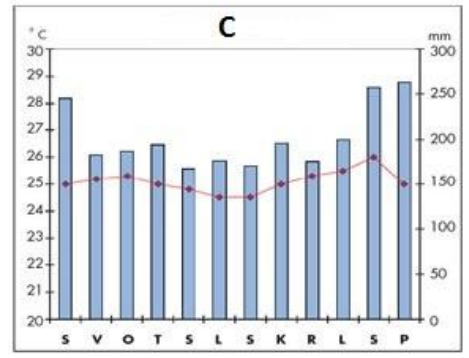
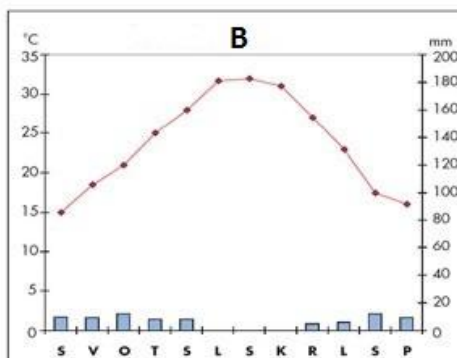
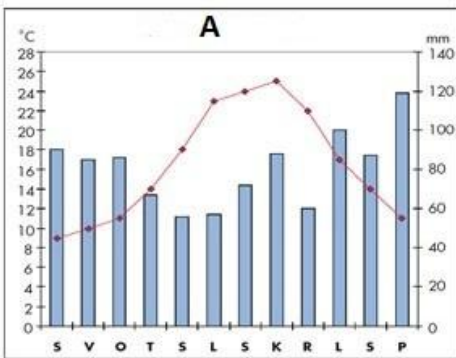
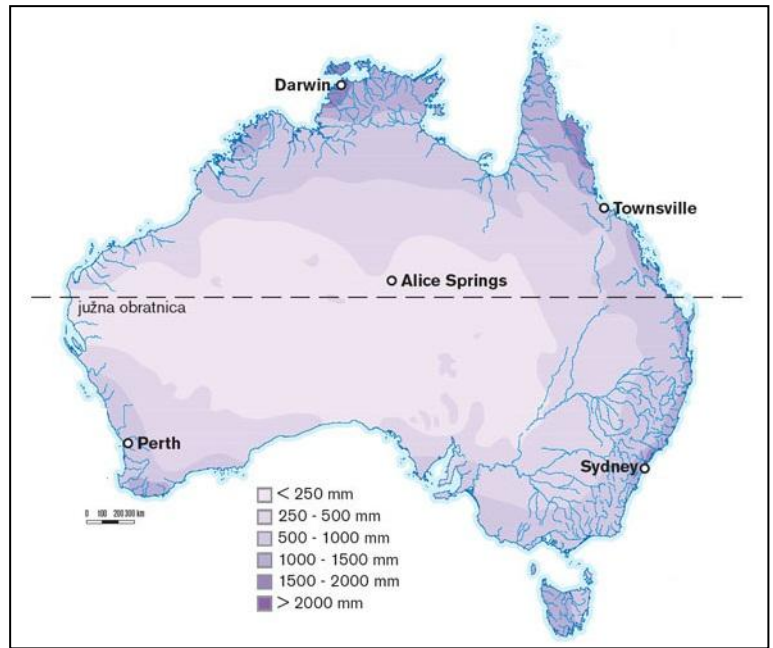
SLJEDEĆA TRI ZADATKA RIJEŠI UZ POMOĆ PRILOŽENE KARTE PADALINA U AUSTRALIJI

I KLIMATSKIH DIJAGRAMA.

1 32. Priložena geografska karta prema sadržaju pripada skupini _____ karata.

2 33. Prema tumaču, godišnja količina padalina na najvećem dijelu poluotoka York iznosi _____.
Pod utjecajem geografskog smještaja i takve količine padalina na većem dijelu poluotoka York prevladava biljna zajednica čiji je naziv _____.

2 34. Naziv tipa klime koji prevladava u dijelu Australije u kojem se nalazi grad Alice Springs je _____.
klima. Taj tip klime prikazan je klimatskim dijagramom označenim slovom _____.



SLJEDEĆI ZADATAK RIJEŠI UZ POMOĆ PRILOŽENIH FOTOGRAFIJA

1 35. Upiši ispod odgovarajuće fotografije ime domorodačkog stanovništva u Australiji.