

## ŽUPANIJSKO NATJECANJE IZ GEOGRAFIJE 2012. GODINE

**Razred ili kategorija natjecanja:** 7. razred

**Zaporka**

--	--	--	--	--

\_\_\_\_\_

**Broj postignutih bodova** \_\_\_\_ / 70

**Potpis članova Županijskog povjerenstva**

1. \_\_\_\_\_

2. \_\_\_\_\_

3. \_\_\_\_\_

Mjesto i nadnevak: \_\_\_\_\_

Za rješavanje zadataka predviđeno je 60 minuta.

Test se rješava kemijskom olovkom s plavom tintom koja se ne briše. Uporaba obične olovke i crvene ili neke druge boje tinte (osim plave) rezultira diskvalifikacijom učenika.

Pri rješavanju testa treba primijeniti jezičnu normu standardnoga hrvatskoga jezika, posebice treba poštivati pravopisna pravila o pisanju velikoga i maloga početnoga slova geografskih imena. Geografska imena čije je podrijetlo iz drugih (stranih) jezika moraju biti napisana u izvornom obliku (transkribirana na latinicu), npr. New York, Stuttgart, Loire...

Odgovori učenika moraju biti čitljivo napisani pisanim slovima (osim u zadacima u kojima je odgovor jedno slovo).

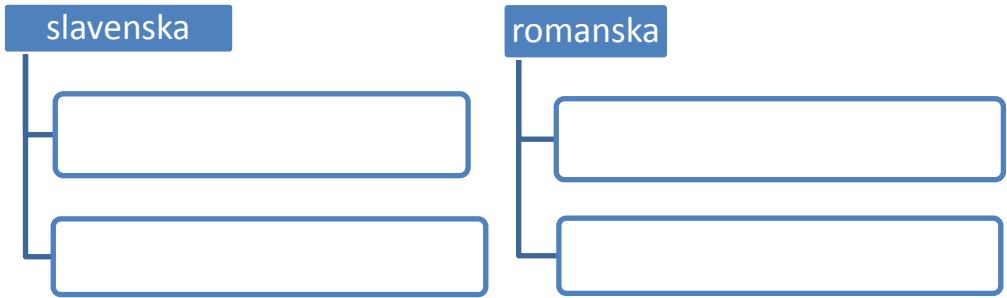
Za vrijeme testiranja ne smije se koristiti ništa osim navedenoga pribora za pisanje. Ova odredba podrazumijeva da natjecatelji ne smiju kod sebe (na sebi, ispod, u svojoj odjeći i slično) imati predmete koji na bilo koji način mogu dovesti u sumnju pravilno provođenje natjecanja. Učenici se ne smiju služiti atlasom, zidnom kartom ni računalom. Kartografski i grafički prilozi nužni za rješavanje zadataka sastavni su dio testa.

Potpuno ispravno riješeni zadaci, prema uputi za rješavanje vrednuju se s jednim, dva ili tri boda. U djelomično ispravno riješenim zadacima boduju se ispravno riješene čestice, ako u njima nije bilo korekcije odgovora. Netočno riješeni zadaci i naknadno ispravljeni odgovori te odgovori koji su pisani tiskanim slovima ili kombinacijom tiskanih i pisanih slova ne vrednuju se.

2

1. Razvrstaj navedene jezike prema navedenim jezičnim skupinama upisivanjem po jednog jezika u svako pripadajuće polje. Dva jezika su višak.

švedski rumunjski moldavski bugarski danski bjeloruski

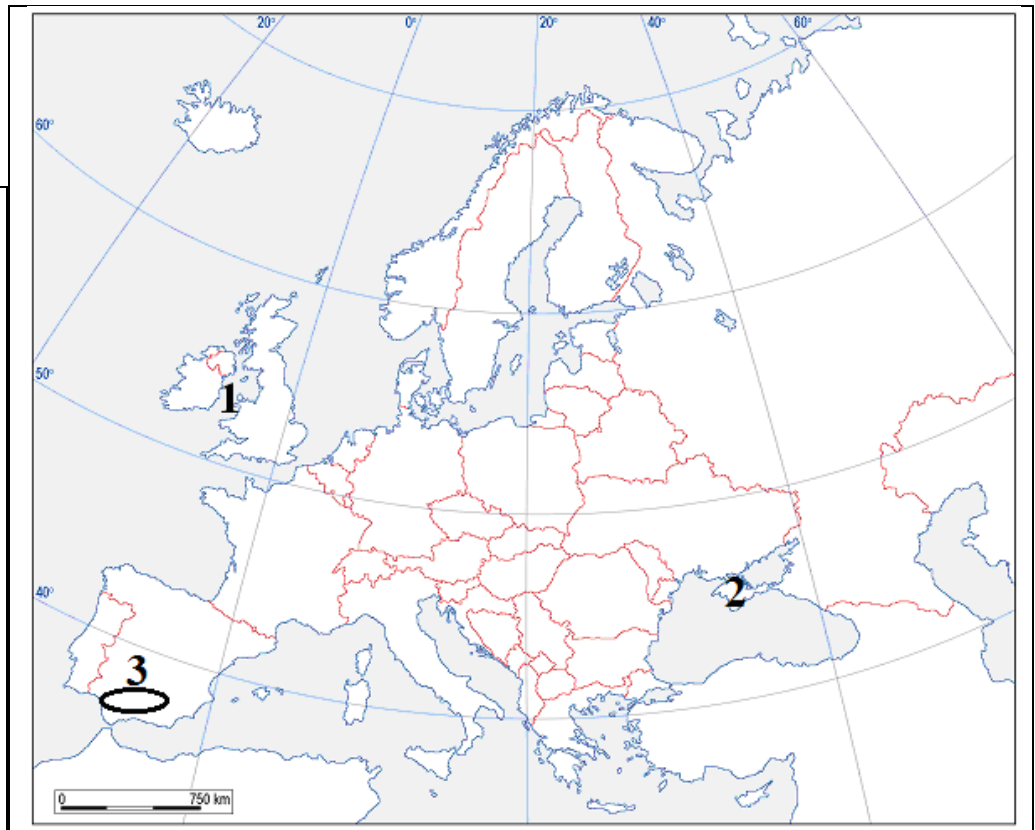


**SLJEDEĆA ČETIRI ZADATKA RIJEŠI UZ POMOĆ GEOGRAFSKE KARTE EUROPE.**

2

2. Na crte ispod fotografija upiši odgovarajuće slovo za naziv znamenitosti. Za svaku znamenitost s fotografija upiši na kartu odgovarajuće slovo u prostor države u kojoj se ta znamenitost nalazi.

- A - Prater
- B - Brandenburška vrata
- C - Stonehenge
- D - Atomium



2

3. Na crte upiši imena mora i poluotoka označenih na karti brojevima.

1 \_\_\_\_\_ (more)                      2 \_\_\_\_\_ (poluotok)

1

4. Na karti je brojem 3 označeno i zaokruženo područje \_\_\_\_\_ nizine (upiši ime nizine).

1

5. Na karti u cijelosti ispuni područje države u kojoj se nalazi pokrajina Gradišće.

**U SVAKOM OD SLJEDEĆA DVA ZADATKA POVEŽI DESNI STUPAC S LIJEVIM UPISIVANJEM SAMO JEDNOG SLOVA NA CRTE ISPRED POJMOVA U LIJEVOM STUPCU. TRI SLOVA SU VIŠAK.**

3

6. Poveži države s pripadajućim turističkim destinacijama
- |                  |                |
|------------------|----------------|
| _____ Bled       | A) Lihtenštajn |
| _____ Innsbruck  | B) Češka       |
| _____ St. Moritz | C) Austrija    |
|                  | D) Švicarska   |
|                  | E) Slovenija   |
|                  | F) Njemačka    |

3

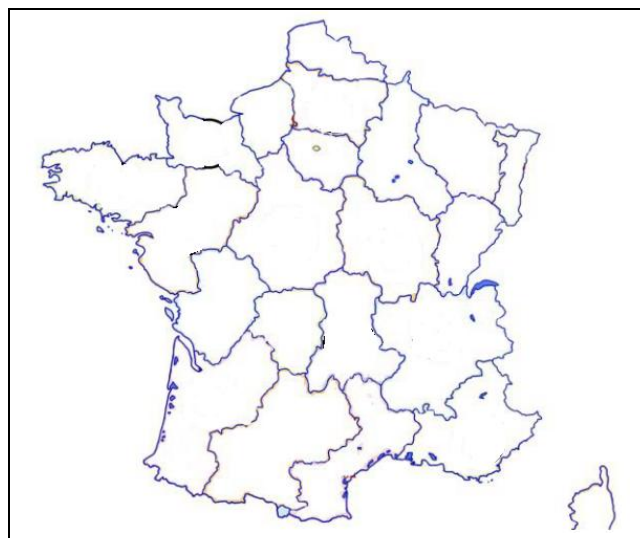
7. Poveži rijeke s pripadajućim slijevom.
- |                                     |                   |
|-------------------------------------|-------------------|
| _____ Slijev Sjevernog ledenog mora | A) Ebro           |
| _____ Slijev Sredozemnog mora       | B) Tejo           |
| _____ Slijev Atlantskog oceana      | C) Zapadna Dvina  |
|                                     | D) Odra           |
|                                     | E) Don            |
|                                     | F) Sjeverna Dvina |

**U SLJEDEĆEM ZADATKU POVEŽI DESNI STUPAC S LIJEVIM I KARTOM FRANCUSKE DESNO UPISIVANJEM SAMO JEDNOG SLOVA NA CRTU ISPRED POJMOVA U LIJEVOM STUPCU I UPISIVANJEM ISTOG SLOVA U PRIPADAJUĆU POKRAJINU NA KARTI. JEDNO SLOVO JE VIŠAK.**

3

8. Poveži gradove s pripadajućim rijekama i pokrajinama.

_____ Loire	A - Nantes
_____ Garonne	B - Bordeaux
_____ Rhône	C - Pariz
	D - Lyon



**U SLJEDEĆIH ŠEST ZADATKA DOPUNI REČENICE.**

2

9. U Ujedinjenom Kraljevstvu keltski jezik u znatnijoj mjeri sačuvan je u \_\_\_\_\_, a kilt je karakteristična nošnja za \_\_\_\_\_ (upiši imena zemalja Ujedinjenog Kraljevstva).

2

10. Površinom najveće prirodno jezero na svijetu je \_\_\_\_\_, a prema postanku je \_\_\_\_\_.

2

11. Stijene nastale očvršćivanjem sedimenata, odnosno taloženjem čestica stijena nastalih trošenjem, ostataka biljaka i životinja ili izlučivanjem iz otopina nazivaju se \_\_\_\_\_ stijene, dok se stijene nastale hlađenjem i skrućivanjem magme unutar Zemljine kore i lave na površini nazivaju \_\_\_\_\_ stijene.

- 2 12. Prag je smješten na rijeci \_\_\_\_\_, dok je na istoku Češke najvažnija rijeka \_\_\_\_\_ koja se ulijeva u Dunav (upiši imena rijeka).
- 2 13. Otočje Svalbard pripada državi \_\_\_\_\_, dok je Grenland sastavni dio države \_\_\_\_\_.
- 2 14. Plovidba između Baltičkog i Sjevernog mora skraćena je prokopavanjem \_\_\_\_\_ kanala koji prolazi teritorijem države \_\_\_\_\_.

**U SLJEDEĆA DVA ZADATKA POVEŽI PAROVE UPISIVANJEM SAMO JEDNOG SLOVA NA CRTU ISPRED NAVEDENIH ODGOVORA. TRI CRTE MORAJU OSTATI PRAZNE.**

- 2 15. Poveži gradove s pripadajućim državama.  
 \_\_\_\_\_ Poljska      **A** - Kraków      **B** - Ostrava  
 \_\_\_\_\_ Češka      \_\_\_\_\_ Slovačka      \_\_\_\_\_ Mađarska      \_\_\_\_\_ Njemačka
- 2 16. Poveži navedene kompanije s državama u kojima su im sjedišta.  
 \_\_\_\_\_ Danska      **A** - Volvo, Saab      **B** - Nokia  
 \_\_\_\_\_ Finska      \_\_\_\_\_ Švedska      \_\_\_\_\_ Norveška      \_\_\_\_\_ Island

**U SVAKOM OD SLJEDEĆA DVA ZADATKA TRI SU POGREŠNA POJMA. ZAOKRUŽI IH U TEKSTU, UPIŠI U TABLICU U LIJEVI STUPAC TE PORED NJIH UPIŠI ISPRAVNE POJMOVE.**

- 3 17. Pažljivo pročitaj tekst o Švicarskoj i riješi zadatak kao što je napisano u napatku.

*Alpe zauzimaju najveći dio Švicarske i najviša su reljefna cjelina. Jura se pruža uz njemačku granicu, od Ženevskog jezera prema rijeci Rajni. Vodeća gospodarska i demografska središta razvila su se na visoravni smještenoj između Jure i Alpa. Politička neutralnost, priznata od svjetskih sila 1945. godine pridonijela je gospodarskom napretku Švicarske. Danas u gospodarskoj strukturi stanovništva i strukturi bruto domaćeg proizvoda najveći udio imaju djelatnosti sekundarnog sektora.*

POGREŠAN POJAM	ISPRAVAN POJAM

- 3 18. Pažljivo pročitaj tekst o Islandu i riješi zadatak kao što je napisano u napatku.

*Island se nalazi na dodiru dviju litosfernih ploča, Sjevernoameričke i Afričke, i najgušće je naseljena država Europe. Geotermalna energija je od velike važnosti jer se koristi za grijanje i dobivanje električne energije. Južni dio Islanda se ne zaleđuje jer je pod utjecajem Kanarske struje.*

POGREŠAN POJAM	ISPRAVAN POJAM

**U SVAKOM OD SLJEDEĆA TRI ZADATKA DVA SU TOČNA ODGOVORA. ZAOKRUŽI SLOVA ISPRED TOČNIH ODGOVORA.**

- 2 19. Koja su od navedenih obilježja zajednička pribaltičkim državama?  
 a) reljefnu osnovu čini Ruska platforma.  
 b) države imaju izlaz na Riški zaljev.  
 c) nalazišta nafte zadovoljavaju vlastite potrebe.  
 d) jedna od susjednih država im je Ruska Federacija.  
 e) službeni jezici pripadaju slavenskim jezicima

- 2 20. Koji se od navedenih gradova nalaze u Češkoj?  
 a) Łódz      b) Poznań      c) Gdynia      d) Zlin      e) Brno

- 2 21. Koje od navedenih aglomeracija u Francuskoj prema procjeni za 2012. godinu imaju najveći broj stanovnika?  
 a) Lille      b) Nantes      c) Lyon      d) Bordeaux      e) Strasbourg

**U SLJEDEĆEM ZADATKU POVEŽI DESNI STUPAC S LIJEVIM UPISIVANJEM SAMO JEDNOG SLOVA NA CRTE ISPRED POJMOVA U LIJEVOM STUPCU. JEDNO SLOVO JE VIŠAK.**

- 2 22. Poveži rijeke s pripadajućim lukama.  
 \_\_\_\_\_ Le Havre                              A - Loire  
 \_\_\_\_\_ Marseille                            B - Rhone  
 \_\_\_\_\_ Toulouse                             C - Garonne  
 \_\_\_\_\_ Strasbourg                           D - Seine  
    E - Rajna

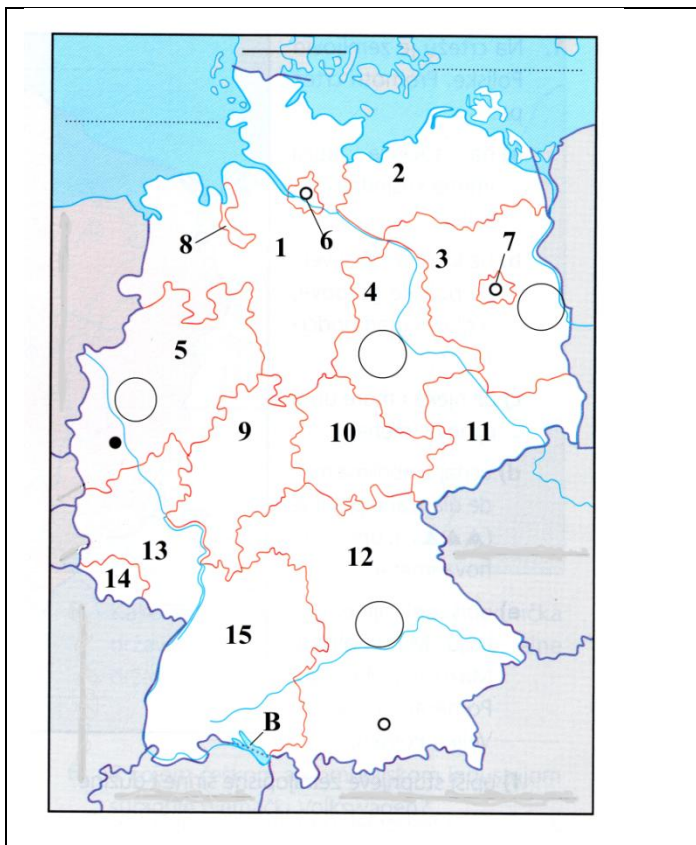
**SLJEDEĆA ČETIRI ZADATKA RIJEŠI UZ POMOĆ PRILOŽENE KARTE.**

- 2 23. Glavni i najveći grad Njemačke na karti je označen brojem \_\_\_\_\_. Ime tog grada je \_\_\_\_\_.

- 2 24. Važno trgovačko i bankarsko središte Njemačke u kojemu se nalazi Europska središnja banka je grad \_\_\_\_\_, a savezna država u kojoj se nalazi na karti je označena brojem \_\_\_\_\_.

- 3 25. Jezero označeno slovom B naziva se \_\_\_\_\_ jezero, a nalazi se na granici Njemačke, \_\_\_\_\_ i \_\_\_\_\_.

- 1 26. U kružić na karti pokraj rijeke Elbe upiši slovo A.



**U SVAKOM OD SLJEDEĆIH ŠEST ZADATAKA DOPUNI REČENICE I U PAROVIMA POJMOVA KOJI SU PODEBLJANI I ODVOJENI KOSIM CRTAMA ZAOKRUŽI ONAJ POJAM KOJI JE TOČAN.**

- |   |  |
|---|--|
| 2 |  |
|---|--|

 27. Na području Mađarske kontinentalnost raste prema *zapadu / istoku*, a na lesnim ravnjacima nastalo je plodno tlo čiji je naziv \_\_\_\_\_ .
- |   |  |
|---|--|
| 2 |  |
|---|--|

 28. Veći dio Europe se nalazi u \_\_\_\_\_ toplinskom pojasu (upiši puni naziv pojasa), te se pruža kroz *pet / sedam* vremenskih zona.
- |   |  |
|---|--|
| 2 |  |
|---|--|

 29. Proces prelaska s planskog na tržišno gospodarstvo nazivamo \_\_\_\_\_, a uz taj proces, poticaj daljnjem gospodarskom razvoju Poljske, Češke, Mađarske i Slovačke predstavljao je i ulazak u EU *2004. / 2007.* godine.
- |   |  |
|---|--|
| 2 |  |
|---|--|

 30. Prostor grada koji zajedno sa svojom urbaniziranom okolicom čini jednu cjelinu naziva se \_\_\_\_\_. Srasli gradovi nazivaju se *konurbacije / satelitski gradovi*.
- |   |  |
|---|--|
| 2 |  |
|---|--|

 31. Najveća koncentracija naseljenosti i gospodarstva u Belgiji nalazi se između gradova Bruxellesa, \_\_\_\_\_ i Antwerpena. Antwerpen se nalazi na estuariju rijeke *Schelde / Meuse*.
- |   |  |
|---|--|
| 2 |  |
|---|--|

 32. Najvažnija morska luka Slovenije je \_\_\_\_\_, a u sjeveroistočnom dijelu Slovenije najveće industrijsko središte je *Maribor / Murska Sobota*.

**U SVAKOM OD SLJEDEĆA TRI ZADATKA JEDAN JE ODGOVOR TOČAN. ZAOKRUŽI SLOVO ISPRED TOČNOG ODGOVORA.**

- |   |  |
|---|--|
| 1 |  |
|---|--|

 33. Koji je od navedenih najgušće naseljeni dio Češke?  
a) Moravska zavala    b) Češko sredogorje    c) Šumava i Sudeti    d) Češka zavala
- |   |  |
|---|--|
| 1 |  |
|---|--|

 34. Što je Lihtenštajn po državnom uređenju?  
a) vojvodstvo    b) republika    c) kneževina    d) kraljevina
- |   |  |
|---|--|
| 1 |  |
|---|--|

 35. Koja je među navedenima glavna morska luka Estonije?  
a) Tallinn    b) Pärnu    c) Tartu    d) Narva