

ŠKOLSKO/OPĆINSKO/GRADSKO NATJECANJE IZ GEOGRAFIJE 2012. GODINE

Razred ili kategorija natjecanja: 7. razred

Zaporka

--	--	--	--	--

Broj postignutih bodova ____ / 70

Potpis članova Školskog povjerenstva

1. _____

2. _____

3. _____

Mjesto i nadnevak: _____

Za rješavanje zadataka predviđeno je 60 minuta.

Test se rješava kemijskom olovkom s plavom tintom koja se ne briše. Uporaba obične olovke i crvene ili neke druge boje tinte (osim plave) rezultira diskvalifikacijom učenika.

Pri rješavanju testa treba primijeniti jezičnu normu standardnoga hrvatskoga jezika, posebice treba poštivati pravopisna pravila o pisanju velikoga i maloga početnoga slova geografskih imena. Geografska imena čije je podrijetlo iz drugih (stranih) jezika moraju biti napisana u izvornom obliku (transkribirana na latinicu), npr. New York, Stuttgart, Loire...

Odgovori učenika moraju biti čitljivo napisani pisanim slovima (osim u zadacima u kojima je odgovor jedno slovo).

Za vrijeme testiranja ne smije se koristiti ništa osim navedenoga pribora za pisanje. Ova odredba podrazumijeva da natjecatelji ne smiju kod sebe (na sebi, ispod, u svojoj odjeći i slično) imati predmete koji na bilo koji način mogu dovesti u sumnju pravilno provođenje natjecanja. Učenici se ne smiju služiti atlasom, zidnom kartom ni računalom. Kartografski i grafički prilozi nužni za rješavanje zadataka sastavni su dio testa.

Potpuno ispravno riješeni zadaci, prema uputi za rješavanje vrednuju se s jednim, dva ili tri boda. U djelomično ispravno riješenim zadacima boduju se ispravno riješene čestice, ako u njima nije bilo korekcije odgovora. Netočno riješeni zadaci i naknadno ispravljeni odgovori te odgovori koji su pisani tiskanim slovima ili kombinacijom tiskanih i pisanih slova ne vrednuju se.

U SLJEDEĆEM ZADATKU IZRAČUNAJ I NA CRTU UPIŠI ODGOVOR.

1

1. U Europi 2011. živi približno 740 milijuna stanovnika na 10,1 milijun km². Uz pomoć podataka izračunaj prosječnu gustoću naseljenosti (na dvije decimale).

Prostor za računanje

Odgovor: _____

U SLJEDEĆA DVA ZADATKA POVEŽI PAROVE UPISIVANJEM SAMO JEDNOG SLOVA NA CRTU ISPRED PONUĐENIH ODGOVORA. TRI CRTE MORAJU OSTATI PRAZNE.

2

2. Navedene funkcije pridruži gradovima u kojima se nalaze.

A) Europort B) sjedište vlade

____ Rotterdam ____ Den Haag ____ Amsterdam ____ Maastricht ____ Utrecht

2

3. Navedena obilježja pridruži zemljama za koje su karakteristične.

A) zemlja u kojoj se povremeno javljaju sukobi između protestanata i katolika

B) bilježi jači razvoj za vrijeme industrijske revolucije, značajniji centar Cardiff

____ Wales ____ Sjeverna Irska ____ Engleska ____ Škotska ____ Republika Irska

SLJEDEĆA DVA ZADATKA RIJEŠI UZ POMOĆ GRAFIČKOG PRIKAZA.

2

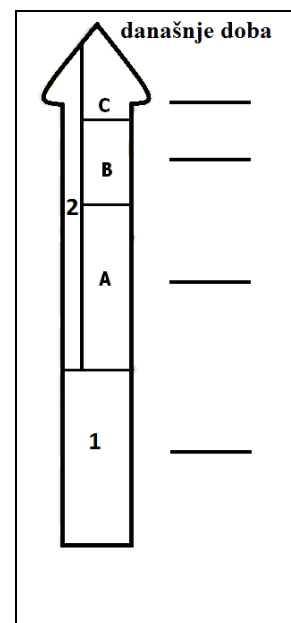
4. Na crte ispred geoloških razdoblja upiši odgovarajući broj ili slovo s priloženog grafičkog prikaza.

____ paleozoik
____ proterozoik
____ kenozoik
____ mezozoik

2

5. Na crte pokraj grafičkog prikaza upiši odgovarajuće slovo uz eru u kojoj je došlo do pojave:

A- formirana stara gromadna gorja Europe
B- pojava čovjeka



U SLJEDEĆIH SEDAM ZADATKA DOPUNI REČENICE.

2

6. Sjedište EU-a i NATO-a nalazi se u istom gradu u državi _____ (upiši ime države), a ime najvažnije luke te države je _____.

2

7. Monako je okružen državom _____ (upiši ime države), a po obliku vladavine je monarhija kojom vlada _____ (upiši titulu monarha).

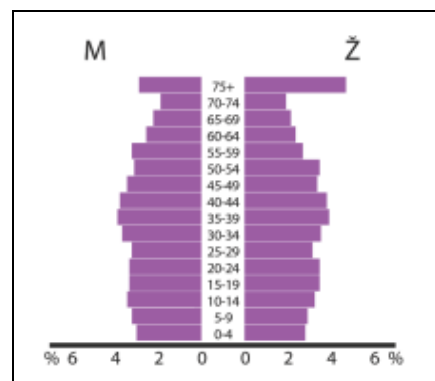
2

8. Rajna, najprometnija rijeka Europe, izvire u _____ (upiši ime države), a ulijeva se u _____ more.

- 2 9. Na klimu Europe veliki utjecaj ima topla _____ morska struja (upiši ime), koja omogućuje da se ruska morska luka Murmansk u _____ moru (upiši ime) ne zaleđuje.
- 1 10. Područje dvaju ili više sraslih gradova naziva se _____.
- 2 11. Na klimu u UK značajno utječu _____ vjetrovi, a prevladavajući tip klime u toj je državi _____ klima.
- 2 12. Najvažnija rijeka koja protječe kroz Parišku zavalu je _____ (upiši ime), a u jugozapadnom dijelu države najvažnija je rijeka _____ (upiši ime).
- 2 13. Proces okupljanja stanovništva i gospodarstva na obalama mora naziva se _____, a najjeftiniji oblik prometa za prijevoz velikih količina tereta između kontinenata je _____ promet.

U SVAKOM OD SLJEDEĆIH PET ZADATAKA U PAROVIMA POJMOVA KOJI SU PODEBLJANI I ODVOJENI KOSIM CRTAMA ZAOKRUŽI ONAJ POJAM KOJI JE TOČAN I DOPUNI REČENICE.

- 2 14. Pojava iseljavanja visokoobrazovanog stanovništva naziva se _____. Takvo je iseljavanje posljednjih godina karakteristično za **UK / Moldaviju**.
- 2 15. U početku industrijalizacije izvor energije koji se najviše koristio bio je _____, dok su u 21. stoljeću najvažniji izvori energije **nafta i zemni plin / obnovljivi izvori energije**.
- 3 16. Nizozemska ima nalazišta zemnog plina na području _____. Povećana kopnena površina za daljnje naseljavanje i poljoprivredu dobivena ograđivanjem i isušivanjem dijelova mora naziva se _____. Nekadašnja glavna luka, a danas glavni grad Nizozemske je **Amsterdam / Den Haag** koji se još naziva i Venecijom sjevera.
- 2 17. Najveća i najvažnija francuska morska luka je _____, u **Lionskom / Biskajskom** zaljevu.
- 2 18. Grafički prilog prikazuje stanovništvo UK-a prema _____. U UK u posljednjem desetljeću **smanjuje / povećava** se udio starog stanovništva.



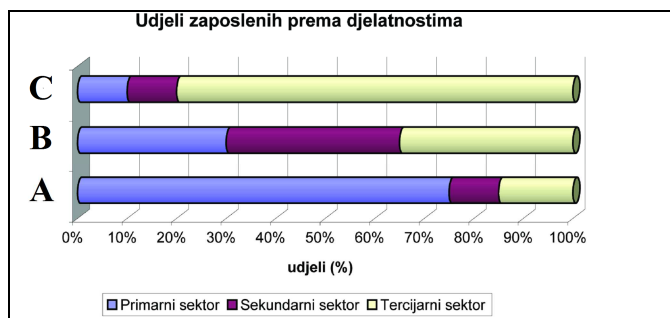
U SVAKOM OD SLJEDEĆA TRI ZADATKA JEDAN JE TOČAN ODGOVOR. ZAOKRUŽI SLOVO ISPRED TOČNOG ODGOVORA.

- 1 19. U kojoj je od navedenih država započela industrijska revolucija?
a) Francuska b) Njemačka c) Italija d) Belgija e) UK

- 1 20. Demografsku tranziciju karakterizira:
a) Prijelaz s visokih stopa rodnosti i smrtnosti na niske
b) Prijelaz s niske prirodne promjena na visoku
c) Prijelaz s visoke prirodne promjena na nisku
d) Prijelaz s niskih stopa rodnosti i smrtnosti na visoke

- 1 21. Dijagram prikazuje udjele zaposlenih prema sektorima djelatnosti u Europi 1880., 1950. i procjene za 2100. godinu.

Zaokruži slovo kojim je označena gospodarska struktura stanovništva za 2100. godinu.



U SVAKOM OD SLJEDEĆA TRI ZADATKA DVA SU TOČNA ODGOVORA.

ZAOKRUŽI SLOVA ISPRED TOČNIH ODGOVORA.


- 2 22. Koje među navedenim djelatnostima ubrajamo u sekundarni sektor?
a) industrija b) šumarstvo c) promet
d) turizam e) proizvodno zanatstvo f) uslužni obrti

- 2 23. Koje su od navedenih europskih država članice G-7?
a) Irska b) Belgija c) Njemačka d) Španjolska e) Italija f) Norveška

- 2 24. Koje su najznačajnije države Europe prema ulovu ribe?
a) Norveška b) Njemačka c) UK d) Island e) Švedska f) Nizozemska

SLJEDEĆE ZADATKE RIJEŠI UZ POMOĆ GRAFIČKIH PRILOGA. DOPUNI REČENICU I ZAOKRUŽI SLOVO ISPRED TOČNOG ODGOVORA.

- 2 25. Reljefni oblik koji nastaje procesom prikazanim na crtežu nazivamo _____, a visinom najveći takvi oblici karakteristični su za državu (zaokruži slovo uz točan odgovor):



- a) UK b) Nizozemsku c) Island d) Belgiju e) Luksemburg

- 2 26. Litosferne ploče koje svojim pokretima utječu na oblikovanje reljefa južne i jugoistočne Europe su Afrika i _____ litosferna ploča.
Zaokruži slovo ispod vrste pokreta litosfernih ploča zbog kojeg su nastale ulančane planine na jugu Europe.



A

B

C

2

27. Prema pročelju kojem pripadaju upiši imena dvaju mora u svaki grafički prikaz.

Zapadno morsko i obalno pročelje		Sjeverno morsko i obalno pročelje	

Sjeverno

Egejsko

Norveško

Barentsovo

Bijelo

Tirensko

U SLJEDEĆA DVA ZADATKA POVEŽI SREDNJI I DESNI STUPAC S LIJEVIM UPISIVANJEM PRIPADAJUĆEG BROJA I SLOVA NA CRTU ISPRED POJMOVA U LIJEVOM STUPCU. JEDAN BROJ I JEDNO SLOVO SU VIŠAK.

3

28. Poveži navedene države i mora s rijekama čija su ušća na njihovom području.

- | | | |
|------------|----------------|---------------------|
| _____ Ebro | 1 - Portugal | A - Sredozemno more |
| _____ Elbe | 2 - Španjolska | B - Atlantski ocean |
| _____ Tejo | 3 - Njemačka | C - Sjeverno more |
| | 4 - Poljska | D - Baltičko more |

3

29. Poveži navedene tipove klime i biljne zajednice s pripadajućim vegetacijskim pokrovom.

- | | | |
|--------------|--------------------------|------------------------------------|
| _____ tundra | 1 - klima tundre | A - lišajevi, mahovine |
| _____ tajga | 2 - sredozemna klima | B - vazdazelena šuma |
| _____ makija | 3 - snježno-šumska klima | C - vazdazelena šikara |
| | 4 - klima vječnog mraza | D - travnata područja niskih trava |

U SLJEDEĆA DVA ZADATKA POVEŽI DESNI STUPAC S LIJEVIM UPISIVANJEM SAMO JEDNOG SLOVA NA CRTE ISPRED POJMOVA U LIJEVOM STUPCU. DVA SLOVA SU VIŠAK.

3

30. Poveži opise s pripadajućim pojmovima.

- | | |
|-------------|---|
| _____ fjeld | A - uski duboki morski zaljev nastao potapanjem ledenjačke doline |
| _____ rijas | B - reljefni oblik nastao akumulacijom raspadnutog ledenjačkog materijala |
| _____ fjord | C - stjenovita visoravan nastala djelovanjem ledenog pokrova |
| | D - zaljev strmih obala nastao potapanjem nekadašnjih riječnih dolina |
| | E - udubljenje strmih strana, nastalo radom snijega i leda, mjesto nastanka ledenjaka |

3

31. Poveži obilježja s pripadajućim gradovima.

_____ Edinburgh

_____ Aberdeen

_____ Glasgow

A - glavni grad Škotske

B - luka i centar ribarske industrije na obali Sjevernog mora

C - glavni grad Sjeverne Irske

D - važna luka na Irskom moru

E - najveći grad Škotske

SLJEDEĆA ČETIRI ZADATKA RIJEŠI UZ POMOĆ KARTE.

3

32. Na karti u odgovarajuće kvadratiće upiši slova

A - rt Roca

B - rt Tarifa

C - rt Kinnarodden

1

33. Koji prolaz je označen brojem 1 na karti?

2

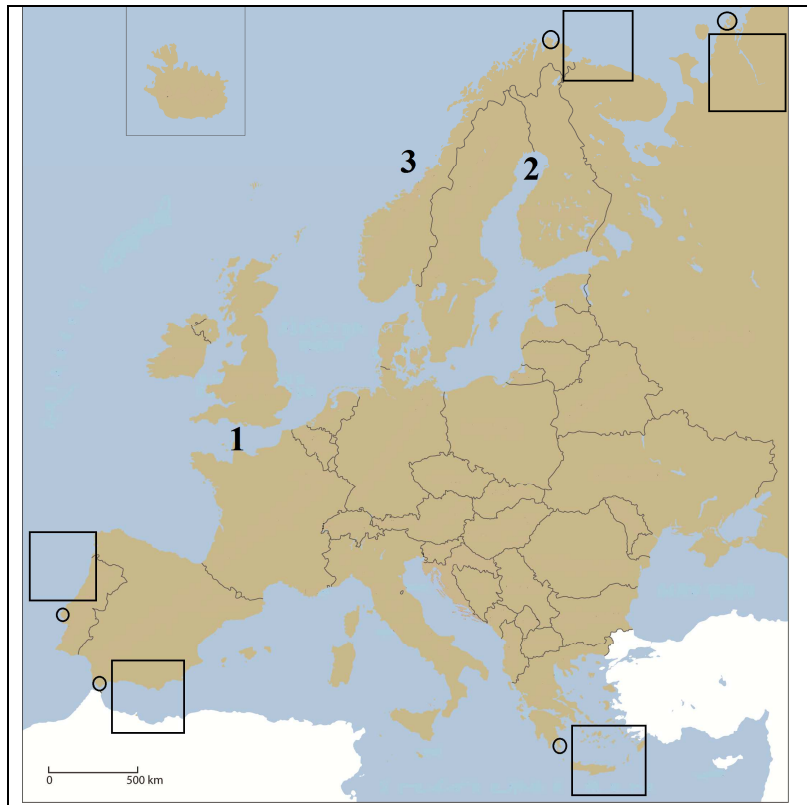
34. Na crte uz brojeve upiši imena zaljeva i mora označenih na karti

2 - _____

(zaljev)

3 - _____

(more)



2

35. U području označenom na karti brojem 1 službeni jezik je _____ jezik, a u području označenom na karti brojem 2 službeni jezik je _____ jezik.

