

ŽUPANIJSKO NATJECANJE IZ GEOGRAFIJE 2012. GODINE

Razred ili kategorija natjecanja: **6. razred**

Zaporka

--	--	--	--	--

Broj postignutih bodova ____ / 70

Potpis članova Županijskog povjerenstva

1. _____

2. _____

3. _____

Mjesto i nadnevak: _____

Za rješavanje zadataka predviđeno je 60 minuta.

Test se rješava kemijskom olovkom s plavom tintom koja se ne briše. Uporaba obične olovke i crvene ili neke druge boje tinte (osim plave) rezultira diskvalifikacijom učenika.

Pri rješavanju testa treba primijeniti jezičnu normu standardnoga hrvatskoga jezika, posebice treba poštivati pravopisna pravila o pisanju velikoga i maloga početnoga slova geografskih imena. Geografska imena čije je podrijetlo iz drugih (stranih) jezika moraju biti napisana u izvornom obliku (transkribirana na latinicu), npr. New York, Stuttgart, Loire...

Odgovori učenika moraju biti čitljivo napisani pisanim slovima (osim u zadacima u kojima je odgovor jedno slovo).

Za vrijeme testiranja ne smije se koristiti ništa osim navedenoga pribora za pisanje. Ova odredba podrazumijeva da natjecatelji ne smiju kod sebe (na sebi, ispod, u svojoj odjeći i slično) imati predmete koji na bilo koji način mogu dovesti u sumnju pravilno provođenje natjecanja. Učenici se ne smiju služiti atlasom, zidnom kartom ni računalom. Kartografski i grafički prilozi nužni za rješavanje zadataka sastavni su dio testa.

Potpuno ispravno riješeni zadaci, prema uputi za rješavanje vrednuju se s jednim, dva ili tri boda. U djelomično ispravno riješenim zadacima boduju se ispravno riješene čestice, ako u njima nije bilo korekcije odgovora. Netočno riješeni zadaci i naknadno ispravljeni odgovori te odgovori koji su pisani tiskanim slovima ili kombinacijom tiskanih i pisanih slova ne vrednuju se.

SLJEDEĆA ČETIRI ZADATKA RIJEŠI UZ POMOĆ PRILOŽENE TABLICE.

- 3** 1. Izračunaj prosječnu gustoću naseljenosti Japana, Republike Južne Afrike i Saudijske Arabije za 2010. godinu, a dobivene podatke upiši u odgovarajuće polje u tablici (podatke zaokruži na cijele brojeve).

	Japan	Republika Južna Afrika	Saudijska Arabija
Površina u km ²	378 000	1 219 000	2 150 000
Broj stanovnika	128 000 000	49 000 000	25 000 000
Gustoća naseljenosti stan/km ²			
BDP po stanovniku u USD			

Prostor za računanje

- 3** 2. Navedene brojčane podatke o bruto domaćem proizvodu po stanovniku u USD za 2010. godinu poveži sa zemljama u tablici i upiši u odgovarajuće polje u tablici (jedan podatak je višak):
484; 10 486; 22 545; 33 994

- 3** 3. Na svaku crtu upiši puna imena država iz tablice prema poretku od najveće do najmanje vrijednosti.
 a) prema veličini teritorija

b) prema prosječnoj naseljenosti

c) prema razvijenosti

- 1** 4. Boja koju trebaš upotrijebiti pri izradi zastave svake države iz tablice je _____.

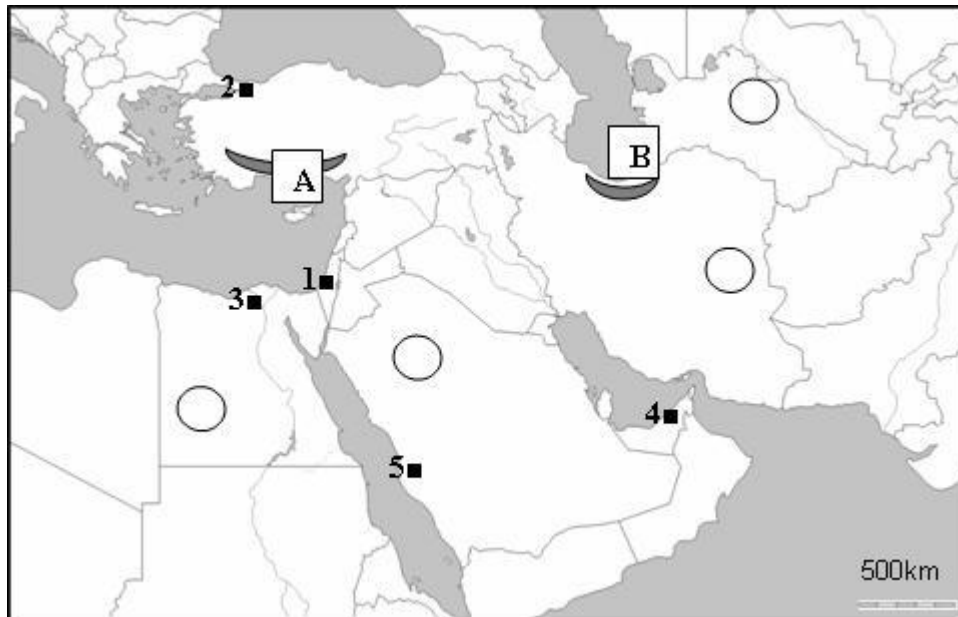
U SLJEDEĆEM ZADATKU TRI SU POGREŠNA POJMA. ZAOKRUŽI IH U TEKSTU, UPIŠI NA OZNAČENO MJESTO U TABLICI TE NA OZNAČENO MJESTO UPIŠI TOČNE POJMOVE.

- 3** 5. Pažljivo pročitaj tekst o vjetrovima u Africi i riješi zadatak prema uputi.

Od povremenih vjetrova na klimu u Africi najviše utječu pasati. U umjerenom pojasu od obratnica prema ekvatoru pušu pasati. S obzirom na raspodjelu kopna i mora, u Africi su sjeveroistočni pasati suhi, a jugoistočni pasati su vlažni. Ljetni jugozapadni vjetrovi s Gvinejskog zaljeva važni su za suhi stepski pojas sjeverno od Sahare jer donose padaline.

POGREŠAN POJAM	TOČAN POJAM

SLJEDEĆIH SEDAM ZADATAKA RIJEŠI UZ POMOĆ PRILOŽENE GEOGRAFSKE KARTE JUGOZAPADNE AZIJE.



3 6. Na crtu ispod fotografije upiši broj s geografske karte koji se nalazi uz crni kvadratić, a predstavlja azijski grad u kojem se nalazi pojedina građevina (dva kvadratića na karti su višak).



3 7. Redoslijedom od lijeva na desno upiši imena gradova u kojima se nalaze građevine prikazane na fotografijama u 6. zadatku: _____.

2 8. U kružice na karti upiši slova za pustinje (dva kružića na karti su višak):
N – Nefud **K** – Karakum

2 9. Slova na karti označavaju planine:
A - _____ **B** - _____

2 10. Ime države u kojoj sa nalazi planina označena na karti slovom **B** je _____, a najzastupljenija vjera u toj državi je _____.

1 11. Fotografija desno snimljena je u _____ (upiši ime države), u gradu Gizi.

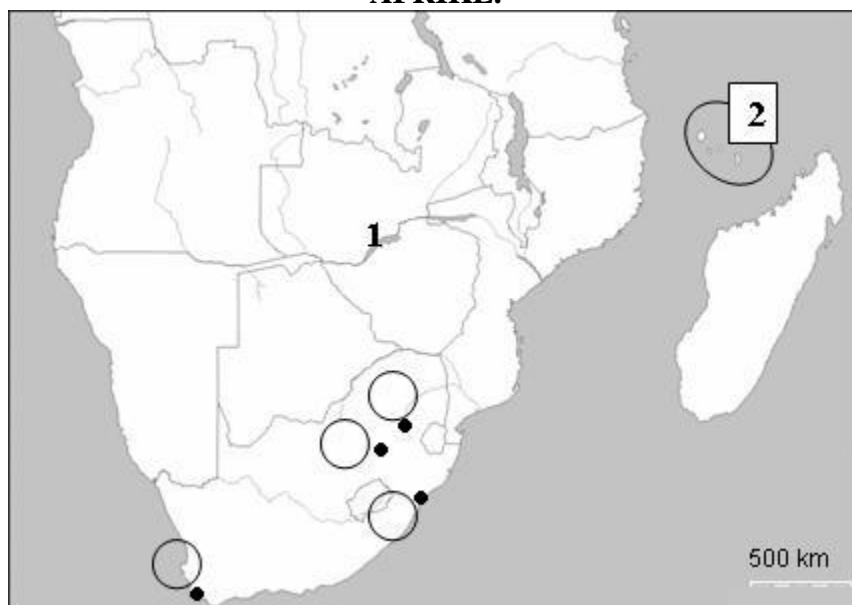


1 12. Najveće prirodno bogatstvo koje donosi zaradu državam Jugozapadne Azije je _____.

**U SVAKOM OD SLJEDEĆA ČETIRI ZADATKA DVA SU ODGOVORA TOČNA. ZAOKRUŽI SLOVA
ISPRED TOČNIH ODGOVORA.**

13. Koje od navedenih rijeka pripadaju slijevu Indijskog oceana?
a) Kongo b) Limpopo c) Niger d) Oranje e) Zambezi
14. U kojim od navedenih afričkih država bijelci danas čine većinu stanovnika?
a) u Alžiru b) u Gani c) u Egiptu d) u Južnoj Africi e) u Tanzaniji
15. Koji se od navedenih afričkih glavnih gradova nalaze na obali Atlantskog oceana?
a) Abuja b) Accra c) Adis Abeba d) Dakar e) Kartum
16. Koje su od navedenih najvažnije kulture za prehranu stanovništva tropske Afrike?
a) datulja b) jam c) ječam d) kasava e) kukuruz

**SLJEDEĆIH PET ZADATAKA RIJEŠI UZ POMOĆ PRILOŽENE GEOGRAFSKE KARTE DIJELA
AFRIKE.**



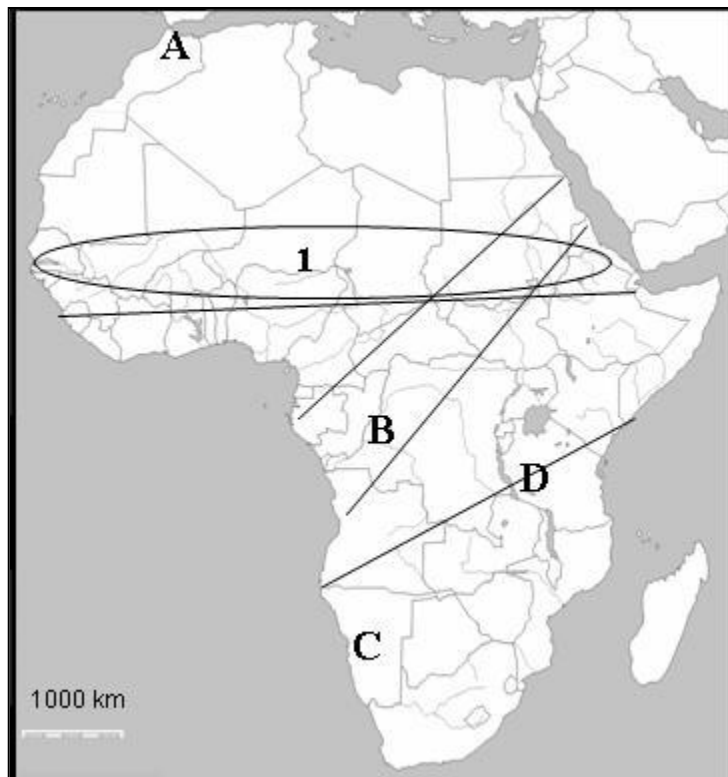
17. Ime jezera označenog na karti brojem 1 je _____ koje je _____ postanka.
18. Ime otočja označenog na karti brojem 2 je _____, a nalazi se u _____ kanalu.
19. Na kartu strelicom ucrtaj hladnu morską struju koja utječe na sušnost pustinje Namib. Ta hladna morską struja zove se _____.
20. U odgovarajuće kružiće na karti upiši slova za sljedeće gradove Republike Južne Afrike (dva kružića su višak): **C** – Cape Town **D** – Durban
21. Danas, 6. ožujka, na dan županijskog natjecanja iz geografije u Cape Townu je _____ (upiši naziv godišnjeg doba).

U SLJEDEĆIH PET ZADATAKA POVEŽI PAROVE UPISIVANJEM SLOVA NA CRTU ISPRED PONUĐENIH ODGOVORA. TRI CRTE MORAJU OSTATI PRAZNE.

- 2** 22. Navedene poljoprivredne kulture pridruži državama koje su glavni afrički proizvođači tih kultura.
A) kakao **B) čaj**
 ___ Burundi ___ Etiopija ___ Gana ___ Kenija ___ Sudan
- 2** 23. Navedene događaje pridruži odgovarajućim godinama.
A) dovršeno prokopavanje Sueskog kanala **B) crnci u JAR-u dobili građanska prava**
 ___ 1869. g. ___ 1896. g. ___ 1986. g. ___ 1994. g. ___ 2004. g.
- 2** 24. Navedene države pridruži otocima koji im pripadaju.
A) Filipini **B) Indonezija**
 ___ Luzon ___ Sahalin ___ Sulawesi ___ Šri Lanka ___ Tajvan
- 2** 25. Navedena objašnjenja pridruži odgovarajućim pojmovima.
A) sprava koja bilježi potrese **B) valovi izazvani potresima u podmorju**
 ___ izoseiste ___ seizmograf ___ seizmologija ___ tsunami ___ vulkanologija
- 2** 26. Navedena objašnjenja pridruži imenima afričkih gradova.
A) glavni grad Egipta **B) odredište islamskih hodočasnika u Maroku**
 ___ Al-Iskandariyah (Aleksandrija) ___ Ad-Dar-Al-Bayda (Casablanca) ___ Fas (Fes)
 ___ Al-Jizah (Giza) ___ Al-Qahira (Kairo)

SLJEDEĆA ČETIRI ZADATKA RIJEŠI UZ POMOĆ PRILOŽENE GEOGRAFSKE KARTE AFRIKE.

- 1** 27. Cijelom dužinom podebljaj jednu od 4 crte ucrtane na karti desno koja odvaja visoku od niske Afrike.
- 1** 28. Ime stepskog područja južno od Sahare označenog brojkom **1** na karti je _____.
- 2** 29. Upiši broj **2** u najistočniju kopnenu afričku državu. Njezino ime je _____.
- 2** 30. Slova s karte koja se nalaze u područjima biljnog pokrova prikazanog na fotografijama upiši na crte ispod njih (dva slova su višak).



U SLJEDEĆA DVA ZADATKA POVEŽI DESNI STUPAC S LIJEVIM UPISIVANJEM SLOVA NA CRTU ISPRED POJMOVA U LIJEVOM STUPCU. JEDNO JE SLOVO VIŠAK.

2 31. Navedene tipove klima pridruži pripadajućim gradovima.

- | | |
|---------------|---------------|
| ___ Istanbul | A) monsunska |
| ___ Mumbai | B) prašumska |
| ___ Ar-Riyad | C) pustinjska |
| ___ Singapore | D) sinijska |
| | E) sredozemna |

2 32. Navedena objašnjenja pridruži pripadajućim narodima.

- | | |
|-------------|-----------------------------------|
| ___ Ainu | A) najbrojniji narod u Gani |
| ___ Ašanti | B) nomadsko stanovništvo Sahare |
| ___ Buri | C) potomci Nizozemaca u JAR-u |
| ___ Pigmeji | D) stanovnici Hokkaida |
| | E) stasom najniži ljudi na Zemlji |

U SLJEDEĆA TRI ZADATKA DOPUNI REČENICE.

2 33. Najviši vrh na Zemlji je Sagarmatha i nalazi se u državi _____, a najviši vrh Afrike je _____ (*upiši ime vrha*) i nalazi se u državi Tanzaniji.

2 34. Za vrijeme puhanja ljetnog monsuna koji Indiji donosi _____ vrijeme (*upiši kišovito ili suho*) iznad indijskog kopna je _____ tlak zraka (*upiši niski ili visoki*).

2 35. Odrednica prirodnoga kretanja stanovništva koja pokazuje broj rođenih u nekom razdoblju naziva se _____, a broj umrlih u godinu dana na svakih tisuću stanovnika pokazuje _____.