
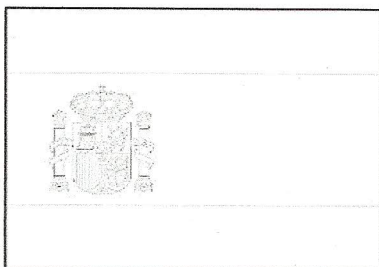
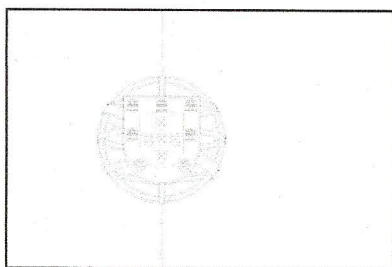


Španjolska, Portugal, Andora

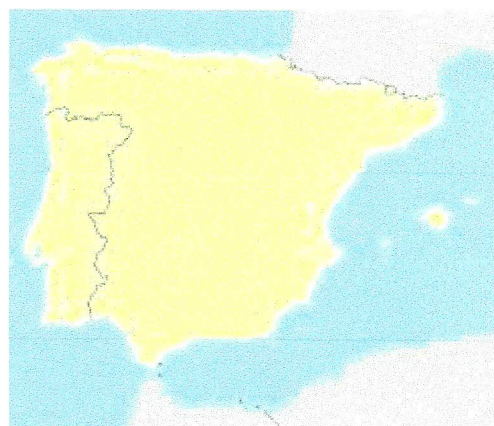
RADNI LIST

1. Pred tobom su tri zastave. Prepoznaj koja pripada kojoj zemlji, a zatim ih oboji.



2. Ovo je karta Pirenejskog poluotoka, a tvoj je zadatak:

- a) Oboji Andoru u plavo
- b) Označi Mesetu i Pireneje
- c) Označi grad Porto
- d) Označi glavne gradove trima državama



3. Zaokruži T ili N.

- U Španjolskoj prevladava samo sredozemna klima. T N
Portugal je poznat po zimzelenom hrastu. T N
Glavni grad Andore je Bilbao. T N
Biskupija Urgel nalazi se u Španjolskoj. T N

4. Dopuni rečenice.

Andora živi uglavnom od _____.

Portugalci su ponosni na grad _____u kojemu se proizvodi istoimeno vino.

Regija _____ se želi odvojiti od Španjolske. *Oboji ju u crveno na karti.*