

20. ŽUPANIJSKO NATJECANJE IZ GEOGRAFIJE 2013. GODINE

Razred ili kategorija natjecanja: 8. razred

Zaporka

--	--	--	--	--

Broj postignutih bodova ____ / 70

Potpis članova Županijskog povjerenstva

1. _____

2. _____

3. _____

Mjesto i nadnevak: _____

Za rješavanje zadataka predviđeno je 60 minuta.

Test se rješava kemijskom olovkom s plavom tintom koja se ne briše. Uporaba obične olovke i crvene ili neke druge boje tinte (osim plave) rezultira diskvalifikacijom učenika.

Pri rješavanju testa treba primijeniti jezičnu normu standardnoga hrvatskoga jezika, posebice treba poštivati pravopisna pravila o pisanju velikoga i maloga početnoga slova geografskih imena. Za pisanje geografskih imena u testovima i praktičnim radovima primjenjuje se *Popis geografskih imena* izrađen za potrebe natjecanja.

Odgovori učenika moraju biti čitljivo napisani pisanim slovima, osim u zadacima u kojima je odgovor jedno slovo.

Za vrijeme testiranja ne smije se koristiti ništa osim navedenoga pribora za pisanje. Ova odredba podrazumijeva da natjecatelji ne smiju kod sebe (na sebi, ispod, u svojoj odjeći i slično) imati predmete koji na bilo koji način mogu dovesti u sumnju pravilno provođenje natjecanja. Učenici se ne smiju služiti atlasom, zidnom kartom ni računalom. Kartografski i grafički prilozi nužni za rješavanje zadataka sastavni su dio testa.

Učenicima se dopušta pisanje po marginama ispitnog materijala bez oduzimanja bodova i/ili diskvalifikacije.

Potpuno ispravno riješeni zadaci, prema uputi za rješavanje vrednuju se s jednim, dva ili tri boda. U djelomično ispravno riješenim zadacima boduju se ispravno riješene čestice, ako nije bilo korekcije odgovora u tim česticama. Netočno riješeni zadaci i naknadno ispravljeni odgovori te odgovori koji su pisani tiskanim slovima ili kombinacijom tiskanih i pisanih slova, kao i odgovori u zagradama ne vrednuju se.

**U SVAKOM OD SLJEDEĆA TRI ZADATKA JEDAN JE TOČAN ODGOVOR.
ZAOKRUŽI SLOVO UZ TOČAN ODGOVOR.**

- 1** 1. Među navedenima, skupina jezika kojoj pripada hrvatski jezik je:
a) germanska b) ugro-finska c) romanska d) slavenska
- 1** 2. Među navedenima, krško polje čiji je teritorij podijeljen između Hrvatske i Bosne i Hercegovine je:
a) Imotsko polje b) Vrgoračko polje c) Petrovo polje d) Sinjsko polje
- 1** 3. Među navedenima, najsjevernija rijeka Jadranskog slijeva je:
a) Cetina b) Zrmanja c) Krka d) Čikola

**U SVAKOM OD SLJEDEĆA ČETIRI ZADATKA DVA SU ODGOVORA TOČNA.
ZAOKRUŽI SLOVA UZ TOČNE ODGOVORE.**

- 2** 4. Među navedenim prostorima Republike Hrvatske, umjereno toplu klimu s vrućim ljetom (Cfa) imaju:
a) zapadna obala Istre b) Gacko polje c) otok Mljet d) Hrvatsko zagorje e) Sinjsko polje
- 2** 5. Među navedenim prostorima RH, rijasi su:
a) Kaštelanski zaljev b) Bakarski zaljev c) Limski zaljev d) Telašćica e) Raški zaljev
- 2** 6. Među navedenima, točne tvrdnje o stanovništvu Republike Hrvatske prema Popisu stanovništva RH iz 2011. godine i Statističkom ljetopisu Hrvatske 2012. su:
a) u ukupnom stanovništvu RH više je muškog nego ženskog stanovništva
b) prema vjerskom sastavu manje od 70% ukupnog stanovništva RH su katolici
c) najviše zaposlenih u RH radi u tercijarnom sektoru djelatnosti
d) najbrojnija dobna skupina u RH je zrelo stanovništvo
e) najbrojnija nacionalna manjina u RH su Bošnjaci
- 2** 7. Među navedenima, autohtone i najzastupljenije sorte vinove loze u Istri su:
a) malvazija b) plavac mali c) žlahtina d) teran e) babić

**U SLJEDEĆEM ZADATKU TRI SU POGREŠNA POJMA. PRONAĐI IH U TEKSTU,
UPIŠI U TABLICU TE PORED NJIH UPIŠI TOČNE POJMOVE.**

- 3** 8. Pažljivo pročitaj tekst o primarnom sektoru Primorske Hrvatske i riješi zadatak kao što je napisano u napatku.

Primorska Hrvatska ima malo obradivih površina. U pojedinim dijelovima Primorske Hrvatske bilo je potrebno provesti pasterizaciju tj. izgradnju sustava navodnjavanja ili odvodnjavanja zemljišta sa ciljem povećanja obradivih površina.

Među granama stočarstva najzastupljenije je ovčarstvo intenzivnog tipa. Uzgoj ovaca je karakterističan za otoke Sjevernog hrvatskog primorja i Dalmatinsku zagoru.

Ribarstvo je gospodarska djelatnost koja u Primorskoj Hrvatskoj ima izrazito dugu tradiciju. U ukupnoj količini ulova morskih organizama iz Jadranskog mora prevladava ulov bijele ribe.

POGREŠAN POJAM	TOČAN POJAM

U SLJEDEĆA TRI ZADATKA POVEŽI PAROVE UPISIVANJEM SLOVA NA CRTU ISPRED PONUĐENIH ODGOVORA. TRI CRTE MORAJU OSTATI PRAZNE.

- 2** **9.** Navedena objašnjenja procesa vezanih za stanovništvo poveži s nazivima procesima.
A) napuštanje sela kao mjesta stanovanja **B) starenje stanovništva**
 ____ depopulacija ____ litoralizacija ____ senilizacija ____ deruralizacija ____ deagrarizacija

- 2** **10.** Navedene hrvatske nacionalne manjine poveži sa državama u kojima žive.
A) gradišćanski Hrvati **B) karaševski Hrvati**
 ____ Srbija ____ Rumunjska ____ Slovenija ____ Austrija ____ Italija

- 2** **11.** Navedene hrvatske gradove poveži s otocima na kojima se nalaze.
A) Vela Luka **B) Komiža**
 ____ Vis ____ Hvar ____ Brač ____ Korčula ____ Šolta

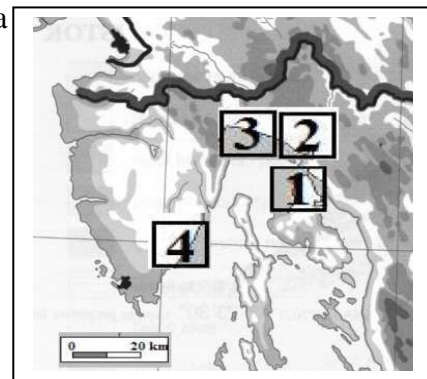
U SLJEDEĆA DVA ZADATKA POVEŽI SREDNJI I DESNI STUPAC/KARTU S LIJEVIM UPISIVANJEM PRIPADAJUĆEG SLOVA I BROJA NA CRTU ISPRED POJMOVA U LIJEVOM STUPCU. JEDNO SLOVO I JEDAN BROJ SU VIŠAK.

- 3** **12.** Poveži geografske koordinate krajnjih kopnenih točaka Hrvatske i ime županije u kojoj se nalaze sa stranama svijeta na kojima se nalaze.

_____ najsjevernija točka RH	A - 42° 24' s.g.š. / 18° 32' i.g.d.	1 - Istarska
_____ najistočnija točka RH	B - 45° 12' s.g.š. / 19° 27' i.g.d.	2 - Dubrovačko-neretvanska
_____ najzapadnija točka RH	C - 45° 29' s.g.š. / 13° 30' i.g.d.	3 - Međimurska
	D - 46° 33' s.g.š. / 16° 22' i.g.d.	4 - Vukovarsko-srijemska

- 3** **13.** Poveži vrstu tereta koja se prevozi i geografski položaj lučkih bazena riječkog lučkog kompleksa s nazivima lučkih bazena.

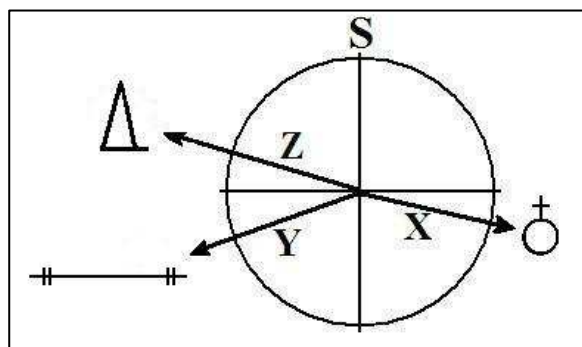
_____ Riječko-sušački	A - rasuti i sipki tereti
_____ Raški	B - nafta
_____ Omišaljki	C - putnici, kontejneri
	D - stoka, drvo



SLJEDEĆA TRI ZADATKA RIJEŠI UZ POMOĆ PRILOŽENIH GRAFIČKIH PRILOGA.

- 3** **14.** Poveži azimute i topografske znakove s pravcima X, Y i Z upisivanjem jednog slova i jednog broja na crtu uz oznaku X, Y i Z. Dva slova i dva broja su višak.

_____ X	A - 316°	1 - kapelica
_____ Y	B - 87°	2 - žičara
_____ Z	C - 248°	3 - crkva
	D - 288°	4 - spomenik
	E - 104°	5 - željeznička pruga-dva kolosjeka

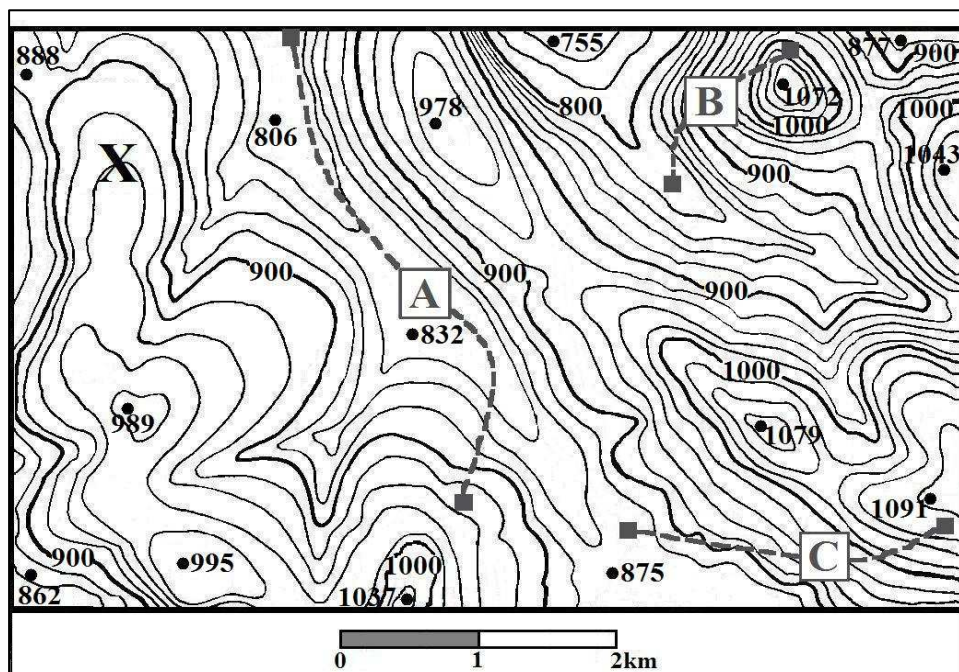


Popis stanovništva, kućanstava i stanova 2011. godine							prostor za računanje
gradovi Varaždinske županije	ukupan broj stanovnika	broj rođenih	broj umrlih	prirodna promjena	stopa rodnosti (‰)	stopa smrtnosti (‰)	
Ivanec	13 758	138	178	- 40	10,03	12,93	
Lepoglava	8 283	64	105	- 41	7,72	12,67	
Ludbreg	8 478	76	100	- 24	8,96	11,79	
Novi Marof	13 246	109	164	- 55	8,22	12,38	
Varaždin	46 946	403	522	- 119	8,58	11,12	
Varaždinske Toplice	6 346	63	65	- 2	9,92	10,24	

2 15. Ime grada Varaždinske županije u kojem je 2011. godine zabilježena najveća stopa smrtnosti je _____, a ime grada u kojem je zabilježena najmanja stopa rodnosti je _____.

2 16. Ime grada u kojem je zabilježena najveća stopa prirodnog pada je _____ i iznosi _____ (na dvije decimale), a ime grada s najmanjom stopom prirodnog pada je _____ i iznosi _____ (na dvije decimale).

SLJEDEĆA ČETIRI ZADATKA RIJEŠI ANALIZOM PRILOŽENOG GRAFIČKOG PRIKAZA.



2 17. Nadmorska visina izohipse označene slovom X iznosi _____, a izohipsa najviše nadmorske visine iznosi _____.

1 18. Ekvidistanca na priloženom isječku karte iznosi _____.

1 19. Slovom i isprekidanim crtama na karti su označene pješačke staze. Upisivanjem slova na crte poredaj ih po nagibu terena od najstrmije do pješačke staze s najmanjim nagibom. Redom _____, _____, _____.

1 20. Ako je mjerilo izvorne karte 1:50 000, a duljina pješačke staze C na karti iznosi 44 mm, kolika je njena duljina u stvarnosti izražena u metrima?

Duljina pješačke staze C u stvarnosti iznosi _____ m.

Prostor za računanje

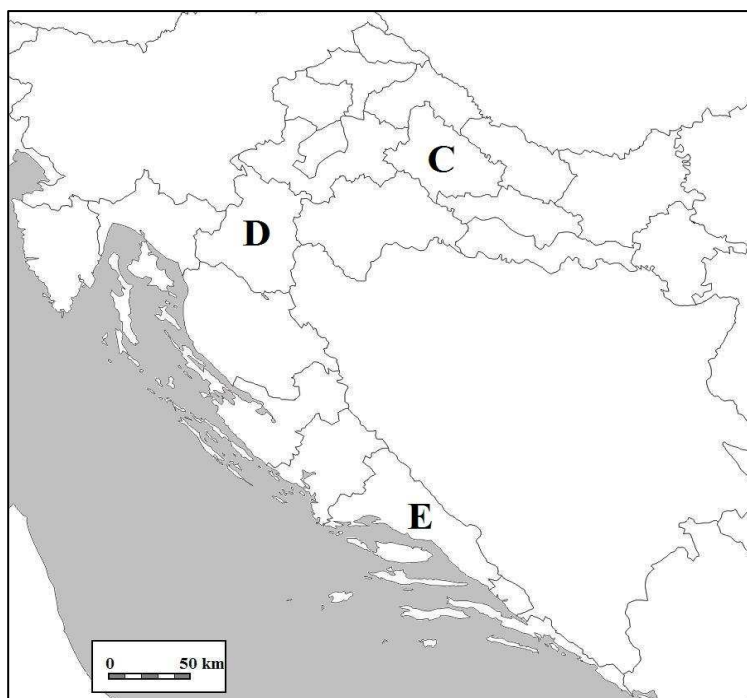
SLJEDEĆA TRI ZADATKA RIJEŠI UZ POMOĆ PRILOŽENE KARTE ŽUPANIJA REPUBLIKE HRVATSKE.

- 2** **21.** Upiši slovo **A** na karti u prostor županije kroz koju protječu i Dunav i Drava. Ime županije je _____.

- 2** **22.** Upiši slovo **B** na karti u prostor županije u kojoj se nalazi najviši vrh Hrvatske. Ime županije je _____.

- 3** **23.** Na karti su slovima označene tri županije.

Ime županije označene slovom **C** je _____ županija, ime županije označene slovom **D** je _____ županija, a ime županije označene slovom **E** je _____ županija.



U SLJEDEĆA TRI ZADATKA DOPUNI REČENICE.

- 3** **24.** Prema popisu stanovništva RH iz 2011. godine, imena triju županija koje, uz Grad Zagreb, imaju najveću gustoću naseljenosti u RH (više od 105 st/km²) su _____, _____ i _____.

- 2** **25.** Na crte uz opise upiši imena organizacija u čijem je punopravnom članstvu RH.

Međunarodna organizacija osnovana 1949. godine sa sjedištem u Strasbourgu čiji su glavni zadatci jačanje demokracije i vladavina prava, te zaštita ljudskih prava u Europi. Organizacija ima 47 država članica, među kojima je od 1996. godine i Republika Hrvatska.

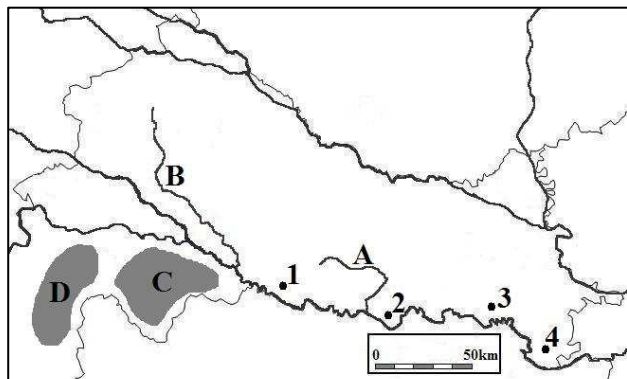
Ime te međunarodne organizacije je _____.

Regionalna organizacija osnovana 1978. godine koju čine Gradišće, Koruška, Štajerska, Furlanija, Lombardija, Veneto, Vas, Republika Slovenija i Republika Hrvatska. Cilj organizacije je razvijanje suradnje i razmjena između članica na području turizma, sporta, zaštite okoliša, povezivanja gradova, očuvanja kulturnog i rekreacijskog prostora, informiranja i podrške u pristupanju europskim integracijama. Ime te regionalne organizacije je _____.

- 2** **26.** Ime grada koji je županijsko središte Istarske županije je _____, a ime grada koji je županijsko središte Ličko-senjske županije je _____.

SLJEDEĆA TRI ZADATKA RIJEŠI UZ POMOĆ PRILOŽENE KARTE PANONSKE HRVATSKE.

2 27. Na karti su slovima A i B označene dvije rijeke. Ime rijeke označene slovom A je _____, a ime rijeke označene slovom B je _____.

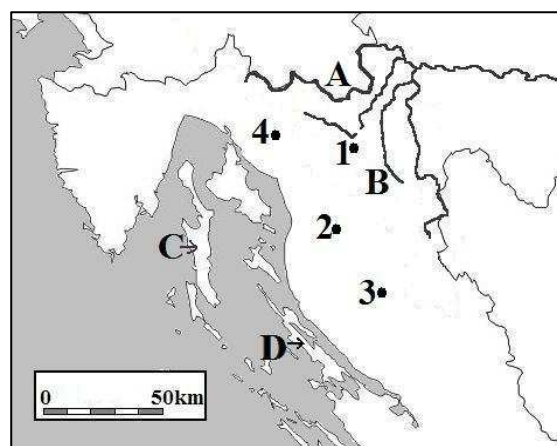


2 28. Na karti su zatamnjeno i slovima C i D označena područja dviju tradicionalnih regija. Ime regije označene slovom C je _____, a ime regije označene slovom D je _____.

2 29. Ime ribnjaka smještenih 30 kilometara zapadno od Slavenskog Broda je _____, a na priloženoj karti označeni su brojem _____.

SLJEDEĆA TRI ZADATKA RIJEŠI UZ POMOĆ PRILOŽENE KARTE GORSKE HRVATSKE I DIJELA PRIMORSKE HRVATSKE.

2 30. Na karti su slovima A i B označene dvije rijeke. Ime rijeke označene slovom A je _____, a ime rijeke označene slovom B je _____.

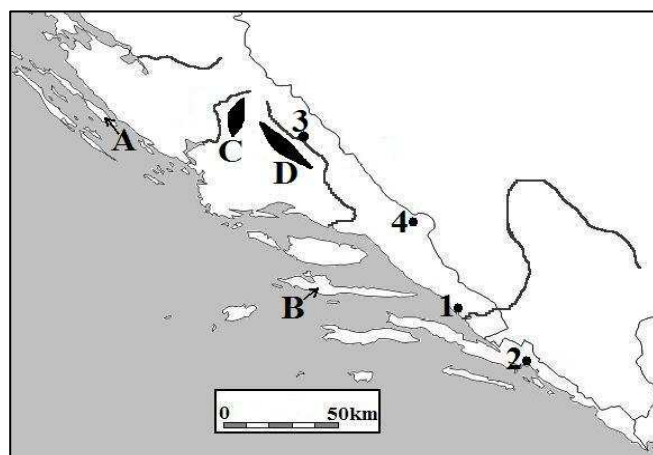


2 31. Na karti su strelicama i slovima označena dva otoka. Ime otoka označenog slovom C je _____, a ime otoka označenog slovom D je _____.

2 32. Ime akumulacijskog jezera smještenog 3 kilometra južno od Ogulina je _____ i na priloženoj karti označeno je brojem _____.

SLJEDEĆA TRI ZADATKA RIJEŠI UZ POMOĆ PRILOŽENE KARTE DIJELA PRIMORSKE HRVATSKE.

2 33. Na karti su strelicama i slovima označene dva otoka. Ime otoka označenog slovom A je _____, a ime otoka označenog slovom B je _____.



2 34. Na karti su zatamnjeno i slovima C i D označena područja dviju planina. Ime planine označene slovom C je _____, a ime planine označene slovom D je _____.

2 35. Ime najdubljeg prirodnog jezera u Hrvatskoj je _____ i na priloženoj karti označeno je brojem _____.