

## 20. ŽUPANIJSKO NATJECANJE IZ GEOGRAFIJE 2013. GODINE

Razred ili kategorija natjecanja:

6. razred

Zaporka

--	--	--	--	--

\_\_\_\_\_

Broj postignutih bodova \_\_\_\_ / 70

Potpis članova Županijskog povjerenstva

1. \_\_\_\_\_

2. \_\_\_\_\_

3. \_\_\_\_\_

Mjesto i nadnevak: \_\_\_\_\_

Za rješavanje zadataka predviđeno je 60 minuta.

Test se rješava kemijskom olovkom s plavom tintom koja se ne briše. Uporaba obične olovke i crvene ili neke druge boje tinte (osim plave) rezultira diskvalifikacijom učenika.

Pri rješavanju testa treba primijeniti jezičnu normu standardnoga hrvatskoga jezika, posebice treba poštivati pravopisna pravila o pisanju velikoga i maloga početnoga slova geografskih imena. Za pisanje geografskih imena u testovima i praktičnim radovima primjenjuje se *Popis geografskih imena* izrađen za potrebe natjecanja.

Odgovori učenika moraju biti čitljivo napisani pisanim slovima, osim u zadacima u kojima je odgovor jedno slovo.

Za vrijeme testiranja ne smije se koristiti ništa osim navedenoga pribora za pisanje. Ova odredba podrazumijeva da natjecatelji ne smiju kod sebe (na sebi, ispod, u svojoj odjeći i slično) imati predmete koji na bilo koji način mogu dovesti u sumnju pravilno provođenje natjecanja. Učenici se ne smiju služiti atlasom, zidnom kartom ni računalom. Kartografski i grafički prilozi nužni za rješavanje zadataka sastavni su dio testa.

Učenicima se dopušta pisanje po marginama ispitnog materijala bez oduzimanja bodova i/ili diskvalifikacije.

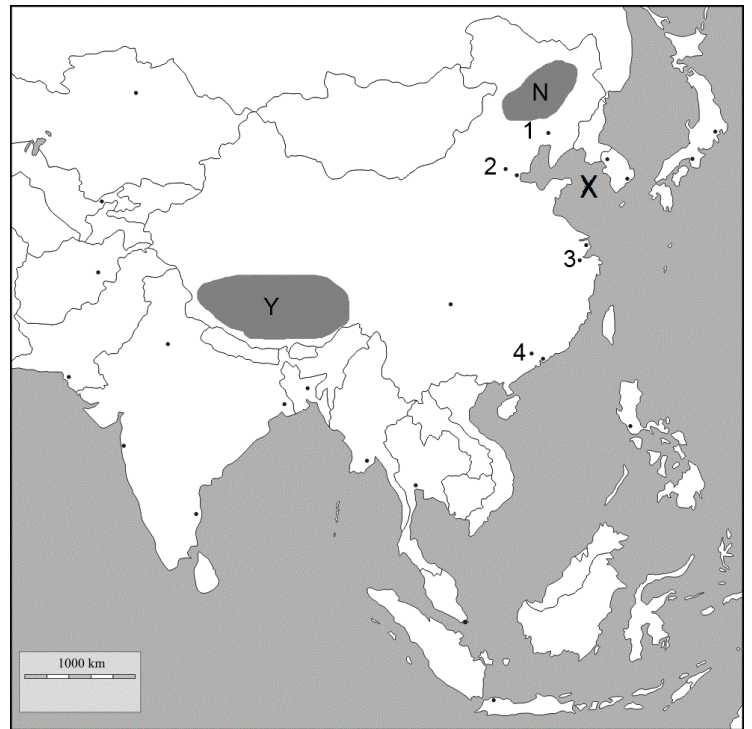
Potpuno ispravno riješeni zadaci, prema uputi za rješavanje vrednuju se s jednim, dva ili tri boda. U djelomično ispravno riješenim zadacima boduju se ispravno riješene čestice, ako nije bilo korekcije odgovora u tim česticama. Netočno riješeni zadaci i naknadno ispravljeni odgovori te odgovori koji su pisani tiskanim slovima ili kombinacijom tiskanih i pisanih slova, kao i odgovori u zagradama ne vrednuju se.

## U SLJEDEĆA ČETIRI ZADATKA DOPUNI REČENICE.

- 2  1. Kratica početnih slova na engleskom jeziku organizacije Ujedinjenih naroda za obrazovanje, znanost i kulturu je \_\_\_\_\_. Na njenom Popisu svjetske prirodne baštine nalazi se i naš Nacionalni park \_\_\_\_\_ (upiši ime).
- 2  2. Japanski naziv za razornu oluju na području zapadnog Pacifika je \_\_\_\_\_, a naziv za morski val koji nastaje kao posljedica potresa u podmorju je \_\_\_\_\_.
- 2  3. Paralela južna obratnica nalazi se \_\_\_\_\_° \_\_\_\_\_ od ekvatora. Ime pustinje u Africi kojom prolazi ta paralela, a nastala je uz obalu Atlantskog oceana je \_\_\_\_\_.
- 3  4. Negativnu prirodnu promjenu u prirodnom kretanju stanovništva nazivamo \_\_\_\_\_. Kod takve prirodne promjene stopa \_\_\_\_\_ je viša od stope \_\_\_\_\_.

## SLJEDEĆIH ŠEST ZADATKA RIJEŠI UZ POMOĆ PRILOŽENE GEOGRAFSKE KARTE AZIJE.

- 2  5. Bejing je glavni grad \_\_\_\_\_ (upiši ime države), a na priloženoj karti obilježen je točkom i brojem \_\_\_\_\_.
- 2  6. Podebljaj na karti kemijskom olovkom cijelom dužinom granicu Kine i Vijetnama. Ime poluotoka na kojem se nalazi Vijetnam je \_\_\_\_\_.
- 2  7. Samo uz obalu jednog od četiriju najvećih japanskih otoka teku i topla i hladna morska struja. Ime tog otoka je \_\_\_\_\_. Upiši slovo **A** unutar tog otoka na priloženoj geografskoj karti.
- 2  8. Ime površinom najvećeg otoka na jugoistoku Azije koji cijelom površinom pripada Indoneziji je \_\_\_\_\_. Upiši slovo **B** unutar tog otoka na priloženoj geografskoj karti.
- 2  9. Ime mora označenog na priloženoj karti slovom **X** je \_\_\_\_\_ more, a ime visoravni koja je na karti zatamnjena i označena slovom **Y** je \_\_\_\_\_.
- 2  10. Ime nizine koja je na priloženoj karti označena zatamnjeno i slovom **N** je \_\_\_\_\_ nizina. Naziv tipa klime koji prevladava u toj nizini je \_\_\_\_\_ klima.



**SLJEDEĆIH PET ZADATAKA RIJEŠI UZ POMOĆ PRILOŽENE KARTE AFRIKE.**

**U SLJEDEĆEM ZADATKU POVEŽI DESNI STUPAC S LIJEVIM I PRILOŽENOM GEOGRAFSKOM KARTOM UPISIVANJEM PRIPADAJUĆEG SLOVA NA CRTU ISPRED POJMA U LIJEVOM STUPCU I ISTOG SLOVA NA KARTU.**

3  11. Poveži državu Afrike s prirodnim bogatstvom koje je za nju karakteristično i s njenim položajem na geografskoj karti.

- |             |             |
|-------------|-------------|
| _____ šume  | A) Gana     |
| _____ nafta | B) DR Kongo |
| _____ zlato | C) Libija   |

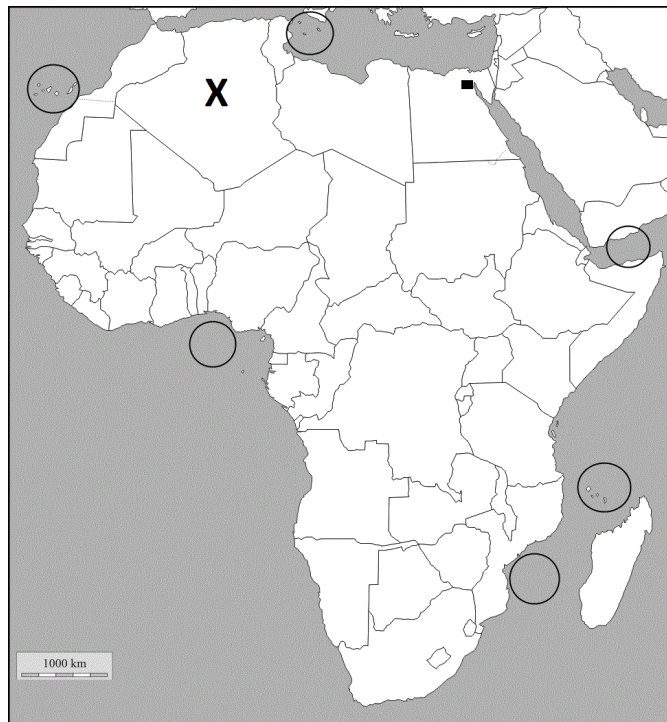
2  12. Ime države čiji je glavni grad na priloženoj geografskoj karti označen crnim kvadratićem je \_\_\_\_\_.

Ime tog grada je \_\_\_\_\_.

2  13. Upiši na karti broj 1 u kružić kojim je označen Adenski zaljev, a broj 2 u kružić kojim su označeni Kanarski otoci.

2  14. Na području Sjeverne Afrike brojna su plitka, slana jezera. Takva jezera nazivamo \_\_\_\_\_. Karakteristična su za državu označenu na priloženoj geografskoj karti znakom X. Ime te države je \_\_\_\_\_.

2  15. Ime države na čijem se teritoriju nalazi Nacionalni park Serengeti je \_\_\_\_\_. Upiši broj 3 na priloženoj geografskoj karti na teritorij te države.



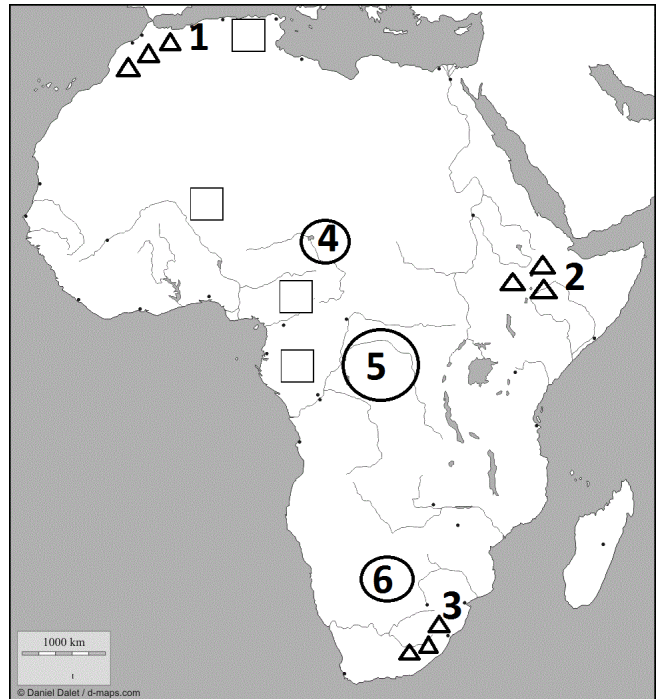
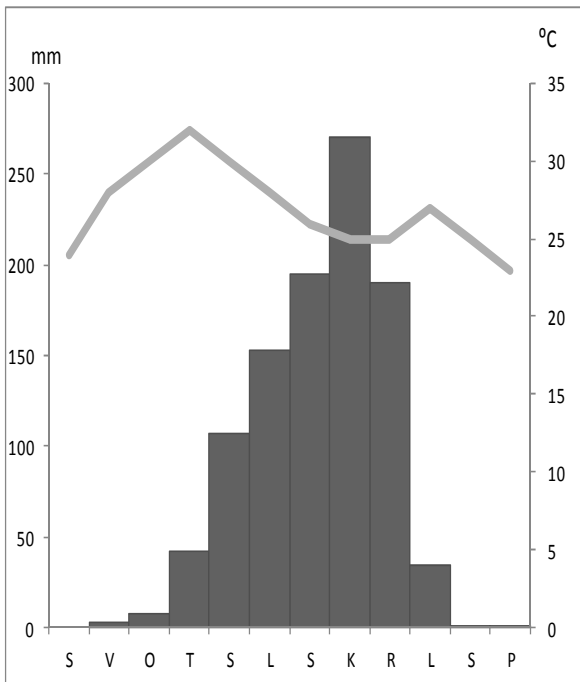
**U SVAKOM OD SLJEDEĆA TRI ZADATAKA U PAROVIMA POJMOVA KOJI SU PODEBLJANI I ODVOJENI KOSIM CRTAMA ZAOKRUŽI U CIJELOSTI ONE POJMOVE KOJI SU TOČNI.**

1  16. Svakodnevne obilne kiše na području uz ekvator nazivamo **zenitne / frontalne**. Udaljavanjem od ekvatora prema obratnicama količina padalina se **povećava / smanjuje**.

2  17. Danas je Afrika drugi kontinent po veličini i broju stanovnika. Stanovništvo je vrlo neravnomjerno naseljeno. U gusto naseljena područja ubrajamo uski obalni pojas uz **Crveno / Sredozemno** more, dok su rijetko naseljena sušna, pustinska područja. Najmnogoljudnija država je **Nigerija / Egipat**. Većina stanovnika Afrike danas živi u **gradovima / u selima**. Današnji najveći gradovi osnovani su u kolonijalnom razdoblju i uglavnom su smješteni u **unutrašnjosti / na obali**.

2  18. Japan je jedna od gospodarski najrazvijenijih država svijeta. Veliki je **uvoznik / izvoznik** sirovina i energenata, a **uvoznik / izvoznik** industrijskih proizvoda. Među vodećim je državama svijeta po **proizvodnji pšenice / ulovu ribe**. Stanovništvo Japana vrlo je neravnomjerno naseljeno. Velikom gustoćom naseljenosti ističe se **obalno područje / unutrašnjost**.

**SLJEDEĆIH OSAM ZADATAKA RIJEŠI UZ POMOĆ PRILOŽENOG DIJAGRAMA I KARTE.**



**U SLJEDEĆA DVA ZADATAKA JEDAN JE TOČAN ODGOVOR. ZAOKRUŽI SLOVO ISPRED TOČNOG ODGOVORA.**

- 1  19. Koji tip klime prikazuje priloženi klimatski dijagram?  
 a) prašumsku klimu      b) sredozemnu klimu      c) stepsku klimu      d) savansku klimu
- 1  20. Koja je karakteristična biljna zajednica za tip klime prikazan na klimatskom dijagramu?  
 a) zajednica niskih trava      b) zajednica visokih trava      c) vazdazelena šikara      d) tropska šuma

**U SLJEDEĆIH SEDAM ZADATAKA DOPUNI REČENICE I OBILJEŽI NA KARTI.**

- 2  21. Na priloženom dijagramu mjesec s najvećom količinom padalina je \_\_\_\_\_  
 (upiši ime mjeseca), a najviša srednja mjesečna temperatura zraka iznosi \_\_\_\_\_.
- 1  22. Znak X upiši u kvadratić na priloženoj geografskoj karti koji se nalazi na mjestu grada na koji se odnosi priloženi klimatski dijagram.
- 3  23. Podebljaj na priloženoj karti cijelom dužinom toka rijeku Modri Nil. Ime jezera iz kojeg izvire Modri Nil je \_\_\_\_\_, a ime visočja na kojem se nalazi to jezero je \_\_\_\_\_.
- 2  24. Ime površinom najvećeg umjetnog jezera u Africi je \_\_\_\_\_.  
 Zaokruži ga na priloženoj karti.
- 2  25. Ime zavale na jugu reljefno visoke Afrike je \_\_\_\_\_. Na priloženoj karti označena je krugom i brojem \_\_\_\_\_.
- 2  26. Ime mlade planine koja se nalazi na području reljefno niske Afrike je \_\_\_\_\_.  
 Na priloženoj karti označena je trokutićima i brojem \_\_\_\_\_.

**SLJEDEĆA DVA ZADATKA RIJEŠI UZ POMOĆ PRILOŽENE TABLICE.**

Tablica 1. Prirodno i prostorno kretanje stanovništva za odabrane države Azije za 2010. godinu.

<b>DRŽAVA</b>	<b>STOPA RODNOSTI (‰)</b>	<b>STOPA SMRTNOSTI (‰)</b>	<b>STOPA SELIDBENE PROMJENE (‰)</b>
Jordan	26	4	-11
Libanon	15	7	-12
Singapur	8	4	9
Tunis	17	6	-2

Prostor za računanje

2	
---	--

 27. Prema podacima u tablici 1. izračunaj i dopuni rečenice:

Ime države koja je na kraju 2010. godine imala najveći ukupni porast broja stanovnika na svakih 1000 stanovnika je \_\_\_\_\_ i on iznosi \_\_\_\_\_ ‰.

Ime države koja je na kraju 2010. godine imala najveći ukupni pad broja stanovnika na svakih 1000 stanovnika je \_\_\_\_\_ i on iznosi \_\_\_\_\_ ‰.

1	
---	--

 28. Prema podacima u tablici 1. izračunaj i dopuni rečenicu: Ime države koja je 2010.

godine imala najniži prirodni prirast je \_\_\_\_\_ i on iznosi \_\_\_\_\_ ‰.

**U SVAKOM OD SLJEDEĆA DVA ZADATKA ZAOKRUŽI SAMO JEDNO SLOVO I PREKRIŽI SAMO JEDNO SLOVO ZNAKOM X.**

2	
---	--

 29. Zaokruži slovo ispred vegetacije krajnjeg sjevera Azije, a prekriži znakom X slovo ispred prevladavajuće vegetacije na području Sibira.

- |           |            |           |
|-----------|------------|-----------|
| a) stepa  | b) tajga   | c) tundra |
| d) makija | e) prašuma | f) savana |

2	
---	--

 30. Među navedenim poljoprivrednim kulturama zaokruži slovo ispred one karakteristične za sredozemnu klimu, a prekriži znakom X slovo ispred one karakteristične za oaze.

- |            |             |          |
|------------|-------------|----------|
| a) masline | b) kakaovac | c) pamuk |
| d) pšenica | e) datulje  | f) juta  |

**U SVAKOM OD SLJEDEĆA DVA ZADATKA TRI SU POGREŠNE RIJEČI. PRONAĐI IH U TEKSTU, ISPIŠI IH U PRVI STUPAC TABLICE, A UZ NJIH U DRUGI STUPAC UPIŠI TOČNE RIJEČI.**

3  31. Indija je površinom najveća država Južne Azije, prostora koji zbog svojih osobitosti još nazivamo Indijski potkontinent. Ističe se velikim brojem stanovnika, ali i velikim brojem naroda i jezika koji se govore. Uz hindski službeni jezik je i francuski, što je posljedica kolonijalnog razdoblja. Ukupan broj stanovnika u stalnom je porastu zbog visoke stope rodnosti. Posljedica toga je velik udio starog stanovništva. Iako većina stanovnika živi na selu brojni su milijunski gradovi. Najveća luka Indije je Mumbai, a nalazi na istočnoj obali Indije.

POGREŠNO	TOČNO

3  32. Vodom najbogatija rijeka Afrike je Kongo. Po duljini toka na trećem je mjestu među afričkim rijekama i protječe istoimenom zavalom. Ona nema veliku važnost za putnički i teretni promet ovog dijela Afrike. Brojem stanovnika danas je najveći grad na njejoj obali Kinshasa koji je ujedno i glavni grad DR Kongo. Oblik ušća kakvo ima ova rijeka nazivamo delta.

POGREŠNO	TOČNO

**SLJEDEĆA TRI ZADATKA RIJEŠI UZ POMOĆ PRILOŽENOG DIJAGRAMA I KARTE.**

2  33. Ime najvećeg grada Republike Južne Afrike je \_\_\_\_\_. Na priloženoj karti obilježen je točkom i brojem \_\_\_\_\_.

1  34. Zaokruži na priloženoj karti broj kojim je obilježen grad koji se nalazi uz Rt Dobre Nade.

3  35. Ime nacionalnog parka čije je područje na priloženoj geografskoj karti iscrtano kosim crtama je \_\_\_\_\_. Oblik turizma u kojem posjetitelji organizirano putuju kroz prirodu nazivamo \_\_\_\_\_ turizam. Strukturni krug prikazuje udio zaposlenih po sektorima za Republiku Južnu Afriku (2010.). Upiši slovo **X** u onaj dio kruga koji prikazuje udio zaposlenih u sektoru kojem pripada turizam.

